



## Acerca de este libro

Esta es una copia digital de un libro que, durante generaciones, se ha conservado en las estanterías de una biblioteca, hasta que Google ha decidido escanearlo como parte de un proyecto que pretende que sea posible descubrir en línea libros de todo el mundo.

Ha sobrevivido tantos años como para que los derechos de autor hayan expirado y el libro pase a ser de dominio público. El que un libro sea de dominio público significa que nunca ha estado protegido por derechos de autor, o bien que el período legal de estos derechos ya ha expirado. Es posible que una misma obra sea de dominio público en unos países y, sin embargo, no lo sea en otros. Los libros de dominio público son nuestras puertas hacia el pasado, suponen un patrimonio histórico, cultural y de conocimientos que, a menudo, resulta difícil de descubrir.

Todas las anotaciones, marcas y otras señales en los márgenes que estén presentes en el volumen original aparecerán también en este archivo como testimonio del largo viaje que el libro ha recorrido desde el editor hasta la biblioteca y, finalmente, hasta usted.

## Normas de uso


Google se enorgullece de poder colaborar con distintas bibliotecas para digitalizar los materiales de dominio público a fin de hacerlos accesibles a todo el mundo. Los libros de dominio público son patrimonio de todos, nosotros somos sus humildes guardianes. No obstante, se trata de un trabajo caro. Por este motivo, y para poder ofrecer este recurso, hemos tomado medidas para evitar que se produzca un abuso por parte de terceros con fines comerciales, y hemos incluido restricciones técnicas sobre las solicitudes automatizadas.

Asimismo, le pedimos que:

- + *Haga un uso exclusivamente no comercial de estos archivos* Hemos diseñado la Búsqueda de libros de Google para el uso de particulares; como tal, le pedimos que utilice estos archivos con fines personales, y no comerciales.
- + *No envíe solicitudes automatizadas* Por favor, no envíe solicitudes automatizadas de ningún tipo al sistema de Google. Si está llevando a cabo una investigación sobre traducción automática, reconocimiento óptico de caracteres u otros campos para los que resulte útil disfrutar de acceso a una gran cantidad de texto, por favor, envíenos un mensaje. Fomentamos el uso de materiales de dominio público con estos propósitos y seguro que podremos ayudarle.
- + *Conserve la atribución* La filigrana de Google que verá en todos los archivos es fundamental para informar a los usuarios sobre este proyecto y ayudarles a encontrar materiales adicionales en la Búsqueda de libros de Google. Por favor, no la elimine.
- + *Manténgase siempre dentro de la legalidad* Sea cual sea el uso que haga de estos materiales, recuerde que es responsable de asegurarse de que todo lo que hace es legal. No dé por sentado que, por el hecho de que una obra se considere de dominio público para los usuarios de los Estados Unidos, lo será también para los usuarios de otros países. La legislación sobre derechos de autor varía de un país a otro, y no podemos facilitar información sobre si está permitido un uso específico de algún libro. Por favor, no suponga que la aparición de un libro en nuestro programa significa que se puede utilizar de igual manera en todo el mundo. La responsabilidad ante la infracción de los derechos de autor puede ser muy grave.

## Acerca de la Búsqueda de libros de Google

El objetivo de Google consiste en organizar información procedente de todo el mundo y hacerla accesible y útil de forma universal. El programa de Búsqueda de libros de Google ayuda a los lectores a descubrir los libros de todo el mundo a la vez que ayuda a autores y editores a llegar a nuevas audiencias. Podrá realizar búsquedas en el texto completo de este libro en la web, en la página <http://books.google.com>

















**ELEMENTOS  
DE EUCLIDES.**







LOS SEIS PRIMEROS LIBROS,  
Y EL UNDECIMO, Y DUODECIMO  
DE LOS ELEMENTOS  
DE EUCLIDES

TRADUCIDOS DE NUEVO SOBRE LA VERSION LATINA DE FEDERICO  
COMANDINO CONFORME A LA FIEL, Y CORRECTISIMA  
EDICION DE ELLA PUBLICADA MODERNAMENTE



P O R

ROBERTO SIMSON PROFESOR DE MATEMATICA  
EN LA UNIVERSIDAD DE GLASGOW:

E ILUSTRADOS

CON NOTAS CRITICAS Y GEOMETRICAS  
DEL MISMO AUTOR.

---

*Opus hoc illustre inter ea cminet, quæ ex Antiquitate ad nos pervenerunt, ita ut Providentiæ divinæ tribuendum sit, quod injuriâ temporum non exciderit. Wolfius in Commentatione de præcipuis Scriptoribus Mathematicis.*

Los ELEMENTOS DE EUCLIDES son una Obra tan excelente entre quantas nos han quedado de la Antigüedad, que su conservacion se debe atribuir á un especial beneficio de la Providencia.

---

MADRID. M.DCC.LXXIV.

---

Por D. JOACHIN IBARRA Impresor de Cámara de S. M.

---

*Con las licencias necesarias.*





(1)

## ADVERTENCIAS

### *SOBRE ESTA TRADUCCION.*

**D**ESDE que se dignó el Rey confiar la Inspeccion General de su Infantería al Excelentísimo Señor Conde de O-Reilly, es notorio el constante esmero, con que ha fomentado el estudio de la juventud, y las muchas ventajas que de esto han resultado; y para el logro de sus grandes ideas á beneficio del servicio, fue uno de sus principales cuidados la acertada eleccion de libros elementales; y reconociendo desde luego, que uno de los mas necesarios, y oportunos era una exâcta, y completa Geometría, y que ninguna obra de este género sería tan util para el intento, como una buena Traduccion Española de los mismos Elementos de Euclides hecha de nuevo sobre la mejor version latina de este Autor, que es la de Federico Comandino, conforme á la correctísima edicion de ella modernamente publicada en Inglaterra, revista, corregida, y anotada por Ro-

I.  
Fin. de es-  
ta Obra.

berto Simson célebre Profesor de Matemáticas en la Universidad de Glasgow , dispuso , que se trabajase esta Obra con el mayor cuidado , y diligencia.

II.  
Su utilidad.

Euclides es para los Matemáticos lo que Hipócrates para los Médicos ; Príncipe de la Facultad, Maestro , modelo , y original de quantos le han sucedido. Sus Obras , en especial la de los Elementos , siempre han sido apreciadas , estudiadas, y traducidas en todas lenguas , países , Naciones, y siglos ; aun en el presente , en que parece , que la nueva Geometría de Descartes , la invencion de la Algebra , y su aplicacion á la Geometría , con otros descubrimientos importantes , que han ido succesivamente enriqueciendo , y perfeccionando estas Ciencias , haciendo casi mudar de semblante á la misma Geometría antigua , habian de disminuir el crédito , y concepto de universal utilidad , que lograba esta Obra , conserva aún entera su reputacion de la mas exácta , y acabada en su linea ; y por consiguiente de la mas propia para la enseñan-

za:



za : siendo forzoso confesar , que en qualquiera Ciencia el estudio de los Autores originales , y primitivos es el mas á propósito para cimentarse bien en ella ; y tal vez bien considerado , si no la única senda , á lo menos la mas breve , segura , y recta para llegar á la perfeccion. Esto , que la experiencia acredita generalmente , tiene aun mas lugar en la Geometría. El orden , y riguroso método sintético de demostrar , que sigue Euclides , aunque á primera vista prolixo , y espinoso , es muy acomodado á la índole , y modo de proceder del entendimiento humano , y tiene las imponderables ventajas de rectificar el espíritu de los jóvenes , acostumarlos á discurrir con solidéz , y escrupulosa exâctitud , y fixar su atencion con la seria , y continua meditacion , que necesariamente pide la cadena de ideas , y Propositiones , en que se funda ; de modo , que no solo los hace Geómetras , sino que insensiblemente los vá habituando á ser excelentes Lógicos ; requisito muy necesario , así para hacer progresos en las Ciencias , singular-

mente en las exáctas, como para manejarse acertadamente en todos los negocios, y ocurrencias de la vida. Sus utilidades se hallarán bien probadas en las Notas con exemplos de los escollos, en que han dado muchos, aun de los mas ilustres modernos, por quererse desviar de él, bajo pretexto de seguir otro rumbo mas natural, facil, y corto; y tambien allí se encontrarán plenamente satisfechos los reparos, y objeciones, que contra él se alegan. Solo añadiremos aquí en su recomendacion lo que pensaba el gran Newton (1), quien sin embargo de que con su sublime genio era capaz de haber creado por sí solo la Geometría, se do-

(1) *Doluit ideo ipse vir summus Isaacus Newtonus, quod cum se studio Mathematico totum daret, ad Cartesii Geometriam, aliosque scriptores algebraicos statim progressus fuisset, antequam Elementa Euclidis eâ attentione expendisset, quam merentur; nec probavit, quod bodie Geometræ methodum syntheticam Veterum prorsus negligant, & in solis calculis algebraicis acquiescant; quemadmodum ex ore ipsius hausta refert Henricus Pemberton in Præfatione ad conspectum Philosophiæ Newtoni, quem patrio sermone edidit. Wolfius. Elementa Mathæseos universæ, tom.5. pag.194. in Commentatione de studio Mathematico rectè instituendo, cap.2. §.101.*



dolía mucho de no haberse radicado bien en su primera edad en los Elementos de Euclides , antes de pasar á las partes sublimes de la Matemática ; y reprobaba , que los Geómetras modernos abandonasen el estudio , y uso del método sintético de los antiguos , contentándose con solo el cálculo algebraico. Despues de un testimonio tan honorífico, y de tanto peso , parece ocioso recordar el exemplo de Wolfio , que por consejo del insigne (1) Leibnitz se ciñó religiosamente al método de Euclides; ni el estrecho encargo , que hace el mismo Wolfio (2) á todos los Matemáticos de imponerse funda-

da-

(1) *Præter nos alii etiam Mathematici agnoverunt reformatores Elementorum Euclidis non fuisse in ausu suo satis felices , sed Euclidis Elementis palmam ad huc meritò tribuendam esse. Memini hanc fuisse Leibnitio sententiam , cum me inviseret , dum Elementis Geometriæ concinnandis operam darem , ipsique referrem , me multiplici modo tentasse , ut eo ordine Elementa Geometriæ digererem , quo usus est Bernardus Lamy , sed numquam hoc fieri potuisse , nisi quædam assumerem absque demonstratione quæ essent demonstranda , vel in demonstrando , ac definiendo admitterem confuse tantummodo percepta. Wolfius in Commentatione de præcipuis scriptis Mathematicis , cap.3. §.8.*

(2) *Firmum item ratumque manet , qui intellectus perficiendi gratia*  
*ad*

damentalmente con la mayor diligencia en esta Obra: y repetir, que los Ingleses, entre quienes la Matemática logra un cultivo tan superior, y universal, acaban de publicar el año de 1758 \* para uso de una de las mas florecientes Universidades de aquel sabio Reyno, y á expensas del famosó Conde de Stanhope, la edicion, que nos ha servido de texto, y estimulado vivamente á publicar esta; en la firme persuasion de que no puede dexar de ser muy provechosa la de todos los Escritores clásicos antiguos.

A la verdad no faltaban traducciones Castellanas de Euclides; la de Rodrigo Zamorano publicada en Sevilla el año de 1579 es una de las mas anti-

*ad Mathæsim accedit, ei demonstrationes Euclideas omni curâ, ac sollicitudine expendendas esse. Idem Wolfius, ibid. §. 102.*

\* Ya antes el año de 1715 había publicado Juan Keil en Oxford una edicion de los Elementos de Euclides de la misma version de Comandino, con el fin de atraher á los Geómetras al estudio de dicha Obra; y en el Prólogo reprehende amargamente á los que censuran á Euclides, y disuaden á los jóvenes de su estudio. *Wolfio* en la *Disertacion* ya citada sobre los principales *Escritos de Matemática*.

tiguas : però además de contener solo los seis Libros primeros , es de un estilo antiquado , y obscuro. Otras varias Obras posteriores de la misma clase ó adolecen de semejantes defectos , y por lo comun se hicieron todas sobre textos incorrectos , y alterados ; ó mas bien son compendios , y rudimentos de Geometría arreglados al método del Geómetra Griego , que exácta , y puntual version suya ; de modo que en el dia son de cortísimo , ó ningun provecho : además que las Notas , el cotejo hecho por el editor Inglés del texto con todos los Códices , versiones , ediciones , y comentarios con el fin de enmendarlo , y restituirlo á su primera integridad , y pureza , constituyen su Obra tan distinta de las demas , como superior á ellas en perfeccion , y exâctitud. ; Así pudiéramos lisongearnos del desempeño de nuestro trabajo , como estamos seguros del acierto de la eleccion !

Mas con todo esto no pretendemos negar , que en los Elementos haya muchas Proposiciones dificultosas , y de poquísimo uso en el dia ; pero el  
pri-



primer inconveniente lo vencerá la aplicación, y la viva voz del Maestro; y el segundo es transcendental aun á las Obras modernas de cálculo, en las cuales se halla mucho mayor número de Proposiciones aun menos útiles, y mas enredosas.

El artificio del Libro V es tan maravilloso, y la doctrina de las razones contenida en él tan importante, que se puede considerar como el alma de la Geometría: por eso, aunque bastantemente intrincado, y reputado por algunos inutil, hoy que por el cálculo se pueden demostrar sus Proposiciones con mucha mayor facilidad, de ningun modo pareció conveniente suprimirlo: además, que no sería justo mutilar la Obra. Véase el ventajoso juicio, que de este Libro hace Barrow en las

### III. Notas.

Reglas  
que se han  
tenido  
presentes  
para la  
traduc-  
cion.

Las circunstancias esenciales, que deben concurrir en la traducción de esta especie de Obras, son suma exactitud, fiel correspondencia con el original, claridad, y concision. La primera ley nunca admite disculpa, y nos hemos ceñido á observar-

la religiosamente : no hemos sido menos escrupulosos en la segunda ; pero á veces fue indispensable apartarse algo del contexto literal , especialmente en las enunciaciones de las Proposiciones de los Libros II , y V , ya abreviando , ya alargando , tal vez suprimiendo , ó substituyendo algunas voces , ó cláusulas , bien para facilitar la inteligencia , bien para evitar repeticiones molestas , que en latin no suenan mal , y sí en nuestra lengua ; ó porque los vocablos , y frases del Texto no se acomodaban al modo constante de hablar de los Geómetras Españoles : sin embargo estas licencias han sido muy raras , y por lo comun quando las tomamos se advierte en una Nota ; y si se ha creido especial fin , ó energía en la voz , ó frase del original , se conserva , añadiendo su explicacion , ó equivalencia de letra bastardilla. Quando se trata de mayor claridad , no nos hemos detenido en repetir ; sacrificando entonces á lo util lo agradable , que en esta clase de escritos no es sino accesorio.

Con-

Concluirémos con algunas definiciones , que parecen necesarias para la mejor inteligencia , y uso de esta Obra , y que no se hallan en el Texto; por ser las mas de ellas de voces , que allí no se usan , y nosotros empleamos por no apartarnos del uso corriente , ni explicar con rodeos lo que se puede con un solo vocablo.

Adviértase , que estas letras L. Q. D. H. puestas al fin de los Problemas significan : *Lo que debía hacerse.* Y estas L. Q. D. D. al fin de los Teoremas significan : *Lo que debía demostrarse.* Y estas otras N. T. *Nota del Traductor.*

## LIBRO I.

**E**NTRE sus Definiciones se han de suplir las siguientes colocadas por el orden, en que se pondrán.

Despues de la DEF. IV.

### I.

La linea recta tirada de un punto á otro se dice,  
que



( 11 )

que junta los dos puntos : y juntar dos puntos dados es tirar una recta del uno al otro.

Despues de la DEF. IX. antes de la Nota.

II.

Lados del ángulo son las lineas , que lo contienen.

III.

Vértice del ángulo es el punto de concurso de sus lados.

Despues de la Nota siguiente á la DEF. IX.

IV.

Angulos contiguos son los formados á una , y otra parte de una recta , que es su lado comun , y tienen los vértices en un mismo punto.

V.

Una recta se llama insistente, ó se dice , que insiste

te sobre otra , quando se termina en ella , hallándose ácia su parte superior.

Despues de la DEF. X.

### VI.

Se dice *elevant* una perpendicular á una recta, quando se tira de un punto dado de ella ; y *baxarla* , quando se tira de un punto dado fuera de ella.

Despues de la DEF. XVI.

### VII.

Radio del círculo es la recta tirada del centro á qualquier punto de la circunferencia.

Despues de la DEF. XVII.

### VIII.

Arco del círculo es una parte , ó porcion qualquiera

quiera de la circunferencia del círculo.

IX.

Cuerda , ó subtensa de un arco es la recta tirada de uno de los extremos del arco al otro extremo.

Despues de la DEF. XXIII.

X.

Las figuras multiláteras en general se llaman polígonos. El polígono de cinco lados se llama pentágono. El de seis hexágono. Y el de quince pentadecágono , ó quindecágono.

Despues de la DEF. XXIX.

XI.

Base del triángulo es qualquiera de los lados , en que se concibe estribar : pero en el isósceles se entiende comunmente por base el lado desigual á los demás : y en el rectángulo el lado opuesto al ángulo recto.

b

Quan-



(14)

XII.

Quando á un lado se le llama base , se comprenden los otros baxo el nombre general de lados.

XIII.

Angulo vertical , ó vértice de un triángulo es el ángulo opuesto á la base.

Despues de la DEF. XXXIV.

XIV.

Diagonal de un quadrilátero (que en latin se llama *diameter* , como el del círculo ) es la recta tirada del vértice de qualquier ángulo del quadrilátero á su opuesto.

Despues de la DEF. última.

XV.

Paralelogramo es el quadrilátero , que tiene cada dos lados opuestos paralelos entre sí.

Des-

(15)

Despues de la PROP. XXV.

XVI.

Lado adyacente á dos ángulos es el lado comun á ellos : y ángulos adyacentes á una recta son los que la tienen por lado comun.

## LIBRO II.

Despues de las DEFINICIONES.

XVII.

**A** Las partes de toda magnitud geométrica llamamos segmentos.

## LIBRO III.

Despues de la DEF. X.

XVIII.

**Q**UADRANTE del círculo es el sector de círculo, que es mitad del semicírculo.

(16)

LIBRO XI.

Despues de la DEF. XVII.

XIX.

**H**EMISFERIO es la mitad de la esfera.

PRO-



# PROLOGO

DE ROBERTO SIMSON.

**M**UCHOS, y distantísimos son los pareceres de los modernos acerca del verdadero Autor de los Elementos de Geometría, que corren baxo el nombre de Euclides. Pedro Ramos atribuye tanto las Proposiciones de ellos, como sus Demostraciones á Theon; algunos á este solo le dán las Demostraciones, dexando las Proposiciones á Euclides; y finalmente otros, entre quienes merecen el primer lugar los doctísimos Juan Butéo, y Enrique Savilio, defienden acérrimamente ser Euclides Autor de ambas cosas, siendo esta opinion seguida por la mayor parte de los posteriores Geómetras. Despues de alegar Savilio varios argumentos á favor de este su dictamen, de ellos infiere no haber hecho Theon otra cosa que interpolar, explicar, y adicionar á Euclides, y aun eso en poquísimos pasages: pero yo por medio de un continuo exâmen, y coteja de las demostraciones, que al presente se hallan en Euclides, he reconocido, que Theon, ó quien quiera que fue el editor del Texto Griego que hoy tenemos, mudó, empeorándolas muchas mas cosas de las que creen los citados sabios con otros; ya añadiendo, ya quitando, ó mezclando cosas propias suyas, especialmente en los Libros V, y X, que alteró notablemente el editor: como quando substituye en vez de la legítima demostracion de la Proposicion XVIII del Libro V una mas breve, pero paralogística; y quando qui-

quita del mismo Libro entre otras cosas la excelente Definicion de la razon compuesta, que dió Euclides, ó Eudoxô, para poner en su lugar una absurda, qual es la V del Libro VI, de que ni Euclides, ni Arquímedes, ni Apolonio, ni ningun otro Geómetra anterior á Theon se valieron jamás. Esta Definicion, que suele por sí sola dar mucho que hacer á los principiantes, la hemos omitido en los siguientes Elementos, supliéndola con otra, conforme sin duda á la que había dado Euclides, y la colocamos entre las Definiciones del Libro V para facilitar la inteligencia de la razon compuesta. Además de este error ocurre entre las Definiciones del Libro XI otro, en la que dice así: "iguales, y semejantes figuras sólidas son las contenidas por planos semejantes iguales en número, y magnitud;" pues esta Proposicion no es Definicion, sino Teorema, porque la igualdad de qualquiera figura se ha de demostrar, y no suponer; así dicha Proposicion debía demostrarse, aun quando fuese cierta; pero tampoco lo es, sino en el caso en que los ángulos sólidos de las figuras están contenidos por solos tres ángulos planos; pues en otros pueden dos figuras sólidas contenidas por planos semejantes iguales en número, y magnitud ser entre sí desiguales, como se demostrará claramente en las Notas añadidas al fin de esta Obra. Es igualmente falsa la suposicion, que se hace en la demostracion de la Proposicion XXVI del Libro XI, de que son entre sí iguales dos ángulos sólidos, quando están contenidos por dos ángulos iguales en número, y magnitud; no verificán-

cándose esto siempre así, sino únicamente quando los ángulos sólidos están contenidos tan solo por tres ángulos planos : ni hasta entonces se ha trahido en los Elementos demostracion alguna de dicho caso, aunque muy necesaria. = De la Definicion X penden las Proposiciones XXV, y XXVIII del Libro XI; y de la Proposicion XXV, ó de la XXVI penden otras ocho; es á saber las Proposiciones XXVII, XXXI, XXXII, XXXIII, XXXIV, XXXVI, XXXVII, y XL del mismo Libro; y la XII del XII pende de la VIII del mismo; y la misma VIII, el Corolario de la XVII, y la Proposicion XVIII del Libro XII penden de la Definicion IX del Libro XI, que no es buena, porque puede haber figuras sólidas contenidas por planos semejantes, é iguales en número, que sean desemejantes entre sí; por consecuencia todas las mencionadas Proposiciones estriban hasta entonces en un fundamento falso: otras muchas cosas hay que parece imposible sean de Euclides, y manifiestan suficientemente, que los Elementos de este Autor han sido viciados por algunos ignorantes de la Geometría; pues aunque estos yerros no sean tan crasos como los anteriormente especificados, con todo necesitan indispensablemente de correccion; y todos se advertirán puntualmente al fin de la Obra.

Por estas razones me ha parecido, que sería importantísimo, y al mismo tiempo muy grato á los eruditos, en particular á los aficionados á las demostraciones exáctas de Geometría, quitar á estos Libros, los principales de los Elementos de Euclides, unos lunares, que  
tan-

tanto los afeaban , restituyéndolos á su antigua correccion , en quanto alcanzasen mis talentos ; sobre todo por ser el fundamento de una Ciencia tan util para muchas cosas , como necesaria para algunas facultades , y para casi todas las artes , así de la Paz , como de la Guerra ; y con cuyo auxilio se promueve la investigacion de la verdad , hasta donde lo permite la debilidad del espíritu humano. A esto hemos tirado , quitando las cosas falsas , y nada exâctas , que dieron por legítimos , y verdaderos escritos del mas diligente de los Geómetras sus ignorantes Editores , y restituyendo á Euclides lo que le robaron , ó cercenaron Theon , y otros ; y ha permanecido muchos siglos sepultado en el olvido.

**ELE-**

# ELEMENTOS DE EUCLIDES.

---

## LIBRO PRIMERO.

---

### DEFINICIONES.

**PUNTO**, ó signo es lo que no tiene partes, ó lo que no tiene magnitud.

I.

**Línea** es una longitud sin latitud.

II.

Los extremos de la línea son puntos.

III.

IV.

**Línea recta** es la que se extiende igualmente entre sus puntos.

V.

**Superficie** es lo que solamente tiene longitud, y latitud.

VI.

Los extremos de la superficie son líneas.

VII.

**Superficie plana** es aquella, en la qual tomados dos puntos cualesquiera, la recta terminada por ellos se halla toda en la misma superficie.

VIII.

**Ángulo plano** es la inclinacion de dos líneas una á otra, que se encuentran mutuamente en un plano, y no están directamente.

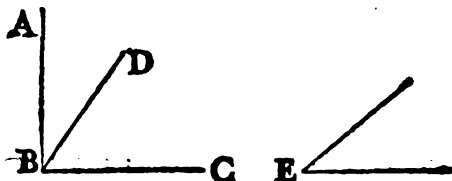
A

An-

2 ELEMENTOS DE EUCLIDES.

IX.


Angulo plano rectilineo es la inclinacion de dos rectas una á otra, que se encuentran, y no están directamente.



«NOTA. Quando muchos ángulos están en un punto B, se expresa cada uno de ellos con tres letras del alfabeto, colocando la que está en el vértice del ángulo, esto es en el punto, en que mutuamente se encuentran las rectas que comprehenden el ángulo, en medio de las demas, y estas son una de cada extremo de las rectas. Así el ángulo comprehendido por las rectas AB, CB, se señala con las letras ABC, ó CBA; y el contenido por las rectas DB, CB se expresa por DBC, ó CBD. Pero si solo se halla un ángulo en el punto, podrá expresarse con sola la letra puesta en aquel punto, como el ángulo en E.»

X.

Quando una linea recta insistiendo sobre otra forma los ángulos contiguos iguales entre sí, son rectos ambos, y la recta, que insiste, se llama perpendicular á la otra.



XI.

Angulo obtuso es el mayor que un recto.



XII.

Angulo agudo es el menor que un recto.

XIII.

«Término es el extremo de algo.»

Fi-

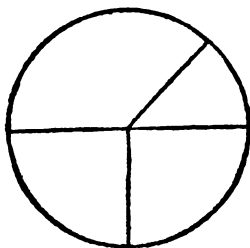


**XIV.**

**Figura es la que está contenida por alguno , ó algunos términos.**

**XV.**

**Círculo es una figura plana contenida por una sola linea llamada circunferencia , á la qual todas las rectas tiradas de un punto, que está dentro de la figura , son iguales entre sí.**

**XVI.**

**Este punto se llama centro del círculo.**

**XVII.**

**Diámetro del círculo es una recta tirada por el centro , y de ambas partes terminada en la circunferencia.**

**XVIII.**

**Semicírculo es la figura contenida por el diámetro , y el arco del círculo cortado por este.**

**XIX.**

**“Segmento del círculo es la figura contenida por una recta , y por un arco de círculo.”**

**XX.**

**Figuras rectilíneas son las contenidas por líneas rectas.**

**XXI.**

**Triláteras las contenidas por tres rectas.**

**XXII.**

**Quadriláteras las contenidas por cuatro.**

**XXIII.**

**Multiláteras son las contenidas por mas de quatro rectas.**

**XXIV.**

**De las figuras triláteras , triángulo equilátero es el que tiene todos sus lados iguales.**

#### 4 ELEMENTOS DE EUCLIDES.

XXV.

Isósceles el que tiene solamente dos lados iguales.



XXVI.

Escaleno el que tiene los tres lados desiguales.

XXVII.

Demás de esto entre las figuras triláteras, triángulo rectángulo es el que tiene un ángulo recto.

XXVIII.

Obtusángulo el que tiene un ángulo obtuso.

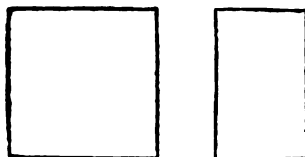


XXIX.

Acutángulo el que tiene los tres ángulos agudos.

XXX.

De las figuras cuadriláteras, cuadrado es la equilátera, y rectángula. (*Esto es, la que tiene todos los lados iguales, y todos los ángulos rectos.*)



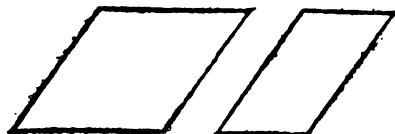
XXXI.

Quadrilongo es la que tiene los cuatro ángulos rectos, pero no todos los lados iguales.

Rom-

## XXXII.

Rombo es la que tiene todos los lados iguales , pero no los ángulos rectos.



## XXXIII.


Romboyde es la que tiene los lados opuestos iguales ; pero sin ser equilátera , ni rectángula.

## XXXIV.

Qualquiera otra figura quadrilátera fuera de estas se llama trapecio.

## XXXV.

Paralelas, ó equidistantes son las rectas que estando en un mismo plano , prolongadas por ambas partes al infinito , jamás se encontrarán.



## POSTULADOS.

**T**IRAR una recta de qualquier punto á qualquier otro punto.

## II.

Prolongar al infinito , y directamente una recta terminada.

## III.

Con qualquier centro , é intervalo describir un círculo.

## AXIOMAS.

**L**AS cantidades iguales á una misma son iguales entre sí.

## II.

Si á cantidades iguales se añaden cantidades iguales , los todos serán iguales.

## 6 ELEMENTOS DE EUCLIDES.

### III.

Si de cantidades iguales se quitan cantidades iguales, los residuos serán iguales.

### IV.

Si á cantidades desiguales se añaden cantidades iguales, los todos serán desiguales.

### V.

Si de cantidades desiguales se quitan cantidades iguales, los residuos serán desiguales.

### VI.

Las cantidades que son duplas de una misma, son iguales entre sí.

### VII.

Las que son mitades de una misma, son iguales entre sí.

### VIII.

Las cantidades que mutuamente se ajustan, son iguales entre sí.

### IX.

El todo es mayor que su parte.

### X.

Dos líneas rectas no encierran espacio.

### XI.

Todos los ángulos rectos son iguales entre sí.

### XII.

“Si una recta cayendo sobre otras dos forma los ángulos interiores á la misma parte menores que dos rectos; prolongadas concurrirán ácia aquella parte, donde hacen los ángulos menores que dos rectos. Véanse las notas á la Proposicion 29 del Libro I.”

PRO-

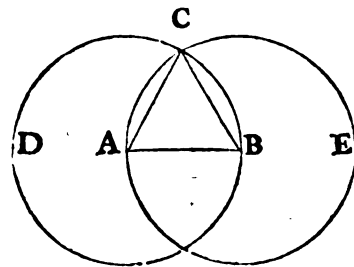
PROPOSICION I. PROBLEMA.

**S**OBRE una recta \* dada terminada construir un triángulo equilátero.

Sea la recta dada terminada  $AB$ ; y háyase de construir sobre ella un triángulo equilátero.

Con centro  $A$ , é intervalo  $AB$  describese un círculo  $^a BCD$ ; asimismo con centro  $B$ , é intervalo  $BA$  describese el círculo  $ACE$ ; y desde el punto  $C$ , donde se cortan mutuamente las circunferencias de los círculos, tírense las rectas  $^b CA, CB$  á los puntos  $A, B$ ; y resultará el triángulo equilátero  $ABC$ .

Porque siendo el punto  $A$  centro del círculo  $BCD$ , será igual  $^c$  la recta  $AC$  á la  $AB$ : asimismo siendo el punto  $B$  centro del círculo  $CAE$ , será la recta  $BC$  igual á la recta  $BA$ : y yá está demostrado, que la recta  $CA$  es igual á la  $AB$ ; luego ambas rectas  $CA$ , y  $CB$  son iguales á  $AB$ : es así que las cantidades iguales á una misma son iguales entre sí  $^d$ : luego la recta  $CA$  es igual á la  $CB$ . Luego las tres rectas  $CA, AB, BC$  son iguales entre sí. Por consiguiente será  $ABC$  un triángulo equilátero, y estará construido sobre la recta dada terminada  $AB$ . Lo que debia hacerse.



$^a$  Postulado 3.

$^b$  Post. 1.

$^c$  Definicion 15.

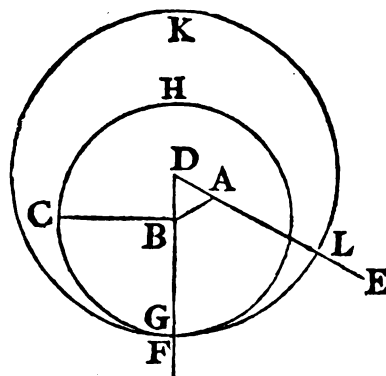
$^d$  Axioma 1.

**PROP. II. PROBL.**

**D**E un punto dado tirar una recta igual á otra dada.

Sea el punto dado  $A$ , y la recta dada  $BC$ ; y háyase de tirar desde dicho punto una recta igual á la  $BC$ .

Tírense desde el punto  $A$  al punto  $B$  la recta  $AB$   $^a$ , y constrúyase sobre ella un triángulo equilátero  $DAB$   $^b$ : prolónguense  $DA$ , y  $DB$   $^c$ ; y con centro  $B$ , é intervalo  $BC$  describese el círculo



$^a$  Post. 1.

$^b$  1. I.

$^c$  Post. 2.

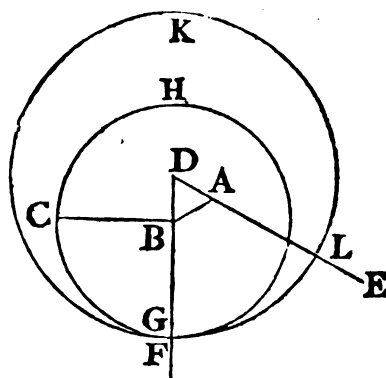
$A_4$  CGH,

\* N.T. Usamos promiscuamente de las voces *línea*, y *recta* para expresar la línea recta.

## 8 ELEMENTOS DE EUCLIDES.

d Post. 3. CGH <sup>d</sup>. Descríbase tambien con centro D, é intervalo DG el círculo GKL, y será AL la recta que se pide.

Porque siendo el punto B centro del círculo CGH, será la recta BC igual á la BG <sup>e</sup>. Y siendo del mismo modo D centro del círculo GKL, será la recta DL igual á la DG, de las cuales la parte DA es igual á la parte DB; luego la restante AL será igual á la restante



f Axi. 3. BG <sup>f</sup>: pero ya queda demostrado, que la BC es igual á la BG: luego una y otra AL, y BC son iguales á la recta BG: es así que las cantidades iguales á una misma son iguales entre sí: luego tambien la recta AL es igual á la BC. Por consiguiente se ha tirado del punto dado A la recta AL igual á la recta dada BC: L. Q. D. H.

### PROP. III. PROBL.

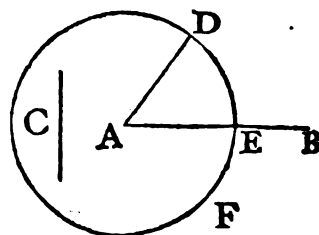
**D**ADAS dos rectas desiguales; cortar de la mayor una parte igual á la menor.

Sean las dos rectas desiguales: AB la mayor, y C la menor; y háyase de cortar de la AB una parte igual á C.

a 2. I. Tírese del punto A la recta AD <sup>a</sup> igual á la recta C; y con centro A, é intervalo AD describese un círculo

b Post. 3. DEF <sup>b</sup>, y será AE la parte que se pedia.

Porque siendo A centro del círculo DEF, será igual la recta AE á la AD: tambien la recta C es igual á la AD: luego las dos AE, y C son iguales á la



AD; por lo qual la recta AE es igual á la C. Dadas pues las dos rectas desiguales AB, y C, se ha cortado de la mayor AB una parte igual á la menor C. L. Q. D. H.

PROP.

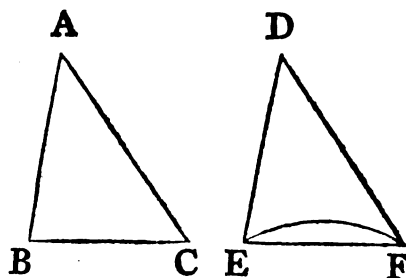


## PROP. IV. T E O R E M A.

**S**I dos triángulos tienen dos lados del uno respectivamente iguales á dos lados del otro , é iguales los ángulos contenidos por estos lados , tendrán las bases iguales : el un triángulo será igual al otro ; y los demás ángulos opuestos á lados iguales serán tambien iguales.

Sean dos triángulos ABC , DEF , que tengan los dos lados AB, AC respectivamente iguales á los dos DE , DF ; es á saber el lado AB igual al DE , y el AC al DF ; y el ángulo BAC igual al EDF. Digo, que tambien la base BC será igual á la base EF, el triángulo ABC igual al triángulo DEF , é iguales los demás ángulos opuestos á lados iguales; esto es , que el ángulo ABC será igual al DEF ; y el ACB al DFE.

Porque sobrepuesto el triángulo ABC al DEF , y colocado el punto A sobre el D , y la recta AB sobre la DE , caerá tambien el punto B sobre el E , por ser la linea AB igual á la DE ; y por consiguiente caerá del mismo modo la recta AC sobre la DF , pues el ángulo BAC es igual al EDF ; por cuya razon el punto C caerá sobre el F , siendo la recta AC igual á la DF : ademas de esto el punto B coincide con el E : consiguientemente la base BC cae sobre la base EF ; porque si cayendo el punto B sobre el E , y el C sobre el F , no cayera la base BC sobre la EF , dos rectas encerrarían espacio, lo qual es imposible <sup>a</sup> : por consecuencia todo el triángulo ABC <sup>a Axi. 10.</sup> se ajustará al triángulo DEF , y será igual á él ; y los ángulos restantes se ajustarán á los restantes , siendo al mismo tiempo iguales á ellos : es á saber el ángulo ABC al DEF , y el ACB al DFE. Luego si dos triángulos tuvieren &c. Lo que debia demostrarse.



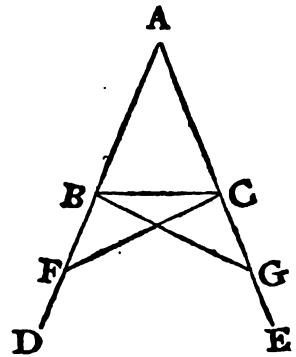
PROP.

## PROP. V. TEOR.

**L**OS ángulos en la base del triángulo isósceles son iguales entre sí; y prolongados sus lados, serán tambien entre sí iguales los ángulos, que están debaxo de la base.

Sea isósceles el triángulo ABC, y tenga el lado AB igual al AC; y prolonguense AB, AC. Digo, que el ángulo ABC será igual al ACB, y el CBD al BCE.

- Porque tómese qualquier punto F de la recta BD, y córtese de
- a 3. I. la linea mayor AE la parte AG <sup>a</sup> igual á AF menor, y tírense las rectas FC, GB. Siendo pues la AF igual á la AG, y la AB á la AC, las dos rectas FA, AC son respectivamente iguales á las dos GA, AB, y contienen el ángulo comun FAG: por consecuencia la base FC
- b 4. I. será igual <sup>b</sup> á la base GB, el triángulo AFC igual al AGB, é iguales entre sí los ángulos ACF, ABG opuestos á los lados iguales AF, AG, como tambien los ángulos AFC, AGB opuestos á los lados AC, AB. Y por quanto la recta AF entera es
- c Axi. 3. BF restante igual á la CG restante <sup>c</sup>; pero ya está demostrado, que FC es igual á GB: luego las dos BF, FC son respectivamente iguales á las dos CG, GB, y el ángulo BFC igual al CGB, y la BC base comun á ambos. Será pues el triángulo BFC igual al CGB, y los demas ángulos opuestos á lados iguales, respectivamente iguales entre sí: luego el ángulo FBC es igual al GCB, y están debaxo de la base; y el ángulo BCF igual al CBG. Así estando ya demostrada la igualdad del ángulo ABG total al total ACF, de los quales la parte CBG es igual á la BCF, serán por consiguiente los ángulos ABC, ACB iguales entre sí; y están sobre la base del triángulo ABC. Por consiguiente los ángulos &c.L.Q.D.D.



COROLARIO. Todo triángulo equilátero es tambien equiángulo.  
PROP.

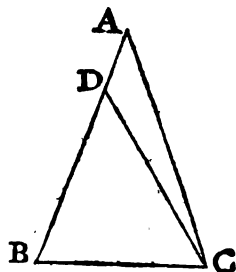
# LIBRO PRIMERO.

## PROP. VI. TEOR.

**S**I dos ángulos de un triángulo fuesen entre sí iguales, tambien lo serán los lados opuestos á ellos.

Sea el triángulo ABC, que tenga el ángulo ABC igual al ACB. Digo, que tambien el lado AB será igual al lado AC.

Porque si la recta AB no es igual á la AC, una de las dos será mayor. Séalo AB, y córtese de ella BD igual á la recta menor AC, y tírese DC: siendo DB igual á AC, y BC comun, las dos DB, BC serían iguales respectivamente á las dos AC, CB, y el ángulo DBC igual al ACB: luego la base DC sería igual á la base AB, y el triángulo DBC igual <sup>a</sup> al ACB, el menor al mayor; lo qual es absurdo: luego la recta AB no es desigual á la AC. Será pues igual. Por consiguiente si dos &c. L. Q. D. D.



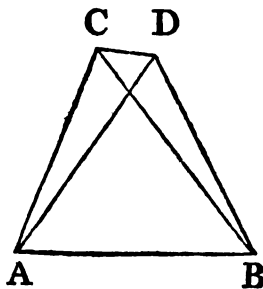
Cor. Todo triángulo equiángulo es equilátero.

## PROP. VII. TEOR.

**S**OBRE una misma base, y ácia una misma parte no se pueden construir dos triángulos, que tengan entre sí iguales cada dos lados, que salen de un extremo de ella.

Si se pudiesen construir, sean sobre la misma base AB, y ácia una misma parte los dos triángulos ACB, ADB, que tengan iguales entre sí los lados CA, DA, y los CB, DB.

Tírese la recta CD: ó el vértice del un triángulo estaría dentro del otro triángulo, ó fuera de él. Supóngase primeramente, que esté fuera; entonces por quanto el lado AC es igual al AD, será tambien el ángulo ACD igual al ADC <sup>a</sup>: es así que el ACD es mayor que el BCD: luego el ADC es mayor que el BCD: por consecuencia el ángulo BDC será mucho mayor que el BCD. Ademas siendo el lado CB igual al DB, sería tambien el ángulo BDC igual <sup>b</sup> al BCD; lo qual es imposible, pues queda demostrado ser mayor.



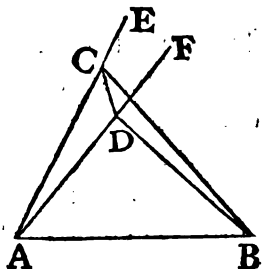
<sup>a</sup> 5. I.

<sup>b</sup> 5. I.

Pe-

12 ELEMENTOS DE EUCLIDES.

Pero supóngase, que el vértice de uno de los dos triángulos, por exemplo el D, esté dentro del otro: prolonguense AC, AD hasta E, F; y en tal caso siendo el lado AC igual al AD, serán iguales entre sí los ángulos ECD, FDC debaxo de la base: es así que el ángulo ECD es mayor que el BCD, y por consiguiente el ángulo FDC mayor que el BCD: luego es mucho mayor el ángulo BDC que el BCD. A mas, como se ha supuesto el lado CB igual al DB, será el ángulo BDC igual al BCD: es así que esto es imposible, pues ya se ha demostrado ser el ángulo BDC mayor que el BCD: y el caso en que el vértice de un triángulo cae en uno de los lados del otro, no necesita de demostracion. Por consiguiente sobre &c. L. Q. D. D.

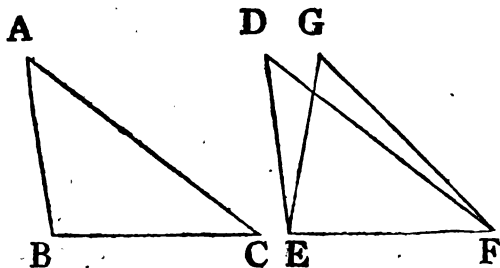


PROP. VIII. TEOR.

**S**I dos triángulos tienen los dos lados del uno respectivamente iguales á los dos lados del otro, y las dos bases iguales; tendrán tambien iguales los ángulos comprendidos por los lados.

Sean dos triángulos ABC, DEF, que tengan el lado AB igual al DE, el AC igual al DF, y la base BC igual á la EF. Digo, que el ángulo BAC será tambien igual al EDF.

Porque sobrepuesto el triángulo ABC al DEF, el punto B al E, y la recta BC á la EF; caerá tambien el punto C sobre el F; porque la BC es igual á la EF; y por consiguiente caerán tambien las rectas BA, AC sobre las ED, DF; pues si cayendo la base BC sobre la base EF, los lados BA, AC no cayesen sobre los



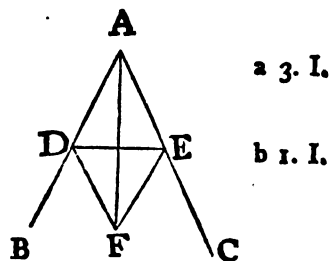
los lados ED, DF, sino que estuviesen en otra situación, como EG, GF, se formarían ya sobre una misma base EF, y ácia una misma parte dos triángulos EDF, EGF, que tendrían iguales entre sí cada dos lados, que salen de un extremo de ella: pero no se pueden construir <sup>a</sup>: luego cayendo la base BC sobre la EF, caerán los lados BA, AC sobre los ED, DF: luego se ajustarán; por lo qual el ángulo BAC caerá sobre el EDF, y será igual á él. <sup>b</sup>. Por consiguiente si <sup>b</sup> Axi. 8. dos triángulos &c. L. Q. D. D.

## PROP. IX. PROBL.

**D**IVIDIR en dos partes iguales un ángulo rectilíneo dado

Sea el ángulo rectilíneo dado BAC; y háyase de dividir en dos partes iguales.

Tómese en AB un punto cualquiera D, córtese de la recta AC la <sup>a</sup> AE igual á la AD, tírese DE, y constrúyase sobre ella el triángulo equilátero <sup>b</sup> DEF, y tírese AF. Digo, que la recta AF dividirá en dos partes iguales al ángulo BAC.



Porque siendo la línea AD igual á la AE, y la AF comun, las dos DA, AF son respectivamente iguales á las EA, AF, y la base DF igual á la base EF: luego el ángulo DAF, será igual <sup>c</sup> al ángulo EAF. Por consiguiente queda dividido &c. <sup>c</sup> 8. I. L. Q. D. H.

## PROP. X. PROBL.

**D**IVIDIR en dos partes iguales una recta dada terminada.

Sea AB la recta dada terminada; y háyase de dividir en dos partes iguales.

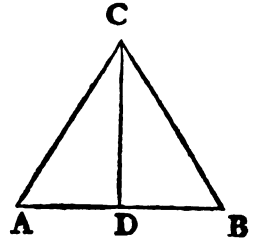
Cons-

## 14 ELEMENTOS DE EUCLIDES.

- a 1. I. Constrúyase sobre ella un triángulo equilátero <sup>a</sup> ABC, y divídase en dos partes iguales el ángulo ACB por la recta CD <sup>b</sup>. Digo, que la recta AB quedará dividida en dos partes iguales en el punto D.

Porque siendo AC igual á CB, y CD común, las dos AC, CD son respectivamente iguales á las dos BC, CD, y el ángulo ACD

igual al BCD: luego la base AD es igual á la base DB. Por consiguiente queda dividida en dos partes iguales la recta AB en el punto D. L. Q. D. H.



### PROP. XI. PROBL.

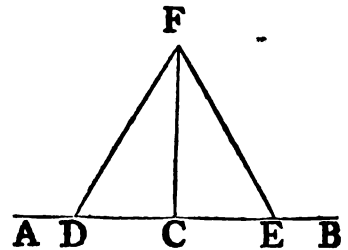
**E**LEVAR una perpendicular á una recta dada en un punto dado.

Sea la recta dada AB, y C el punto donde se haya de elevar la perpendicular.

- a 3. I. Tómesese qualquier punto D de la AC, y CE igual <sup>a</sup> á CD; sobre DE constrúyase un triángulo equilátero <sup>b</sup> DFE, y tírese la línea FC. Digo, que esta será perpendicular á AB en el punto C.

Porque siendo el lado DC igual al CE, el FC común, y la base DF igual á la base FE, será el ángulo DCF

- c 8. I. igual al ángulo ECF <sup>c</sup>; pero estos dos ángulos iguales están formados por una recta FC, que encuentra á otra AB; y quando una recta insiste sobre otra, formando los dos ángulos entre sí iguales, es perpendicular á esta <sup>d</sup>: luego FC será perpendicular á AB en el punto dado C. L. Q. D. H.

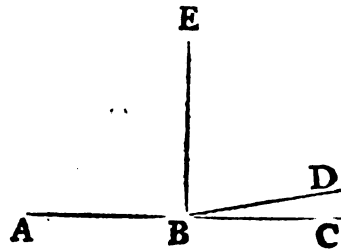


COR. De aquí se sigue, que dos rectas no pueden tener un segmento común.

Porque si fuera posible, supongamos que las dos rectas ABC, ABD tuviesen el segmento común AB: en el punto B tírese la línea BE formando ángulos rectos con la AB; siendo pues recta



recta la ABC, será el ángulo CBE igual al ángulo EBA; y del mismo modo, siendo recta la ABD, será igual el ángulo DBE al EBA: luego el ángulo DBE será igual al CBE; el menor al mayor, lo qual es imposible: por consiguiente dos rectas no pueden tener un comun segmento.

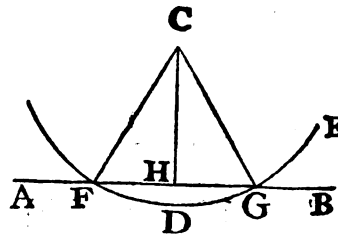


PROP. XII. PROBL.

**D**E un punto dado fuera de una recta indefinida baxar á ella una perpendicular.

Sea AB la recta dada indefinida, y C el punto dado fuera de ella, de donde se le ha de baxar la perpendicular.

Tómese de la otra parte de la recta AB qualquier punto D, y con centro C, é intervalo CD describáse el arco <sup>a</sup> EGF, que corte á la recta AB en los puntos F, G; y divídase <sup>b</sup> en dos partes iguales la FG en el punto H: del punto C al H tírese la CH, y será esta perpendicular á AB desde el punto dado C.



a Post. 3.  
b 10. I.

Tírense CF, CG.

Siendo pues iguales los lados FH, y HG, el HC comun, y la base CF igual á la CG <sup>c</sup>, será el ángulo CHF igual al CHG <sup>d</sup>: pero estos dos ángulos están formados por una recta CH, que encuentra á otra AB; y quando una recta insistiendo sobre otra forma dos ángulos iguales, es perpendicular á ella. Luego la recta CH, que se ha tirado del punto dado C á la recta indefinida dada AB, es perpendicular á ella. L. Q. D. H.

c Def. 15.  
d 8. I.

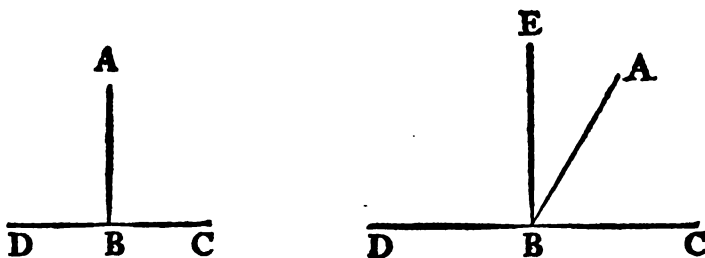
PROP.

## PROP. XIII. TEOR.

**Q**UANDO una recta insiste sobre otra, forma dos ángulos; los cuales serán, ó dos rectos, ó juntos iguales á dos rectos.

Supóngase, que insiste la recta  $AB$  sobre la recta  $CD$ , y forma los ángulos  $CBA$ ,  $ABD$ . Digo, que estos serán dos rectos; ó juntos iguales á dos rectos.

- a** Def. 10. Porque si el ángulo  $CBA$  es igual al  $ABD$ , ya son dos rectos **a**:  
**b** 11. I. si no, tírese del punto  $B$  dado en la línea  $CD$  la  $BE$  **b** perpendicular á la  $CD$ : luego los ángulos  $CBE$ ,  $EBD$  son dos rectos **c**: pero siendo el ángulo  $CBE$  igual á los dos  $CBA$ ,  $ABE$  juntos, añádase á ambos el ángulo comun  $EBD$ , y resultarán los ángulos **d**  
**d** Axi. 2.  $CBE$ ,  $EBD$  iguales á los  $CBA$ ,  $ABE$ ,  $EBD$  **d**. Asimismo siendo el ángulo  $DBA$  igual á los dos  $DBE$ ,  $EBA$ , añádase el ángulo



comun  $ABC$ , y resultarán los ángulos  $DBA$ ,  $ABC$  iguales á los tres  $DBE$ ,  $EBA$ ,  $ABC$ : es así que queda demostrada la igualdad de los ángulos  $CBE$ ,  $EBD$  á los mismos tres ángulos; y las  
**e** Axi. 1. cantidades iguales á una misma son iguales entre sí **e**: luego tambien los ángulos  $CBE$ ,  $EBD$  son iguales á los  $DBA$ ,  $ABC$ : pero los  $CBE$ ,  $EBD$  son rectos: luego los ángulos  $DBA$ ,  $ABC$  son iguales á dos rectos. Por consiguiente cuando una recta &c. L. Q. D. D.

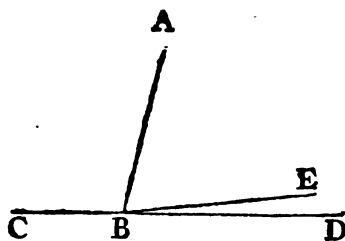
PROP.

## PROP. XIV. TEOR.

**S**I de un punto de una recta cualquiera se tiran otras dos ácia diferentes partes, haciendo con ella los ángulos contiguos iguales á dos rectos; estarán estas dos líneas directamente; *esto es, formarán una recta.*

Supóngase, que las dos rectas BC, BD tiradas del punto B de la recta AB ácia diferentes partes, forman los dos ángulos contiguos ABC, ABD iguales á dos rectos. Digo, que las dos líneas BC, BD formarán una recta.

Porque á no ser así, otra línea BE formaría una recta con la CB: é insistiendo la recta AB sobre la recta CBE, los ángulos ABC, ABE serian iguales á dos rectos <sup>a</sup>. Tambien los ángulos ABC, ABD son iguales á dos rectos: luego los ángulos CBA, ABE serian iguales á los CBA, ABD: y quitando el ángulo comun CBA, resultaria el restante ABE igual al restante ABD <sup>b</sup>, el menor al mayor, lo qual es imposible: luego la línea BE no forma una recta con la BC. De la misma manera se demostrará, que ninguna otra línea, sino es la BD, forma una recta con la BC: luego las líneas CB, BD forman una recta. Por consiguiente si de un punto &c. L. Q. D. D.



a 13. I.

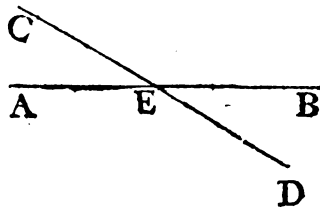
b Axi. 3.

## PROP. XV. TEOR.

**S**I dos rectas se cortan mutuamente; formarán los ángulos verticales iguales entre sí.

Córtense mutuamente las dos rectas AB, CD en el punto E. Digo, que el ángulo AEC será igual al DEB, y el CEB igual al AED.

Porque insistiendo la recta AE sobre la recta CD, forma los ángulos CEA, AED, que juntos, son iguales á dos rectos <sup>a</sup>: é insistiendo

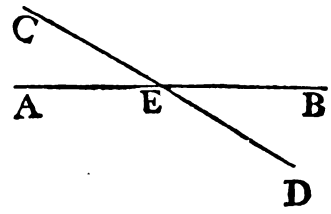


a 13. I.

B asi-

18 ELEMENTOS DE EUCLIDES.

asimismo la recta DE sobre la AB, forma los ángulos AED,   
 a 13. I. DEB iguales á dos rectos <sup>a</sup>: luego los ángulos CEA, AED son iguales á los AED, DEB: quítese ahora el ángulo comun AED; y el restante CEA será igual al restante BED. De la misma manera se demostrará la igualdad de los ángulos CEB, AED. Por consiguiente si dos rectas &c. L. Q. D. D.



COR. 1. Dos rectas, que se cortan mutuamente, forman en el punto en que se cortan ángulos iguales á quatro rectos.

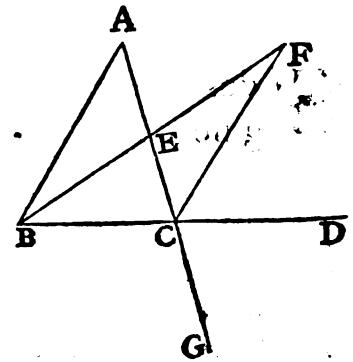
COR. 2. Todos los ángulos formados al rededor de un punto son iguales á quatro rectos.

PROP. XVI. TEOR.

**P**ROLONGADO un lado de qualquier triángulo; el ángulo externo es mayor que qualquiera de los internos opuestos.

Sea el triángulo ABC, y prolonguese el lado BC hasta el punto D. Digo, que el ángulo externo ACD será mayor que qualquiera de los internos opuestos, esto es CBA, BAC.

a 10. I. Córtese en dos partes iguales <sup>a</sup> AC en el punto E, y tirada la BE, prolonguese hasta el punto F, de manera que sea EF igual á BE, tírese asimismo FC, y prolonguese AC hasta el punto G.



Porque siendo AE igual á EC, y BE á EF, las dos AE, EB son respectivamente iguales á las dos CE, EF, y el ángulo AEB igual <sup>b</sup> al CEF, por ser verticales: luego la base AB es igual á la base CF, y el triángulo AEB igual al

c 4. I. CEF, y los demas angulos iguales <sup>c</sup> entre sí, á los quales están opuestos lados iguales: luego el ángulo BAE es igual al ECF: es así que el ECD es mayor que el ECF;

por

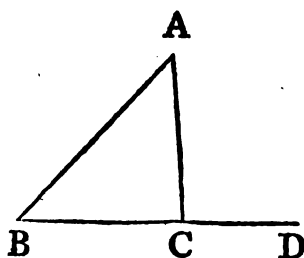
por consiguiente el  $\angle ACD$  será mayor que el  $\angle BAE$ . De la misma manera dividida en dos partes iguales la recta  $BC$ , se demostrará, que el ángulo  $\angle BCG$ , esto es el  $\angle ACD^d$ , es mayor que el  $\angle ABC$ . Luego prolongado, &c. L. Q. D. D.

PROP. XVII. TEOR.

**D**OS ángulos cualesquiera de todo triángulo tomados juntos, son menores que dos rechos.

Sea el triángulo  $ABC$ . Digo, que cualesquiera de sus dos ángulos tomados juntos, serán menores que dos rechos.

Prolónguese  $BC$  hasta  $D$ , y siendo  $\angle ACD$  el ángulo externo del triángulo  $ABC$ , será mayor que el ángulo interno opuesto  $\angle ABC^a$ : júntese á dichos dos el  $\angle ACB$ ; y resultará, que los ángulos  $\angle ACD, \angle ACB$  son mayores que los  $\angle ABC, \angle ACB$ : es así que



a 16. I.

los  $\angle ACD, \angle ACB$  son iguales á dos rechos<sup>b</sup>: luego los ángulos  $\angle ABC, \angle BCA$  son menores que dos rechos. Con el mismo método se demostrará, que los ángulos  $\angle BAC, \angle ACB$ , y tambien los  $\angle CAB, \angle ABC$  son menores que dos rechos. Por consiguiente dos ángulos, &c. L. Q. D. D.

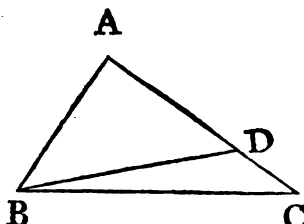
b 13. I.

PROP. XVIII. TEOR.

**E**N todo triángulo, el ángulo opuesto á mayor lado es mayor.

Sea el triángulo  $ABC$ , que tenga el lado  $AC$  mayor que el  $AB$ . Digo, que el ángulo  $\angle ABC$  será mayor que el  $\angle BCA$ .

Siendo el lado  $AC$  mayor que el  $AB$ , tómese la parte  $AD^a$  igual á  $AB$ , y tírese la recta  $BD$ : el ángulo externo  $\angle ADB$  es mayor que el interno opuesto  $\angle DCB^b$  del triángulo  $BDC$ ; pero el ángulo  $\angle ADB$  es igual al  $\angle ABD$ , por ser el lado  $AB$  igual al  $AD^c$ : lue-



a 3. I.

b 16. I.

c 5. I.

B 2 go

go tambien el ángulo ABD será mayor que el ACB; y por consiguiente el ABC mucho mayor que el ACB. Luego en todo, &c. L. Q. D. D.

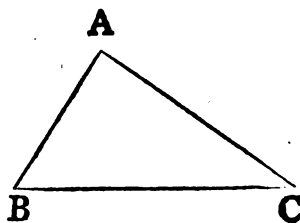
PROP. XIX. TEOR.

**E**N todo triángulo el lado opuesto á mayor ángulo es mayor.

Sea el triángulo ABC, que tenga el ángulo ABC mayor que el BCA. Digo, que tambien el lado AC será mayor que el AB.

Porque si no fuera así, ó el lado AC sería igual al AB, ó menor: no es igual; pues para esto sería necesario, que el ángulo ABC fuese tam-

- a 5. I. bien igual <sup>a</sup> al ACB, lo que no es así: tampoco es menor; pues en tal caso el ángulo ABC sería necesariamente menor que
- b 18. I. el ACB <sup>b</sup>; pero es al contrario: luego el lado AC no es menor que el AB: y por otra parte queda demostrado no serle igual: luego es mayor. Por consiguiente en todo, &c. L. Q. D. D

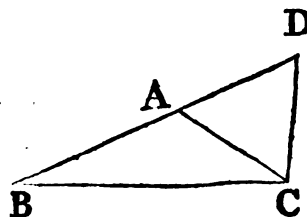


PROP. XX. TEOR.

**D**OS lados qualesquiera de todo triángulo tomados juntos son mayores que el otro.

Sea el triángulo ABC. Digo, que dos lados qualesquiera de él juntos, serán mayores que el otro: esto es, que los lados BA, AC son mayores que el BC; y los AB, BC mayores que el AC, y BC, CA mayores que AB.

- a 3. I. Prolónguese el lado BA hasta D; de suerte, que sea AD <sup>a</sup> igual á CA, y tírese DC.



- b 5. I. Siendo, pues, DA igual á AC, será tambien el ángulo ADC igual <sup>b</sup> al ACD; pero el ángulo BCD es mayor que el ACD: lue-



luego BCD es mayor que ADC.

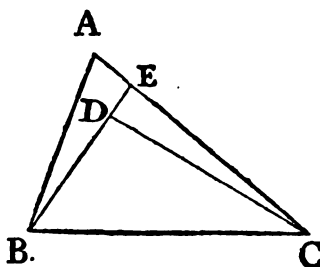
Siendo, pues, el ángulo BCD de un triángulo DCB mayor que otro BDC, el lado DB opuesto al mayor ángulo será mayor que el BC: es así que el DB es igual á los BA, AC: luego BA, AC juntos son mayores que el BC. De la misma suerte demostraremos, que los lados AB, BC son mayores que el CA; y los BC, CA juntos mayores que el AB. Por consiguiente dos, &c. L. Q. D. D.

### PROP. XXI. TEOR.

**S**I de los extremos de qualquier lado de un triángulo se tiran dos rectas á un punto dentro de él, serán menores que los otros dos lados del triángulo; y el ángulo contenido por ellas será mayor que el comprendido por dichos lados.

Sobre el lado BC del triángulo ABC de los extremos B, C tírense á un punto D dentro del triángulo dos rectas BD, DC. Digo, que los lados BD, DC serán menores que los BA, AC, y que el ángulo BDC será mayor que el BAC.

Prolónguese la recta BD hasta encontrar el lado AC en E; y siendo los dos lados juntos de un triángulo mayores que el otro <sup>a</sup>, a 20. I. serán los dos lados BA, AE del triángulo ABE mayores que el lado BE: añádase EC, y resultarán BA, AC mayores que BE, EC <sup>b</sup>. Además de esto, siendo los dos lados CE, ED del triángulo CED mayores que el lado CD; añadiendo DB, resultarán CE, EB mayores que CD, DB <sup>c</sup>; pero se ha demostrado que BA, AC son mayores que BE, EC: luego los lados BA, AC son mucho mayores que los BD, DC.



b Ax. 4.

c Ax. 4.

Además, siendo el ángulo externo de qualquier triángulo mayor que el interno opuesto <sup>d</sup>, será el ángulo externo BDC del triángulo CDE mayor que el ángulo CED; pero el ángulo externo CEB es mayor que el BAC: luego el BDC será mucho mayor

B 3

yor

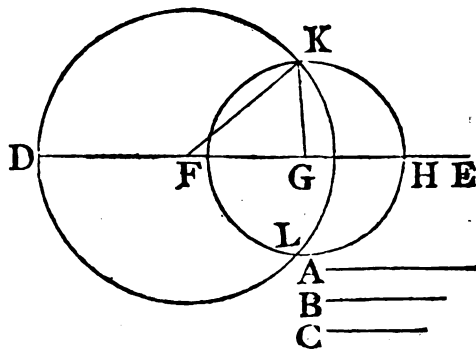
22 ELEMENTOS DE EUCLIDES.

por que el BAC. Por consiguiente si de los , &c. L. Q. D. D.

PROP. XXII. PROBL.

**C**ONSTRUIR un triángulo , que tenga los lados iguales á tres rectas dadas , con tal que cada dos juntas <sup>a</sup> sean mayores que la otra.

Sean las tres rectas dadas A , B , C ; y cada dos de ellas juntas mayores que la otra ; esto es , las A , B mayores que la C , y las A , C mayores que la B ; como asimismo las B , C mayores que la A : y háyase de construir un triángulo , que tenga los lados iguales á estas tres líneas.



Sea la recta DE terminada por la parte D , é indefinida por la E : tómesese DF igual <sup>a</sup> á A , FG igual á B , y GH á C ; y con centro F , é intervalo FD des-

<sup>a</sup> 3. I. <sup>b</sup> Post. 3. <sup>c</sup> Def. 15. <sup>d</sup> Def. 15.   
 críbese un círculo <sup>b</sup> DKL. Además de esto , con centro G , é intervalo GH describese otro círculo K LH , y tírense las líneas KF , KG. Digo , que resultará el triángulo KFG formado por tres rectas iguales á las dadas A , B , C.

Porque siendo el punto F centro del círculo DKL , el radio FD será igual al FK <sup>c</sup> ; pero el FD es igual á la recta A : luego el FK será también igual á A. Además , siendo el punto G centro del círculo LKH , el radio GH será igual al GK <sup>d</sup> ; pero GH es igual á C : luego también GK será igual á C , y también FG es igual á B : luego son iguales las tres rectas KF , FG , GK á las tres dadas A , B , C. Por consiguiente , &c. L. Q. D. H.

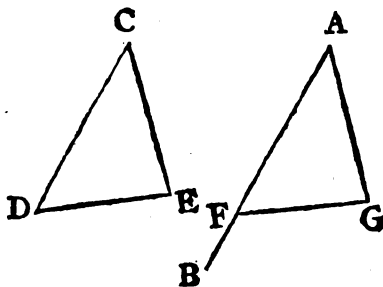
PROP. XXIII. PROBL.

**E**N un punto dado de una recta dada construir sobre ella un ángulo rectilíneo igual á otro dado.

Sea

Sea la recta dada  $AB$ ,  $A$  el punto, y  $DCE$  el ángulo, y háyase de construir sobre la  $AB$ , y en dicho punto un ángulo rectilíneo igual al dado.

Tómense en ambos lados  $CD$ ,  $CE$  dos puntos cualesquiera  $D$ ,  $E$ , y júntense por la  $DE$ ; y con tres rectas iguales á las tres  $CD$ ,  $DE$ ,  $EC$  constrúyase <sup>a</sup> un triángulo  $AFG$ ; de tal manera, que la  $AF$  sea igual á  $CD$ , la  $AG$  á  $CE$ , y la  $FG$  á  $DE$ .



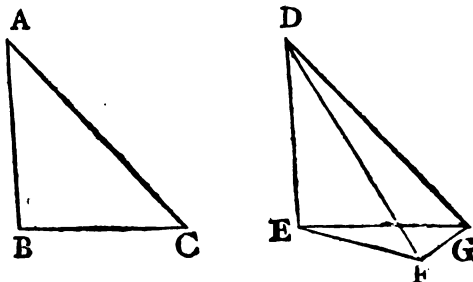
a 22. I.

Porque siendo las dos líneas  $DC$ ,  $CE$  respectivamente iguales á las dos  $FA$ ,  $AG$ , y la base  $DE$  igual á la  $FG$ , será el ángulo  $DCE$  igual al  $FAG$  <sup>b</sup>. Luego sobre la recta <sup>b</sup>  $8. I.$  dada  $AB$ , y en el punto  $A$  resulta construido el ángulo rectilíneo  $FAG$  igual al dado  $DCE$ .  $L. Q. D. H.$

PROP. XXIV. TEOR.

**S**I dos triángulos tienen dos lados del uno respectivamente iguales á dos lados del otro, y desiguales los ángulos comprendidos; el que tenga mayor ángulo tendrá mayor base.

Sean dos triángulos  $ABC$ ,  $DEF$ , que tengan los dos lados  $AB$ ,  $AC$  respectivamente iguales á los dos  $DE$ ,  $DF$ ; pero el ángulo  $BAC$  mayor que el  $EDF$ . Digo, que la base  $BC$  será también mayor que la base  $EF$ .



Supóngase, que de las rectas  $DE$ ,  $DF$ ; es  $DE$  la mayor; constrúyase sobre ella en  $D$  el ángulo  $EDG$  <sup>a</sup> igual al <sup>a</sup>  $23. I.$   $BAC$ , y tírese la  $DG$  <sup>b</sup> igual á cualquiera de las dos  $AC$ ,  $DF$ : <sup>b</sup>  $3. I.$  y júntense los puntos  $E$ ,  $G$ ,  $F$ .

$B_4$

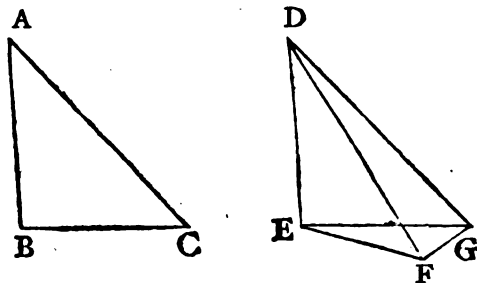
Por-

## 24 ELEMENTOS DE EUCLIDES.

Porque siendo AB igual á DE, y AC á DG, los dos BA, AC serán respectivamente iguales á los dos ED, DG; y el ángulo BAC igual al EDG: luego la base BC se-

c 4. I. rá igual <sup>c</sup> á la EG. A mas, siendo igual DG á DF, se-

d 5. I. rá tambien igual <sup>d</sup> el ángulo DFG al DGF; pero el

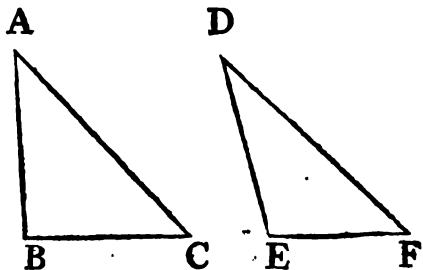


ángulo DGF es mayor que el EGF: por consiguiente el DFG será mayor que el EGF: luego es mucho mayor el ángulo EFG que el EGF: y teniendo el triángulo EFG el ángulo EFG mayor que el EGF, el lado EG opuesto al ángulo EFG será mayor que el lado EF opuesto al ángulo EGF: es así que el lado EG es igual al BC: luego tambien el BC será mayor que el EF. Por consiguiente si dos, &c. L. Q. D. D.

### PROP. XXV. TEOR.

**S**I dos triángulos tienen dos lados del uno respectivamente iguales á dos lados del otro, y desiguales las bases; el que tenga mayor base tendrá mayor ángulo comprehendido por los lados.

Sean dos triángulos ABC, DEF, que tengan los lados AB, AC respectivamente iguales á los lados DE, DF, y sea la base BC mayor que la EF. Digo, que el ángulo BAC será mayor que el EDF.



Porque á no ser así, sería igual, ó menor: igual no lo es; pues en tal caso la base BC fuera igual

a 4. I. á la EF <sup>a</sup>; lo que no es así: menor tampoco; porque entonces sería menor la base BC que la

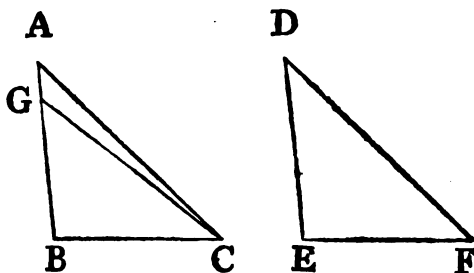
b 24. I. EF <sup>b</sup>; lo qual es al contrario; y queda antes demostrado no ser

ser igual : luego el ángulo BAC será mayor que el EDF. Por consiguiente si dos, &c. L. Q. D. D.

## PROP. XXVI. TEOR.

**S**I dos triángulos tuvieren dos ángulos del uno respectivamente iguales á dos ángulos del otro , y un lado igual á un lado , siendo estos los adyacentes á los ángulos iguales , ó los opuestos á ángulos iguales ; tendrán tambien los otros lados respectivamente iguales entre sí , y el otro ángulo igual al otro ángulo.

Sean dos triángulos ABC , DEF , que tengan los dos ángulos ABC , BCA respectivamente iguales á los dos DEF , EFD , y un lado igual á otro ; primeiramente el adyacente á ángulos iguales , esto es el lado BC igual al EF. Digo , que serán los demás lados AB igual á DE , AC igual á DF , y el ángulo BAC igual al otro EDF.



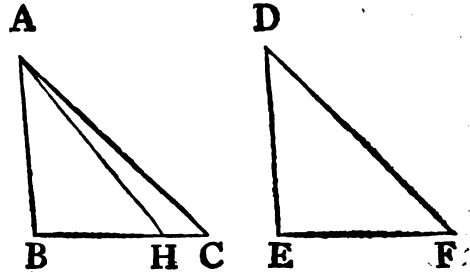
Porque si la recta AB fuese desigual á la DE , una de las dos sería mayor : séalo AB , tómesese la parte BG igual al lado DE , y tírese GC : siendo , pues , BG igual á DE , y BC á EF , las dos líneas GB , BC serían respectivamente iguales á las dos DE , EF , y el ángulo GBC igual al DEF : luego la base GC sería igual á la DF , y el triángulo GBC igual al DEF , y los demás ángulos opuestos á lados iguales serían iguales entre sí : luego el ángulo GCB sería igual al DFE : es así que este último se supuso igual al BCA : por consiguiente el BCG sería igual al BCA , el menor al mayor , lo qual es imposible : luego no puede ser desigual AB á DE : luego será igual : es así que BC es igual á EF ; consiguientemente los dos AB , BC son

26 ELEMENTOS DE EUCLIDES.

son respectivamente iguales á los dos DE, EF, y el ángulo ABC igual al DEF: luego la basa AC es igual á la DF, y el

a 4. I. ángulo BAC al EDF <sup>a</sup>.

Sean en segundo lugar los lados iguales los opuestos á ángulos iguales, como el AB, y el DE; serán tambien los demás lados iguales entre sí, esto es AC á DF, y BC á EF; y el ángulo BAC igual al EDF.



Porque si la línea BC fuese desigual á la EF, una de ellas sería mayor: séalo BC, supóngase BH igual á EF, y tírese AH: siendo, pues, la línea BH igual á la EF, y AB á DE, las dos AB, BH resultarían respectivamente iguales á las dos DE, EF: y comprehenden ángulos iguales: luego la base AH sería igual á la DF, el triángulo ABH al DEF, y los demás ángulos opuestos á lados iguales, iguales entre sí: luego será igual el ángulo BHA al EFD; pero el

b Por la hipótesis.

EFD es igual al BCA <sup>b</sup>: luego tambien el ángulo BHA sería igual al BCA; esto es, el ángulo externo del triángulo AHC sería igual al ángulo interno opuesto BCA; lo qual es

c 16. I.

imposible <sup>c</sup>: por consecuencia la línea BC no es desigual á la EF; luego será igual: es así que la AB es igual á la DE: luego las dos AB, BC son respectivamente iguales á las dos DE, EF, y contienen ángulos iguales: así la base AC es igual á la DF, y el ángulo BAC igual al DEF. Por consiguiente si dos, &c. L. Q. D. D.

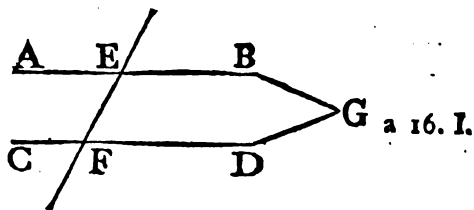
PROP. XXVII. TEOR.

**S**I una recta cayendo sobre otras dos forma los ángulos alternos iguales entre sí; estas rectas serán entre sí paralelas.

Supóngase, que cayendo la recta EF sobre las rectas AB, CD for-

forma los dos ángulos alternos AEF, EFD entre sí iguales. Digo, que la recta AB será paralela á la CD.

Porque si no lo fuese, prolongadas las líneas AB, CD, se encontrarían ácia BD, ó AC: prolonguense, y encuéntrense ácia BD en el punto G, y resultaría el ángulo externo AEF del triángulo GEF mayor que el ángulo interno opuesto EFG <sup>a</sup>; lo que es imposible por haberse supuesto igual: luego prolongadas las líneas AB, CD no se encontrarán ácia BD.



a 16. I.

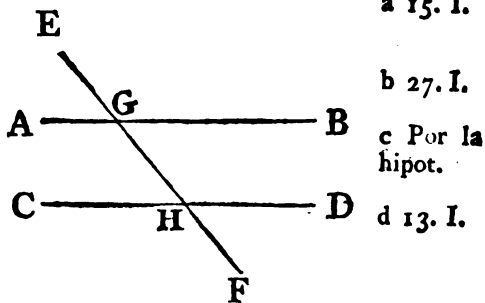
Semejantemente se demostrará, que tampoco se encontrarían ácia AC: es así que las que nunca se encuentran son paralelas <sup>b</sup>: luego AB es paralela á CD. Por consiguiente si una &c. L. Q. D. D. <sup>b Def. 35.</sup>

PROP. XXVIII. TEOR.

**S**I una recta cayendo sobre otras dos forma el ángulo externo igual al interno opuesto ácia la misma parte, ó bien los ángulos internos de una misma parte iguales á dos rectos; serán las dos líneas paralelas.

Supuesto, que la recta EF cayendo sobre las rectas AB, CD forme el ángulo externo EGB igual al interno opuesto ácia la misma parte GHD, ó que forme los ángulos internos de la misma parte BGH, GHD iguales á dos rectos: digo, que la recta AB será paralela á la recta CD.

Porque siendo el ángulo EGB igual al GHD, y el EGB al AGH <sup>a</sup>; también será igual el ángulo AGH al GHD, y son alternos: luego la línea AB es paralela <sup>b</sup> á la CD: además de esto siendo los ángulos BGH, GHD iguales á dos rectos <sup>c</sup>, también los ángulos AGH, BGH son iguales á dos rectos <sup>d</sup>: resultarán pues los ángulos AGH, BGH iguales á los BGH, GHD: quítese el ángulo comun BGH,



a 15. I.

b 27. I.

c Por la hipot.

d 13. I.

BGH, y quedará el AGH igual al GHD: y son tambien alternos: luego la linea AB será paralela á la CD. Por consiguiente si una &c. L. Q. D. D.

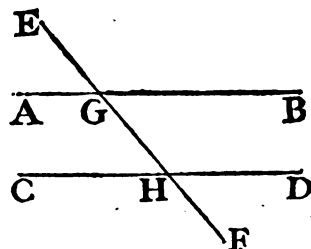
PROP. XXIX. TEOR.

Véanse las Notas á esta Proposición.

**C**AYENDO una recta sobre dos paralelas, formará los ángulos alternos iguales entre sí; el externo igual á su interno opuesto de la misma parte; y los internos de la misma parte iguales á dos rectos.

Cayga la recta EF sobre las rectas paralelas AB, CD. Digo, que formará los ángulos alternos AGH, GHD iguales entre sí; el externo EGB igual al interno opuesto de la misma parte GHD: últimamente los internos de la misma parte BGH, GHD iguales á dos rectos.

Porque si el ángulo AGH fuera desigual al GHD, uno de ellos sería mayor. Séalo el AGH, y júnteseles el BGH: resultarán los ángulos AGH, BGH mayores que los BGH, GHD: es así que los ángulos AGH, BGH son iguales á dos rectos <sup>a</sup>: luego los BGH, GHD serían menores que dos rectos: pero las rectas, que con otra forman los ángulos internos de la misma parte menores que dos rectos prolongadas al infinito, se encuentran \*: luego las rectas



\* Ax. 12. Véanse las Notas á esta Proposición.

b 15. I.

c 13. I.

AB, CD prolongadas al infinito se encontrarían: es así, que no se encuentran, pues se supusieron paralelas: luego el ángulo AGH no puede ser desigual al GHD: luego será igual. También el ángulo AGH es igual al EGB <sup>b</sup>: luego el EGB será igual al GHD: añádase el ángulo BGH, y resultarán los ángulos EGB, BGH iguales á los BGH, GHD: es así que los EGB, BGH son iguales <sup>c</sup> á dos rectos: luego serán asimismo iguales á dos rectos los ángulos BGH, GHD. Por consiguiente cayendo &c. L. Q. D. D.

PROP.

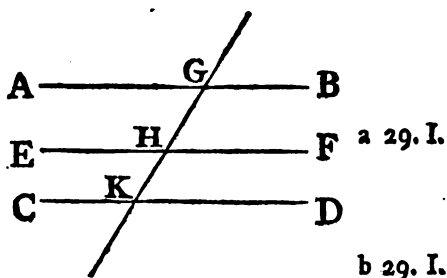


PROP. XXX. TEOR.

**L**AS rectas, que son paralelas á una misma recta, son paralelas entre sí.

Sean las dos líneas AB, CD paralelas á la EF. Digo, que tambien AB será paralela á CD.

Supóngase, que cae sobre estas la recta GHK; por quanto la recta GK cae sobre las rectas paralelas AB, EF, el ángulo AGH será igual <sup>a</sup> al GHF. Ademas cayendo la misma recta GK sobre las rectas paralelas EF, CD, el ángulo GHF resulta igual al GKD <sup>b</sup>; y ya está demostrada la igualdad del ángulo AGK al GHF: luego tambien el ángulo AGK será igual al GKD: pero estos son tambien alternos: luego la línea AB es paralela á la CD <sup>c</sup>. Por consiguiente las rectas &c. L. Q. D. D.



b 29. I.

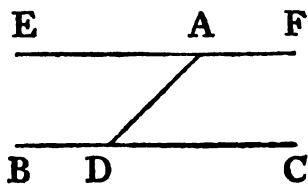
c 27. I.

PROP. XXXI. PROBL.

**P**OR un punto dado, tirar una paralela á una recta dada.

Sea A el punto dado, y BC la recta dada, y háyase de tirar una paralela por el punto A á la recta BC.

Tómese en la línea BC qualquier punto D: júntense A, y D; constrúyase en el punto A de la recta DA el ángulo <sup>a</sup> DAE igual al ADC, y prolónguese la recta EA; esto es tírese AF directamente á EA.



a 23. I.

Formando pues la recta AD, que cae sobre las rectas BC, EF, ángulos alternos iguales entre sí, resulta que la línea EF será paralela á BC. Por consiguiente se ha tirado &c. L. Q. D. H.

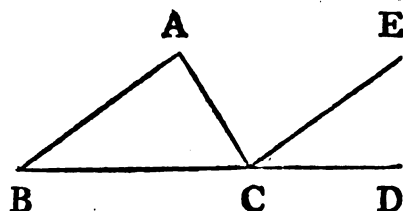
PROP.

## PROP. XXXII. TEOR.

**E**N todo triángulo, prolongado uno de sus lados, el ángulo externo es igual á los dos internos opuestos: y los tres ángulos internos de todo triángulo son iguales á dos rectos.

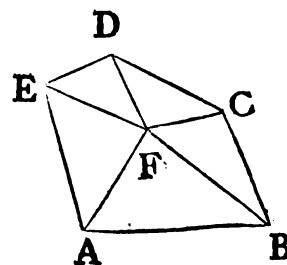
Sea el triángulo  $ABC$ ; y uno de sus lados  $BC$  prolonguese hasta  $D$ . Digo, que el ángulo externo  $ACD$  será igual á los internos opuestos  $CAB, ABC$ ; y que los tres ángulos internos  $ABC, BCA, CAB$  del triángulo serán iguales á dos rectos.

- a 31. I. Tírese por el punto  $C$  la  $CE$  paralela <sup>a</sup> á la recta  $AB$ : siendo estas dos líneas paralelas, y cayendo sobre ellas la  $AC$ , los ángulos alternos  $BAC, ACE$  resultan entre sí iguales <sup>b</sup>. Además, como  $AB$  es paralela á  $CE$ , y sobre ambas cae la recta  $BD$ , el ángulo externo  $ECD$  es igual <sup>c</sup> al interno opuesto  $ABC$ : luego el ángulo externo  $ACD$  es igual á los dos internos opuestos  $CAB, ABC$ . Añádase á ambos el ángulo  $ACB$ ; y resultarán iguales los ángulos  $ACD, ACB$  á los tres  $CBA, BAC, ACB$ : es así <sup>d</sup> que los ángulos  $ACD, ACB$  son iguales á dos rectos <sup>d</sup>: luego también los ángulos  $CBA, BAC, ACB$  son iguales á dos rectos. Por consiguiente en todo &c. L. Q. D. D.



**COR. I.** Juntos todos los ángulos internos de qualquiera figura rectilínea con quatro ángulos rectos componen dos veces tantos rectos, quantos son los lados de la figura.

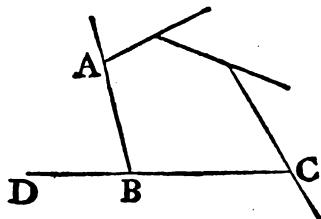
Porque qualquiera figura rectilínea, como la  $ABCDE$ , es divisible en tantos triángulos, quantos son sus lados, tirando rectas de un punto  $F$  de dentro de la figura á todos sus ángulos: es así que juntos todos los ángulos de los triángulos son (segun la Proposicion precedente) iguales á dos veces tantos rectos, quantos son los



los triángulos, esto es quantos son los lados de la figura: y los mismos ángulos son todos iguales á los ángulos de la figura juntos con los ángulos, que concurren en F vértice comun de los triángulos; esto es juntos con quatro rectos <sup>a</sup>: luego todos los ángulos de la figura juntos con quatro rectos son iguales á dos veces tantos rectos, quantos son los lados. <sup>a 2. Cor. 15. I.</sup>

**COR. 2.** Todos los ángulos externos de qualquiera figura rectilínea juntos son iguales á quatro rectos.

Porque el ángulo interno ABC junto con el externo adyacente ABD es igual <sup>b</sup> á dos rectos: luego todos los internos juntos con los externos serán iguales á dos veces tantos rectos, quantos son los lados de la figura: esto es (conforme al Corolario anterior) á todos los ángulos internos de la figura juntos á quatro rectos. Por consiguiente los externos son iguales á quatro rectos.



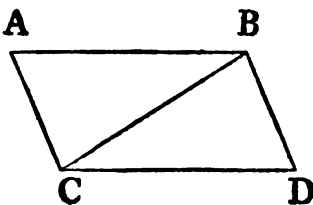
b 13. I.

### PROP. XXXIII. TEOR.

**L**AS rectas, que juntan ácia una misma parte los extremos de dos rectas iguales, y paralelas, son tambien iguales, y paralelas entre sí.

Sean iguales, y paralelas las líneas AB, CD, y júntense sus extremos ácia una misma parte por las rectas AC, BD. Digo, que las líneas AC, DB serán iguales, y paralelas.

Tírese la línea BC; y por quanto AB es paralela á CD, y cae sobre ellas BC, los ángulos alternos ABC, BCD serán iguales <sup>a</sup>: y siendo AB igual á CD, y BC comun, las dos AB, BC serán iguales á las dos DC, CB, y el ángulo ABC igual al BCD: luego la base AC será igual á la BD, el triángulo ABC al BCD, y los demas ángulos opuestos á lados iguales son iguales <sup>b</sup>; pero la recta BC cayendo sobre las rectas AC, BD forma los ángulos alternos ACB, CBD entre sí iguales: luego será AC paralela á BD: <sup>b 4. I.</sup>



a 29. I.

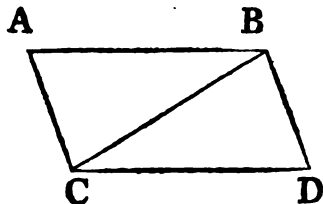
c 27. I.  $BD$  <sup>c</sup>: y por otra parte queda ya demostrada su igualdad. Por consiguiente las rectas &c. L. Q. D. D.

## PROP. XXXIV. TEOR.

**L**OS lados, y los ángulos opuestos del paralelogramo son entre sí iguales: y la diagonal divide al paralelogramo en dos partes iguales.

Sea el paralelogramo  $ABDC$ , y tenga por diagonal á la línea  $BC$ . Digo, que los lados, y ángulos opuestos del paralelogramo serán entre sí iguales; y que la diagonal  $BC$  lo dividirá en dos partes iguales.

Porque siendo la línea  $AB$  paralela á  $CD$ , y cayendo sobre ellas la recta  $BC$ , los ángulos alternos  $ABC$ ,  $BCD$  serán entre sí iguales <sup>a</sup>. Además de esto, como la línea  $AC$  es paralela á  $BD$ , y sobre ellas cae  $BC$ , también serán entre sí iguales <sup>b</sup> los ángulos alternos  $ACB$ ,  $CBD$ : luego  $ABC$ ,  $CBD$  son dos triángulos, que tienen los dos ángulos  $ABC$ ,  $BCA$  respectivamente iguales á los dos  $BCD$ ,  $CBD$ , y un lado comun  $BC$  adyacente á estos ángulos iguales: luego tendrán los demás lados respectivamente iguales entre sí, y el ángulo restante igual al restante <sup>c</sup>: luego el lado  $AB$  será igual al  $CD$ : el  $AC$  al  $BD$ ; y el ángulo  $BAC$  igual al  $BDC$ : y por quanto el ángulo  $ABC$  es igual al  $BCD$ , y este al  $ACB$ , será el ángulo  $ABD$  total igual al  $ACD$  total: es así que ya está demostrada la igualdad del ángulo  $BAC$  al  $BDC$ : luego los lados, y ángulos opuestos del paralelogramo son entre sí iguales.



A más de esto la diagonal dividirá en dos partes iguales al paralelogramo: porque siendo la línea  $AB$  igual á la  $CD$ , y la  $BC$  comun, las dos  $AB$ ,  $BC$  son respectivamente iguales á las dos  $DC$ ,  $CB$ , y el ángulo  $ABC$  igual al  $BCD$ : luego el triángulo  $ABC$  será igual <sup>d</sup> al  $BCD$ . Por consiguiente la diagonal  $BC$  divide en dos partes iguales al paralelogramo  $ACDB$ . L. Q. D. D.

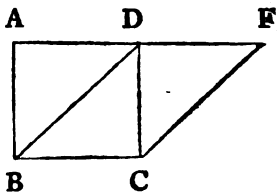
d 4. I.

PROP.

PROP. XXXV. TEOR.

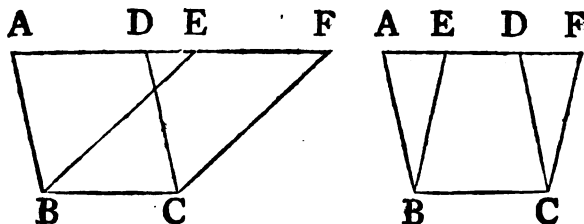
**L**OS paralelogramos, que tienen una misma base, y están en unas mismas paralelas, son iguales entre sí.

Sean los paralelogramos ABCD, EBCF, que tengan la misma base BC, y estén en las mismas paralelas AF, BC. Digo, que el paralelogramo ABCD será igual al EBCF.



Porque si los lados AD, DF opuestos á la base BC de los paralelogramos ABCD, EBCF se terminan en D, es manifiesto, que ambos paralelogramos son duplos del triángulo BDC <sup>a</sup>, y por consi- <sup>a</sup> 34. I. guiente entre sí iguales.

Pero supongamos, que los lados AD, EF opuestos á la base de los paralelogramos ABCD, EBCF no se terminan en un mismo punto: en tal caso, siendo ABCD un paralelogramo, la línea AD será igual á BC <sup>b</sup>, y por la misma razon la línea EF <sup>b</sup> 34. I.



será igual á BC: luego AD será tambien igual á EF <sup>c</sup>; y quitando, ó añadiendo la DE, resultará AE igual á DF <sup>d</sup>: asimismo <sup>c</sup> Axi. 1. <sup>d</sup> Axi. 2. la línea AB es igual á DC: siendo las dos EA, AB respecti- <sup>e</sup> y 3. vamente iguales á las dos FD, DC, y el ángulo FDC igual al EAB, el externo al interno <sup>e</sup>: será la base EB igual á la FC, y <sup>e</sup> 29. I. el triángulo EAB igual <sup>f</sup> al FDC: quítese el triángulo FDC del <sup>f</sup> 4. I. trapecio ABCE, y del mismo quítese el triángulo EAB, y resultará el paralelogramo ABCD igual al paralelogramo EBCF <sup>g</sup>. <sup>g</sup> Axi. 3. Por consiguiente los paralelogramos, &c. L. Q. D. D.

C

PROP.

PROP. XXXVI. TEOR.

**L**OS paralelogramos, que tienen bases iguales, y están en unas mismas paralelas, son iguales entre sí.

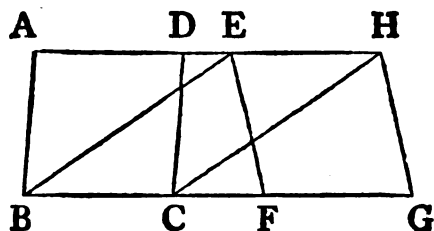
Sean los paralelogramos ABCD, EFGH, que tengan las bases BC, FG iguales, y estén en las mismas paralelas AH, BG. Digo, que el paralelogramo ABCD será igual al EFGH.

Tírense las líneas BE, CH:

a 34. I. por quanto BC es igual á FG, y FG á EH<sup>a</sup>, será tambien BC igual á EH; y son paralelas, y las juntan BE, CH: es así que las líneas, que juntan los extremos de líneas iguales, y paralelas, ácia la mis-

b 33. I. ma parte, son iguales, y paralelas<sup>b</sup>: luego tambien las líneas EB, CH son iguales, y paralelas: así EBCH es un paralelogramo

c 35. I. igual al ABCD<sup>c</sup>; por tener la misma base BC, y estar en las mismas paralelas BC, AH: por la misma razon el paralelogramo EBCH es igual al EFGH: luego ABCD es igual á EFGH. Por consiguiente los paralelogramos, &c. L. Q. D. D.

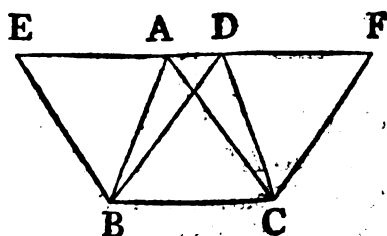


PROP. XXXVII. TEOR.

**L**OS triángulos, que tienen una misma base, y están en unas mismas paralelas, son iguales entre sí.

Sean los triángulos ABC, DBC, que tengan la misma base BC, y estén en las mismas paralelas AD, BC. Digo, que el triángulo ABC será igual al triángulo DBC.

Prolónguese por ambas partes la línea AD hasta los puntos E, F; y por B tírese la línea BE paralela á CA, y por C la CF<sup>a</sup> paralela á BD: y resultarán una y otra figura EBCA, DBCF paralelogramos;

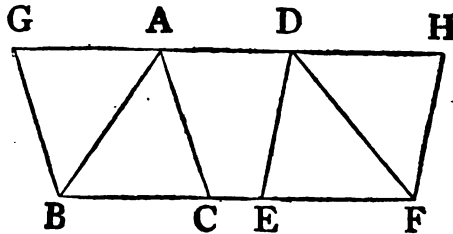


mos ; y el paralelogramo EBCA igual al DBCF <sup>b</sup>, porque tienen una misma base BC, y están en las mismas paralelas BC, EF; pero el triángulo <sup>c</sup> ABC es la mitad del paralelogramo EBCA, por dividirlo la diagonal AB en dos partes iguales ; tambien el triángulo DBC <sup>c</sup> es la mitad del paralelogramo DBCF, por dividirlo la diagonal DC en dos partes iguales : es así que las mitades de cantidades iguales son entre sí iguales <sup>e</sup> : luego el triángulo ABC es igual al triángulo DBC. Por consiguiente los triángulos, &c. L. Q. D. D. b 35. I.  
c 34. I.  
e Ax. 7.

PROP. XXXVIII. TEOR.

**L**OS triángulos, que tienen bases iguales, y están en unas mismas paralelas, son iguales entre sí.

Sean los triángulos ABC, DEF, que tengan las bases BC, EF iguales, y estén en las mismas paralelas BF, AD. Digo, que el triángulo ABC será igual al DEF.



Prolónguese la línea AD por ambas partes hasta los puntos G, H, y por B tírese BG paralela á CA, como asimismo por F FH <sup>a</sup> paralela á ED; resultarán ambas figuras GBCA, y DEFH <sup>a</sup> 31. I. paralelogramos ; el primero igual al segundo <sup>b</sup>, por estar sobre iguales bases BC, EF, y en las mismas paralelas BF, GH : es así que el triángulo ABC es la mitad del paralelogramo GBCA, pues la diagonal AB lo divide en dos partes iguales <sup>c</sup>, y el triángulo DEF es la mitad del paralelogramo DEFH, como que la diagonal DF lo divide en dos partes iguales : luego el triángulo ABC es igual al DEF. Por consiguiente los triángulos, &c. L. Q. D. D. b 36. I.  
c 34. I.

PROP. XXXIX. TEOR.

**L**OS triángulos iguales, que tienen una misma base, y sus vértices ácia una misma parte, están en unas mismas paralelas.

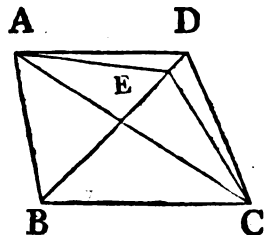
C 2

Sean

### 36 ELEMENTOS DE EUCLIDES.

Sean los triángulos iguales  $ABC, DBC$ , que tengan la misma base  $BC$ , y los vértices  $A, D$  ácia la misma parte. Digo, que estarán en unas mismas paralelas.

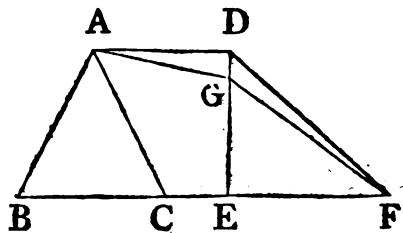
Júntense los vértices por la recta  $AD$ , y será esta paralela á  $BC$ : si no lo fuese, sea la recta  $AE$  tirada por el punto  $A$  <sup>a</sup> paralela á  $BC$ , y tírese la linea  $EC$ : resultará el triángulo  $ABC$  igual al  $EBC$  <sup>b</sup>, por estar sobre la misma base  $BC$ , y en las mismas paralelas  $BC, AE$ : es así que el triángulo  $ABC$  es igual al  $DBC$ : luego tambien el  $DBC$  será igual al  $EBC$ , el mayor al menor, lo qual es imposible: consiguientemente  $AE$  no es paralela á  $BC$ : semejantemente demostraremos, que ninguna otra linea es paralela, sino  $AD$ : luego esta es paralela á  $BC$ . Por consiguiente los triángulos, &c. L. Q. D. D.



### PROP. XL. TEOR.

**L**OS triángulos iguales, que tienen las bases iguales, y directamente, ó en linea recta, y sus vértices ácia una misma parte, están en unas mismas paralelas.

Tengan los triángulos iguales  $ABC, DEF$  las bases iguales  $BC, EF$ , y los vértices ácia una misma parte. Digo, que estarán en unas mismas paralelas; esto es, tirada la linea  $AD$ , será paralela á  $BF$ ; y si no, sea  $AG$  <sup>a</sup> la paralela á  $BF$  tirada por el punto  $A$ : júntense los puntos  $G, F$ ; y resultará el triángulo  $ABC$  igual <sup>b</sup> al  $GEF$ , porque tienen las bases iguales  $BC, EF$ , y están en unas mismas paralelas  $BF, AG$ : es así que el triángulo  $ABC$  es igual al  $DEF$ : luego tambien el  $DEF$  será igual al  $GEF$ , el mayor al menor, lo qual es absurdo: luego  $AG$  no es paralela á  $BF$ : semejantemente se demostrará, que ninguna otra linea, fuera de  $AD$





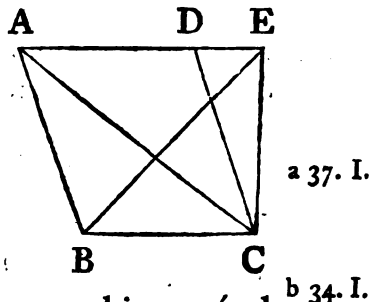
AD es paralela : luego esta es paralela á BF. Por consiguiente los triángulos , &c. L. Q. D. D.

PROP. XLI. TEOR.

SI un paralelogramo , y un triángulo tienen una misma base , y están en unas mismas paralelas ; el paralelogramo será duplo del triángulo.

Tengan el paralelogramo ABCD , y el triángulo EBC , la misma base BC , y estén en unas mismas paralelas BC , AE. Digo , que el paralelogramo ABCD será duplo del triángulo EBC.

Porque tirada la diagonal AC , resultará el triángulo ABC igual <sup>a</sup> al EBC , por estar sobre la misma base BC , y en las mismas paralelas BC , AE : es así que el paralelogramo ABCD es duplo del triángulo ABC <sup>b</sup> , pues la diagonal AC lo divide por medio : luego tambien será el mismo paralelogramo duplo el triángulo EBC. Por consiguiente si un , &c. L. Q. D. D.

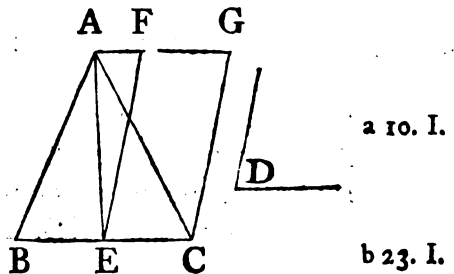


PROP. XLII. PROBL.

CONSTRUIR un paralelogramo igual á un triángulo dado , y que tenga un ángulo igual á un ángulo rectilíneo dado.

Sea el triángulo dado ABC , y el ángulo rectilíneo dado D ; y háyase de construir un paralelogramo igual al triángulo dado ABC , que tenga un ángulo igual al D.

Divídase por medio <sup>a</sup> la línea BC en el punto E ; tírese AE , y en el punto E de la recta EC constrúyase el ángulo CEF igual al D . <sup>b</sup> : asimismo por el punto A tírese la línea AG paralela

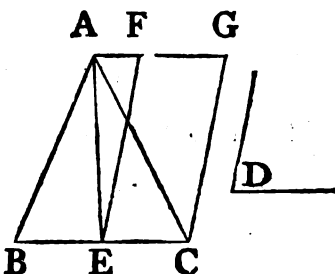


C 3 á

### 38 ELEMENTOS DE EUCLIDES.

c 31. I. á EC, y por C la CG <sup>c</sup> paralela á EF: resultará FECG el paralelogramo que se pide: porque siendo la linea BE igual á EC, será el

d 38. I. triángulo ABE igual <sup>d</sup> al AEC, por estar sobre las bases iguales BE, EC, y en las mismas paralelas BC, AG: luego el triángulo ABC es duplo del AEC: es así que tambien el paralelogramo

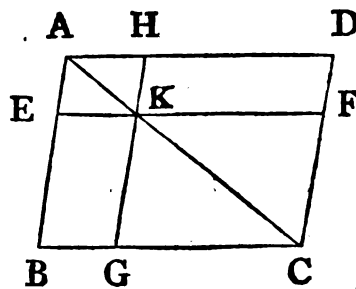


e 41. I. FECG es duplo del triángulo AEC <sup>e</sup>, por tener una misma base, y estar en unas mismas paralelas: resulta, pues, el paralelogramo FECG igual al triángulo ABC, y con el ángulo CEF igual al dado D. L. Q. D. H.

### PROP. XLIII. TEOR.

**L**OS complementos de los paralelogramos, que están baxo de la diagonal de un paralelogramo, son iguales entre sí.

Sea el paralelogramo ABCD, y su diagonal AC, baxo de la qual están los paralelogramos EH, FG, y son sus complementos BK, KD. Digo, que el complemento BK será igual al KD.



Porque siendo ABCD un paralelogramo, y AC su diagonal, es el triángulo ABC igual al ADC <sup>a</sup>: además, siendo EKHA un paralelogramo, y su diagonal AK, es tambien el triángulo

a 34. I. AEK igual <sup>b</sup> al AHK: asimismo el triángulo KGC será igual al KFC: pero siendo el triángulo AEK igual al AHK, y el KGC al KFC, resulta el triángulo AEK junto con el KGC igual al AHK junto con el KFC: es así que el triángulo ABC es igual al ADC: luego el complemento restante BK será igual al complemento restante KD. Por consiguiente los complementos, &c. L. Q. D. D.

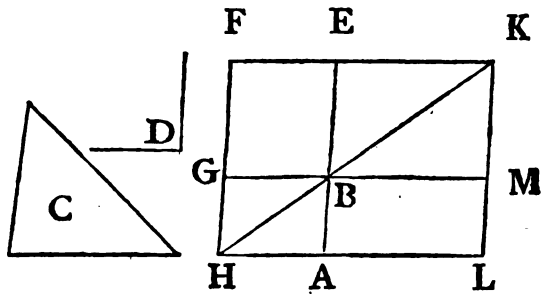
PROP.

PROP. XLIV. PROBL.

**S**OBRE una recta dada construir un paralelogramo igual á un triángulo dado, y que tenga un ángulo igual á un ángulo rectilíneo dado.

Sea la recta dada AB, el triángulo dado C, y el ángulo rectilíneo dado D; y háyase de construir sobre dicha recta con un ángulo igual al D un paralelogramo igual al triángulo C.

Prolónguese AB hasta E, y sobre B constrúyase el paralelogramo BEFG igual al triángulo C, que tenga el ángulo EBG igual al D <sup>a</sup>: prolónguese FG hasta el punto H, tirando por A, AH <sup>b</sup> paralela á una de las dos BG, EF; y últimamente tírese la línea HB.



<sup>a</sup> 42. I.  
<sup>b</sup> 31. I.

Cayendo, pues, la recta HF sobre las paralelas AH, EF, los ángulos AHF, HFE serán iguales á dos rectos <sup>c</sup>: por consecuencia los BHF, <sup>c</sup> 29. I. HFE menores que dos rectos: es así que prolongadas indefinidamente las líneas, que con una recta forman los ángulos internos ácia una misma parte menores que dos rectos, se encontrarán <sup>d</sup>: <sup>d</sup> Ax. 12. luego las líneas HB, FE se encontrarán. Prolónguese, hasta que se encuentren en K; por este punto tirada KL paralela á una de las dos EA, FH, y las AH, GB prolongadas hasta los puntos L, M, resultará, que la figura HLKF es un paralelogramo, cuya diagonal es HK, baxo de la qual están los paralelogramos AG, ME; y que LB, BF son sus complementos; siendo por consecuencia el primero igual <sup>e</sup> al segundo: pero se ha construido BF igual al triángulo C: luego LB será igual á C: y siendo el ángulo GBE igual al ABM <sup>f</sup>, y al D, tambien será <sup>f</sup> 15. I. el ABM igual al D. Por consiguiente sobre la recta dada AB quedará construido, &c. L. Q. D. H.

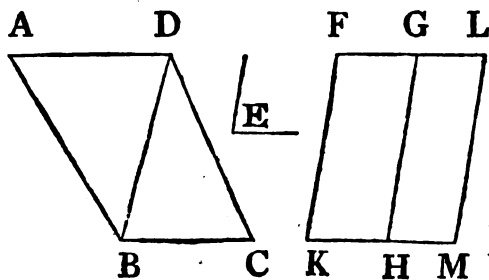
<sup>e</sup> 43. I.  
<sup>f</sup> 15. I.

PROP. XLV. PROBL.

**C**ONSTRUIR un paralelogramo igual á una figura rectilínea dada, y que tenga un ángulo igual á un ángulo rectilíneo dado.

Sea la figura rectilínea dada un cuadrilátero, por exemplo ABCD, y E el ángulo rectilíneo dado: y háyase de construir un paralelogramo igual á la figura dada, que tenga un ángulo igual al E.

- a 42. I. Tírese la línea DB; constrúyase un paralelogramo FH <sup>a</sup> igual al triángulo ADB con el ángulo HKF igual al E; y sobre la recta GH describese el paralelogramo GM igual al triángulo DBE con el ángulo GHM igual al E <sup>b</sup>: por quanto el ángulo E es igual á FKH, y á GHM, tambien el FKH será igual al GHM: añádase á ambos el ángulo KHG, y resultarán los FKH, KHG iguales á los KHG, GHM: es así que los dos ángulos FKH, KHG son iguales á dos rectos <sup>c</sup>: luego tambien serán iguales á dos rectos los KHG, GHM: formando, pues, las dos rectas KH, HM, tiradas del punto H de la recta GH con esta ángulos iguales á dos rectos, las líneas KH, HM <sup>d</sup> estarán directamente: asimismo cayendo la recta GH sobre las paralelas KM, FG, los ángulos alternos MHG, HGF son iguales <sup>e</sup>: añádase pues el ángulo HGL, y resultarán los ángulos MHG, HGL iguales á los HGF, HGL: es así que los ángulos MHG, HGL son iguales á dos rectos <sup>f</sup>: por consiguiénte los HGF, HGL serán iguales á dos rectos: luego la línea FG forma con la GL una recta: y siendo KF paralela á HG, y esta á ML, resulta <sup>g</sup> asimismo KF paralela á ML; pero lo es tambien KM á FL: luego la figura KFLM es un paralelogramo: y siendo el triángulo ABD igual al paralelogramo HF, y el triángulo DBC al paralelogramo GM, será la figura rectilínea ABCD igual al pa-



paralelogramo KFLM. Por consiguiente queda construido &c.  
L. Q. D. H.

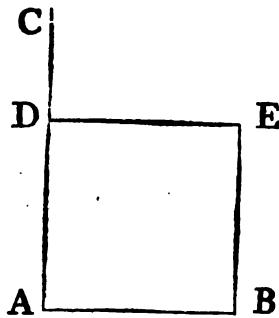
COR. De lo dicho hasta aquí se infiere claramente el modo de aplicar á una recta dada un paralelogramo igual á una figura rectilínea dada, que tenga un ángulo igual á un ángulo rectilíneo dado; conviene á saber, dividiendo la figura rectilínea dada en triángulos, y aplicando á la recta <sup>h</sup> un paralelogramo igual al triángulo primero ABD con un ángulo igual al otro dado, &c. <sup>h 44. I.</sup>

## PROP. XLVI. PROBL.

**S**OBRE una recta dada describir un quadrado.

Sea AB la recta dada, y háyase de describir sobre ella un quadrado.

Elévase en el punto A una perpendicular AC <sup>a</sup> á la recta AB, <sup>a 11. I.</sup>  
tómese una parte AD <sup>b</sup> igual á AB, y por el punto D tírese DE <sup>b 3. I.</sup>  
paralela á AB, como tambien por el punto B <sup>c</sup> BE paralela á <sup>c 31. I.</sup>  
AD: resultará el paralelogramo ADEB:  
por consiguiente la línea AB será igual á  
la DE <sup>d</sup>, y AD á BE: es así que BA  
es igual á AD: luego las quatro líneas  
BA, AD, DE, EB son entre sí iguales;  
y por tanto equilátero el paralelogramo  
ADEB. Añado, que tambien es rectán-  
gulo; porque cayendo la recta AD sobre  
las paralelas AB, DE, los ángulos BAD,  
ADE son iguales á dos rectos: es así que  
el ángulo BAD es recto: luego tambien lo será el ADE: pero los  
lados, y ángulos opuestos de los paralelogramos son entre sí igua-  
les: luego ambos ángulos ABE, BED son rectos: por consi- <sup>e 34. I.</sup>  
guiente ADEB es rectángulo: y ya antes se demostró, que era  
equilátero: luego es quadrado, y descrito sobre una recta  
dada. L. Q. D. H.



COR. Todo paralelogramo, que tiene un ángulo recto, es rectángulo.

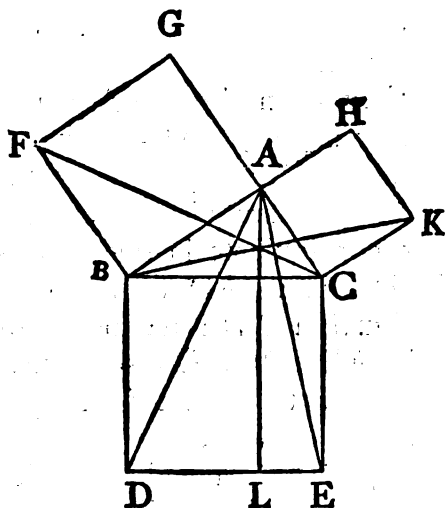
PROP.

42 ELEMENTOS DE EUCLIDES.  
 PROP. XLVII. TEOR.

**E**N todo triángulo rectángulo el cuadrado descrito sobre el lado opuesto al ángulo recto \* es igual á los descritos sobre los otros dos lados.

Sea el triángulo rectángulo ABC, y tenga el ángulo BAC recto. Digo, que el cuadrado, que tiene por lado BC, será igual á los cuadrados, que tienen por lados BA, AC.

- a 46. I. Describáse sobre el lado BC el cuadrado <sup>a</sup> BDEC, y sobre los  
 b 31. I. lados BA, AC los cuadrados GB, HC: por el punto A tírese <sup>b</sup> AL  
 paralela á una de las dos BD, CE: y tírense las líneas AD, FC:  
 siendo, pues, los dos ángulos BAC,  
 c Def.30. BAG rectos <sup>c</sup>, y saliendo las dos  
 rectas AC, AG del punto A de la  
 recta BA, formarán los dos án-  
 gulos á una, y otra parte iguales  
 á dos rectos: luego las líneas CA,  
 d 14. I. AG estarán directamente <sup>d</sup>; y  
 siendo el ángulo DBC igual al  
 FBA, por ser ambos rectos; aña-  
 diendo á ambos el ángulo ABC,  
 e Axi.2. resultará <sup>e</sup> el ángulo DBA igual  
 al FBC; siendo pues los dos  
 lados AB, BD iguales respectiva-  
 mente á los dos FB, BC, y el án-  
 gulo DBA igual al FBC, también  
 f 4. I. la base AD será igual á la FC, y el triángulo ABD <sup>f</sup> al FBC: pero  
 g 41. I. el paralelogramo BL es duplo del triángulo <sup>g</sup> ABD, por ten-  
 er la misma base BD, y estar en las mismas paralelas BD, AL:  
 y el cuadrado GB es duplo del triángulo FBC, porque tienen  
 la misma base FB, y están en las mismas paralelas FB, GC: ahora,  
 h Axi. 6. pues, las cantidades duplas de otra son iguales entre sí <sup>h</sup>: luego  
 el



\* N. T. No llamamos hipotenusa al lado opuesto al ángulo recto del triángulo rectángulo, como suelen los Geómetras modernos, por no hallarse tal voz en Euclides, ni ser necesaria para la completa inteligencia de las propiedades de dicho triángulo.

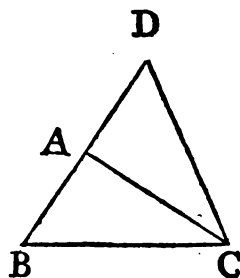
el paralelogramo BL será igual al quadrado GB: semejantemente tiradas las líneas AE, BK, se demostrará la igualdad del paralelogramo CL al quadrado HC: luego el quadrado BDEC será igual á los dos quadrados GB, HC: pero se ha descrito sobre el lado BC; y los GB, HC sobre los lados BA, AC: luego el quadrado BE descrito sobre el lado BC es igual á los descritos sobre los BA, AC. Por consiguiente en todo &c. L. Q. D. D.

PROP. XLVIII. TEOR.

**S**I el quadrado descrito sobre uno de los lados de un triángulo es igual á los descritos sobre los otros dos lados; el ángulo comprehendido por estos será recto.

Sea igual el quadrado descrito sobre el un lado BC del triángulo ABC á los quadrados descritos sobre los otros dos lados BA, AC. Digo, que el ángulo BAC será recto.

Tírese <sup>a</sup> del punto A la línea AD perpendicular á AC, tómese AD igual á BA, y júntense los puntos D, y C: siendo, pues, la línea DA igual á la AB, resultará el quadrado descrito sobre DA igual al descrito sobre AB: y añadiendo á ambos el quadrado descrito sobre AC, resultarán los quadrados descritos sobre DA, AC iguales á los descritos sobre BA, AC: pero el quadrado descrito sobre DC <sup>b</sup> es igual á los quadrados sobre DA, AC; pues el ángulo DAC es recto: asimismo el quadrado de BC es igual á los de BA, AC: luego el quadrado descrito sobre DC será igual al descrito sobre BC: luego el lado DC será igual al CB: y por quanto la línea DA es igual á la AB, y la AC comun, las dos DA, AC son iguales á las dos BA, AC; y la base DC igual á la base BC: el ángulo, pues, DAC será igual <sup>c</sup> al BAC: es así que DAC es recto: luego tambien BAC. c 8. I. Por consiguiente, si el quadrado &c. L. Q. D. D.



b 47. I.

ELE-

# ELEMENTOS DE EUCLIDES.

## LIBRO SEGUNDO.

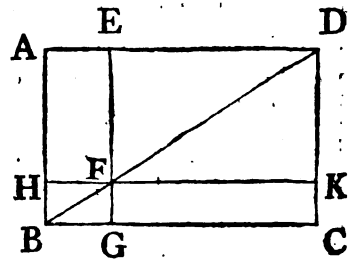
### DEFINICIONES.

I.

**T**ODO paralelogramo rectángulo se dice estar contenido por las dos rectas, que comprehenden el ángulo recto.

II.

En todo paralelogramo el espacio comprendido por cada uno de los paralelogramos, que están baxo de la diagonal, junto con los dos complementos se llama Gnomon. "Así la figura, que forman el paralelogramo HG, y los complementos AF, FC es un gnomon, que para mayor brevedad se expresa con las letras AGK, ó EHC, de los ángulos opuestos de los paralelogramos, que componen el gnomon."



### PROP. I. TEOR.

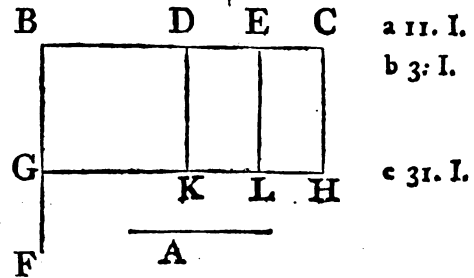
**S**I de dos rectas la una se divide en qualquier número de partes iguales; el rectángulo comprendido por las dos será igual á los rectángulos contenidos por la entera, y por los segmentos de la otra.

Sean las dos rectas A, BC, y esté BC dividida en qualquier nú-



número de partes en los puntos D, E. Digo, que el rectángulo contenido por las rectas A, BC será igual al contenido por las A, y BD; A, y DE; A, y EC.

Elévase en el punto B la línea BF <sup>a</sup> perpendicular á BC, y córtese BG <sup>b</sup> igual á A; y por el punto G tírese GH paralela á BC, y por los D, E, C las DK, EL, CH paralelas á BG <sup>c</sup>: resultará el rectángulo BH igual á los BK, DL, EH; es así que el rectángulo BH está contenido por las rectas A, BC; pues lo está por las GB, BC; y BG es igual á A: y las DK, EL son iguales á BG <sup>d</sup>, y por consiguiente á A: luego los rectángulos BK, DL, EH estarán comprendidos por las A, y BD; A, y DE; A, y EC. Por consiguiente si de dos, &c. L. Q. D. D.



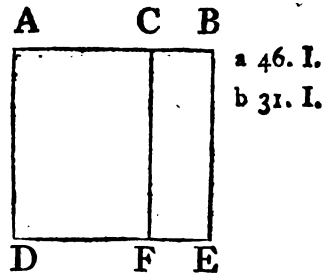
a 11. I.  
b 3. I.  
c 31. I.  
d 34. I.

PROP. II. TEOR.

SI una recta se divide en qualquier punto; los rectángulos contenidos por toda ella; y por cada uno de sus segmentos serán iguales al quadrado de la recta.

Divídase la recta AB en qualquier punto C. Digo, que el rectángulo contenido por AB, BC junto con el contenido por AB, AC será igual al quadrado de AB.

Descríbase sobre AB el quadrado ADEB <sup>a</sup>, y por el punto C tírese CF <sup>b</sup> paralela á una de las dos AD, BE: resultará el quadrado AE igual á los rectángulos AF, CE: es así que AE es el quadrado de AB; y AF el rectángulo contenido por las BA, AC, por ser CF igual á AD, por consiguiente á AB; y es CE el rectángulo contenido por AB, CE, por ser BE igual á AB: luego el rectángulo contenido por AB, AC junto con el contenido por AB, BC será igual al quadrado de AB. Por consiguiente si una recta, &c. L. Q. D. D.



PROP.

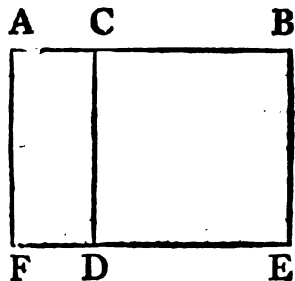
## PROP. III. TEOR.

**S**I una recta se divide en un punto cualquiera ; el rectángulo contenido por toda ella , y por uno de sus segmentos será igual al cuadrado de este segmento , y al rectángulo contenido por ambos segmentos.

Divídase la recta AB en cualquier punto C. Digo , que el rectángulo contenido por AB , BC será igual á el contenido por AC , CB , junto con el cuadrado de BC.

a 46. I. Describáse sobre BC el cuadrado CDEB <sup>a</sup> , prolónguese ED

b 31. I. hasta el punto F , y por A tírese AF <sup>b</sup> , paralela á una de las dos CD , BE ; resultará el rectángulo AE igual á los AD , CE : pero el rectángulo AE está contenido por las líneas AB , BC , por ser BE igual á BC : asimismo el rectángulo AD está contenido por las líneas AC , CB , por ser también CD igual á CB : y es DB el cuadrado de BC : luego el rectángulo contenido por AB , BC será igual al contenido por AC , CB , junto con el cuadrado de BC. Por consiguiente si una , &c. L. Q. D. D.



## PROP. IV. TEOR.

**S**I se divide una recta en cualquier punto ; el cuadrado de toda la recta será igual á los cuadrados de sus partes , y al duplo del rectángulo contenido por ellas.

Divídase la recta AB en cualquier punto C. Digo , que el cuadrado de AB será igual á los cuadrados de AC , CB , y al duplo del rectángulo contenido por los mismos segmentos AC , CB.

a 46. I. Describáse sobre AB el cuadrado ADEB <sup>a</sup> , tírese la diagonal BD , y por el punto C la CGF <sup>b</sup> paralela á una de las dos AD , BE , como también por el punto G la HK paralela á una de

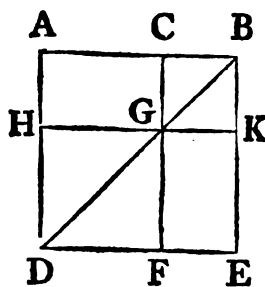
de las dos  $AB, DE$ : siendo  $CF$  paralela á  $AD$ , y cayendo sobre ellas  $BD$ , resultará el ángulo externo  $BGC$  igual al interno opuesto  $ADB$ <sup>d</sup>: es así que el ángulo  $ADB$  es igual al  $ABD$ <sup>e</sup>, por ser el lado  $BA$  igual al  $AD$ : por consecuencia el ángulo  $CGB$  será igual al  $GBC$ , y por tanto el lado  $BC$  igual <sup>f</sup> al  $CG$ : pero el lado  $CB$  es igual al lado  $GK$ , y el  $CG$  al  $BK$  <sup>g</sup>: luego el  $GK$  será igual al  $KB$ : luego la figura  $CGKB$  será equilátera: además, es rectángula, porque siendo la línea  $CG$  paralela á  $BK$ , y cayendo sobre ellas  $CB$ , los dos ángulos  $KBC, GCB$  serán iguales á dos rectos: es así que el primero es recto: luego tambien el segundo: consiguientemente los ángulos  $CGK, GKB$  opuestos á ellos serán rectos <sup>g</sup>: luego la figura  $CGKB$  será rectángula: y yá antes se ha demostrado ser equilátera: luego será el cuadrado de  $CB$ : asimismo se demuestra, que la figura  $HF$  es un cuadrado descrito sobre la línea  $HG$  igual á  $AC$ : luego  $HF, CK$  son cuadrados de  $AC, CB$ : y siendo el rectángulo  $GE$  igual al  $AG$ , y hallándose el  $AG$  contenido por los lados  $AC$ , y  $AH$ , igual á  $CG$ , igual á  $CB$ ; así el rectángulo  $AG$ , como el rectángulo  $GE$ , estarán contenidos por los segmentos  $AC, CB$ , y los dos juntos serán iguales al duplo del rectángulo contenido por  $AC$ , y  $CB$ : pero el cuadrado  $AE$  de  $AB$  se compone de los cuadrados  $CK, HF$ , y de los rectángulos  $AG, GE$ . Por consiguiente si se divide, &c. L. Q. D. D.

**COR.** Es evidente, que en los cuadrados los paralelogramos, que están baxo de la diagonal, son tambien cuadrados.

## PROP. V. TEOR.

**S**I una recta se divide en dos partes iguales, y en dos desiguales; el rectángulo contenido por las desiguales junto con el cuadrado de la recta que se halla entre las dos secciones, será igual al cuadrado de la mitad.

Divídase qualquiera recta  $AB$  en dos partes iguales  $AC, CB$ ,  
y



d 29. I.

e 5. I.

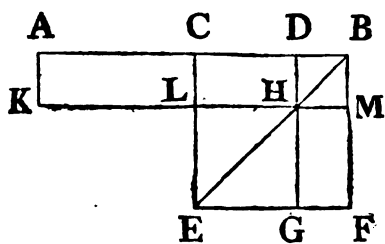
f 6. I.

g 34. I.

48 ELEMENTOS DE EUCLIDES.

y en dos desiguales AD, DB. Digo, que el rectángulo contenido por AD, DB junto con el quadrado de CD será igual al quadrado de CB.

Describese sobre BC el quadrado <sup>a</sup> CEFB: tírese la diagonal BE, y por el punto D la DHG <sup>b</sup> paralela á una de las dos CE, BF: como tambien por el punto H la KLM paralela á una de las dos CB, EF, y por A la AK paralela á una de las dos CL, BM. Por ser el complemento CH igual al HF <sup>c</sup>, añadiendo á ambos el paralelogramo DM resultará el CM igual al DF: pero CM es igual á AL <sup>d</sup>, pues AC lo es á CB: luego tambien AL será igual á DF: añádase el complemento CH, y resultará AH igual á los dos rectángulos DF, CH: es así que AH está contenido por las líneas AD, DB, pues DH es igual á DB <sup>e</sup>; y DF, CH es el gnomon CMG: luego este será igual al rectángulo contenido por AD, DB: añadiendo LG, que es igual <sup>f</sup> al quadrado de CD, resultarán iguales el gnomon CMG, y LG al rectángulo de AD, DB, y al quadrado de CD: es así que el gnomon CMG, y LG son el quadrado CEFB de la línea CB: luego el rectángulo contenido por AD, DB junto con el quadrado de CD será igual al quadrado de CB. Por consiguiente si una recta se divide, &c. L. Q. D. D.



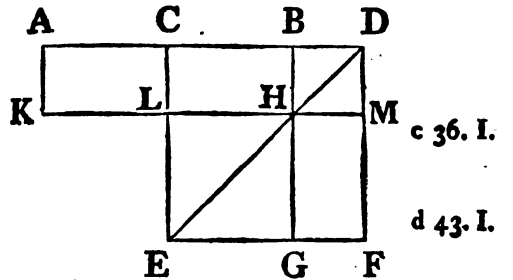
PROP. VI. TEOR.

**S**I una recta se divide en dos partes qualesquiera; el rectángulo comprehendido por toda la recta, y por la una parte, junto con el quadrado de la mitad de la otra parte, será igual al quadrado de esta mitad, y de la otra parte tomadas juntamente.

Divídase qualquiera recta AD en dos partes qualesquiera BA, BD, y la parte AB en dos partes iguales en C. Digo, que el rectángulo comprehendido por AD, DB junto con el quadrado de CB será igual al quadrado de CD.

Des-

Describáse sobre CD el cuadrado <sup>a</sup> CEFD, tírese DE, y por <sup>a</sup> 46. I. el punto B la <sup>b</sup> BHG paralela á una de las dos CE, DF : asi- <sup>b</sup> 31. I. mismo por H tírese KLM paralela á una de las dos AD, EF, y por A la AK paralela á una de las dos CL, DM. Siendo AC igual á CB, también el rectángulo <sup>c</sup> AL será igual al rectángulo CH: es así que el CH es igual al HF <sup>d</sup> : luego también será AL igual á HF : añádase el rectángulo CM, y resultará el AM igual al gnomon CMG ; pero AM está contenido por las rectas AD, DB, por ser DM igual á DB <sup>e</sup> : luego también el gnomon CMG será igual al rectángulo contenido por las rectas AD, DB : añádase LG, que es igual al cuadrado de CB, y resultará el rectángulo contenido por AD, DB junto con el cuadrado de CB igual al gnomon CMG, y á LG : es así que estos componen el cuadrado CEFD de CD. Por consiguiente si una recta, &c. L. Q. D. D.

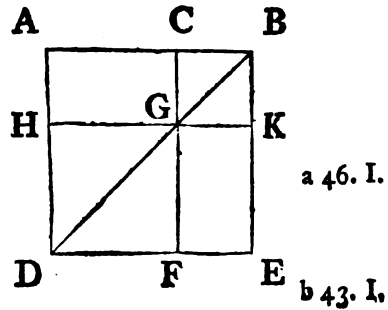


PROP. VII. TEOR.

SI una recta se divide en dos partes cualesquiera ; el cuadrado de toda la recta, junto con el cuadrado de la una parte será igual al duplo del rectángulo de toda la linea, y de esta parte , y al cuadrado de la otra parte.

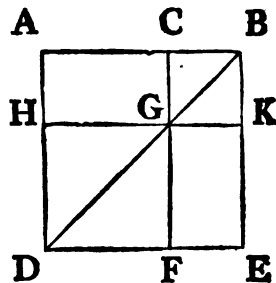
Divídase en dos partes cualesquiera la recta AB en el punto C. Digo , que los cuadrados de las lineas AB, BC serán iguales al duplo del rectángulo contenido por las mismas lineas, y al cuadrado de AC.

Describáse sobre la recta AB el cuadrado ADEB <sup>a</sup>, tírese la diagonal BD, y por C la CF paralela á AD, ó á BE ; y por G la HGK paralela á AB, ó á DE. Siendo el rectángulo AG igual al GE <sup>b</sup>, añadiendo el



Cor. 4.  
II.

quadrado CK, resultará AK igual á CE : luego los rectángulos AK, CE serán el duplo del AK : pero los AK, CE son el gnomon AKF, y el quadrado CK : luego serán el duplo del rectángulo AK : pero el duplo del contenido por las líneas AB, BC, esto es el duplo del rectángulo AK, es igual á los dos AK, CE : por ser la línea BK igual á la BC : luego el gnomon AKF, y el quadrado CK serán iguales al duplo del rectángulo contenido por AB, BC : añadiendo pues el rectángulo HF, que es igual al quadrado de la línea AC, resultarán el gnomon AKF, y los quadrados CK, HF iguales al duplo del rectángulo contenido por las líneas AB, BC, y al quadrado de AC : es así que el gnomon AKF, y los quadrados CK, HF componen el quadrado ADEB, y el CK, que son los quadrados de AB, BC : luego los quadrados AB, BC serán iguales al duplo del rectángulo contenido por ellas mismas junto con el quadrado de AC. Por consiguiente si una &c. L. Q. D. D.



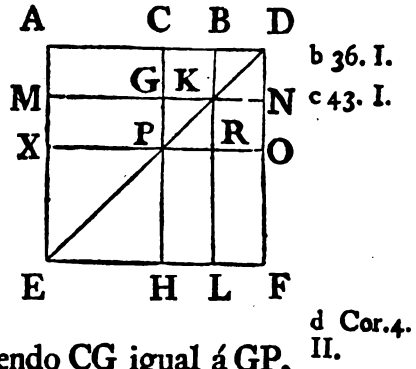
PROP. VIII. TEOR.

SI una recta se divide en dos partes cualesquiera ; el quádruplo del rectángulo contenido por toda la recta, y la una parte junto con el quadrado de la otra parte será igual al quadrado de toda la línea, y de la primera parte tomadas juntamente.

Divídase la recta AB en dos partes en qualquier punto C. Digo, que el quádruplo del rectángulo contenido por las rectas AB, BC junto con el quadrado de AC será igual al quadrado de AB, BC tomadas juntamente.

Prolónguese AB, hasta D, tomando BD igual á CB: descríbese sobre AD el quadrado Aefd: tírese la diagonal DE ; y por C, y B las CH, BL paralelas á AE, ó á DF: y por K, y P las MN, XO paralelas á la AD, ó FE. Siendo, pues, la recta CB igual á BD,

BD, tambien lo será GK <sup>a</sup>; y siendo BD igual á KN, será <sup>a</sup> 34. I. tambien igual á esta última la GK: asimismo PR es igual á RO: y siendo CB igual á BD, y GK á KN, resultará el rectángulo CK igual al BN, y el GR al RN <sup>b</sup>: es así que el CK es igual al RN <sup>c</sup>, por ser complementos del paralelogramo CO: luego tambien el BN será igual al GR: luego los quatro BN, CK, GR, RN serán iguales entre sí, y por consiguiente juntos compondrán el quádruplo del CK: ademas de esto, siendo CB igual á BD, y BD á BK <sup>d</sup>, esto es á CG, y CB igual á GK, esto es á GP <sup>d</sup>, tambien CG será igual á GP: y siendo CG igual á GP, y PR á RO, tambien será igual el rectángulo AG al MP, y el PL al RF: es así que el MP es igual <sup>e</sup> al PL, como complementos que son del paralelogramo ML: por consiguiente el AG será igual al RF: luego los quatro AG, MP, PL, RF serán entre sí iguales, y por consiguiente serán el quádruplo del AG: pero ya se ha demostrado, que los quatro CK, BN, GR, RN son el quádruplo del CK: luego los ocho, que contienen el gnomon AOH, serán el quádruplo del AK: es así que este rectángulo se halla contenido por las líneas AB, BC, por ser BK igual á BC: luego el gnomon AOH será quádruplo del rectángulo contenido por AB, BC: y añadiendo el quadrado XH, que es igual al quadrado de AC <sup>f</sup>, resultará el <sup>f</sup> 4. II. quádruplo del rectángulo contenido por AB, BC junto con el quadrado de AC igual al gnomon AOH, y al quadrado XH: pero estos últimos componen el quadrado AEFD de AD. Por consiguiente si una recta, &c. L. Q. D. D.



PROP. IX. TEOR.

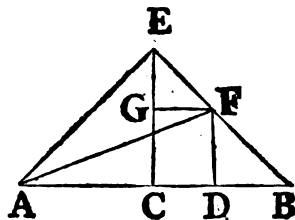
SI una recta se divide en dos partes iguales, y en dos desiguales; los quadrados de las desiguales serán el duplo de los quadrados de la mitad de la linea, y del segmento intermedio.

Divídase la recta AB en dos partes iguales en el punto C, y en D <sub>2</sub>

## 52 ELEMENTOS DE EUCLIDES.

en dos desiguales en D. Digo, que los quadrados de AD, DB serán el duplo de los quadrados de AC, CD.

- a 11. I. Tírese del punto C la CE <sup>a</sup> perpendicular á AB; y tómese CE igual á AC, ó á CB: júntense los puntos
- b 31. I. E, A, y E, B; y por D <sup>b</sup> tírese DF paralela á CE, y por F <sup>b</sup> FG paralela á AB: júntense A, y F por la AF. Siendo, pues, la línea AC igual á CE, tambien lo será el
- c 5. I. ángulo EAC <sup>c</sup> al AEC, y siendo recto el ángulo en C, los demas AEC, EAC juntos
- d 32. I. serán iguales <sup>d</sup> á un recto: pero tambien son iguales entre sí: luego uno, y otro de los ángulos AEC, EAC será la mitad de un recto: por la misma razon cada uno de los ángulos CEB, EBC será la mitad de un recto: luego el ángulo AEB será recto: y siendo el GEF la mitad de un recto, y el EGF recto, por igual al inter-
- e 29. I. no opuesto EBC <sup>e</sup>, será el EFG la mitad de un recto: luego el
- f 6. I. GEF será igual al EFG: por cuya razon el lado EG será igual al <sup>f</sup> GF. Ademas de esto, siendo el ángulo en B la mitad de un recto, y el FDB recto, por ser igual al interno opuesto ECB <sup>g</sup>, será el
- g 29. I. BFD la mitad de un recto: luego el ángulo en B será igual al BFD, y consiguientemente el lado DF igual al DB: ahora, pues, siendo la recta AC igual á la CE, el quadrado de la primera será igual al de la segunda: luego los quadrados de AC, CE juntos serán el
- h 47. I. duplo del de AC: es así, que el quadrado de EA <sup>h</sup> es igual á los de AC, CE, por ser recto el ángulo AEC: luego el quadrado de EA será duplo del quadrado de AC. Ademas, siendo la línea EG igual á la GF, tambien el quadrado de aquella será igual al quadrado de esta: luego los quadrados de EG, GF serán el duplo del de GF: pero el quadrado de EF es igual á los de EG, FG: luego el quadrado de EF será duplo del de GF: pero
- i 34. I. la línea GF es igual <sup>i</sup> á la CD: luego el quadrado de EF será duplo del de CD: tambien el quadrado de AE es duplo del de AC: luego los quadrados de AE, EF serán el duplo de los de AC, CD: el quadrado <sup>j</sup> de AF es igual á los de AE, EF, por ser recto el ángulo AEF: luego el de AF será duplo de los de AC, CD: pero los de AD, DF son iguales al de AF, por ser recto el ángulo en D: luego los quadrados de AD, DF serán duplos de los de





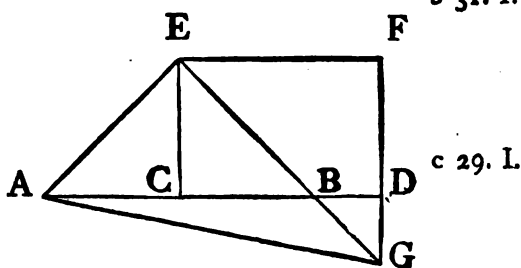
de AC, CD: es así que la línea DF es igual á la DB: luego los quadrados de AD, DB serán el duplo de los de AC, CD. Por consiguiente si una recta &c. L. Q. D. D.

PROP. X. TEOR.

**S**I una recta se divide en dos partes cualesquiera ; los quadrados de toda ella , y de la una parte serán el duplo del quadrado de esta parte , y de la mitad de la otra tomadas juntamente , y del quadrado de dicha mitad.

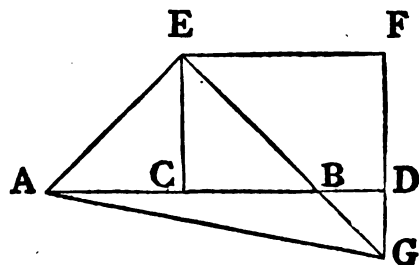
Divídase la recta AD en qualquier punto B en dos partes , y la una parte AB divídase en dos partes iguales CA , CB. Digo , que los quadrados de AD, DB serán el duplo de los de AC, CD.

Tírese del punto C la CE <sup>a</sup> perpendicular á AB, y tómese CE <sup>a</sup> 11. I. igual á CA, ó á CB: tírense AE, EB, y por el punto E la EF paralela á AB: tambien por D la DF <sup>b</sup> paralela á CE. Cayendo la recta EF sobre las paralelas EC, FD, los ángulos CEF, EFD serán iguales á dos rectos <sup>c</sup>: luego los ángulos BEF, EFD serán menores que dos rectos : es así que las rectas, que con otra forman ángulos menores que dos rectos , prolongadas indefinidamente llegan á encontrarse <sup>d</sup>: luego las rectas EB, FD pro- <sup>d</sup> Axi. 12. longadas ácia BD se encontrarán: prolónguense, y encuéntrense en el punto G, y tírese AG: resultará el ángulo CEA igual <sup>e</sup> al <sup>e</sup> 5. I. EAC, por ser AC igual á CE, asimismo el ángulo en C es recto: luego CEA, y EAC serán cada uno la mitad de un recto: por la misma razon los dos ángulos CEB, EBC serán la mitad de un recto: luego el AEB será recto; y siendo EBC la mitad de un recto, tambien lo será DBG <sup>f</sup>: pero BDG es recto, por ser igual á su al- <sup>f</sup> 15. I. terno DCE <sup>g</sup>: luego DGB será la mitad de un recto: luego el <sup>g</sup> 29. I. DGB será igual al DBG: luego el lado BD será igual al lado DG <sup>h</sup>. Además de esto siendo el ángulo EGF la mitad de un rec- <sup>h</sup> 6. I. to, y recto el ángulo en F, por igual <sup>i</sup> á su opuesto ECD; será <sup>i</sup> 34. I. el



## 54 ELEMENTOS DE EUCLIDES.

- h 6. I. el FEG la mitad de un recto: luego el ángulo EGF será igual al FEG, y por consiguiente el lado GF al FE<sup>h</sup>: y siendo EC igual á CA, tambien el quadrado de EC será igual al de CA: luego los quadrados de EC, CA serán el duplo del de CA: pero
- i 47. I. el quadrado de EA<sup>i</sup> es igual á los de EC, CA: luego será el duplo del de AC. Ademas de esto siendo GF igual á FE, será tambien el quadrado de GF igual al de FE: luego los quadrados de GF, FE serán el duplo del de EF, es así que el de EG<sup>i</sup> es igual á los de GF, FE: luego el quadrado de EG será el duplo del de EF: pero la recta EF es igual á CD: luego el quadrado de EG será duplo del de CD: y ya queda demostrado ser el quadrado de EA duplo del de AC: luego los quadrados de AE, EG serán el duplo de los AC, CD: asimismo el quadrado de AG es igual á los de AE, EG: luego el quadrado de AG será el duplo de los de AC, CD: es así que los de AD, DG<sup>i</sup> son iguales al de AG: luego los de AD, DG serán duplos de los de AC, CD; pero la recta DG es igual á la DB: luego los quadrados de AD, DB serán el duplo de los de AC, CD. Por consiguiente si una &c. L. Q. D. D.



### PROP. XI. PROBL.

**D**IVIDIR una recta dada de tal suerte, que el rectángulo contenido por ella, y por una de sus partes sea igual al quadrado de la otra parte.

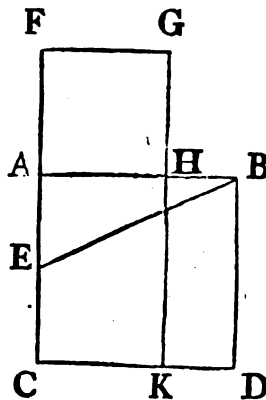
Sea la recta dada AB, y háyase de dividir en dos partes de tal suerte, que el rectángulo contenido por ella, y por una de sus partes sea igual al quadrado de la otra parte.

- a 46. I. Describese sobre la recta AB el quadrado<sup>a</sup> ABDC, y divídase por medio<sup>b</sup> AC en el punto E, tírese BE; prolónguese CA
- b 10. I. hasta F, y tórnese EF<sup>c</sup> igual á BE: asimismo sobre AF describá-

base el quadrado  $FGHA^a$ , y prolonguese  $GH$  hasta encontrar  $a$  46. I.  $CD$  en  $K$ : digo, que  $AB$  quedará dividida de manera que el rectángulo contenido por  $AB$ ,  $BH$  será igual al quadrado de  $AH$ .

Porque dividida por medio en  $E$  la parte  $AC$  de la recta  $AF$ , el rectángulo contenido por  $CF$ ,  $FA$  juntamente con el quadrado de  $AE$  será igual al quadrado de  $EF^d$ : es así que  $EF$  es igual á  $d$  6. II.

$EB$ : luego el rectángulo contenido por  $CF$ ,  $FA$  junto con el quadrado de  $AE$  será igual al quadrado de  $EB$ : pero este es igual á los quadrados de  $BA$ ,  $AE^e$ , por ser recto el ángulo en  $A$ : luego el rectángulo contenido por  $CF$ ,  $FA$ , junto con el quadrado de  $AE$  será igual á los quadrados de  $BA$ ,  $AE$ : quítese el quadrado de  $AE$ , y el rectángulo contenido por  $CF$ ,  $FA$  será igual al quadrado de  $AB$ : pero el rectángulo  $FK$  está contenido por las rectas  $CF$ ,  $FA$ , pues que  $FA$  es igual á  $FG$ ; y el quadrado  $AD$  está sobre la recta  $AB$ : luego el rectángulo  $FK$  será igual al  $AD$ : quítese el rectángulo com-



e 47. I.

mun  $AK$ ; y resultará  $FH$  igual á  $HD$ : pero  $HD$  se halla contenido por  $AB$ ,  $BH$ , por ser  $AB$  igual á  $BD$ ; y el quadrado  $FH$  está sobre  $AH$ : luego el rectángulo contenido por  $AB$ ,  $BH$  será igual al quadrado de  $AH$ . Por consiguiente se ha dividido, &c. L. Q. D. H.

## PROP. XII. TEOR.

**E**N todo triángulo obtusángulo el quadrado del lado opuesto al ángulo obtuso, es mayor que los quadrados del otro lado, y de la base, del duplo del rectángulo contenido por la base, y por la prolongacion de esta hasta encontrar la perpendicular.

Sea el triángulo obtusángulo  $ABC$ , que tenga obtuso el ángulo  $ACB$ ; prolonguese el lado  $BC$ , y del punto  $A$  báxese la per-

D 4

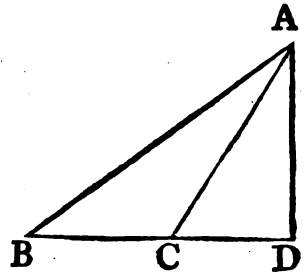
pen-

a 12. I. perpendicular <sup>a</sup> AD. Digo, que el quadrado de AB será mayor que los de AC, CB, del duplo del rectángulo contenido por BC, CD.

Porque hallándose dividida la recta BD en C, resultará su quadrado igual á los de BC, CD, y al duplo del rectángulo con-

b 4. II. tenido <sup>b</sup> por las mismas: añádase el quadrado de DA, y resultarán los quadrados de BD, DA iguales á los quadrados de BC, CD, DA, y al duplo del rectángulo conte-

c 47. I. nido por BC, CD: es así que el quadrado de BA <sup>c</sup> es igual á los de BD, DA, por ser recto el ángulo D: asimismo el quadrado de CA <sup>c</sup> es igual á los de CD, DA: luego el quadrado de BA será igual á los de BC, CA, y al duplo del rectángulo contenido por BC, CD: luego el quadrado de BA será mayor que los de BC, CA, del duplo del rectángulo contenido por BC, CD. Por consiguiente en todo triángulo &c. L. Q. D. D.



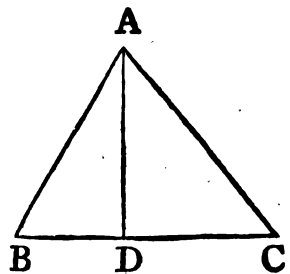
PROP. XIII. TEOR.

**E**N todo triángulo el quadrado del lado opuesto al ángulo agudo es menor que los quadrados del otro lado, y de la base, del duplo del rectángulo contenido por la base, y por la distancia del mismo ángulo á la perpendicular.

a 12. I. Sea el triángulo ABC, que tiene agudo el ángulo B, y de A bájese AD <sup>a</sup> perpendicular á BC. Digo, que el quadrado de AC será menor que los de CB, BA, del duplo del rectángulo contenido por CB, BD.

Primeramente supongamos, que AD cayga dentro del triángulo ABC; y hallándose la recta CB dividida en el punto D, los quadrados de CB, BD serán iguales al duplo del rectángulo contenido por CB, BD,

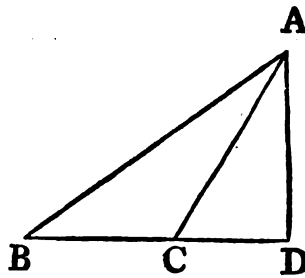
b 7. II. y al quadrado de DC <sup>b</sup>: añádase el quadrado de AD; y resul-



sultarán los quadrados de CB, BD, DA iguales al duplo del rectángulo contenido por CB, BD, y á los quadrados de AD, DC: pero el quadrado <sup>c</sup> de AB es igual á los de BD, DA, por <sup>c</sup> 47. I. ser recto el ángulo en D: tambien el de AC es igual á los de AD, DC: luego los quadrados de CB, BA serán iguales al de AC, y al duplo del rectángulo contenido por BD, y CB: por consiguiente el quadrado de AC solo será menor que los de CB, BA, del duplo del rectángulo contenido por CB, BD.

Si la perpendicular AD cayese fuera del triángulo ABC, sería recto el ángulo D, y el ángulo ACB mayor que un recto <sup>d</sup>: <sup>d</sup> 16. I.

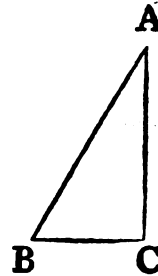
luego el quadrado de AB será igual á los de AC, CB, y al duplo del rectángulo contenido por BC, CD <sup>e</sup>: añádase el quadrado de BC, y resultarán los quadrados de AB, BC iguales al de AC, al duplo del de BC, y al duplo del rectángulo contenido por BC, CD: pero hallándose dividida la recta BD en C, el rectángulo contenido por DB, BC es igual al contenido por BC, CD, y al quadrado de BC <sup>f</sup>; y sus duplos son iguales: luego los quadrados de AB, BC serán iguales al de AC, y al duplo del de BC <sup>c</sup>. Por consiguiente en todo triángulo &c. L. Q. D. D.



<sup>e</sup> 12. II.

luego el quadrado de AC solo será menor que los de AB, BC, del duplo del rectángulo contenido por CB, BD.

Ultimamente sea el lado AC perpendicular al BC: será, pues, la recta BC la distancia del ángulo agudo B á la perpendicular AC; y es evidente, que los quadrados de AB, BC son iguales al de AC, y al duplo del de BC <sup>c</sup>. Por consiguiente en todo triángulo &c. L. Q. D. D.



<sup>c</sup> 47. I.

PROP. XIV. PROBL.

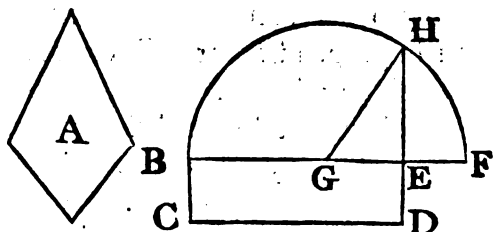
**C**ONSTRUIR un quadrado igual á una figura rectilínea dada.

Sea la figura rectilínea dada A, y háyase de construir un quadrado igual á ella.

Cons-

## 58 ELEMENTOS DE EUCLIDES.

- 45. I. Constrúyase un paralelogramo rectángulo <sup>a</sup> BCDE igual á la figura rectilínea A. Si la recta BE es igual á ED, ya estará resuelto el problema; pues resultará el cuadrado BD igual á la figura rectilínea A: y si no, prolónguese la recta BE hasta F, tómese EF igual á ED, y divídase por medio BF en el punto G: asimismo con centro G, é intervalo GB, ó GF describese el semicírculo BHF, prolónguese la recta DE hasta encontrar la circunferencia en H, tírese GH, y será este el lado del cuadrado que se pide. Porque quedando la recta BF dividida en partes iguales en G, y desiguales en E, será el rectángulo contenido por BE, EF junto con el cuadrado de EG
- b 5. II. igual al cuadrado de GF <sup>b</sup>: es así que GF es igual á GH: luego el rectángulo contenido por BE, EF junto con el cuadrado de EG será igual al cuadrado de GH: pero los cuadrados <sup>c</sup> de HE, EG son iguales al de GH: luego el rectángulo contenido por BE, EF junto con el cuadrado de EG será igual á los cuadrados de HE, EG: quítese el cuadrado comun de EG, y el rectángulo contenido por BE, EF quedará igual al cuadrado de EH: pero el rectángulo contenido por BE, EF es el BD; pues la EF es igual á la ED: luego el rectángulo BD será igual al cuadrado de EH: tambien es igual á la figura rectilínea A: luego esta será igual al cuadrado de EH. Por consiguiente se ha construido &c. L. Q. D. H.



ELE-

# ELEMENTOS DE EUCLIDES.

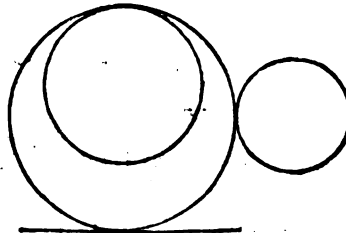
## LIBRO TERCERO.

### DEFINICIONES.

**I.**  
**C**IRCULOS iguales son aquellos, cuyos diámetros, ó cuyos radios son iguales.

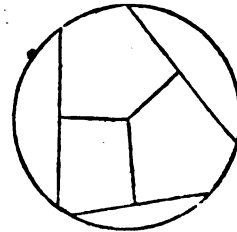
“Esta no es definición, sino teorema de patente verdad; porque colocados los círculos, cuyos radios son iguales, uno sobre otro, de tal suerte que ajusten sus centros, ajustarán también los mismos círculos.”

**II.**  
Se dice de una recta, que es tangente de un círculo, quando lo toca, pero prolongada no lo corta.



**III.**  
Dícese, que se tocan los círculos, quando tocándose no se cortan.

**IV.**  
Se dice, que las rectas distan igualmente del centro de un círculo, quando las perpendiculares tiradas de este á aquellas son iguales.



**V.**  
Aquella linea se dice distar mas del centro, cuya perpendicular es mayor.

**VI.**  
Segmento del círculo es la figura contenida por un arco, y su cuerda.



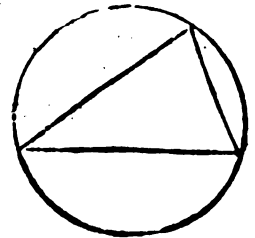
**VII.**

VII.

"Ángulo del segmento es el contenido por un arco, y su cuerda."

VIII.

Ángulo en el segmento es el contenido por dos cuerdas tiradas de un punto de un arco á sus extremos, que lo son también de la cuerda.




IX.

El ángulo se dice insistir sobre el arco contenido por sus lados.

X.

Sector del círculo es la figura terminada por las rectas, que forman un ángulo en el centro, y por el arco, en que insiste.



XI.

Segmentos semejantes de círculos son los capaces de contener ángulos iguales, ó aquellos en que los ángulos son iguales.



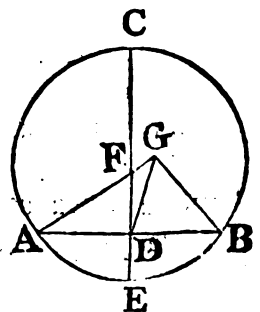
PROP. I. PROBL.

**H**ALLAR el centro de un círculo dado.

Sea el círculo dado ABC, y háyase de hallar su centro.

Tírese en él qualquiera cuerda AB, córtese <sup>a</sup> por medio en el punto D, y en este tírese <sup>b</sup> DC perpendicular á AB: prolongúese hasta encontrar la circunferencia en E, y divídase CE por medio en el punto F. Digo, que F será el centro del círculo ABC.

Porque á no ser el centro el punto medio F, lo sería otro G, y tirando de él las rectas GA, GD, GB, los triángulos ADG, GDB tendrían los dos lados AD, DG respectivamente iguales á los dos BD, DG,





DG, y la base GA igual á la base GB, por ser radios de un mismo círculo: luego el ángulo ADG sería igual <sup>c</sup> al GDB: es <sup>c</sup> 8. I. así que quando una recta, insiendiendo sobre otra, forma los dos ángulos iguales, ambos son rectos <sup>d</sup>: luego el ángulo GDB sería recto: pero FDB es recto: luego este sería igual á aquel, <sup>d</sup> 10. Def. I. el mayor al menor, lo qual es imposible: por consecuencia el punto G no será el centro del círculo ABC: semejantemente se demuestra, que ninguno otro punto diferente de F lo es: luego este será el centro del círculo ABC. L. Q. D. H.

COR. Es evidente, que en el círculo si una recta corta perpendicularmente á una cuerda en dos partes iguales, se hallará en ella el centro del círculo.

PROP. II. TEOR.

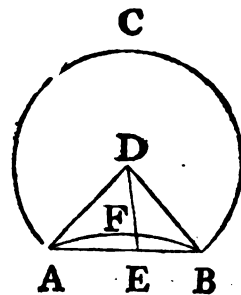
**L**A recta que junta qualesquiera dos puntos de la circunferencia del círculo, cae dentro del círculo.

Sea el círculo ABC, y en su circunferencia tórnense dos puntos qualesquiera A, B. Digo, que la recta tirada de uno á otro de estos puntos caerá dentro del círculo.

Porque á no ser así, caería fuera del círculo, como la linea AEB. Sea D el centro del círculo <sup>a</sup> ABC, y tiradas AD, DB, encuentre DE á la circunferencia en F.

Por quanto DA es igual á DB, será el ángulo DAB igual <sup>b</sup> al DBA; pero el ángulo externo DEB <sup>c</sup> es mayor que el interno DAE: y DAE es igual á DBE: luego DEB sería mayor que DBE: es así que el lado opuesto á

mayor ángulo es mayor <sup>d</sup>: luego DB sería mayor que DE: pero DB es igual á DF: luego DF sería mayor que DE; la menor mayor que la mayor, lo qual es imposible: luego la recta tirada del punto A al B no caerá fuera del círculo: del mismo modo se demostrará, que tampoco cae en la circunferencia: luego caerá dentro. Por consiguiente la recta, &c. L. Q. D. D.



a 1. III.

b 5. I.

c 16. I.

d 19. I.

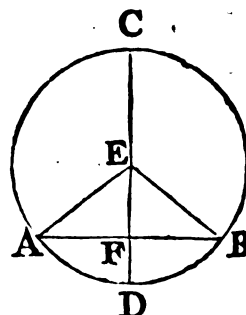
PROP.

## PROP. III. TEOR.

**S**I una recta pasando por el centro de un círculo divide en dos partes iguales á una cuerda cualquiera que no sea diámetro; será perpendicular á ella: y si una recta pasando por el centro es perpendicular á una cuerda; la dividirá en dos partes iguales.

Sea el círculo ABC, y la recta CD, que pasa por su centro E, corte por medio en F á la cuerda AB, que no es diámetro. Digo, que será perpendicular á ella.

- a 1. III. Del centro <sup>a</sup> E tírense los radios EA, EB: siendo en los triángulos AFE, BFE el lado AF igual á FB, el FE comun, y la  
 b 8. I. base EA igual á la base EB, tambien <sup>b</sup> el ángulo AFE será igual al BFE: es así que cuando una recta insistiendo sobre otra forma  
 c Def. 10. dos ángulos iguales, ambos son rectos <sup>c</sup>: luego los ángulos AFE, BFE serán rectos: por consiguiente la recta CD será perpendicular á AB.



Dividiendo la linea CD á la AB perpendicularmente, digo, que tambien la dividirá en las dos partes iguales AF, FB.

- Porque supuesta la misma construccion, siendo el radio EA igual al EB, tambien el ángulo EAF será igual al EBF <sup>d</sup>: es así que el recto AFE es igual al recto BFE: luego EAF, EBF serán dos triángulos con dos ángulos EAF, AFE iguales á dos ángulos EBF, EFB; y un lado EF comun opuesto á los dos ángulos iguales: luego tambien tendrán los demas  
 d 5. I. lados AF, FB iguales <sup>e</sup> entre sí. Por consiguiente si una &c.  
 e 26. I. L. Q. D. D.

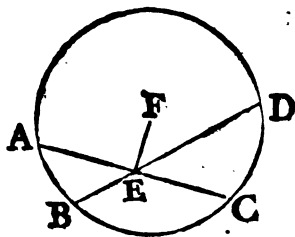
## PROP. IV. TEOR.

**S**I en un círculo dos cuerdas, que no pasan por el centro, se cortan entre sí; no se dividirán mutuamente en dos partes iguales.

Sea

Sea el círculo  $ABCD$ , y en  $E$  córtense entre sí las dos cuerdas  $AC$ ,  $BD$ , que no pasan por el centro. Digo, que no se dividirán mutuamente en dos partes iguales.

Porque si pudiesen cortarse por medio, de tal suerte, que  $AE$  fuese igual á  $EC$ , y  $BE$  á  $ED$ ; si una de las rectas pasase por el centro, es claro que no podrá cortarla por medio la otra, que no pasa por él: y si ninguna pasase por el centro  $F^a$ , tírese  $EF$ : cortando, pues, por medio la recta  $FE$  tirada del centro á la cuerda  $AC$ , será perpendicular  $b$  á ella; y cortando á  $BD$  en dos partes iguales en  $E$ , sería también perpendicular á  $BD$ ; de donde el ángulo  $FEA$ , y el  $FEB$  serían rectos: y por consiguiente  $FEA$  sería igual á  $FEB$ , el menor al mayor, lo qual es imposible: luego no se dividirán por medio las líneas  $AC$ ,  $BD$ . Por consiguiente si en un círculo, &c. L. Q. D. D.



a 1. III.

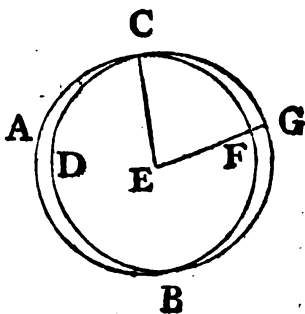
b 3. III.

## PROP. V. TEOR.

SI dos círculos se cortan mutuamente; no será uno mismo el centro de ambos.

Córtense entre sí mutuamente los círculos  $ABC$ ,  $CDG$  en los puntos  $B$ ,  $C$ . Digo, que su centro no será uno mismo.

Porque si fuese posible, supóngase el punto  $E$  centro común, tírese  $EC$ , y también  $EFG$ . Siendo  $E$  centro del círculo  $ABC$ , la línea  $CE$  será igual á la  $EF$ . Además de esto, siendo el mismo punto  $E$  centro del círculo  $CDG$ , será la línea  $CE$  igual á la  $EG$ : es así que ya está demostrada la igualdad de  $CE$  á  $EF$ : luego  $FE$  será igual á  $EG$ , la menor á la mayor, lo que es imposible: luego el punto  $E$  no será centro común de los círculos  $ABC$ ,  $CDG$ . Por consiguiente si dos, &c. L. Q. D. D.



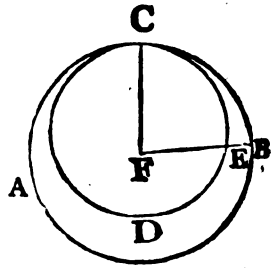
PROP.

## PROP. VI. TEOR.

**S**I dos círculos se tocan entre sí interiormente; no tendrán un mismo centro.

Tóquense entre sí interiormente en C los dos círculos ABC, CDE. Digo, que no tendrán un mismo centro.

Si tuviesen un centro común F, tirando FC, y FEB, tendrían CF igual á FB, por ser radios del círculo ABC: tendrían también CF igual á FE, por ser radios del círculo CDE; pero se ha demostrado ser CF igual á FB: luego también FE sería igual á FB, la menor á la mayor, lo qual es imposible: luego el punto F no será centro de los círculos ABC, CDE. Por consiguiente si dos, &c. L. Q. D. D.



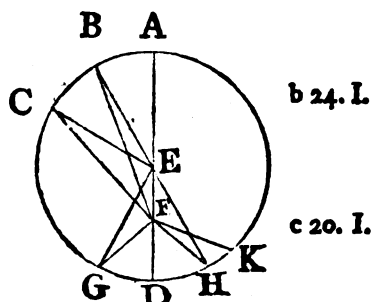
## PROP. VII. TEOR.

**S**I en el diámetro de un círculo se toma qualquier punto diferente del centro, y de él se tiran rectas á la circunferencia; será la línea máxima la parte del diámetro en que se halla el centro, y la mínima la otra parte: de las demás rectas será mayor la mas próxima á la que pasa por el centro, y menor la mas distante: y del mismo punto únicamente se podrán tirar dos rectas iguales, una á cada parte del diámetro.

Sea el círculo ABCD, cuyo diámetro sea AD, y en este tómese qualquier punto F, que no sea el centro E del círculo, y tírense de F á la circunferencia ABCD las rectas FB, FC, FG. Digo, que FA será la máxima, FD la mínima, y de las otras FB mayor que FC, y esta mayor que FG.

Tírense las líneas BE, CE, GE; y siendo los dos lados de todo triángulo mayores <sup>a</sup> que el otro, serán las líneas BE, EF ma-  
yo-

yores que la BF: pero por ser AE igual á BE, son BE, y EF iguales á AF: luego FA será mayor que FB: además siendo BE igual á CE, y FE comun, las dos BE, EF serán iguales á las dos CE, EF: es así que el ángulo BEF es mayor que el CEF: luego la base FB será mayor <sup>b</sup> que la FC: por la misma razon FC es mayor que FG: además de esto, siendo las líneas GF, FE mayores que EG <sup>c</sup>, y esta igual á ED, serán GF, FE mayores que ED: quítese FE comun, y resultará GF mayor que FD: luego FA será la máxima, y FD la mínima, FB mayor que FC, y esta mayor que FG.



Añado, que del punto F únicamente se podrán tirar dos rectas iguales á la circunferencia ABCD, una á cada parte de la mínima FD: constrúyase sobre la recta EF en el punto E el ángulo <sup>d</sup> FEH igual al GEF, y tírese EH: siendo, pues, <sup>d</sup> 23. I. GE igual á EH, y EF comun, los dos lados GE, EF serán iguales á los dos HE, EF, y el ángulo GEF igual al HEF: luego la base FG será igual <sup>e</sup> á la FH. Digo, que del punto F á la circunferencia no se podrá tirar otra línea igual á FG; y si no, supóngase serlo FK; respecto de ser esta igual á FG, y FH á FG, será tambien FK igual á FH, esto es la mas cercana á la que pasa por el centro igual á la mas remota; lo qual no puede ser. Por consiguiente si en el, &c. L. Q. D. D. <sup>e</sup> 4. I.

## PROP. VIII. TEOR.

**S**I se toma un punto fuera del círculo, y de él se tiran á la circunferencia qualesquiera rectas, de las quales una pase por el centro: de todas las terminadas en la circunferencia cóncava será la máxima la que pase por el centro, y de las demas la mas cercana á esta será mayor que la mas distante; pero de las termi-

E

na-

## 66 ELEMENTOS DE EUCLIDES.

nadas en la circunferencia convexâ , será la mínima la que continuada pasará por el centro , y de las otras la mas próxima á esta será menor que la mas remota ; y del mismo punto no se podrán tirar mas de dos rectas iguales , una á cada parte de la que pasa por el centro.

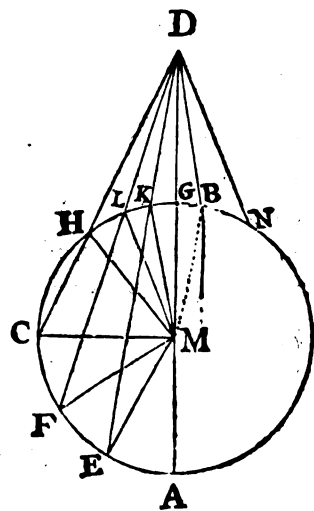
a 1. III. Sea el círculo ABC, detérminese el centro M <sup>a</sup>, y fuera del círculo tómesese el punto D, del qual á la circunferencia tírense las rectas DA, DE, DF, DC, pasando la primera de ellas por el centro. Digo, que de las terminadas en la circunferencia cóncava AEFC será la máxima DA, que pasa por el centro, y que la mas inmediata á esta será siempre mayor que la mas remota; es á saber, DE mayor que DF, y esta que DC; y que de las terminadas en la circunferencia convexâ HLGK, la mínima será DG, que prolongada pasa por el centro M, y la mas próxima á esta siempre menor que la mas distante; es á saber DK menor que DG, y DL que DH.

Tírense del centro M las rectas ME, MF, MC, MK, ML, MH. Siendo AM igual á ME, y MD comun, resultará AD igual á EM, MD: pero las dos ME, MD

b 20. I. son mayores que ED <sup>b</sup>: luego tambien AD será mayor que ED. Además de esto, siendo ME igual á MF, y MD comun, serán EM, MD iguales á FM, MD; pero el ángulo EMD es mayor que el FMD:

c 24. I. luego la base ED será mayor <sup>c</sup> que la FD: semejantemente se demuestra, que FD es mayor que CD: luego DA será la máxima, DE mayor que DF, y esta mayor que DC.

Siendo, pues, MK, KD mayores que MD <sup>b</sup>, y MK igual á d Axi. 4. MG, será KD mayor <sup>d</sup> que GD, por consiguiente GD menor que KD: luego DG será la mínima; pero las dos rectas MK, KD tiradas de los extremos del lado MD del triángulo MLD son e 21. I. menores que los dos lados ML, LD <sup>e</sup>: luego por ser MK igual á



á ML, resultará la recta DK menor que la DL: semejantemente se demuestra que DL es menor que DH: luego DG será la mínima, DK menor que DL, y esta menor que DH.

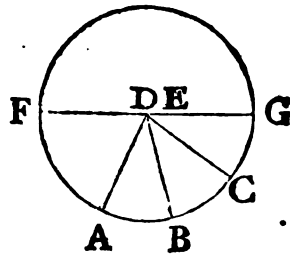
Añado, que únicamente podrán tirarse dos rectas iguales del punto D á la circunferencia, una á cada parte de la que pasa por el centro: porque construido sobre la recta MD en el punto M el ángulo DMB igual al KMD, y tirada DB, siendo por consiguiente MK igual á MB, y MD comun, las dos KM, MD serán respectivamente iguales á las dos BM, MD, y el ángulo KMD igual al BMD: luego la base DK será igual á la DB, f 4. I. Digo, que del punto D no se podrá tirar á la circunferencia otra recta igual á DK: si se pudiese, fuese esta DN: siendo entonces DK igual á DN, y á DB, resultaría DB igual á DN, esto es la mas próxima igual á la mas distante, contra lo que queda demostrado. Por consiguiente si se toma, &c. L. Q. D. D.

## PROP. IX. TEOR.

**S**I se toma un punto dentro del círculo, y tres rectas tiradas de él á la circunferencia son iguales; será este punto el centro del círculo.

Tómese dentro del círculo ABC el punto D, del qual tirando á la circunferencia las rectas DA, DB, DC, si estas son iguales, será el punto D el centro del círculo propuesto.

Porque á no ser D el centro, lo sería otro punto E: por el qual, y por D tírese DE, y alárguese hasta los puntos F, G, resultará será FG el diámetro del círculo ABC. Si el punto D no fuese el centro, GD sería la máxima, DC mayor que DB, y esta que DA: lo qual es imposible, por ser iguales: luego el punto E no será el centro del círculo ABC: semejantemente se demuestra, que ninguno otro lo es fuera del D: luego este será el centro del círculo ABC. Por consiguiente si se toma, &c. L. Q. D. D.



a 7. III.

E 2

PROP.

PROP. X. TEOR.

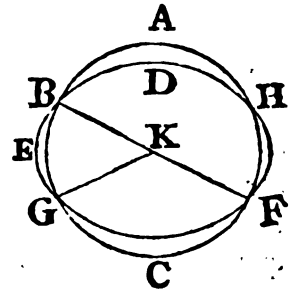
**D**OS círculos solo se cortan en dos puntos. "NOTA.  
 »Esto se debe entender de sus circunferencias."

Demos, si fuese posible, que el círculo ABC corte al DEF

en mas de dos puntos; es á saber en B, G, F; tómese K por centro del círculo ABC, y tírense las líneas KB, KG, KF: habiéndose, pues, tomado el punto K dentro del círculo DEF, y tirado de él á la circunferencia DEF las tres líneas rectas iguales

a 9. III. KB, KG, KF, será tambien el punto K a centro del círculo DEF: luego dos círculos, que se cortan en mas de dos puntos,

b 5. III. tendrian un mismo centro; lo qual es imposible b. Por consiguiente dos círculos solo se cortan en dos puntos. L. Q. D. D.



PROP. XI. TEOR.

**S**I dos círculos se tocan interiormente; la recta que junta sus centros, prolongada pasará por el punto de contacto.

Tóquense interiormente los dos círculos ABC, ADE en el punto A, y sea F el centro del círculo ABC, y G el del ADE. Digo, que la recta, que junta los centros G, F prolongada H pasará por el punto A.

Porque á no ser así, caiga la línea FG, DH, que junta los centros, fuera del punto A, y tírense AF, AG. Por ser AG, GF mayores que FA, esto es que FH (pues FA es igual á FH, por ser radios de un mismo círculo) quítese FG común, y resultará AG ma-

a 20. I.





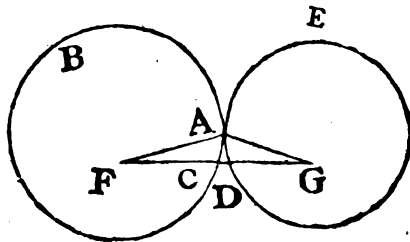
mayor que  $GH$ ; pero  $AG$  es igual á  $GD$ : luego  $GD$  menor será mayor que  $GH$  mayor; lo que es imposible: luego la recta, que junta los puntos  $F$ ,  $G$ , no caerá fuera del punto de contacto: luego caerá en él. Por consiguiente si dos, &c. L. Q. D. D.

## PROP. XII. TEOR.

**S**i dos círculos se tocan exteriormente; la recta, que junta sus centros, pasará por el punto de contacto.

Tóquense exteriormente los dos círculos  $ABC$ ,  $ADE$  en el punto  $A$ , y sea  $F$  centro del primer círculo, y  $G$  el del segundo. Digo, que la recta, que une estos centros, pasará por el punto de contacto  $A$ .

Porque á no ser así, caería fuera del punto de contacto, como  $FCDG$ : tiradas  $FA$ ,  $AG$ , y siendo  $F$  centro del círculo  $ABC$ , la línea  $AF$  sería igual á  $FC$ : además de esto, siendo  $G$  centro del círculo  $ADE$ , sería  $AG$  igual á  $GD$ : luego  $FA$ ,  $AG$  serían iguales á  $FC$ ,  $DG$ :



luego  $FG$  sería mayor que las dos  $FA$ ,  $AG$ ; lo qual es imposible, pues es menor: luego la recta, que junta los puntos  $F$ ,  $G$ , pasará por el punto de contacto. Por consiguiente si dos, &c. L. Q. D. D.

## PROP. XIII. TEOR.

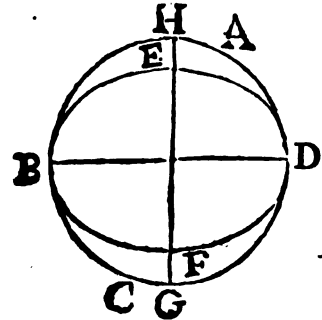
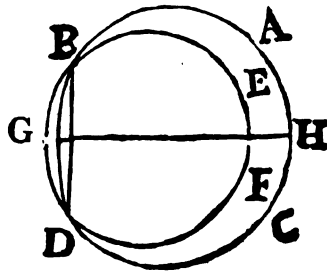
**U**n círculo no toca á otro en mas puntos que en uno, ya lo toque exterior, ya interiormente.

Porque si posible fuera, supóngase que el círculo  $EBF$  tocase al  $ABC$ , primero interiormente en mas de un punto, á saber en  $B$ ,  $D$ ;

E 3

tí-

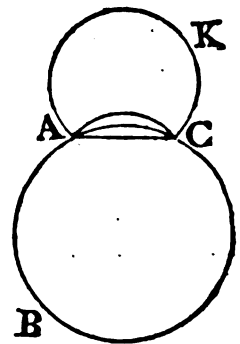
\* 10. 11. tírese la línea BD, y la \* GH, que divida en dos partes iguales, y perpendicularmente á BD: estando, pues, los puntos B, D en la circunferencia de uno, y otro círculo, la recta BD caería dentro de



a 2. III. ambos círculos <sup>a</sup>: luego en la recta GH, que corta por medio, b Cor. 1. y en ángulos rectos á la BD, estaría el centro <sup>b</sup> de ambos círculos: luego GH prolongada caería en el punto de contacto de los c 11. III. círculos <sup>c</sup>; lo qual es absurdo, pues no puede caer en él, porque los puntos B, D están fuera de la línea GH: luego un círculo no toca á otro interiormente en mas de un punto.

Añado, que tampoco lo tocará exteriormente en mas de un punto: porque demos, que el círculo AKC tocase al ABC en mas de un punto, á saber en los A, C:

a 2. III. tirada AC resultaría, que tomados en la circunferencia AKC los dos puntos A, C, la recta AC, que los junta, caería <sup>a</sup> dentro del círculo AKC: es así que este está fuera del círculo ABC: luego la recta AC estaría fuera del círculo ABC; y respecto de que los puntos A, C están en la circunferencia de este último círculo, la recta AC estaría dentro <sup>a</sup> del mismo, lo qual es absurdo: luego un círculo no tocará á otro exteriormente en mas de un punto: y ya antes se demostró, que tampoco interiormente. Por consiguiente un círculo &c. L. Q. D. D.



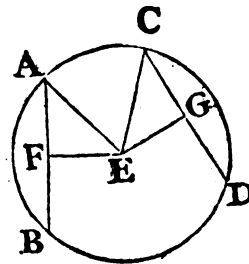
PROP.

## PROP. XIV. TEOR.

**E**N el círculo las cuerdas iguales distan igualmente del centro; y las igualmente distantes del centro son entre sí iguales.

Sea el círculo  $ABDC$ , y en él sean iguales las cuerdas  $AB$ ,  $CD$ . Digo, que distarán igualmente del centro.

Sea el punto  $E$  el centro del círculo propuesto, y de él tírense perpendiculares  $EF$ ,  $EG$  á las rectas  $AB$ ,  $CD$ ; tírense asimismo las líneas  $AE$ ,  $EC$ : dividiendo, pues, perpendicularmente la recta  $EF$  tirada por el centro á la recta  $AB$ , la dividirá <sup>a</sup> también por <sup>a</sup> 3. III. medio, de donde resultará la parte  $AF$  igual á la  $FB$ ; y por tanto  $AB$  dupla de  $AF$ : asimismo  $CD$  será dupla de  $CG$ : pero  $AB$  es igual á  $CD$ : luego  $AF$  será igual á  $CG$ : y siendo  $AE$  igual á  $EC$ , será también el cuadrado de  $AE$  igual al de  $EC$ : es así que al cuadrado de  $AE$  son iguales los <sup>b</sup> de  $AF$ ,  $FE$ , por ser recto el ángulo en  $F$ : asimismo al cuadrado de  $EC$  son iguales los de  $EG$ ,  $GC$ , por ser recto el ángulo en  $G$ : luego los cuadrados de  $AF$ ,  $FE$  serán iguales á los de  $CG$ ,  $GE$ , de los cuales el de  $AF$  es igual al de  $CG$ , por ser  $AF$  igual á  $CG$ : luego el cuadrado de  $FE$  será igual al de  $EG$ ; por consiguiente la recta  $FE$  será igual á  $EG$ : pero las rectas se dicen distar igualmente del centro de un círculo, quando son iguales las perpendiculares tiradas á ellas del centro <sup>c</sup>: luego  $AB$ ,  $CD$  distarán igualmente del centro.



b 47. I.

Añado, que si dos cuerdas distan igualmente del centro, serán iguales, esto es  $AB$  igual á  $CD$ , si está  $EF$  igual á  $EG$ ; porque suponiendo la misma construcción, demostraremos semejantemente ser la  $AB$  dupla de  $AF$ , y la  $CD$  de  $CG$ ; y por quanto  $AE$  es igual á  $EC$ , también el cuadrado de  $AE$  será igual al de  $EC$ : es así que al cuadrado de  $AE$  son iguales los de  $EF$ ,  $FA$ , y al de  $EC$  <sup>d</sup> los de  $EG$ ,  $GC$ : luego los cuadrados de  $EF$ ,  $FA$  serán iguales á los de  $EG$ ,  $GC$ , de los cuales el cuadrado de  $FE$  es igual al de  $EG$ , por ser la línea  $FE$  igual á  $EG$ : luego

c 4. Def. III.

d 47. I.

E 4

el

el cuadrado de AF será igual al de CG: luego la recta AF será igual á CG; pero AB es dupla de AF, y CD dupla de CG: luego AB será igual á CD. Por consiguiente en el círculo &c. L. Q. D. D.

## PROP. XV. TEOR.

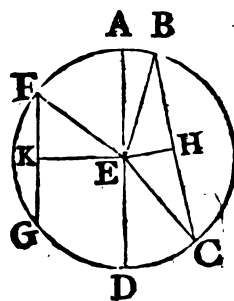
**E**N el círculo la cuerda máxima es el diámetro, y de las demas la que dista menos del centro es siempre mayor que la mas distante; y la cuerda mayor está mas próxima al centro que la menor.

Sea el círculo ABCD, que tiene por diámetro la línea AD, y por centro el punto E; la cuerda BC sea la mas próxima al centro, y FG la mas distante. Digo, que AD será la máxima, y BC mayor que FG.

Tírense del centro E á las cuerdas BC, FG las perpendiculares EH, EK; asimismo EB, EC, EF: siendo, pues, AE igual á EB, y ED igual á EC, tambien AD será igual á BE, EC: pero  
 20. I. BE, EC son mayores que BC<sup>a</sup>: por consiguiente AD será mayor que BC.

Y siendo BC la mas cercana al centro, y FG la mas remota, la distancia EK será mayor que la EH<sup>b</sup>: es así que la BC es ( como se ha demostrado en la proposicion precedente ) dupla de BH; la FG dupla de FK, y los cuadrados de EH, HB iguales á los de EK, KF, de los cuales el cuadrado de EH es menor que el de EK, por ser EH menor que EK: luego el cuadrado de BH será mayor que el de FK: consiguientemente la recta BH será mayor que FK; y por tanto BC mayor que FG.

Si la cuerda BC es mayor que la cuerda FG, estará BC mas cerca del centro que la FG, esto es supuesta la misma construccion, EH será menor que EK; pues siendo BC mayor que FG, será tambien BH mayor que FK: es así que los cuadrados de BH, HE son iguales á los de FK, KE, y de estos el de BH es mayor que el de FK, por ser la línea BH mayor que  
 la



la FK: luego el quadrado de EH será menor, que el de EK, y la recta EH menor que EK. Por consiguiente en el círculo, &c. L. Q. D. D.

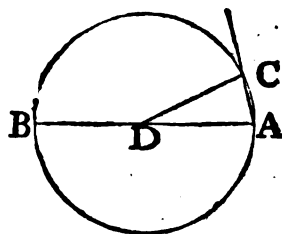
PROP. XVI. TEOR.

**L**A recta perpendicular al diámetro de un círculo en su extremo, cae fuera del círculo: y entre ella y la circunferencia no se puede tirar otra recta; ó lo que es lo mismo, la circunferencia del círculo pasa entre la perpendicular, y otra recta, que con el diámetro forma un ángulo agudo, quan grande se quiera; ó la que forma con la perpendicular un ángulo, por pequeño que sea.

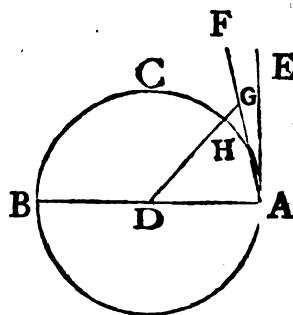
Sea el círculo ABC, su centro D, y su diámetro AB. Digo, que la recta perpendicular á el diámetro AB en el extremo A caerá fuera del círculo.

Porque á no ser así, caería dentro, como AC; tírese DC. Siendo, pues, DA igual á DC, sería tambien el ángulo DAC igual <sup>a</sup> al ACD: pero el ángulo DAC es recto: luego tambien lo sería ACD: por consiguiente ambos ángulos serian iguales á dos rectos; lo qual es imposible <sup>b</sup>. Luego la recta perpendicular al diámetro BA en el extremo A no caerá dentro del círculo: semejantemente demostraremos, que tampoco cae en su circunferencia: luego caerá fuera, como AE en la figura siguiente.

Entre la perpendicular AE, y la circunferencia ABC no se puede tirar otra linea recta; pues si se pudiese tirar, sea FA, y del centro D sea DHG perpendicular <sup>c</sup> á FA. Por ser recto el ángulo AGD, y DAG <sup>d</sup> menor que un recto, sería DA mayor <sup>e</sup> que DG: es así que DA es igual á DH: luego DH sería mayor que DG, la menor, mayor que la mayor; lo



a 5. I.

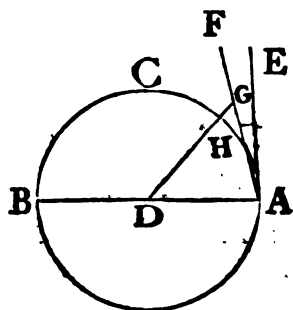


c 12. I.

d 17. I.

e 19. I.

lo qual es imposible: luego entre la perpendicular, y la circunferencia no puede tirarse otra recta alguna; ó lo que es lo mismo, la circunferencia del círculo pasa entre la recta perpendicular á el diámetro, y la otra que con este forma un ángulo agudo, tan grande como se quiera, ó la que con la perpendicular forma un ángulo, por pequeño que sea. "Esto, y no otra cosa se ha de entender, quando en el texto Griego, y en las traducciones se dice, que el ángulo del semicírculo es mayor que todo ángulo agudo, y el otro menor."



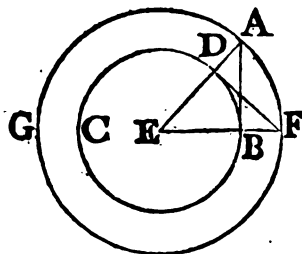
Cor. De aquí se sigue manifestamente, que la recta perpendicular tirada al diámetro del círculo en su extremo toca al círculo; y que la recta que toca al círculo lo toca en un solo punto; pues se ha demostrado f, que la que lo toca en dos, cae dentro de él: "y además de esto se infiere, que solo una recta puede tocar al círculo en un mismo punto."

PROP. XVII. PROBL.

**D**E un punto dado fuera de un círculo dado, ó en su circunferencia tirarle una tangente.

Primeramente sea A el punto dado fuera del círculo dado BCD; y háyase de tirar de dicho punto una recta, que toque al círculo dado.

- a 1. III. Sea E<sup>a</sup> el centro del círculo, tírese la línea AE, y con centro E, é intervalo EA describese el círculo AFG, y en el punto
- b 11. I. D<sup>b</sup> tírese DF perpendicular á EA: tírense asimismo las líneas EBF, AB. Digo, que AB tirada de A tocará al círculo BCD.



Porque siendo el punto E centro de los círculos BCD, AFG, la línea EA será igual á EF, y la EB á ED: luego las dos AE, EB serán iguales á las dos FE, ED; pero contienen el ángulo E

co-

comun : luego la base DF será igual á la AB, el triángulo EDF igual al EBA, y los otros ángulos entre sí iguales <sup>c</sup>: luego el ángulo EBA será igual al EDF: pero EDF es recto: luego tambien lo será EDF; pero EB es radio: y la recta perpendicular al diámetro del círculo en su extremo lo toca <sup>d</sup>: luego AB tocará al círculo. e 4. I.  
d Cor. 16, III.

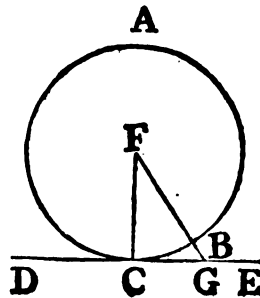
“En segundo lugar esté el punto dado D en la circunferencia del círculo: tírese del centro E el radio DE, y en D la DF <sup>e</sup> perpendicular á DE; tocará <sup>f</sup> DF al círculo.” Por consiguiente de un punto dado se ha tirado una recta, que toca al círculo dado. L. Q. D. H. e 11. I.  
f Cor. 16. III.

PROP. XVIII. TEOR.

**S**I una recta toca á un círculo, y del centro al punto de contacto se tira otra recta; esta será perpendicular á la tangente.

Toque la recta DE en el punto C al círculo ABC, y sea F el centro, júntense F, y C. Digo, que FC será perpendicular á DE.

Porque si no lo fuese, sería la FBG perpendicular <sup>a</sup> á DE: <sup>a</sup> 12. I. siendo, pues, recto el ángulo FGC, resultaría GCF agudo <sup>b</sup>: pero á mayor ángulo está opuesto mayor lado <sup>c</sup>: luego FC sería mayor que FG; pero FC es igual á FB: luego FB sería mayor que FG, la menor, mayor que la mayor; lo qual es imposible: luego FG no será perpendicular á DE: semejantemente se demostrará no serlo ninguna otra, sino FC: luego esta será perpendicular á DE. Por consiguiente si una, &c. L. Q. D. D.



b 17. I.  
c 19. I.

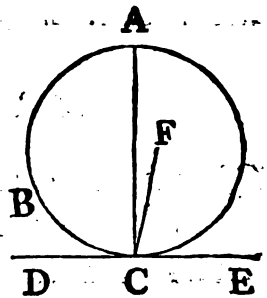
PROP.

## PROP. XIX. TEOR.

**S**I una recta toca á un círculo, y en punto de contacto se tira una perpendicular á la tangente; se hallará el centro del círculo en la perpendicular.

Toque la recta DE al círculo ABC en el punto C, y en este punto sea CA perpendicular á DE. Digo, que el centro del círculo se hallará en CA.

Porque á no hallarse en CA, se hallaría en un punto F fuera de ella; tírese FC: tocando, pues, la recta DE al círculo propuesto, y siendo FC la recta tirada del centro al punto de contacto, sería perpendicular á DE: luego el ángulo FCE sería recto; pero lo es también ACE: luego FCE sería igual á ACE, el menor al mayor; que es absurdo: luego el punto F no será centro del círculo ABC: semejantemente se demuestra, que no lo es ningun otro punto, que esté fuera de la línea CA: luego en esta se hallará el centro. Por consiguiente si una, &c. L.Q.D.D.



## PROP. XX. TEOR.

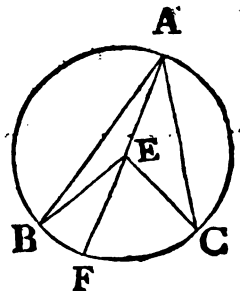
**E**N un círculo el ángulo en el centro será duplo del ángulo en la circunferencia, si los dos insisten en un mismo arco, como base.

Sea el círculo ABC, BEC el ángulo en el centro, y BAC el ángulo en la circunferencia, los cuales insisten sobre un mismo arco BC como base. Digo, que BEC será duplo de BAC.

Primeramente esté el centro E dentro del ángulo BAC, tírese la línea AEF: siendo, pues, la EA igual á EB, será también el ángulo EAB

igual á al EBA: luego los ángulos EAB, EBA

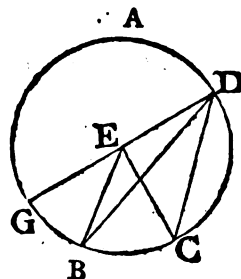
se-





serán el duplo de EAB : es así que el BEF es igual á los EAB, EBA<sup>b</sup> : luego tambien el ángulo BEF será duplo del EAB : asi- b 32. I. mismo el FEC es duplo del EAC : luego el BEC sera duplo del BAC.

En segundo lugar esté el centro E fuera del ángulo BDC ; tírese DEG ; será el ángulo GEC duplo del GDC , y GEB duplo del GDB : luego BEC será duplo del BDC. Por consiguiente en un círculo , &c. L. Q. D. D.

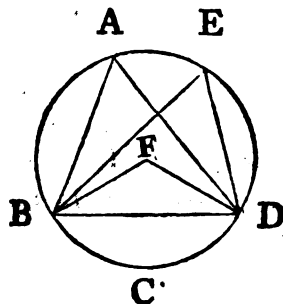


PROP. XXI. TEOR.

**L**OS ángulos , que están en un mismo segmento del círculo , son iguales entre sí.

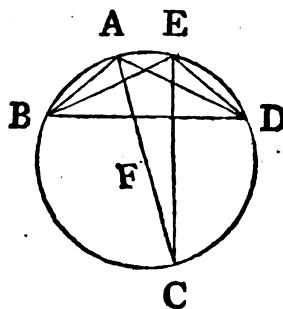
Sea el círculo ABCD, y en su mismo segmento BAED estén los ángulos BAD , BED. Digo , que serán iguales entre sí.

Sea F centro del círculo ABCD. Primeramente supóngase el segmento BA ED mayor que el semicírculo , y tírense las líneas BF , FD : estando , pues , en el centro el ángulo BFD , y el BAD en la circunferencia , é insistiendo ambos en el mismo arco BCD , el ángulo BFD es duplo<sup>a</sup> del BAD : asimismo el BFD es duplo del BED : luego el BAD será igual al BED.



a 20. III.

Pero si el segmento BAED no es mayor que el semicírculo , y en él están los ángulos BAD , BED , estos serán iguales entre sí ; porque tirada la línea AFC por el centro F , y tirando asimismo CE , resultará el segmento BAEC mayor que el semicírculo ; así sus ángulos BAC , BEC serán iguales entre sí : por la misma razon son entre sí iguales los ángulos CAD , CED : luego el BAD será igual al BED. Por consiguiente los ángulos , &c. L. Q. D. D.



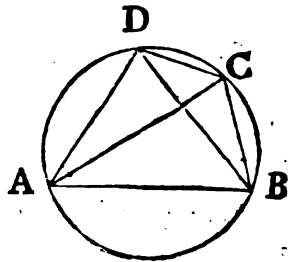
PROP.

PROP. XXII. TEOR.

**L**OS ángulos opuestos de una figura quadrilátera inscrita en el círculo son iguales á dos rectos.

Sea el círculo ABCD, y en él inscrita la figura quadrilátera ABCD. Digo, que sus ángulos opuestos serán iguales á dos rectos.

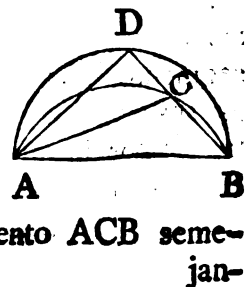
Tírense las líneas AC, BD: siendo los tres ángulos de todo triángulo iguales <sup>a</sup> á dos rectos, serán los tres ángulos CAB, ABC, BCA del triángulo ABC iguales á dos rectos: es así que el CAB es igual <sup>b</sup> al CDB, por estar en el mismo segmento BADC; y el ACB igual al ADB, por estar en el mismo segmento ADCB: luego el ángulo ADC será igual á los BAC, ACB. Añádase el ángulo ABC, y resultarán ABC, CAB, BCA iguales á los ABC, ADC: es así que ABC, CAB, BCA son iguales á dos rectos: luego también lo serán ABC, ADC: semejantemente se demuestra, que los BAD, DCB son iguales á dos rectos. Por consiguiente los ángulos, &c. L. Q. D. D.



PROP. XXIII. TEOR.

**S**OBRE una misma recta, y ácia una misma parte no pueden estar dos segmentos semejantes de círculos, sin que se ajusten mutuamente.

Porque si pudiesen estar sobre la misma recta AB, y ácia la misma parte dos segmentos semejantes de círculos, sin ajustarse mutuamente; séanlo ACB, ADB; y cortando el círculo ACB al ADB en dos puntos A, B, no lo cortará en otro <sup>a</sup>: por consiguiente caerá el un segmento dentro del otro: esto es ACB dentro de ADB; tírese la recta BCD, y las CA, DA. Siendo el segmento ACB semejante



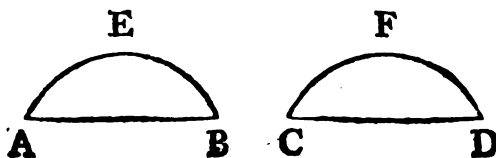
jante al ADB, y semejantes segmentos de círculos los que contienen ángulos iguales <sup>b</sup>, el ángulo ACB sería igual al ADB, el externo á un interno opuesto, lo que es imposible <sup>c</sup>. Por consiguiente sobre, &c. L. Q. D. D. b II. Def. III. c 16. I.

## PROP. XXIV. TEOR.

**L**OS segmentos semejantes de círculos, que están sobre rectas iguales, son iguales entre sí.

Estén sobre las rectas iguales AB, CD los segmentos semejantes de círculos AEB, CFD. Digo, que AEB será igual á CFD.

Porque aplíquese el segmento AEB al CFD, colocando el punto A sobre el C, y la recta AB sobre la CD; caerá el punto B



sobre D, por ser la línea AB igual á CD: luego ajustándose las dos rectas AB, CD; y siendo semejantes los dos segmentos AEB, CFD, y no pudiendo estar sobre una recta AB ácia una misma parte dos segmentos semejantes, sin que se ajusten, se ajustará AEB á CFD <sup>a</sup>: luego serán iguales entre sí. Por consiguiente los segmentos, &c. L. Q. D. D. a 23. III.

## PROP. XXV. PROBL.

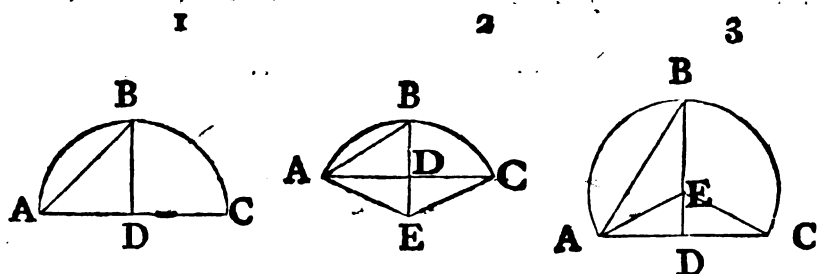
**D**ADO un segmento de círculo describir el círculo.

Sea ABC el segmento dado de círculo, y háyase de describir el círculo.

Divídase por medio <sup>a</sup> la cuerda AC en D: en este punto <sup>a</sup> 10. I. elé-

## 80 ELEMENTOS DE EUCLIDES.

- b 11. I.** elévese  $DB$  <sup>b</sup> perpendicular á  $AC$ , y tírese  $AB$ . Si los ángulos <sup>\*</sup>
- \* Fig. 1.**  $ABD$ ,  $BAD$  resultan entre sí iguales, tambien la recta  $BD$  se-
- c 6. I.** rá igual <sup>c</sup> á  $DA$ , y por consecuencia á  $DC$ : y siendo las tres rectas  $DA$ ,  $DB$ ,  $DC$  iguales entre sí, el punto  $D$  será el cen-
- d 9. III.** tro del círculo <sup>d</sup>: ahora, pues, con centro  $D$ , é intervalo igual á una de las rectas  $DA$ ,  $DB$ ,  $DC$  describase un círculo, que pasará por los demás puntos, y quedará descrito el círculo, de quien es segmento  $ABC$ : y estando el centro  $D$  en la linea  $AC$ ,
- \* Fig. 2.** el segmento  $ABC$  será un semicírculo. Pero si los <sup>\*</sup> ángulos <sup>3</sup>
- 3.**  $ABD$ ,  $BAD$  fuesen desiguales, constrúyase sobre la recta  $AB$  en
- e 23. I.** el punto  $A$  el ángulo  $BAE$  igual <sup>e</sup> al  $ABD$ : prolónguese  $DB$  hasta  $E$ , y tírese  $EC$ : siendo, pues, el ángulo  $ABE$  igual al
- f 23. I.**  $BAE$ , tambien la recta  $BE$  será igual <sup>f</sup> á  $EA$ ; y siendo  $AD$  igual á  $DC$ , y  $DE$  comun, resultarán las dos  $AD$ ,  $DE$  respectiva-



- mente iguales á las dos  $CD$ ,  $DE$ , y el ángulo  $ADE$  igual al  $CDE$ , por ser ambos rectos: luego tambien la base  $AE$  será
- g 4. I.** igual <sup>g</sup> á la  $EC$ : es así que yá está demostrada la igualdad de  $AE$  á  $EB$ , así  $BE$  será igual á  $EC$ , y consiguientemente las tres rectas  $AE$ ,  $EB$ ,  $EC$  serán iguales entre sí, y el punto  $E$  será
- h 9. III.** el centro del círculo <sup>h</sup>: ahora, pues, con dicho centro  $E$ , é intervalo igual á una de las lineas  $AE$ ,  $EB$ ,  $EC$ , describase un círculo, el qual pasará por los demás puntos, y quedará descrito el círculo, de quien  $ABC$  es segmento. Es manifesto, que si el ángulo  $ABD$  fuese mayor que el  $BAD$ , el centro  $E$  caería fuera del segmento  $ABC$ , y que por consiguiente sería menor que un semicírculo; y que si fuese menor caería el centro  $E$  dentro del segmento  $ABC$ , resultando este menor que el semicírculo. Por consiguiente dado, &c. **L. Q. D. H.**

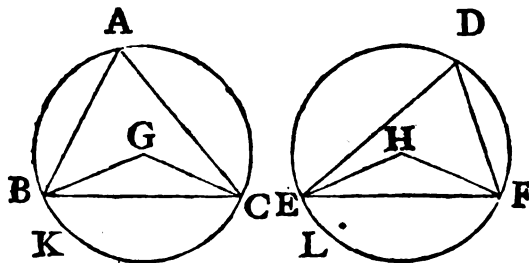
PROP.

## PROP. XXVI. TEOR.

**E**N círculos iguales los ángulos iguales, que están ambos en la circunferencia, ó ambos en el centro, insisten sobre arcos iguales.

Sean iguales los círculos ABC, DEF, y en ellos iguales los ángulos BGC, EHF, que están en los centros; y los BAC, EDF, que están en las circunferencias. Digo, que el arco BKC será igual al ELF.

Tírense las cuerdas BC, EF: siendo iguales los círculos ABC, DEF, también lo serán sus radios: luego BG, BC serán iguales á EH, HF, y el ángulo G igual al H: luego la base BC será igual <sup>a</sup> á la EF; y siendo el ángulo A igual al D, el seg- <sup>a</sup> 4. I.



mento BAC será semejante <sup>b</sup> al EDF; pero están sobre las rec- <sup>b</sup> 11. Def.  
tas iguales BC, EF: es así que semejantes segmentos de círcu- III.  
los, que están sobre rectas iguales, son iguales <sup>c</sup> entre sí: lue- <sup>c</sup> 24. III.  
go el segmento BAC será igual al EDF: pero el círculo ABC  
es igual al círculo DEF: luego el segmento BKC será igual al  
ELF: luego también el arco BKC será igual al ELF. Por con-  
siguiente en círculos, &c. L. Q. D. D.

## PROP. XXVII. TEOR.

**E**N círculos iguales los ángulos, que insisten sobre iguales arcos, estén ambos en los centros, ó en las circunferencias, son iguales entre sí.

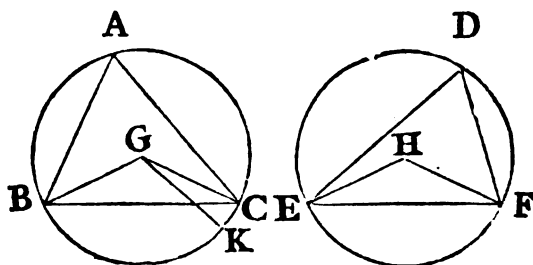
F

Su-

## 82 ELEMENTOS DE EUCLIDES.

Supóngase, que en los círculos iguales ABC, DEF insisten sobre arcos iguales BC, EF los ángulos BGC, EHF en los centros G, H; y los ángulos BAC, EDF en las circunferencias. Digo, que el ángulo BGC será igual al EHF, y el BAC al EDF.

Suponiendo que sea el ángulo BGC igual al EHF, es manifiesto, **a 20. III.** que también el BAC será igual <sup>a</sup> al EDF: pero suponiendo que no sea así, uno de ellos sería mayor; séalo BGC, y constrúyase sobre



**b 23. I.** la recta BG <sup>b</sup> en el punto G el ángulo BGK igual al EHF: es así que los ángulos iguales insisten sobre arcos iguales, quando ambos **c 26. III.** están en los centros <sup>c</sup>: luego el arco BK sería igual al EF: pero EF es igual á BC: luego BK sería igual á BC, la menor á la mayor, lo qual es imposible: luego el ángulo BGC será igual al EHF: además, el ángulo A es la mitad del BGC, y el D mitad del EHF: luego el ángulo A será igual al ángulo D. Por consiguiente en círculos, &c. L. Q. D. D.

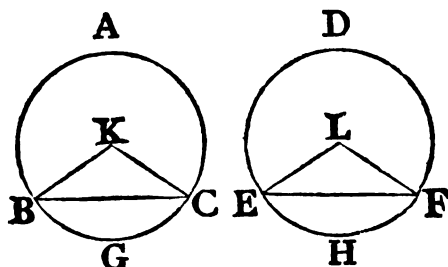
### PROP. XXVIII. TEOR.

**E**N círculos iguales cuerdas iguales dividen las circunferencias en arcos iguales; el mayor al mayor, y el menor al menor.

Sean iguales los círculos ABGC, DEHF, é iguales sus cuerdas BC, EF, las cuales dividan las circunferencias en los arcos mayores BAC, EDF, y en los menores BGC, EHF. Digo, que el arco BAC mayor será igual al EDF mayor, y el BGC menor igual al EHF menor.

**a 1. III.** Porque sean K, L los centros <sup>a</sup>, y tírense las rectas BK, KC, EL, LF: siendo, pues, los círculos iguales entre sí, serán también iguales los radios BK, KC, á los EL, LF, y es la base BC igual

igual á la EF: luego el ángulo BKC será igual <sup>b</sup> al ELF: pero <sup>b</sup> 8. I. ángulos iguales insisten sobre arcos iguales, hallándose ambos



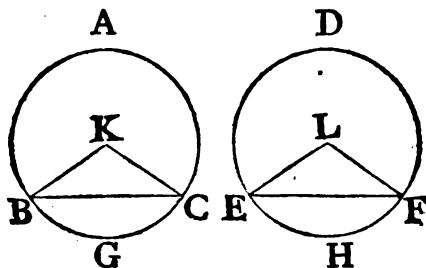
en los centros <sup>c</sup> de círculos iguales: luego el arco BGC será <sup>c</sup> 26. III. igual al EHF: pero el círculo ABC es igual al DEF: luego el arco BAC será igual al EDF. Por consiguiente en círculos, &c. L. Q. D. D.

## PROP. XXIX. TEOR.

**L**AS cuerdas que subtenden arcos iguales de círculos iguales, son iguales.

Sean iguales los círculos ABC, DEF, sean BGC, EHF arcos iguales, y tírense las cuerdas BC, EF. Digo, que la cuerda BC será igual á la EF.

Porque siendo K, L los centros de los círculos <sup>a</sup>, y tiradas <sup>a</sup> 1. III. las líneas BK, KC, EL, LF: siendo el arco BGC igual al EHF,



tambien el ángulo BKC será igual <sup>b</sup> al ELF; y siendo los círculos ABC, DEF iguales, tambien lo serán los radios: luego las dos BK, KC serán iguales á las dos EL, LF; y contienen ángulos iguales: luego la base BC será igual <sup>c</sup> á la EF. Por consiguiente las cuerdas, &c. L. Q. D. D.

F 2

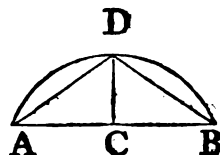
PROP.

## PROP. XXX. PROBL.

**D**IVIDIR en dos partes iguales un arco dado.

Sea el arco dado  $ADB$ , y háyase de dividir en dos partes iguales.

- a 10. I. Tírese la cuerda  $AB$ , divídase <sup>a</sup> por medio en  $C$ ; en este punto elévese  $CD$  perpendicular á  $AB$ , y tírense  $AD$ ,  $DB$ : siendo, pues,  $AC$  igual á  $CB$ , y  $CD$  comun, las dos  $AC$ ,  $CD$  serán iguales á las dos  $BC$ ,  $CD$ , y el ángulo  $ACD$  al  $BCD$ ; por ser ambos rectos: luego la base  $AD$  será igual <sup>b</sup> á la  $BD$ : es así que cuerdas iguales dividen las circunferencias en arcos iguales <sup>c</sup>, el mayor al mayor, y el menor al menor: y las dos  $AD$ ,  $DB$  son menores que el semicírculo: luego el arco  $AD$  será igual al  $DB$ . Por consiguiente el arco dado se ha dividido en dos partes iguales. L. Q. D. H.

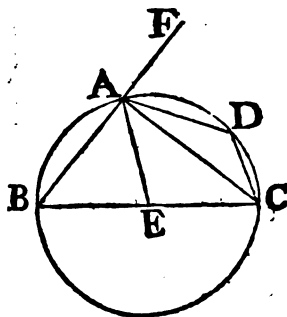


## PROP. XXXI. TEOR.

**E**N el círculo el ángulo, que está en el semicírculo, es recto; el que está en segmento mayor es menor que el recto; y el que está en segmento menor es mayor que el recto.

Sea el círculo  $ABCD$ , su diámetro  $BC$ , y su centro  $E$ , y tírese la línea  $CA$ , que divida al círculo en los segmentos  $ABC$ ,  $ADC$ ; tírense  $DA$ ,  $AD$ ,  $DC$ . Digo, que el ángulo  $BAC$ , que está en el semicírculo, será recto, y el  $ABC$ , que está en el segmento  $ABC$  mayor que el semicírculo, será menor que el recto; y el  $ADC$ , que está en el segmento  $ADC$  menor que el semicírculo, será mayor que el recto.

- Tírese  $AE$ , y prolónguese  $BA$  hasta el punto  $F$ , resultará, que por ser  $BE$  igual á  $EA$ , será también el ángulo  $EAB$  igual <sup>a</sup> al  $EBA$ : además siendo  $AE$  igual á  $EC$ , el ángulo  $EAC$  será igual





igual al  $ECA$  <sup>a</sup>: luego el ángulo  $BAC$  será igual á los dos  $ABC, ACB$ : pero el externo  $FAC$  es igual <sup>b</sup> á los dos internos  $ABC, ACB$ : luego el ángulo  $BAC$  será igual al  $FAC$ : por consiguiente ambos serán rectos <sup>c</sup>, y por tanto el ángulo  $BAC$  en el semicírculo  $BAC$  será recto. b 32. I.  
c Def. 10 I.

Y siendo los dos ángulos  $ABC, BAC$  del triángulo  $ABC$  menores <sup>d</sup> que dos rectos, y el  $BAC$  recto, el  $ABC$  será menor que el recto: el qual está en el segmento  $ABC$  mayor que el semicírculo. d 17. I.

Estando, pues, en el círculo el cuadrilátero  $ABCD$ ; y siendo los ángulos opuestos de los cuadriláteros inscritos en los círculos iguales á dos rectos, serán los ángulos  $ABC, ADC$  iguales <sup>e</sup> á dos rectos: es así que el ángulo  $ABC$  es menor que el recto: luego el  $ADC$  será mayor que el recto: el qual está en el segmento  $ABC$  menor que el semicírculo. L. Q. D. D. e 22. III.

Es evidente, que el arco  $AB$  cae fuera de la recta  $AB$ , la qual con  $AC$ , esto es con la base del segmento, contiene un ángulo recto ácia la parte del segmento mayor  $ABC$ : y que el arco  $AD$  cae dentro de la recta  $AF$ , la qual con  $AC$  contiene un ángulo recto ácia la parte del segmento menor  $ADC$ . "Esto, y no otra cosa se ha de entender, quando el texto Griego, y las Versiones dicen, que el ángulo del segmento mayor es mayor, y el del segmento menor es menor que un ángulo recto."

COR. De aquí se deduce manifestamente, que si un ángulo de un triángulo fuese igual á los otros dos, será recto; porque prolongado uno de los lados que lo forman, el ángulo externo le será igual, por serlo á los otros dos ángulos; y quando los dos ángulos formados por una recta que encuentra á otra son iguales, ambos son rectos <sup>c</sup>.

c Def. 10.  
I.

### PROP. XXXII. TEOR.

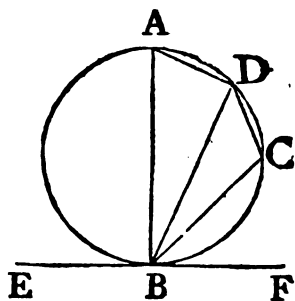
**S**I una recta toca á un círculo, y del punto de contacto se tira otra que lo corte; los ángulos, que forme la secante con la tangente, serán iguales á los que están en los segmentos alternos del círculo.

F-3

Su-

Supóngase, que la recta EF toca al círculo ABCD en el punto B, del qual tírese la recta BD, que corte al círculo. Digo, que los ángulos, que la secante BD forma con la tangente EF, serán iguales á los que están en los segmentos alternos del círculo; esto es que el ángulo FBD será igual al que está en el segmento DAB; y el DBE al que está en el segmento BCD.

- a 11. I. Porque tirada en el punto B la linea BA perpendicular <sup>a</sup> á EF, y la recta BC del punto B á qualquier punto C del arco BD, tírense las lineas AD, DC: por ser BA perpendicular á la tangente EF en el punto de contacto B,
- b 19. III. será el diámetro <sup>b</sup>: luego el ángulo ADB estará en el semicírculo, y por consiguiente
- c 31. III. será recto <sup>c</sup>: luego los demás ángulos BAD, ABD del triángulo ADB serán iguales á un recto <sup>d</sup>; pero ABF es recto: luego ABF será igual á BAD, ABD: quitando el ABD comun, resultará DBF, formado por la tangente, y la secante, igual al BAD, que está en el segmento alterno del círculo: además, estando el quadrilátero ABCD inscrito en el
- e 22. III. círculo, sus ángulos opuestos serán iguales á dos rectos <sup>e</sup>: luego
- f 13. I. los ángulos BAD, BCD serán iguales á los DBF, DBE <sup>f</sup>: de los cuales la igualdad del primero al BAD ya está demostrada: luego el DBE será asimismo igual al DCB, que está en el segmento alterno del círculo. Por consiguiente si una recta, &c. L. Q. D. D.



## PROP. XXXIII. PROBL.

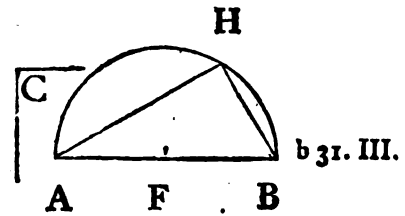
**D**ESCRIBIR sobre una recta dada un segmento de círculo capaz de contener un ángulo igual á un ángulo rectilíneo dado.

Sea la recta dada AB, y el ángulo rectilíneo dado C: y háyase de describir sobre dicha recta un segmento de círculo, capaz de contener un ángulo igual al C.

Pri-

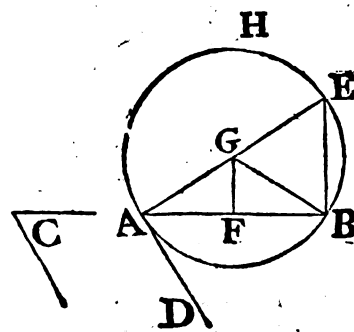
Primeramente supóngase recto el ángulo  $C$ : divídase  $a$  por  $a$  10. I. medio la línea  $AB$  en el punto  $F$ , y de este como centro con intervalo  $FA$  descríbase el semicírculo  $AHB$ ; resultará el ángulo  $AHB$ , que está en el semicírculo, igual  $b$  al recto  $C$ .

$C$ : divídase  $a$  por  $a$  10. I.



b 31. III.

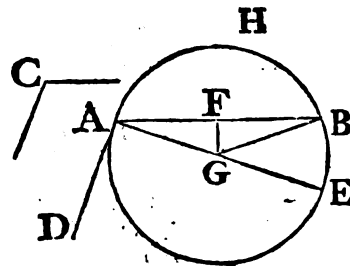
Pero demos que no sea recto el ángulo  $C$ : en el punto  $A$  sobre la recta  $AB$  constrúyase el ángulo  $BAD$  igual  $c$  al dado  $C$ : en el mismo punto elévese  $d$  la línea  $AE$  perpendicular á  $AD$ , la  $AB$  divídase  $e$  por medio en el punto  $F$ , y en este elévese  $FG$  perpendicular á  $AB$ : asimismo tírese la línea  $GB$ . Siendo  $AF$  igual á  $FB$ , y  $FG$  comun, las dos  $AF$ ,  $FG$  resultarán iguales á las dos  $BF$ ,  $FG$ ; y el ángulo  $AFG$  igual al  $BFG$ : luego la base  $AG$  será igual á la  $GB$ : por consiguiente el círculo descrito con centro  $G$ , é intervalo  $GA$  pasará por el punto  $B$ . Descríbase el tal círculo  $AHB$ : y por quanto en el punto  $A$ , extremo del diámetro  $AE$ , se ha tirado  $AD$  perpendicular á  $AE$ , será  $AD$  tangente del círculo  $f$ : y encontrando asimismo al círculo  $AHB$  en el punto de contacto  $A$  la recta  $AB$ , que corta al círculo, resultará el ángulo  $DAB$  igual al que esté en el segmento alterno  $AHB$  del círculo: es así que el ángulo  $DAB$  es igual al  $C$ : luego  $C$  será igual al que esté en el segmento  $AHB$ . Por consiguiente sobre la recta dada  $AB$  se ha descrito, &c.  $L. Q. D. H.$



c 23. I.

d 11. I.

e 10. I.



f 16. III.

PROP. XXXIV. PROBL.

**C**ORTAR de un círculo dado un segmento capaz de con- tener un ángulo igual á un ángulo rectilíneo dado.

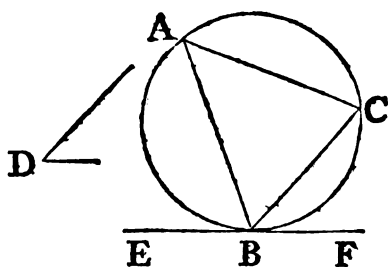
Sea el círculo dado ABC, D el ángulo rectilíneo dado, y háyase de cortar de dicho círculo un segmento capaz de con- tener un ángulo igual al dado D.

a 17. III. Tírese la recta EF, que toque <sup>a</sup> al círculo ABC en el punto B; y en el punto B sobre la BF constrúya-

b 23. I. se el ángulo FBC igual al D <sup>b</sup>: tocan- do, pues, la recta EF al círculo ABC,

c 32. III. y tirada del punto de contacto B la BC, resultará el ángulo FBC igual <sup>c</sup>

al ángulo formado en el segmento alterno BAC del círculo: es así que el FBC es igual al D: luego el que está en el segmento BAC será igual al D. Por consiguiente del círculo dado ABC se ha cortado, &c. L. Q. D. H.

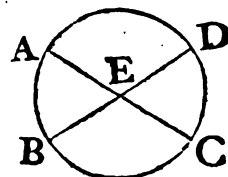


PROP. XXXV. TEOR.

**S**I en el círculo dos cuerdas se cortan mutuamente; el rectángulo contenido por los segmentos de la una será igual al contenido por los segmentos de la otra.

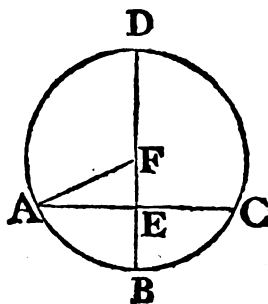
Córtense mutuamente en el círculo ABCD las dos cuerdas AC, BD en el punto E. Digo, que el rectángulo contenido por los segmentos AE, EC será igual al contenido por los BE, ED.

Porque si las cuerdas AC, BD pasan por el centro, ó lo que es lo mismo, el punto de interseccion E es el centro del círculo ABCD, es manifiesto, que por ser iguales AE, EC, BE, ED, será el rec-



rectángulo contenido por AE, EC igual al contenido por BE, ED.

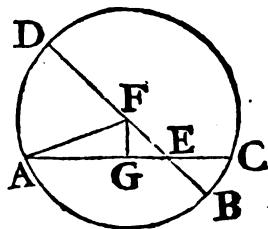
Mas demos, que solo BD, una de las dos cuerdas, pase por el centro, y á mas corte perpendicularmente en el punto E á AC, que no pasa por el centro: cortada por medio BD en el punto F, este será el centro del círculo ABCD: tírese AF; y respecto que BD tirada por el centro corta en E perpendicularmente á AC, que no pasa por el centro, serán iguales <sup>a</sup> entre sí las líneas AE, EC: y habiéndose cortado la recta BD en partes iguales en F, y en partes desiguales en E, será el rectángulo contenido por EB, ED junto con el cuadrado de EF igual al cuadrado de FB <sup>b</sup>, esto es al de FA: es así que al cuadrado de FA son iguales los cuadrados de AE, EF <sup>c</sup>: luego el rectángulo BE, ED junto con el cuadrado de EF será igual á los cuadrados de AE, EF: quítese el cuadrado comun de EF, y el rectángulo BE, ED resultará igual al cuadrado de AE, esto es al rectángulo contenido por AE, EC.



b 5. II.

c 47. I.

Supongamos que BD pasa por el centro F cortando, y no perpendicularmente, en E á AC, que no pasa por el centro; tírese FA, y bájese FG perpendicular <sup>d</sup> á AC; resultará AG igual <sup>d</sup> á GC <sup>e</sup>: y por consiguiente el rectángulo de AE, EC junto con el cuadrado de EG será igual al cuadrado de AG <sup>f</sup>: añádase el cuadrado comun de GF, y resultará el rectángulo AE, EC junto con los cuadrados de EG, GF igual á los cuadrados de AG, GF: pero el cuadrado de EF es igual á los de EG, GF, y el de AF igual <sup>g</sup> á los de AG, GF: luego el rectángulo AE, EC junto con el cuadrado de EF será igual al cuadrado de AF; esto es al de FB: es así que á este último es igual el rectángulo BE, ED junto con el cuadrado de EF <sup>h</sup>: luego el rectángulo AE, EC junto con el cuadrado de EF será igual al rectángulo BE, ED junto con el cuadrado de EF: quítese el cuadrado comun de EF, y quedará el rectángulo AE, EC igual al BE, ED.

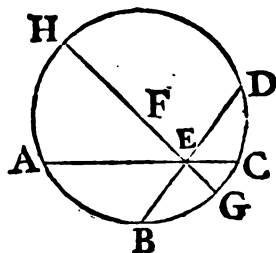


g 47. I.

UI-

90 ELEMENTOS DE EUCLIDES.

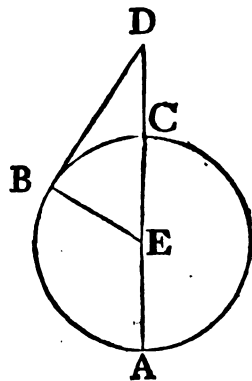
Ultimamente demos, que ninguna de las rectas AC, BD pase por el centro F; y por el punto de interseccion E de las cuerdas AC, BD tírese el diámetro GEFH: estando ya demostrada la igualdad del rectángulo AE, EC al rectángulo GE, EH, y por consiguiente tambien la del BE, ED al GE, EH, será el rectángulo contenido por AE, EC igual al contenido por BE, ED. Por consiguiente sien el círculo, &c. L. Q. D. D.



PROP. XXXVI. TEOR.

SI de un punto fuera del círculo se tira una tangente, y una secante hasta encontrar la circunferencia en la parte cóncava; el rectángulo contenido por la secante, y por su parte externa (esto es la que está fuera del círculo) será igual al quadrado de la tangente.

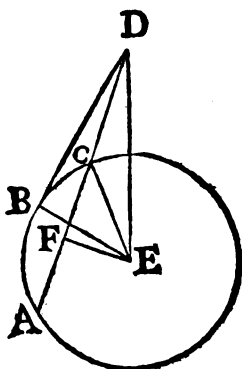
Tómese fuera del círculo ABC el punto D, del qual al círculo tírense dos rectas DCA, DB, la primera que lo corte, y la segunda que lo toque. Digo, que el rectángulo contenido por AD, DC será igual al quadrado de DB.



- a 18. III. recto <sup>a</sup>: hallándose pues dividida por medio en E la recta AC parte de la AD, el rectángulo contenido por AD, DC junto con el quadrado de EC será igual al quadrado de ED <sup>b</sup>:
- b 6. II. es así que CE es igual á CB: luego el rectángulo contenido por AD, DC junto con el quadrado de EB será igual al quadrado de ED; pero el quadrado de ED es
- c 47. I. igual á los de EB, BD <sup>c</sup>, por ser el ángulo EBD recto: luego

go el rectángulo contenido por AD, DC junto con el quadrado de EB será igual á los quadrados de EB, BD: y quitando el quadrado comun de EB, quedará el rectángulo contenido por AD, DC igual al quadrado de la tangente DB.

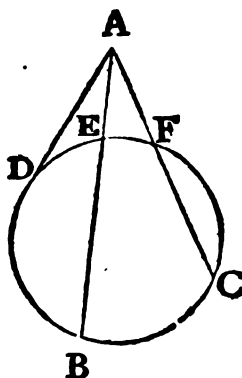
Pero si DCA no pasa por el centro E<sup>d</sup> del círculo ABC, <sup>d 1. III.</sup> bájese EF<sup>e</sup> perpendicular á AC: tírense EB, EC, ED, será <sup>e 12. I.</sup> el ángulo EFD recto: y dividiendo perpendicularmente la recta EF, que pasa por el centro á la recta AC, que no pasa por el centro, la dividirá <sup>f 3. III.</sup> en dos partes iguales: luego AF será <sup>f 3. III.</sup> igual á FC: hallándose pues la recta AC dividida por medio en F, y siendo AC parte de CD, resultará el rectángulo contenido por AD, DC junto con el quadrado de FC igual al quadrado de FD <sup>g 6. II.</sup> g: añádase el quadrado de FE, y resultará el rectángulo <sup>g 6. II.</sup> contenido por AD, DC junto con los quadrados de CF, FE



igual á los quadrados de DF, FE: es así que á estos últimos quadrados es igual el de ED, por ser recto el ángulo EFD: á mas de esto, el quadrado de EC es igual á los de CF, FE: luego el rectángulo contenido por AD, DC junto con el quadrado de EC será igual al quadrado de ED; pero á este último son iguales los de EB, BD, por ser recto <sup>h 18. III.</sup> el ángulo <sup>h 18. III.</sup> EBD: luego el rectángulo contenido por AD, DC junto con el quadrado de EB será igual á los quadrados de EB, BD: quítese el quadrado comun de EB, y el rectángulo contenido por AD, DC será igual al quadrado de DB. Por consiguiente si de un, &c. L. Q. D. D.

COR.

COR. De aquí es, que si de qualquier punto fuera del círculo se tiran á él las rectas  $AB$ ,  $AC$ , que lo corten, los rectán-



gulos contenidos por las secantes, y por sus partes externas; es á saber el rectángulo de  $BA$ ,  $AE$ , y el de  $CA$ ,  $AF$  serán iguales entre sí, por ser ambos iguales al quadrado de la tangente  $AD$ .

### PROP. XXXVII. TEOR.

**S**I de un punto fuera del círculo se tiran dos rectas, una que lo corte terminándose en su circunferencia cóncava, y otra que lo encuentre, y el rectángulo de la secante por su parte externa es igual al quadrado de la recta que encuentra al círculo; esta le será tangente.

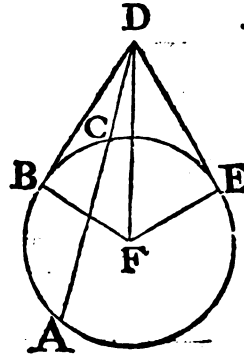
Tómese fuera del círculo  $ABC$  un punto  $D$ , y de él tírense las dos rectas  $DCA$ ,  $DB$ ; de manera que la primera corte al círculo, y la segunda lo encuentre, y que sea el rectángulo contenido por  $AD$ ,  $DC$  igual al quadrado de  $BD$ . Digo, que  $DB$  tocará al círculo propuesto.

<sup>a</sup> 17. III. Tírese del punto  $D$  la tangente  $DE$  <sup>a</sup>, y del centro  $F$  las líneas  
<sup>b</sup> 18. III.  $FE$ ,  $FB$ ,  $FD$ , resultará el ángulo  $FED$  <sup>b</sup> recto: tocando la recta  $DE$  á la circunferencia  $ABC$ , y cortándola la  $DCA$ , el  
 rec-



rectángulo contenido por AD, DC será igual al quadrado de DE <sup>c</sup>: pero el rectángulo de AD, DC es igual al quadrado de BD: luego el quadrado de DE será igual al de DB; y por tanto la línea DE igual á la DB: es así que tambien FE es igual á FB: luego las dos DE, EF serán iguales á las dos DB, BF, y la base FD comun: luego el ángulo DEF será igual al DBF <sup>d</sup>; pero el DEF es recto: luego tambien lo será DBF; y la FB prolongada será el diámetro; pero la recta perpendicular al diámetro del círculo en su extremo toca al círculo <sup>e</sup>: luego DB tocará al círculo ABC. Por <sup>e</sup> 16. III, consiguiente si de un, &c. L. Q. D. D.

c 36. III.



d 8. I.

ELE-


# ELEMENTOS DE EUCLIDES.

## LIBRO CUARTO.

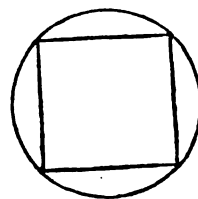
### DEFINICIONES.

**I.**  
**S**E dice, que una figura rectilínea está inscrita en otra, quando cada uno de los ángulos de esta toca cada uno de los lados de aquella, en que está inscrita.

**II.**  
Semejantemente se dice, que una figura está circunscrita á otra, quando cada uno de los lados de la circunscrita toca cada uno de los ángulos de aquella, á que está circunscrita.

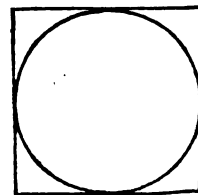


**III.**  
Una figura rectilínea está inscrita en un círculo, quando cada uno de los ángulos de la figura toca la circunferencia del círculo.



**IV.**  
Una figura rectilínea está circunscrita á un círculo, quando cada uno de los lados de la figura toca la circunferencia del círculo.

**V.**  
Asimismo se dice, que un círculo está inscrito en una figura rectilínea, quando cada uno de los lados de la figura toca la circunferencia del círculo que está inscrito.



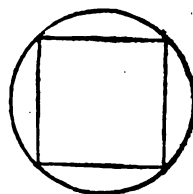
Un

## VI.

Un círculo está circunscrito á una figura rectilínea, quando su circunferencia toca cada uno de los ángulos de la figura, á que está circunscrito.

## VII.

Una recta está aplicada á un círculo, quando los extremos de ella se hallan en la circunferencia de este.

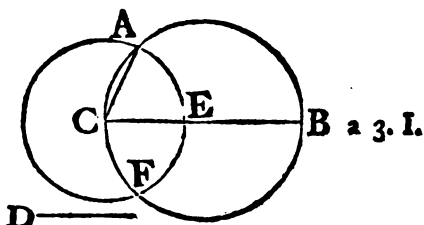


## PROP. I. PROBL.

**A**PLICAR á un círculo dado una recta igual á otra dada, que no sea mayor que su diámetro.

Sea el círculo dado ABC, y la recta dada D no mayor que el diámetro del círculo, y háyase de aplicar al círculo propuesto una recta igual á la recta dada D.

Tírese el diámetro BC del círculo ABC; y si BC fuese igual á la línea D, quedará resuelto el problema; pues en el círculo ABC se habría aplicado la línea BC igual á la recta D: si no fuese igual, será BC mayor que D; córtese CE igual á D, y con centro C, é intervalo CE describese el círculo AEF, y tírese la línea CA: siendo, pues, el punto C centro del círculo AEF, la línea CA será igual á la CE: es así que á esta es igual la D: luego también lo será á CA: por consiguiente al círculo dado ABC se ha aplicado la línea AC igual á la recta dada D, no siendo mayor, que el diámetro del círculo. L. Q. D. H.



## PROP. II. PROBL.

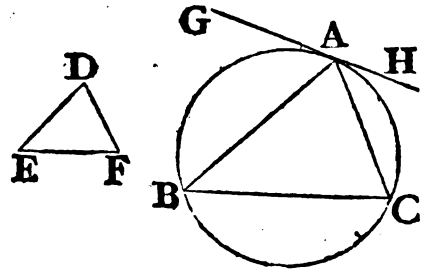
**I**NSCRIBIR en un círculo dado un triángulo equiángulo á otro dado.

Sea el círculo ABC, y el triángulo dado DEF; y háyase de ins-

96 ELEMENTOS DE EUCLIDES.

inscribir en dicho círculo un triángulo equiángulo al triángulo DEF.

- <sup>a</sup> 17. III. Tírese la recta GAH, que toque al círculo <sup>a</sup> ABC en el punto  
<sup>b</sup> 23. I. A ; y en este punto de la recta AH constrúyase el ángulo <sup>b</sup>  
 HAC igual al DEF : asimismo  
 en el punto A de la recta AG  
 constrúyase el ángulo GAB igual  
 al DFE , y tírese la línea BC : to-  
 cando , pues , la recta HAG al  
 círculo ABC , y habiéndose tirado  
 del punto de contacto la línea  
 AC , el ángulo HAC será igual al  
<sup>c</sup> 23. III. que está en el segmento <sup>c</sup> alter-  
 no del círculo , esto es al ABC : es así que el HAC es igual al  
 DEF : luego tambien el ABC será igual al DEF : por la misma  
<sup>d</sup> 32. I. razon el ACB será igual al DFE : luego el BAC será igual <sup>d</sup> al  
 EDF : pero el triángulo ABC es equiángulo al DEF : y está inscri-  
 to en el círculo ABC. Por consiguiente se ha inscrito, &c. L.Q.D.H.

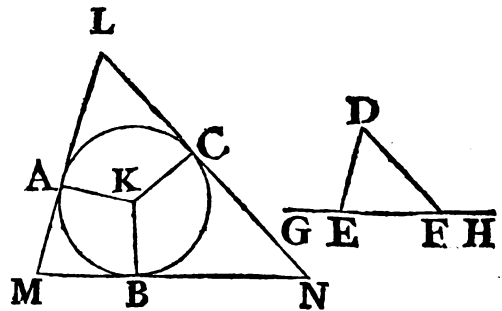


PROP. III. PROBL.

**C**IRCUNSCRIBIR á un círculo dado un triángulo equián-  
 gulo á otro triángulo dado.

Sea el círculo dado ABC, y el triángulo dado DEF, y háyase  
 de circunscribir al círculo  
 propuesto un triángulo equián-  
 gulo al triángulo DEF.

Prolónguese por ambas par-  
 tes la línea EF hasta los pun-  
 tos G, H; sea K el centro del  
 círculo ABC, y tírese la recta  
 KB del centro K á qualquier  
 punto B de la circunferencia:  
 asimismo constrúyase en el



- <sup>a</sup> 23. I. punto K sobre la recta KB el ángulo <sup>a</sup> BKA igual al DEG , y  
 BKC <sup>a</sup> igual á DFH; y por los puntos A, B, C tírense las rectas  
 LAM,

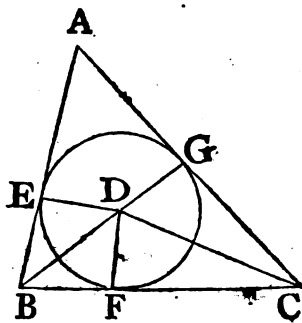
LAM, MBN, NCL tangentes al círculo ABC <sup>b</sup>: tocando, pues, <sup>b</sup> 17. III. las líneas LM, MN, NL en los puntos A, B, C al círculo ABC, y habiéndose tirado del centro K á los puntos A, B, C las rectas KA, KB, KC, serán rectos <sup>c</sup> los ángulos en A, B, C: siendo <sup>c</sup> 18. III. los quatro ángulos del quadrilátero AMBK iguales á quatro rectos, por poderse dividir en dos triángulos, y siendo sus dos ángulos KAM, KBM rectos; serán los AKB, AMB iguales á dos rectos: es así que tambien los DEG, DEF son iguales á dos rectos <sup>d</sup>: <sup>d</sup> 13. I. luego los ángulos AKB, AMB serán iguales á los DEG, DEF; de los cuales el AKB es igual al DEG: luego el AMB será igual al DEF. Semejantemente se demostrará la igualdad del ángulo LNM al DFE: luego el MLN será igual al EDF <sup>e</sup>: luego el <sup>e</sup> 32. I. triángulo LMN será equiángulo al DEF; y está circunscrito al círculo ABC. Por consiguiente se ha circunscrito. L. Q. D. H.

## PROP. IV. PROBL.

**I**NSCRIBIR un círculo en un triángulo dado.

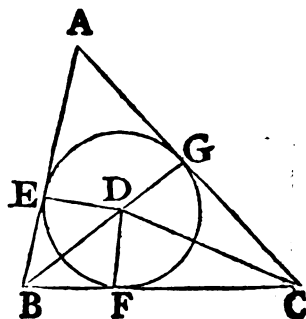
Sea el triángulo dado ABC, y háyase de inscribir en él un círculo.

Divídanse <sup>a</sup> en dos partes iguales los ángulos ABC, BCA <sup>a</sup> 9. I. por las rectas BD, CD, que se dividirán en el punto D, del qual á las rectas AB, BC, CA bájense las perpendiculares <sup>b</sup> DE, DF, DG. Siendo el ángulo EBD igual al FBD, por haberse dividido en dos partes iguales el ABC, y asimismo BED, y BFD rectos, resultarán los dos triángulos EBD, FBD con dos ángulos iguales á dos ángulos, y el lado BD común á ambos, opuesto á ángulos iguales: luego tendrán tambien los demas lados entre sí iguales <sup>c</sup>; por <sup>c</sup> 26. I. consiguiente DE igual á DF: asimismo DG será igual á DF: luego las tres rectas DE, DF, DG serán iguales entre sí: consi-  
G



<sup>b</sup> 12. I.

guientemente el círculo descrito con centro D, é intervalo una de las líneas DE, DF, DG, pasará por los puntos E, F, G, y tocará á las rectas AB, BC, CA, por ser rectos los ángulos en E, F, G: pero la recta perpendicular al diámetro en su extremo toca <sup>d</sup> al círculo: luego qualquiera de las líneas AB, BC, CA tocará al círculo: y así este se hallará inscrito en el triángulo ABC. Por consiguiente queda inscrito, &c. L. Q. D. H.

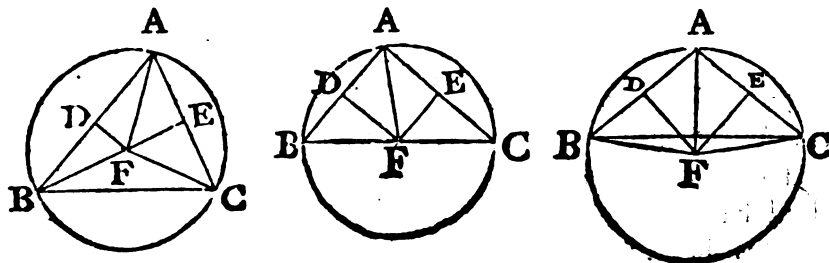


PROP. V. PROBL.

**C**IRCUNSCRIBIR un círculo á un triángulo dado.

Sea el triángulo dado ABC; y háyasele de circunscribir un círculo.

<sup>a</sup> 10. I. Divídanse <sup>a</sup> por medio los lados AB, AC en los puntos D, E, de los quales tírense las <sup>b</sup> DF, EF perpendiculares á AB, AC; y estas prolongadas necesariamente se cortarán; pues si no, serían entre sí paralelas, y por consiguiente las líneas AB, AC, que



son perpendiculares á ellas, serían tambien paralelas, lo qual es absurdo: córtense en el punto F, y tírense BF, FC, FA: siendo, pues, AD igual á DB, DF comun, y rectos los ángulos <sup>c</sup> 4. I. comprendidos por ellas, será la base AF igual <sup>c</sup> á la FB: semejantemente se demostrará, que FC es igual á FA: luego tambien BF será igual á FC: luego las tres FA, FB, FC serán entre sí

sí iguales: finalmente el círculo descrito con centro F, é intervalo una de las líneas FA, FB, FC, pasará por los demás puntos, y estará circunscrito al triángulo ABC. Por consiguiente se ha circunscrito, &c. L. Q. D. H.

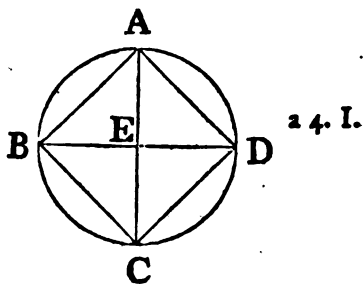
**COR.** Es evidente, que si el centro del círculo cae dentro del triángulo, cada uno de sus ángulos será menor que el recto, pues está en segmento mayor que el semicírculo; pero si el centro cayese en uno de los lados, el ángulo opuesto á este lado, por estar en el semicírculo, será recto: y si el centro cayese fuera del triángulo ácia algun lado, el ángulo opuesto á dicho lado, por estar en segmento menor que el semicírculo, será mayor que el recto <sup>d</sup>: por consiguiente si el triángulo dado fuere <sup>d 31. III</sup> acutángulo, el centro del círculo caerá dentro de él; si rectángulo, caerá en el lado opuesto al ángulo recto; y si obtusángulo, caerá fuera de él ácia el lado opuesto al ángulo obtuso.

## PROP. VI. PROBL.

**I**NSCRIBIR un quadrado en un círculo dado.

Sea el círculo dado ABCD, y háyase de inscribir en él un quadrado.

Tírense los diámetros AC, BD del círculo ABC perpendiculares entre sí: tírense tambien las líneas AB, BC, CD, DA. Siendo, pues, BE igual á ED, por ser E el centro, y EA comun, y perpendicular; resultará la base BA igual á la AD <sup>a</sup>: por la misma razon ambas líneas BC, y CD serán iguales á las dos BA, AD: luego el quadrilátero ABCD será equilátero. Añado, que será rectángulo; pues siendo la recta BD diámetro del círculo ABCD, BAD será el semicírculo: consiguientemente el ángulo BAD será recto <sup>b</sup>: <sup>b 31. III.</sup> del mismo modo se demuestra, que cada uno de los ángulos ABC, BCD, CDA es recto: luego el quadrilátero ABCD será rectángulo: y ya antes se demostró ser equilátero: luego será



G 2

un



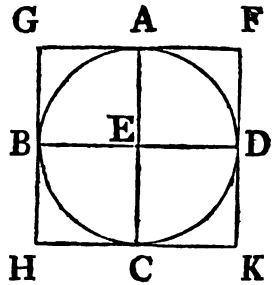
un quadrado: además está inscrito en el círculo ABCD. Por consiguiente se ha inscrito, &c. L. Q. D. H.

PROP. VII. PROBL.

**C**IRCUNSCRIBIR un quadrado á un círculo dado.

Sea el círculo dado ABCD, y háyasele de circunscribir un quadrado.

Tírense dos diámetros AC, BD del círculo ABCD perpendiculares entre sí; y por los puntos A, B, C, D tírense las rectas <sup>a</sup> FG, GH, HK, KF tangentes al círculo ABCD. Tocando, pues, FG á dicho círculo, y tirada EA del centro E al punto <sup>b</sup> de contacto A, los ángulos en A serán rectos <sup>b</sup>: por la misma razón serán rectos los ángulos en B, C, D: así siendo el ángulo AEB recto, y también el EBG, GH será paralela <sup>c</sup> á AC; y asimismo será AC paralela á FK: semejantemente se demuestra, que GF, HK son ambas paralelas á BE, ED: luego GK, GC, AK, FB, BK serán paralelogramos: luego GF será igual <sup>d</sup> á HK, y GH á FK: pero siendo AC igual á BD, y AC igual á las dos GH, FK, y BD igual á GF, HK, también las GH, FK serán ambas iguales á las dos GF, HK: luego el quadrilátero FGHK será equilátero. Añado, que será rectángulo; porque siendo GBEA un paralelogramo, y el ángulo AEB recto, también será recto el ángulo AGB: semejantemente se demuestra ser rectos los ángulos H, K, F: luego el quadrilátero FGHK será rectángulo: y antes queda demostrado ser equilátero: luego será quadrado: además, está circunscrito al círculo ABCD. Por consiguiente se ha circunscrito, &c. L. Q. D. H.



PROP. VIII. PROBL.

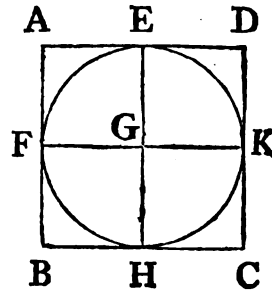
**I**NSCRIBIR un círculo en un quadrado dado.

Sea



Sea el quadrado dado ABCD, y háyasele de inscribir un círculo.

Divídanse por medio <sup>a</sup> los dos lados AB, AD en los puntos <sup>a</sup> 10. I. F, E, y por E tírese EH paralela <sup>b</sup> á una de las dos AB, CD: <sup>b</sup> 31. I. asimismo por F tírese FK paralela á una de las dos AD, BC; resultarán AK, KB, AH, HD, AG, GC, BG, GD paralelogramos, y sus lados opuestos iguales <sup>c</sup>: y siendo la recta AD <sup>c</sup> 34. I. igual á AB, y AE mitad de AD, como tambien AF mitad de AB, resultará AE igual á AF: consiguientemente los lados opuestos serán iguales: luego FG será igual á GE: semejantemente se demuestra, que GH, GK son ambas iguales á las dos FG, GE: luego las quatro GE, GF, GH, GK serán entre sí iguales: así el círculo descrito con centro G, é intervalo una de las líneas GE, GF, GH, GK pasará por todos los puntos E, K, H, F, y tocará á las rectas AB, BC, CD, DA, por ser rectos <sup>d</sup> los ángulos en E, F, H, K, pues la recta perpendicular <sup>d</sup> 29. I. tirada al diámetro del círculo en su extremo toca al círculo <sup>e</sup>: <sup>e</sup> 16. III. luego cada una de las AB, BC, CD, DA tocará al círculo <sup>e</sup>: y este se hallará inscrito en el quadrado ABCD. Por consiguiente se ha inscrito, &c. L. Q. D. H.

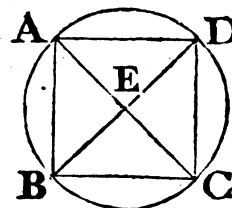


PROP. IX. PROBL.

CIRCUNSCRIBIR un círculo á un quadrado dado.

Sea el quadrado dado ABCD, y háyasele de circunscribir un círculo.

Tírense las diagonales AC, BD, las quales se cortarán en E. Siendo DA igual á AB, y AC comun, los dos lados DA, AC serán iguales á los dos BA, AC, y la base DC igual á la BC: consiguientemente el ángulo DAC será igual <sup>a</sup> al BAC: luego el ángulo DAB quedará dividido en dos partes iguales por la

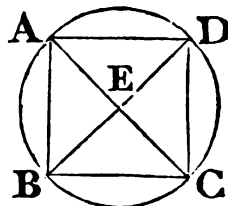


<sup>a</sup> 8. I.

G 3

rec-

recta AC : asimismo se demuestra , que qualquiera de los ángulos ABC , BCD, CDA está dividido en dos partes iguales por las rectas AC, BD: siendo, pues, el ángulo DAB igual al ABC, y el EAB mitad del DAB, y el EBA mitad del ABC, resultará el ángulo EAB igual al EBA : luego

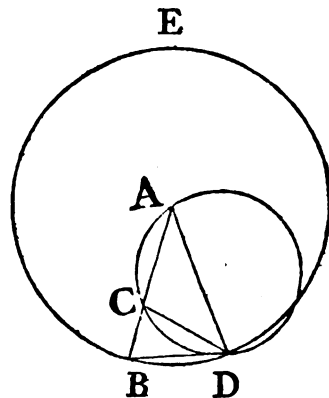


6. I. tambien el lado EA será igual <sup>b</sup> al EB: semejantemente se demuestra ser las dos rectas EC, ED iguales á las EA, EB: luego las quatro rectas EA, EB, EC, ED serán iguales entre sí: luego el círculo descrito con centro E, é intervalo una de las lineas EA, EB, EC, ED pasará por todos los puntos A, B, C, D, y estará circunscrito al quadrado ABCD. Por consiguiente se ha circunscrito, &c. L. Q. D. H.

PROP. X. PROBL.

**C**ONSTRUIR un triángulo isósceles, cuyos ángulos en la base sean cada uno duplo del ángulo vertical.

- Tírese la recta AB, y divídase en C de manera, que el rectángulo contenido por AB, BC sea igual al quadrado de CA <sup>a</sup>; con centro A, é intervalo AB describase el círculo BDE, y aplíquesele la recta BD igual <sup>b</sup> á la parte AC: tírense las lineas DA, DC, y circunscríbase el círculo ACD al triángulo ADC <sup>c</sup>. Digo, que el triángulo isósceles ABD tendrá los dos ángulos ABD, ADB en la base duplos del ángulo BAD vertical.



Porque siendo el rectángulo de AB, BC igual al quadrado de AC, y AC igual á BD, será tambien el rectángulo de AB, BC igual al quadrado de BD: pero siendo BCA, BD dos rectas tiradas del punto B fuera del círculo ACD, de las cuales BCA corta al círculo, y BD lo encuentra; y á mas de esto, siendo el rectángulo de AB, BC igual al

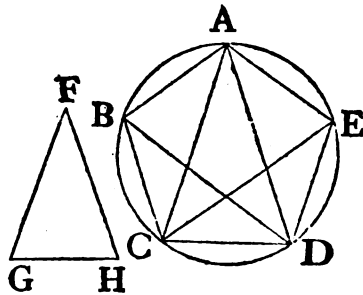
al cuadrado de BD, esta tocará <sup>d</sup> al círculo; y por ser BD tan- <sup>d</sup> 37. III.  
 gente, y DC tirada del punto de contacto D, resultará el ángu-  
 lo BDC igual al DAC, por estar en el segmento <sup>e</sup> alterno del <sup>e</sup> 32. III.  
 círculo: añadiendo á ambos el ángulo comun CDA, el BDA  
 será igual á los dos CDA, DAC: pero es igual á estos dos el  
 externo BCD <sup>f</sup>: luego tambien BDA será igual al BCD: es así <sup>f</sup> 32. I.  
 que el BDA es igual al CBD, por ser el lado AD igual <sup>g</sup> al <sup>g</sup> 5. I.  
 AB: luego tambien CBD, esto es DBA será igual á BCD: lue-  
 go los tres ángulos BDA, DBA, BCD serán entre sí iguales:  
 y siendo el ángulo DBC igual al BCD, tambien el lado BD  
 será igual <sup>h</sup> al DC; pero BD es igual á CA: luego tambien <sup>h</sup> 6. I.  
 será CA igual á CD, y así el ángulo CDA será igual <sup>i</sup> al <sup>i</sup> 5. I.  
 DAC: luego los CDA, DAC juntos serán duplos del DAC; pe-  
 ro el BCD es igual á los CDA, DAC: luego tambien será du-  
 plo del DAC: es así que el BCD es igual á los BDA, DBA:  
 luego los dos BDA, DBA serán duplos del DAB. Por consi-  
 guiente se ha construido, &c. L. Q. D. H.

PROP. XI. PROBL.

**I**NSCRIBIR en un círculo dado un pentágono equiláte-  
 ro, y equiángulo.

Sea el círculo dado ABCDE, y háyasele de inscribir un pen-  
 tágono equilátero, y equiángulo.

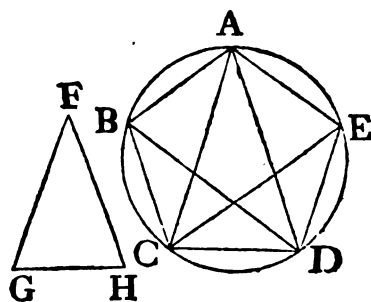
Constrúyase un triángulo isósceles  
 FGH, que tenga los dos ángulos G,  
 y H en la base duplos del ángulo  
 vertical F <sup>a</sup>: é inscribáse en el círcu-  
 lo ABCDE un triángulo <sup>b</sup> ACD equi-  
 ángulo al FGH, de modo que el  
 ángulo CAD sea igual al F, y que  
 los dos ACD, CDA sean iguales á  
 los dos G, y H; por consiguiente ACD, CDA serán duplos de  
 CAD: divídanse ACD, CDA en dos partes iguales <sup>c</sup> por las <sup>c</sup> 9. I.  
 rectas CE, DB, y tírense las líneas AB, BC, DE, EA.



a 10. IV.  
 b 2. IV.

Siendo, pues, los dos ángulos ACD, CDA duplos del CAD,  
 G 4 y

y hallándose divididos en dos partes iguales por las rectas CE, DB, los cinco ángulos DAC, ACE, ECD, CDB, BDA resultarán entre sí iguales: es así que ángulos iguales, estando ambos en la circunferencia, insisten sobre arcos iguales <sup>d</sup>: luego los cinco AB, BC, CD, DE, EA serán iguales entre sí: pero á iguales arcos subtenden cuerdas iguales <sup>e</sup>: luego también las cinco cuerdas AB, BC, CD, DE, EA serán iguales entre sí: luego el pentágono ABCDE será equilátero. Añado, que será equiángulo, porque siendo el arco AB igual al DE, y añadiendo á entrambos el BCD, resultará ABCD igual á EDCB: pero el ángulo AED insiste sobre el arco ABCD, y el BAE sobre el arco EDCB: luego también el ángulo BAE será igual al AED <sup>f</sup>: asimismo cada uno de los ángulos ABC, BCD, GDE es igual á uno de los dos BAE, AED: luego el pentágono ABCDE será también equiángulo: y queda demostrado ser equilátero. Por consiguiente se ha inscrito, &c. L. Q. D. H.



d 26. III.

e 29. III.

f 27. III.

PROP. XII. PROBL.

**C**IRCUNSCRIBIR á un círculo dado un pentágono equilátero, y equiángulo.

Sea el círculo dado ABCDE, y háyasele de circunscribir un pentágono equilátero, y equiángulo.

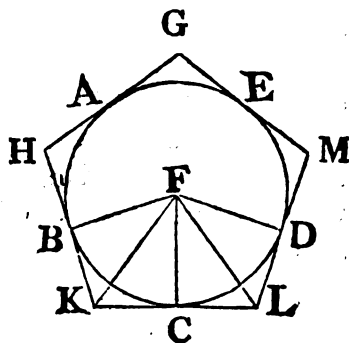
Sean A, B, C, D, E los vértices de los ángulos del pentágono equilátero, y equiángulo inscrito en el tal círculo; ó lo que es lo mismo, sean los arcos AB, BC, CD, DE, EA iguales <sup>a</sup>; por dichos puntos tírense GH, HK, KL, LM, MG <sup>b</sup> tangentes al círculo: del centro F del círculo ABCDE tírense las rectas FB, FK, FC, FL, FD: tocando, pues, la recta KL al círculo ABCDE en C, y tirada del centro F al punto de contacto C la FC, esta resultará perpendicular <sup>c</sup> á KL: por consiguiente serán rectos los dos ángulos en C, y por la misma razón se-

a 11. IV.

b 17. III.

c 18. III.

serán rectos los en B, y D: y siendo recto el ángulo FCK, resultará el cuadrado de FK igual á los de FC, CK <sup>d</sup>; tambien el <sup>d</sup> 47. I. cuadrado de FK es igual á los de FB, BK: luego los cuadrados de FC, CK son iguales á los de FB, BK; de los cuales el de FC es igual al de FB: por consiguiente el cuadrado de CK será igual al de BK: luego BK será igual á CK: siendo pues FB igual á FC, y FK comun, los dos lados FB, FK serán iguales á los dos CF, FK, y la base BK igual á la CK; por consiguiente el ángulo BFK igual <sup>e</sup> al KFC, y el BKF al FKC: luego el ángulo <sup>e</sup> 8. I. BFC será duplo del KFC, y el BKC duplo del FKC: asimismo el ángulo CFD es duplo del CFL, y el CLD duplo del CLF: y siendo el arco BC igual al CD, tambien el ángulo BFC será igual al CFD <sup>f</sup>: pero el BFC es duplo del KFC, y el CFD duplo del CFL: y los rectos FCK, FCL son iguales: consiguientemente FKC, FLC serán dos triángulos con dos ángulos respectivamente iguales á dos ángulos, y el lado FC comun, y adyacente á ángulos iguales: luego tambien tendrán los demás lados iguales, KC igual á CL, y el ángulo FKC igual <sup>g</sup> al FLC: siendo la recta KC igual á CL, será KL dupla de KC, y del mismo modo se demostrará, que HK es dupla de BK: pero ya se demostró, que BK es igual á KC, y que KL es dupla de KC, y HK dupla de BK: luego HK será igual á KL: asimismo se demostrará, que GH, GM, ML son iguales á HK, KL: luego el pentágono GHKLM será equilateral. Añado, que será equiángulo; porque siendo el ángulo FKC igual al FLC, y habiéndose demostrado, que el HKL es duplo del FKC, y el KLM duplo del FLC, resultará HKL igual á KLM: semejantemente se demostrará, que los ángulos KHG, HGM, GML son iguales á los HKL, KLM: luego los cinco ángulos GHK, HKL, KLM, LMG, MGH serán entre sí iguales: luego el pentágono GHKLM será equiángulo. Por consiguiente se ha circunscrito, &c. L. Q. D. H.



f 27. III.

g 26. I.

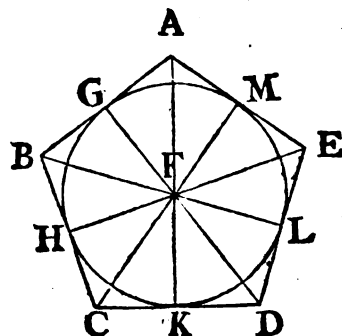
PROP.

## PROP. XIII. PROBL.

**D**ADO un pentágono equilátero, y equiángulo, inscribirle un círculo.

Sea el pentágono dado equilátero, y equiángulo  $ABCDE$ , y háyasele de inscribir un círculo.

- a 9. I. Divídanse por medio <sup>a</sup> los dos ángulos  $BCD$ ,  $CDE$  por las rectas  $CF$ ,  $DF$ , y del punto de concurso  $F$  tírense las rectas  $FB$ ,  $FA$ ,  $FE$ . Siendo, pues,  $BC$  igual á  $CD$ , y  $CF$  comun, las dos  $BC$ ,  $CF$  serán iguales á las dos  $CD$ ,  $CF$ , y el ángulo  $BCF$  igual
- b 4. I al  $DCF$ : luego la base  $BF$  será igual <sup>b</sup> á la  $FD$ , y el triángulo  $BFC$  al  $DFC$ , é iguales entre sí los ángulos opuestos á lados iguales: luego el ángulo  $CBF$  será igual al  $CDF$ ; y siendo el  $CDE$  duplo del  $CDF$ , é igual al  $CBA$ , y  $CDF$  igual á  $CBF$ , tambien  $CBA$  será duplo de  $CBF$ : luego el ángulo  $ABF$  será igual al  $CBF$ : consiguientemente el ángulo  $ABC$  quedará dividido en dos partes iguales por la recta  $BF$ . Semejantemente se demostrará, que cada uno de los ángulos  $BAE$ ,  $AED$  se halla dividido en dos partes iguales por las rectas  $AF$ ,  $FE$ . Del punto  $F$  á las rectas  $AB$ ,  $BC$ ,  $CD$ ,  $DE$ ,  $EA$  báxen-
- c 12. I. se perpendiculares <sup>c</sup>  $FG$ ,  $FH$ ,  $FK$ ,  $FL$ ,  $FM$ . Siendo el ángulo  $HCF$  igual al  $KCF$ , y el recto  $FHC$  igual al recto  $FKC$ , resultarán los dos triángulos  $FHC$ ,  $FKC$  con dos ángulos iguales á dos ángulos, y un lado  $FC$  comun opuesto á ángulos iguales: luego tambien tendrán los demas lados iguales <sup>d</sup> entre sí; por consiguiente la perpendicular  $FH$  será igual á la  $FK$ . Semejantemente se demostrará la igualdad de las  $FL$ ,  $FM$ ,  $FG$  á las  $FH$ ,  $FK$ : luego las cinco rectas  $FG$ ,  $FH$ ,  $FK$ ,  $FL$ ,  $FM$  serán iguales entre sí; pero el círculo descrito con centro  $F$ , é intervalo una de las  $FG$ ,  $FH$ ,  $FK$ ,  $FL$ ,  $FM$  pasa por los extremos de estas líneas, y toca á las rectas  $AB$ ,  $BC$ ,  $CD$ ,  $DE$ ,  $EA$ , por ser rectos los ángu-



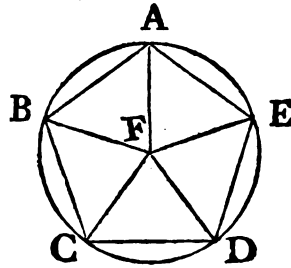
gulos en G, H, K, L, M, y la recta perpendicular al diámetro del círculo en su extremo es también tangente del círculo  $c$ : luego estará el círculo inscrito en el pentágono ABCDE. Por consiguiente dado, &c. L. Q. D. H.

## PROP. XIV. PROBL.

**D**ADO un pentágono equilátero, y equiángulo, circunscribirle un círculo.

Sea el pentágono dado el ABCDE, y háyasele de circunscribir un círculo.

Dividáanse por medio <sup>a</sup> los dos ángulos BCD, CDE por las rectas CF, FD, y del punto de concurso F á los puntos B, A, E tírense las rectas FB, FA, FE: y del mismo modo que en la Proposición antecedente se demostrará, que cada uno de los ángulos CBA, BAE, AED está dividido en dos partes iguales por las rectas BF, FA, FE: y siendo el ángulo BCD igual al CDE, y FCD la mitad de BCD, como también CDF la mitad de CDE, resultará el ángulo FCD igual al FDC; consiguientemente el lado CF igual <sup>b</sup> al FD: semejantemente se demostrará la igualdad de cada una de las rectas FB, FA, FE á las dos FC, FD: luego las cinco rectas FA, FB, FC, FD, FE serán iguales entre sí: últimamente el círculo descrito con centro F, é intervalo una de las líneas FA, FB, FC, FD, FE pasará por los puntos A, B, C, D, y consiguientemente estará circunscrito al pentágono dado. Por consiguiente dado, &c. L. Q. D. H.



PROP.

## PROP. XV. PROBL.

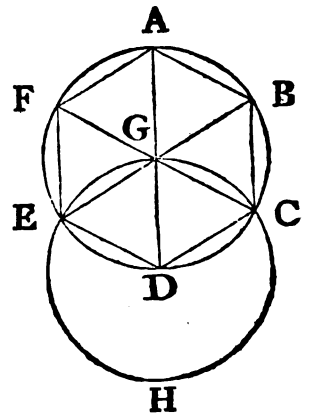
**I**NSCRIBIR un hexágono equilátero, y equiángulo en un círculo dado.

Sea el círculo dado  $ABCDEF$ , y háyasele de inscribir un hexágono equilátero, y equiángulo.

Sea  $G$  el centro del círculo  $ABCDEF$ , y tírese el diámetro  $AGD$ ; asimismo con centro  $D$ , é intervalo  $DG$  describese el círculo  $EGCH$ , y prolónguense  $EG$ ,  $CG$  hasta los puntos  $B$ ,  $F$ ; tírense también  $AB$ ,  $BC$ ,  $CD$ ,  $DE$ ,  $EF$ ,  $FA$ . Digo, que el hexágono  $ABCDEF$  será equilátero, y equiángulo.

Porque siendo  $G$  el centro del círculo  $ABCDEF$ ,  $GE$  será igual á  $GD$ : además, siendo  $D$  el centro del círculo  $EGCH$ ,  $DE$  será igual á  $DG$ : pero se ha demostrado la igualdad de  $GE$  á  $GD$ : luego  $GE$  será igual á  $ED$ : luego el triángulo  $EGD$  será

- <sup>a</sup> Cor. 5. I. equilátero; por consiguiente sus tres ángulos <sup>a</sup>  $EGD$ ,  $GDE$ ,  $DEG$  serán iguales entre sí; pero los tres ángulos
- <sup>b</sup> 32. I. de un triángulo son iguales á dos rectos <sup>b</sup>: luego el ángulo  $EGD$  será el tercio de dos rectos: semejantemente se demostrará, que el  $DGC$  es el tercio de dos rectos: y por quanto cayendo la recta  $GC$  sobre la recta  $EB$  forma los ángulos contiguos  $EGC$ ,  $CGB$
- <sup>c</sup> 13. I. iguales á dos rectos <sup>c</sup>, el ángulo  $CGB$  será el tercio de dos rectos: luego los ángulos  $EGD$ ,  $DGC$ ,  $CGB$  serán iguales entre sí; pero por opuestos verticales  $BGA$ ,  $AGF$ ,
- <sup>d</sup> 15. I.  $FGE$  son iguales á los  $EGD$ ,  $DGC$ ,  $CGB$  <sup>d</sup>: luego los seis ángulos  $EGD$ ,  $DGC$ ,  $CGB$ ,  $BGA$ ,  $AGF$ ,  $FGE$  serán entre sí iguales: pero iguales ángulos,
- <sup>e</sup> 26. III. estando todos en el centro, insisten sobre arcos iguales <sup>e</sup>: luego los seis arcos  $AB$ ,  $BC$ ,  $CD$ ,  $DE$ ,  $EF$ ,  $FA$  serán entre sí
- <sup>f</sup> 29. III. iguales: es así que á arcos iguales subtenden cuerdas iguales <sup>f</sup>; luego las seis rectas serán iguales entre sí: luego el hexágono  $ABCDEF$  será equilátero. Añado, que será equiángulo; pues sien-
- do





do el arco AF igual al ED, añadiendo á entrambos el ABCD, se tendrá el arco FABCD igual al EDCBA: pero el ángulo DEF insiste sobre el arco FABCD, y el AFE sobre EDCBA: luego AFE será igual á DEF: semejantemente se demostrará, que cada uno de los demás ángulos del hexágono son iguales á los AFE, DEF: luego el hexágono ABCDEF es equiángulo: y está inscrito en el círculo ABCDEF. Por consiguiente se ha inscrito, &c. L. Q. D. H.

COR. De aquí se deduce manifiestamente, que el lado del hexágono es igual al radio del círculo.

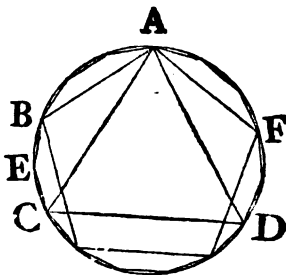
Y si por los puntos A, B, C, D, E, F se tiran tangentes al círculo, se le circunscribirá un hexágono equilátero, y equiángulo, conforme á lo dicho acerca del pentágono; asimismo se podrá, como en el pentágono, inscribir, y circunscribir un círculo al hexágono equilátero, y equiángulo.

## PROP. XVI. PROBL.

**I**NSCRIBIR en un círculo dado un quidecágono equilátero, y equiángulo.

Sea el círculo dado ABCD, y háyasele de inscribir un quidecágono equilátero, y equiángulo.

Sea AC <sup>a</sup> el lado del triángulo equilátero inscrito en el círculo ABCD, y AB el lado <sup>b</sup> del pentágono equilátero, y equiángulo inscrito en el mismo: luego si la circunferencia ABCD se concibe dividida en quince partes iguales, el arco ABC, que es el tercio de ella, contendrá cinco; y el AB, que es el quinto, contendrá tres: luego el arco BC contendrá dos partes. Ahora, pues, divídase en dos partes iguales <sup>c</sup> el arco BC en el punto E; y si se tiran las cuerdas BE, EC, y se aplican <sup>d</sup> sucesivamente en el círculo ABCD rectas iguales á dichas



a 2. IV.  
b 11. IV.

c 30. III.

d 1. IV.  
chas

chas cuerdas, resultará inscrito en él un quidecágono equilátero, y equiángulo. L. Q. D. H.

Si así como llevamos dicho del pentágono, se tiran por las divisiones de la circunferencia tangentes al círculo, resultará circunscrito á él un quidecágono equilátero, y equiángulo: y procediendo del mismo modo, que se dixo del pentágono, se podrá inscribir, y circunscribir un círculo al quidecágono equilátero, y equiángulo.

ELE-

# ELEMENTOS DE EUCLIDES.

---

## LIBRO QUINTO.

---

### DEFINICIONES.

I.  
**U**NA cantidad menor se llama parte de otra mayor, quando la menor mide á la mayor.

II.  
Una cantidad mayor se dice múltiple de otra menor, quando la menor mide á la mayor.

III.  
"Razon es el respecto, ó relacion mutua, que tienen entre sí dos «cantidades» de un mismo género en quanto á su magnitud."

IV.  
Se dice, que dos cantidades tienen razon entre sí, quando la menor multiplicada puede exceder á la mayor.

V.  
Se dice, que quatro cantidades están en la misma razon, esto es la primera á la segunda, y la tercera á la quarta, quando respectivamente comparados qualesquiera equimúltiples (*es decir qualquiera que sea el multiplicador*) de la primera, y de la tercera con qualesquiera equimúltiples de la segunda, y de la quarta, aquellos dos, ó exceden, ó están excedidos, ó son iguales respectivamente á estos dos.

VI.  
Llámanse proporcionales las cantidades que tienen una misma razon.

Quan-

## VII.

Quando entre cantidades equimúltiples, la múltiple de la primera excede á la múltiple de la segunda, y la de la tercera no excede á la de la quarta, se dirá, que la primera tiene á la segunda mayor razon, que la tercera á la quarta; y que al contrario la tercera á la quarta tiene menor razon, que la primera á la segunda.

## VIII.

Proporcion es semejanza de razones.

## IX.

Una proporcion consta á lo menos de tres términos.

## X.

Quando tres cantidades son proporcionales, se dice, que la primera tiene á la tercera razon duplicada de la que tiene á la segunda.

## XI.

Pero quando quatro cantidades son continuo-proporcionales, se dice, que la razon que tiene la primera á la quarta, es triplicada de la que tiene á la segunda; y quantas quiera que sean las cantidades continuo-proporcionales, la primera tendrá á la última una razon tantuplicada de la que tiene á la segunda, quantas sean las cantidades, menos una.

## Definicion A de la razon compuesta.

Si hay qualquier número de cantidades de un mismo género, se dice, que la razon de la primera á la última está compuesta de la razon, que tiene la primera á la segunda, de la razon de la segunda á la tercera, de la que tiene la tercera á la quarta, y así sucesivamente hasta la última.

Exemplo. Sean las cantidades A, B, C, D; se dice, que la primera A tiene á la última D razon compuesta de la razon de A á B, de la de B á C, y de la de C á D; ó lo que es lo mismo, que la razon de A á D está compuesta de las razones de A á B, de B á C, y de C á D.

Por consiguiente si la razon de A á B es la misma que la de E á F, la de B á C la misma que la de G á H, y la de C á D la misma que la de K á L; se dirá, que la razon de A á D está compuesta de razones, que son las mismas que las de E á F, de

de G á H, y de K á L: y esto mismo se entiende, quando para mayor brevedad se dice, que la razon de A á D está compuesta de las razones de E á F, de G á H, y de K á L.

Semejantemente si la razon de M á N es la misma, que la de A á D, en la suposicion antecedente para mayor brevedad se dice, que la razon de M á N es la misma, que la compuesta de las razones de E á F, de G á H, y de K á L.

## XII.

En las cantidades proporcionales se llaman homólogas los antecedentes con los antecedentes, y los conseqüentes con los conseqüentes.

“Los Geómetras antiguos se valen de las siguientes voces para  
 „expresar los modos de variar el orden, ó la magnitud de  
 „las cantidades proporcionales, de manera que queden pro-  
 „porcionales.”

## XIII.

*Εναλλάξ*, esto es, Permutando: Usase de esta voz, quando son quatro las cantidades proporcionales, y se infiere, que la primera es á la tercera, como la segunda á la quarta; segun se demuestra en la Proposicion XVI. de este Libro V.

## XIV.

*Ανάπαλιν*, Invirtiendo se dice, quando quatro cantidades son proporcionales, y se infiere, que la segunda es á la primera, como la quarta á la tercera. Proposicion B del Libro V.

## XV.

*Συθέντι*, Componiendo se dice, quando quatro cantidades son proporcionales, y se infiere, que la suma \* de la primera, y de la segunda es á la segunda, como la suma de la tercera, y de la quarta es á la quarta. Proposicion XVIII. del Libro V.

## XVI.

*Διλόγῳ*, Dividiendo se dice, quando quatro cantidades son proporcionales, y se infiere, que el exceso de la primera sobre la segunda es á la segunda, como el exceso de la tercera sobre la quarta es á la quarta. Proposicion XVII. del Libro V.

## H

Ανα-

\* N. T. Usamos aquí por la primera vez de esta voz, aunque no es del original, para mayor brevedad, y claridad; y con la misma proseguiremos en adelante.

## XVII.

*Ἀναστέφαντι*, Convirtiendo se dice, quando quatro cantidades son proporcionales; y se infiere, que la primera es á su exceso sobre la segunda, como la tercera á su exceso sobre la quarta. Proposicion E del Libro V.

## XVIII.

*Δίους*, *Ex aequo*, ó por igualdad, esto es de distancia, se dice, quando habiendo muchas cantidades, y otras iguales en número, cada dos de las primeras tienen la misma razon á cada dos de las segundas; y se infiere, que la primera es á la última en las primeras cantidades, como la primera á la última en las segundas. "Este modo de hablar se usa de dos maneras."

## XIX.

*Δίους*, ó por igualdad, simplemente, se dice, quando la primera es á la segunda en las primeras cantidades, como en las segundas la primera á la segunda, y tambien en las primeras la segunda á la tercera, como en las segundas la segunda á la tercera, y así de las demas; y se infiere, como se dixo en la Definicion antecedente. Proposicion XXII. del Libro V.

## XX.

*Δίους ἐν τῇ τεταραγμένῃ ἀναλογίᾳ* \*, por igualdad en proporcion perturbada, ó desordenada, se dice, quando en las primeras cantidades la primera es á la segunda, como en las segundas la penúltima á la última, y tambien en las primeras la segunda á la tercera, como en las segundas la antepenúltima á la penúltima; y en las primeras la tercera á la quarta, como en las segundas la tercera, empezando desde la última exclusivamente, á la antepenúltima, y así de las demas; y se infiere, como se dixo en la Definicion XVIII. Proposicion XXIII. del Libro V.

## A X I O M A S.

## I.

Las cantidades equimúltiples de una misma cantidad, ó de cantidades iguales son entre sí iguales.

Las

\* Prop. 4. del Lib. 2. de Arquimedes de la Esfera, y del Cilindro.

II.

Las cantidades, de quienes una misma cantidad es equimúltiple, ó cuyas equimúltiples son iguales, son tambien iguales entre sí.

III.

La múltiple de una cantidad mayor es mayor que la equimúltiple de una menor.

IV.

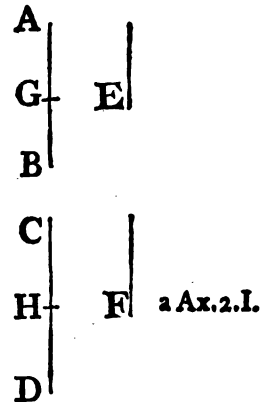
La cantidad, cuya múltiple es mayor que la equimúltiple de otra, es mayor que esta.

PROP. I. TEOR.

SI dos, ó mas cantidades fuesen respectivamente equimúltiples de otras en igual número; quan múltiple sea una de las múltiples, tan múltiple será la suma de las múltiples respecto de la suma de las demas cantidades.

Sean dos cantidades AB, CD respectivamente equimúltiples de E, F. Digo, que quan múltiple sea AB de E, tan múltiple será la suma de AB, y CD de la suma de E, y F.

Porque siendo AB equimúltiple de E, y CD de F, quantas cantidades haya en AB iguales á E, tantas habrá en CD iguales á F. Divídase AB en partes iguales á E, y sean AG, GB; y CD en partes iguales á F, esto es CH, HD; y resultará el número de las partes CH, HD igual al número de las partes de AG, GB; y siendo AG igual á E, y CH á F, será la suma de AG, CH igual á la suma de E, F: asimismo siendo GB igual á E, y HD á F, será la suma de GB, HD igual á la suma de E, F: luego quantas haya en AB iguales á E, tantas habrá en la suma de AB, y CD iguales á la suma de E, y F: luego quan múltiple es AB de E, tan múltiple será la suma de AB, y CD de la de E, y F: la misma demostracion vale para qualquier número de cantidades que sea. Por consiguiente si dos, ó mas, &c. L. Q. D. D.



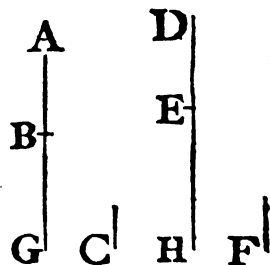
H 2

PROP.

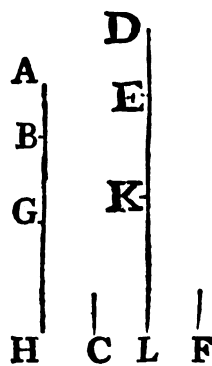
PROP. II. TEOR.

**S**I la primera, y tercera cantidad son respectivamente equimúltiples de la segunda, y de la quarta, y la quinta, y sexta equimúltiples de la segunda, y de la quarta; la suma de la primera, y de la quinta, y la de la tercera, y de la sexta serán respectivamente equimúltiples de la segunda, y de la quarta.

Sea la primera AB tan múltiple de la segunda C, como la tercera DE de la quarta F: sea asimismo la quinta BG tan múltiple de la segunda C, como la sexta EH de la quarta F. Digo, que la suma de la primera, y quinta, es á saber AG, será tan múltiple de la segunda C, como la suma de la tercera, y sexta, esto es DH, lo es de la quarta F.



Porque siendo AB tan múltiple de C, como DE lo es de F, quantas cantidades haya en AB iguales á C, tantas habrá en DE iguales á F: por la misma razon, quantas cantidades haya en BG iguales á C, tantas habrá en EH iguales á F: por consiguiente quantas cantidades haya en la total AG iguales á C, tantas cantidades habrá en la total DH iguales á F: luego quan múltiple es AG de C, tan múltiple será DH de F; y así la suma de la primera, y quinta AG será tan múltiple de la segunda C, como la suma de la tercera, y sexta DH lo es de la quarta F. Por consiguiente si la primera, &c. L. Q. D. D.



COR. De aquí se infiere, que si algunas cantidades en qualquier número, AB, BG, GH fuesen múltiples de C, y como otras tantas DE, EK, KL fuesen respectivamente equimúltiples de F, la suma de las primeras, esto es AH, será tan múltiple de C, como la suma de las últimas, esto es DL, lo es de F.

PROP.



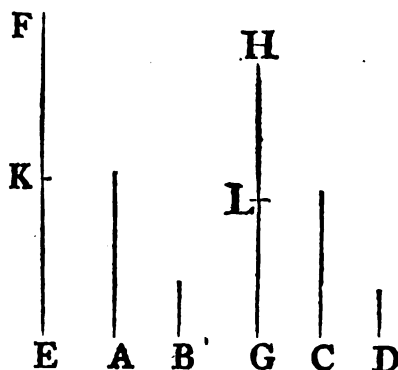
## PROP. III. TEOR.

**S**I la primera , y tercera cantidad son equimúltiples, la primera de la segunda , y la tercera de la quarta; cualesquiera equimúltiples de la primera , y de la tercera serán , por igualdad , respectivamente equimúltiples de la segunda , y de la quarta.

Sea la primera A equimúltiple de la segunda B, y la tercera C de la quarta D, y tómense EF, GH, equimúltiples de A, C. Digo , que EF será equimúltiple de B, y GH de D.

Porque siendo EF equimúltiple de A, y GH de C, quantas cantidades haya en EF iguales á A , tantas habrá en GH iguales á C. Divídase EF en las cantidades

EK , KF iguales á A ; y GH en las cantidades GL, LH iguales á C: resultará el número de las partes EK, KF igual al de las GL, LH: y por ser A equimúltiple de B, C de D, EK igual á A, y GL á C; será EK equimúltiple de B, y GL de D: asimismo KF será equimúltiple de B, y LH de D; y lo mismo , si hay muchas partes en EF, GH igua-




les á A, C: siendo , pues , la primera EK equimúltiple de la segunda B, y la tercera GL de la quarta D, será tambien la quinta KF equimúltiple de la segunda B, y la sexta LH de la quarta D; será , pues , la suma de la primera , y quinta , es á saber EF, equimúltiple <sup>a</sup> de la segunda B, y la suma de la tercera , y sexta , esto es GH , de la quarta D. Por consiguiente si la primera , &c. L. Q. D. D. a 2. V.

PROP. IV. TEOR.

SI la primera cantidad tiene á la segunda la misma razon que la tercera á la quarta; qualesquiera equimúltiples de la primera, y de la tercera tendrán una misma razon á qualesquiera equimúltiples de la segunda, y de la quarta.

Tenga la primera A á la segunda B la misma razon que la tercera C á la quarta D; sean E, F qualesquiera equimúltiples de A, C; y G, H otras qualesquiera equimúltiples de B, D. Digo, que E será á G, como F á H.

Porque tómense K, L qualesquiera equimúltiples de E, F; y M, N otras qualesquiera equimúltiples de G, H: y siendo E equimúltiple de A, F de C, y tomándose K, L equimúltiples de E, F, se tendrá K equimúltiple <sup>a</sup> de A, y L de C: asimismo M será equimúltiple de B; y N de D: y por ser A á B, como C á D, y haberse tomado K, L equimúltiples de A, C; y M, N equimúltiples de B, D; segun sea K mayor, igual, ó menor que M, será L mayor, igual, ó menor que N <sup>b</sup>: es así que K, L son qualesquiera equimúltiples de E, F; y M, N otras qualesquiera equimúltiples de G, H: luego será E á G, como F á H. Por consiguiente si la primera cantidad, &c. L. Q. D. D.



<sup>a</sup> 3. V.  
<sup>b</sup> Def. 5.  
V.

COR. Asimismo si la primera cantidad tiene á la segunda la misma razon que la tercera á la quarta; qualesquiera equimúltiples de la primera, y de la tercera tendrán la misma razon a la segunda, y á la quarta: y semejantemente la primera, y la tercera tendrán la misma razon á qualesquiera equimúltiples de la segunda, y de la quarta.

Ten-

Tenga la primera A á la segunda B la misma razon que la tercera C á la quarta D, y tómnese E, F qualesquiera equimúltiples de A, C: será E á B, como F á D.

Tómense K, L qualesquiera equimúltiples de E, F, y G, H otras qualesquiera equimúltiples de B, D; y se demostrará, como antecedentemente, que K es equimúltiple de A, y L de C; pero siendo A á B, como C á D, y K, L equimúltiples de A, C; y G, H otras equimúltiples de B, D, se infiere, que segun sea K mayor, igual, ó menor que G, será tambien L mayor, igual, ó menor que H: es así que K, L son qualesquiera equimúltiples de E, F; y G, H otras qualesquiera equimúltiples de B, D: luego E será á B, como F á D. El otro caso se demuestra del mismo modo.

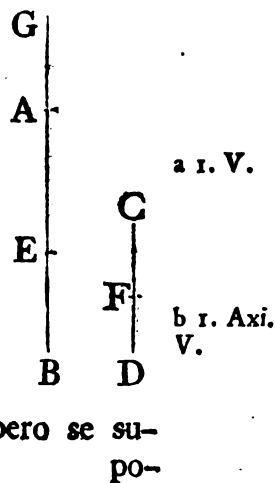
PROP. V. TEOR.

**S**I una cantidad es múltiple de otra, y de cada una se quita una parte, de manera que la múltiple, y la parte quitada de ella sean respectivamente equimúltiples de la otra cantidad, y de su parte; tambien la múltiple, y su parte residua serán equimúltiples de la otra cantidad, y de su parte residua.

Sea la cantidad AB tan múltiple de CD, como la parte AE de la parte CF. Digo, que tambien la residua EB será tan múltiple de la residua FD, como la total AB de la total CD.

Porque quan múltiple es AE de CF, tan múltiple sea AG de FD; y resultará <sup>a</sup> AE tan múltiple de CF, como EG de CD: es así que AE se supone equimúltiple de CF; y AB de CD: luego EG, AB serán equimúltiples de CD, y por tanto EG igual <sup>b</sup> á AB: quítese AE comun, y quedará la restante AG igual á la restante EB: siendo, pues, AE equimúltiple de CF, AG de FD, y AG igual á EB, será AE equimúltiple de CF, y EB de FD: pero se su-

H 4



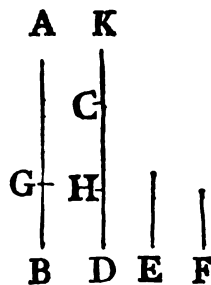
pone AE equimúltiple de CF, y AB de CD: luego EB será equimúltiple de FD, y AB de CD. Por consiguiente si una cantidad, &c. L. Q. D. D.

PROP. VI. TEOR.

**S**I dos cantidades son equimúltiples de otras dos, y de las primeras se quitan partes que sean equimúltiples de las segundas; sus residuas serán, ó iguales, ó equimúltiples de las segundas.

Sean las dos cantidades AB, CD equimúltiples de las dos E, F, y de las mismas sean equimúltiples las partes AG, CH. Digo, que las restantes GB, HD serán, ó iguales, ó equimúltiples de E, F.

I.º Sea GB igual á E. Digo, que HD será igual á F: tómese CK igual á F: siendo AG equimúltiple de E, y CH de F; como asimismo GB igual á E, y CK á F, se tendrá AB equimúltiple de E, y KH de F: es así que AB se supone equimúltiple de E; y CD de F: luego KH será equimúltiple de F; y CD de F: es, pues, KH igual <sup>a</sup> á CD: quitando CA comun, quedará la restante KC igual á la restante HD: pero KC es igual á F: luego HD es igual á F: consiguientemente si GB es igual á E, tambien HD lo será á F.



<sup>a</sup> 1. Axi. V.

II.º Supongamos, que GB sea múltiple de E; en tal caso HD será equimúltiple de F. Ahora, pues, quan múltiple es GB de E, tan múltiple sea CK de F; y por ser AG equimúltiple de E; y CH de F; como tambien GB equimúltiple de E; y CK de F, será AB equimúltiple <sup>b</sup> de E; y KH de F: es así que se ha supuesto AB equimúltiple de E, y CD de F: luego HK será equimúltiple de F, y CD de F: luego KH será igual <sup>c</sup> á CD; quítese CH comun, y resultará KC restante igual á HD restante: quan múltiple es GB de E, tan múltiple será KC de F: es así que KC es igual á HD: luego tan múltiple-

<sup>b</sup> 2. V.

<sup>c</sup> 1. Axi. V.

plice será HD de F, como GB de E. Por consiguiente si dos cantidades, &c. L. Q. D. D.

PROP. A. TEOR.

**S**I la primera cantidad tiene á la segunda la misma razon que la tercera á la quarta; será la tercera mayor, igual, ó menor que la quarta, segun sea la primera mayor, igual, ó menor que la segunda.


Tómense qualesquiera equimúltiples de las quatro cantidades, por exemplo los duplos, y por la Definicion V. de este Libro, si el duplo de la primera fuere mayor que el duplo de la segunda, tambien el duplo de la tercera será mayor que el de la quarta; y si la primera fuese mayor que la segunda, el duplo de la primera será mayor que el de la segunda; por consiguiente el duplo de la tercera será mayor que el de la quarta; de donde se sigue, que la tercera será mayor que la quarta: del mismo modo se demostrará, que segun la primera fuese igual, ó menor que la segunda, la tercera será igual, ó menor que la quarta. L. Q. D. D.

PROP. B. TEOR.

**S**I quatro cantidades fueren proporcionales, tambien inversamente serán proporcionales.

Sea A á B, como C á D: será inversamente B á A, como D á C.

Tómense E, F qualesquiera equimúltiples de B, D, y otras G, H qualesquiera equimúltiples de A, C: sea primeramente E mayor que G: luego G será menor que E: y por ser A á B, como C á D, y haberse tomado G, H equimúltiples de A, C, y E, F, otras equimúltiples de B, D, y ser G menor que E, será H menor que F<sup>a</sup>: por consiguiente F será mayor que H: luego, segun sea E mayor, igual, ó menor que G, tambien



<sup>a</sup> 5. Def. V.

b 5. Def. V. bien F será mayor, igual, ó menor que H: es así que E, F son cualesquiera equimúltiples de B, D; y G, H cualesquiera otras equimúltiples de A, C: luego B será á A<sup>b</sup>, como D á C. Por consiguiente si quatro, &c. L. Q. D. D.

PROP. C. TEOR.

**S**i la primera cantidad fuese igual múltiple, ó la misma parte de la segunda que la tercera lo es de la quarta; la primera será á la segunda, como la tercera á la quarta.


Sea la primera A equimúltiple de la segunda B, y la tercera C de la quarta D: será A á B, como C á D.

Tómense E, F cualesquiera equimúltiples de A, C; y G, H cualesquiera otras equimúltiples de B, D: siendo A equimúltiple de B; y C de D, como tambien E equimúltiple de A, y F de C; resultará E<sup>a</sup> equimúltiple de B, y F de D: pero G, H son equimúltiples de B, D: luego si E fuere mayor múltiple de B, que G de B; F será mayor múltiple de D, que H de D: esto es, que segun E sea mayor, igual, ó menor que G; F será mayor, igual, ó menor que H: es así que E, F son equimúltiples de A, C; y G, H de B, D: luego A será á B, como C á D<sup>b</sup>.

b 5. Def. V.

Pero supongamos, que la primera A es la misma parte de la segunda B, que la tercera C de la quarta D: será A á B, como C á D, porque B será la misma múltiple de A, que D de C; consiguientemente por el primer caso, A será á B, como D á C; é invirtiendo<sup>c</sup> será A á B, como C á D. Por consiguiente si la primera, &c. L. Q. D. D.

c B. V.



PROP.

## PROP. D. TEOR.

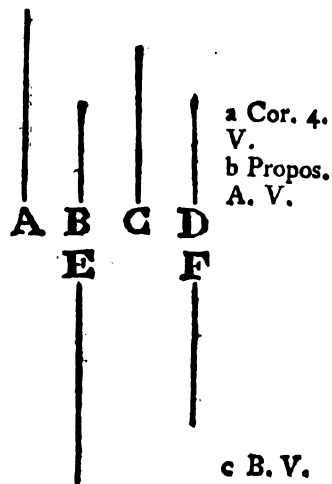
**S**I la primera cantidad fuese á la segunda, como la tercera á la quarta, y la primera fuese múltiplice, ó parte de la segunda; la tercera será la misma múltiplice, ó la misma parte de la quarta.

Sea  $A$  á  $B$ , como  $C$  á  $D$ , y sea  $A$  múltiplice de  $B$ : será  $C$  la misma múltiplice de  $D$ .

Tómese  $E$  igual á  $A$ , y quan múltiplice es  $A$ , ó  $E$  de  $B$ , tan múltiplice tómese  $F$  de  $D$ : luego por tener la misma razon  $A$  á  $B$ , que  $C$  á  $D$ , y haberse tomado  $E$ ,  $F$  equimúltiples de la segunda  $B$ , y de la quarta  $D$ , será <sup>a</sup>  $A$  á  $E$ , como  $C$  á  $F$ : pero  $A$  es igual á  $E$ : luego  $C$  será igual á  $F$ : es así que  $F$  es equimúltiplice de  $D$ , y  $E$ , ó  $A$  equimúltiplice de  $B$ : luego  $C$  será equimúltiplice de  $D$ ; y  $A$  de  $B$ .

Pero demos, que la primera  $A$  sea parte de la segunda  $B$ : será la tercera  $C$  la misma parte de la quarta  $D$ .

Porque respecto de ser  $A$  á  $B$ , como  $C$  á  $D$ , invirtiendo <sup>c</sup> será  $B$  á  $A$ , como  $D$  á  $C$ : es así que  $A$  es parte de  $B$ , esto es  $B$  múltiplice de  $A$ ; consiguientemente segun el caso anterior,  $D$  será la misma múltiplice de  $C$ , esto es  $C$  la misma parte de  $D$ , que  $A$  de  $B$ . Por consiguiente si la primera, &c. L. Q. D. D.



## PROP. VII. TEOR.

**C**ANTIDADES iguales tienen la misma razon á una misma cantidad: y una cantidad tiene la misma razon á cantidades iguales.

Sean  $A$ ,  $B$  cantidades iguales; y  $C$  otra qualquiera cantidad.

Di-


Digo, que A, y B tendrán una misma razon á C; como tambien que C tendrá una misma razon á A, y B.

Tómense D, E qualesquiera equimúltiples de A, B; y F otra qualesquiera equimúltiple de C: siendo, pues, D equimúltiple de A, E de B; y A igual á B; será tambien D igual á E <sup>a</sup>: luego segun D sea mayor, igual, ó menor que F, será E mayor, igual, ó menor que F: es así que D, E son qualesquiera equimúltiples de A, B; y F otra qualquiera equimúltiple de C: luego A será á C, como B á C <sup>b</sup>.

<sup>a</sup> Axi. I. V.

<sup>b</sup> 5. Def. V.

Añado, que C tendrá una misma razon á las dos A, y B; pues supuesta la misma construccion demostraremos semejantemente, que D será igual á E: luego segun sea F mayor, igual, ó menor que D, será E mayor, igual, ó menor que D: es así que F es qualquiera múltiple de C; y D, E otras qualesquiera equimúltiples de A, y



<sup>c</sup> 5. Def. V.

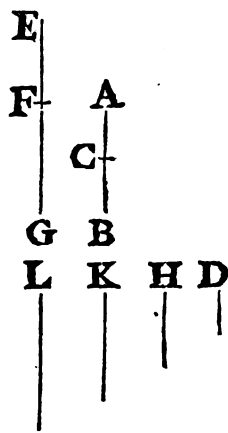
B: luego C será <sup>c</sup> á A, como C á B. Por consiguiente cantidades, &c. L. Q. D. D.

PROP. VIII. TEOR.

**D**OS cantidades desiguales tienen razones desiguales á una misma cantidad; la mayor, mayor razon; y la menor, menor: y una misma cantidad tiene mayor razon á la menor de dos cantidades desiguales, que á la mayor.

Sean AB, BC cantidades desiguales, AB la mayor, y sea qualquiera otra cantidad D: tendrá AB mayor razon á D, que BC á D; y D tendrá mayor razon á BC, que á AB.

Si la cantidad menor de las AC, CB no es menor que D, tómense EF, FG duplas de AC, CB, como en la figura primera; pero si la menor de las AC, y CB fuese tambien menor que D, como en las dos figuras siguientes, aquella sea AC, ó CB, multiplicada llegará á ser mayor que D: multiplíquese hasta que resulte ma-

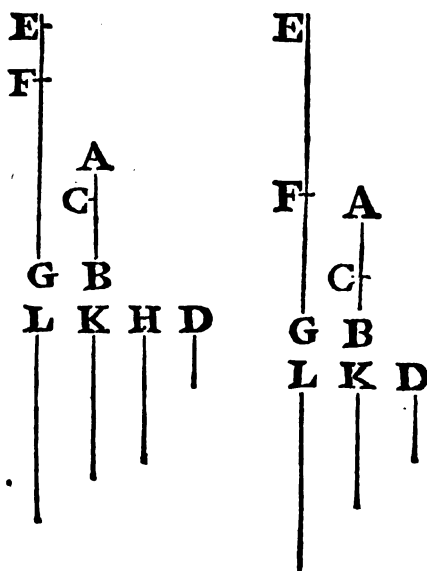




mayor que D ; y quantas veces se haya multiplicado , tantas veces multiplíquese la otra ; sea EF múltiple de AC , y FG la misma múltiple de CB ; y se tendrá una , y otra EF , FG mayor que D. En todos los casos tómese H dupla de D ; K tripla , y así sucesivamente , aumentando de una la múltiple hasta llegar á tener la primera múltiple de D , que es mayor que FG. Sea , pues , L la primera múltiple de D mayor que FG ; y K sea la múltiple de D , inmediata menor que L.

Siendo , pues , L la primera múltiple de D , mayor que FG ; K no será mayor que FG,

por consiguiente no será FG menor que K : y siendo EF equimúltiple de AC ; y FG de CB , también será <sup>a</sup> FG equimúltiple de CB ; y EG de AB ; por consiguiente EG , FG son equimúltiples de AB , y CB : es así que ya se demostró no ser FG menor que K ; y por construcción EF es mayor que D : luego la total EG será mayor que la suma de las dos K , y D : pero la suma de estas es igual á L : luego EG excederá á L ; pero FG no excede á L ; y son EG , FG equimúltiples de AB , BC ; y L otra múltiple de D : luego AB tendrá mayor razón á D , que BC á D <sup>b</sup>.



a 1. V.

b Def. 7. V.

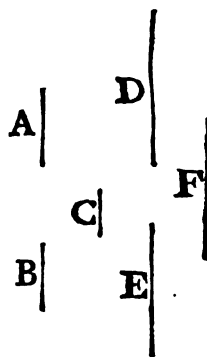
A mas , D tendrá mayor razón á BC , que á AB ; pues supuesta la misma construcción , se demostrará semejantemente , que L excede á FG , y que EG no la excede : es así que L es múltiple de D ; y FG , EG equimúltiples de CB , AB : luego D tendrá mayor razón á CB , que D á AB <sup>b</sup> . Por consiguiente dos cantidades , &c. L. Q. D. D.

PROP.

PROP. IX. TEOR.

**L**AS cantidades , que tienen la misma razon á una misma cantidad , son entre sí iguales : y si una cantidad tiene la misma razon á dos cantidades , estas serán iguales entre sí.

Tengan las cantidades A, B la misma razon á C. Digo, que A será igual á B; pues á no ser así, una de ellas fuera mayor; séalo A: luego ciertas cantidades equimúltiples de A, y B, y cierta múltiple de C serán, como se demostró en la Proposicion antecedente, tales, que la múltiple de A excederá á la múltiple de C; pero la múltiple de B no la excederá. Sean D, E equimúltiples de A, B; y F múltiple de C, de manera, que D exceda á F; y E no la exceda; y por ser A á C, como B á C; haberse tomado D, E equimúltiples de A, B; y F múltiple de C; y ser D mayor que F, será E mayor <sup>a</sup> que F: lo que es imposible; pues se ha supuesto E menor que F; luego A no puede ser desigual á B: luego le será igual.



<sup>a</sup> 5. Def. V.

A mas, tenga C una misma razon á las dos A, B. Digo, que A será igual á B; pues á no ser así, una de ellas fuera mayor: séalo A, y resultará, que F <sup>b</sup> múltiple de C; y E, D equimúltiples de B, A serán tales, que F excederá á E, pero no á D. Siendo, pues, C á B, como C á A; y F múltiple de la primera C mayor que E múltiple de la segunda B, será F <sup>c</sup> múltiple de la tercera C mayor que D múltiple de la quarta A: lo qual es imposible; pues se ha supuesto F menor que D: luego A será igual á B. Por consiguiente las cantidades, &c. L. Q. D. D.

<sup>b</sup> 8. V. <sup>c</sup> 5. Def. V.

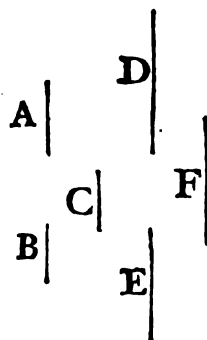
PROP.

PROP. X. TEOR.

**S**I una cantidad tiene mayor razon que otra á una misma cantidad , será mayor que ella : y de dos cantidades aquella es menor , á quien una misma cantidad tiene mayor razon.

Tenga A á C mayor razon , que B á C. Digo , que A será mayor que B. Porque teniendo A á C mayor razon , que B á C , serán <sup>a</sup> ciertas equimúltiples de A , B , y cierta múltiple de C tales , que la múltiple de A excederá á la múltiple de C , y la múltiple de B no la excederá. Sean , pues , D , E equimúltiples de A , B ; y F múltiple de C , de suerte , que D exceda á F , pero E no la exceda : luego D será mayor que E : y respecto de ser D , E equimúltiples de A , B ; y D mayor que E , resultará A mayor que B <sup>b</sup>.

<sup>a</sup> Def. 7. V.



<sup>b</sup> Axi. 4. V.

Pero supongamos , que C tenga mayor razon á B , que C á A. Digo , que B será menor que A : porque F múltiple de C ; y E , D equimúltiples de B , A , son tales , que F excede á E , pero no á D : luego E es menor que D : y siendo E , D equimúltiples de B , A , será B menor <sup>b</sup> que A. Por consiguiente si una, &c. L. Q. D. D.

PROP. XI. TEOR.

**L**AS razones iguales \* á una misma razon son iguales entre sí.

Sean A á B , como C á D ; y C á D , como E á F. Digo , que A será á B , como E á F.

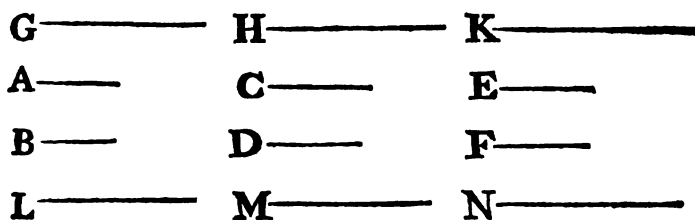
Tó-

\* N. T. En la comparacion de razones ponemos *iguales* en lugar de *mismas* , que trahę el original ; y así en las demas Proposiciones , por ser en el presente caso estas expresiones sinónimas , y adaptarse mejor á la frase Castellana para evitar confusion ; pero quando se habla de cantidades , que componen varias razones , siendo estas iguales , decimos , conforme al texto , que las cantidades están en la misma razon. Véase la Nota á la Proposicion X. del Libro V.

## 128 ELEMENTOS DE EUCLIDES.

Tómense G, H, K qualesquiera equimúltiples de A, C, E, y L, M, N otras qualesquiera equimúltiples de B, D, F. Siendo, pues, A á B, como C á D; y habiéndose tomado G, H equimúltiples de A, C; y L, M otras equimúltiples de B, D, resultará, que segun sea G, mayor, igual, ó menor que L, será H mayor, igual, ó menor <sup>a</sup> que M. A mas por ser C á D, como E á F, y haberse tomado H, K equimúltiples de C, E, como tambien M, N otras equimúltiples de D, F, se inferirá, que segun

<sup>a</sup> 5. Def. V.



sea H mayor, igual, ó menor que M, será K mayor, igual, ó menor <sup>b</sup> que N: pero se ha demostrado, que H será mayor, igual, ó menor que M, segun sea G mayor, igual, ó menor que L: luego K será mayor, igual, ó menor que N, segun sea G mayor, igual, ó menor que L: es así que G, K son qualesquiera equimúltiples de A, E; y L, N otras qualesquiera equimúltiples de B, F: luego A será á B, como E á F. Por consiguiente las razones, &c. L. Q. D. D.

<sup>b</sup> 5. Def. V.

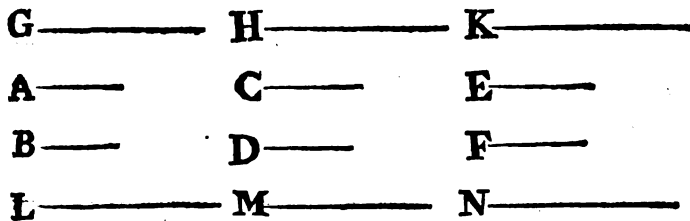
### PROP. XII. TEOR.

**S**I algunas cantidades en qualquier número fueren proporcionales; la suma de los antecedentes tendrá á la de los conseqüentes la misma razon, que qualquier antecedente á su conseqüente.

Sean las cantidades A, B, C, D, E, F proporcionales, de manera que sean A á B, como C á D, como E á F. Digo, que la suma de A, C, E será á la suma de B, D, F, como A á B.

Tómense G, H, K qualesquiera equimúltiples de A, C, E;  
y

y L, M, N cualesquiera otras equimúltiples de B, D, F. Siendo, pues, A á B, como C á D, como E á F; y habiéndose tomado G, H, K equimúltiples de A, C, E; y L, M, N otras equimúltiples de B, D, F, segun sea G mayor <sup>a</sup>, igual, ó menor <sup>a</sup> 5. Def. V. que L, será H mayor, igual, ó menor que M; y K mayor, igual, ó menor que N: luego segun sea G mayor, igual, ó menor que L, serán G, H, K mayores, iguales, ó menores respectivamente que L, M, N: es así que G, y la suma de G, H, K son cualesquiera



equimúltiples de A, y de la suma de A, C, E; porque si dos, ó mas cantidades fuesen respectivamente equimúltiples de otras en igual número, quan multiplique de una cantidad sea otra, tan multiplique <sup>b</sup> será la suma de las múltiples respecto de la suma <sup>b</sup> 1. V. de las demas cantidades: por la misma razon L, y la suma de L, M, N son cualesquiera equimúltiples de B, y de la suma de B, D, F: luego A será <sup>c</sup> á B, como la suma de A, C, E á la <sup>c</sup> 5. Def. V. suma de B, D, F. Por consiguiente si algunas, &c. L. Q. D. D.

PROP. XIII. TEOR.

**S**I la primera cantidad tiene á la segunda la misma razon, que la tercera á la quarta; y la tercera tiene á la quarta mayor razon, que la quinta á la sexta; tambien la primera tendrá mayor razon á la segunda, que la quinta á la sexta.

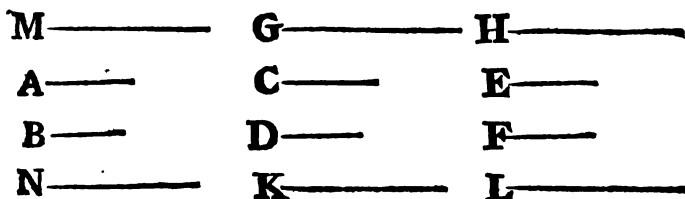
Tenga la primera A á la segunda B la misma razon, que la tercera C á la quarta D; y la tercera C mayor razon á la quarta D,  
I

130 ELEMENTOS DE EUCLIDES.

D, que la quinta E á la sexta F. Digo, que la primera A tendrá mayor razon á la segunda B, que la quinta E á la sexta F.

Porque teniendo C mayor razon á D, que E á F, serán ciertas cantidades equimúltiples de C, E, y otras equimúltiples de D, F tales, que la múltiple de C excederá á la múltiple de D, pero la múltiple de E no excederá á la múltiple de F: sean G, H equimúltiples de C, E; y K, L otras equimúltiples de D, F, de suerte, que G exceda á K, pero H no exceda á L;

a 7. Def.  
V.



y tómesese M tan múltiple de A, quan múltiple es G de C, como asimismo N tan múltiple de B, quan múltiple es K de D: y por ser A á B, como C á D, y haberse tomado M, G equimúltiples de A, C; y N, K otras equimúltiples de B, D, resultará, que segun sea M mayor, igual, ó menor que N, será G mayor, igual, ó menor que K: es así que G es mayor que K; luego tambien M será mayor que N: pero H es menor que L; y M, H son equimúltiples de A, E, como tambien N, L otras equimúltiples de B, F: luego A tendrá mayor razon á B, que E á F. Por consiguiente si la primera, &c. L. Q. D. D.

COR. Si la primera cantidad tuviere á la segunda mayor razon que la tercera á la quarta, y la tercera á la quarta la misma razon, que la quinta á la sexta, se demostrará del mismo modo, que la primera tendrá mayor razon á la segunda, que la quinta á la sexta.

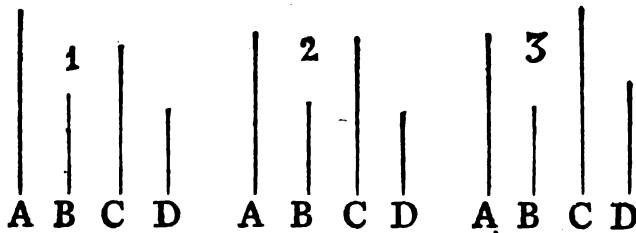
PROP.

PROP. XIV. TEOR.

**S**I quatro cantidades son proporcionales, esto es, si la primera tiene á la segunda la misma razon que la tercera á la quarta; la segunda será mayor, igual, ó menor que la quarta, segun sea la primera mayor, igual, ó menor que la tercera.

Tenga la primera A á la segunda B la misma razon, que la tercera C á la quarta D, y sea A mayor que C. Digo, que tambien B será mayor que D.

I.º Sea A mayor que C, y B qualquiera otra cantidad; tendrá <sup>a</sup> A á B mayor razon, que C á B: pero A es á B, <sup>a</sup> 8. V. como C á D: luego C tendrá <sup>b</sup> mayor razon á D, que C á B: <sup>b</sup> 13. V. pero de dos cantidades aquella es menor, á quien una misma can-



tidade tiene mayor razon <sup>c</sup>: luego D será menor que B, y por <sup>c</sup> 10. V. consiguiente B mayor que D.

II.º Sea A igual á C; será B igual á D; porque siendo A á B, como C (esto es A) á D, será B igual á D <sup>d</sup>. <sup>d</sup> 9. V.

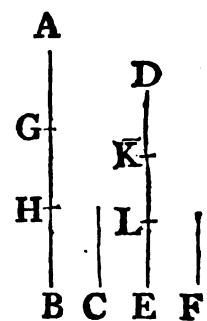
III.º Sea A menor que C: será B menor que D: porque siendo C mayor que A; y C á D, como A á B; será D mayor que B por el primer caso: luego B será menor que D. Por consiguiente si quatro, &c. L. Q. D. D.

PROP. XV. TEOR.

**L**AS partes tienen entre sí la misma razón que sus equimúltiples.

Sea AB equimúltiple de C; y DE de F. Digo, que C será á F, como AB á DE.

Porque siendo AB equimúltiple de C, y DE de F; quantas cantidades haya en AB iguales á C, tantas habrá en DE iguales á F. Divídase AB en partes iguales á C, que sean AG, GH, HB; divídase asimismo DE en partes iguales á F, es á saber DK, KL, LE; y resultará el número de las AG, GH, HB igual al de las DK, KL, LE: y por ser AG, GH, HB entre sí iguales, como asimismo DK, KL, LE entre sí iguales, será AG á DK, como GH á KL, como HB á LE <sup>a</sup>; es así que la suma de los antecedentes es á la de los conseqüentes, como un



a 7. V.  
b 12. V.

antecedente qualquiera á su conseqüente <sup>b</sup>: luego AG será á DK, como AB á DE: pero AG es igual á C; y DK á F: luego C será á F, como AB á DE. Por consiguiente las partes, &c. L. Q. D. D.

PROP. XVI. TEOR.

**S**I quatro cantidades de un mismo género fueren proporcionales; tambien permutadas serán proporcionales.

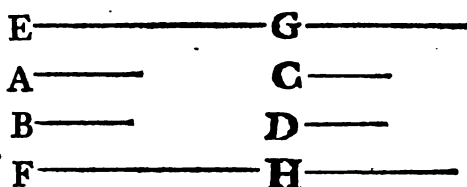
Sean A, B, C, D quatro cantidades proporcionales, ó A á B, como C á D. Digo, que permutadas serán proporcionales, esto es que A será á C, como B á D.

Tómense E, F cualesquiera equimúltiples de A, B; y G, H otras cualesquiera equimúltiples de C, D: siendo, pues, E equimúltiple de A, y F de B; y teniendo las partes entre sí la misma razón que sus equimúltiples <sup>a</sup>; será A á B, como E á



á F; pero A es á B, como C á D: luego C será á D, como E á F <sup>b</sup>: á mas, siendo G, H equimúltiples de C, D, será <sup>c</sup> C <sup>b</sup> <sup>11. V.</sup> á D, como G á H; pero C es á D, como E á F: luego E será <sup>c</sup> <sup>15. V.</sup> á F, como G á H <sup>d</sup>: pero si quatro cantidades son propor-

d <sup>11. V.</sup>  
 cionales; esto es, si la primera tiene á la segunda la misma razon que la tercera á la quarta; la segunda será mayor, igual, ó menor que la quarta, segun sea la primera



mayor, igual, ó menor que la tercera <sup>e</sup>: luego segun sea E ma- <sup>e</sup> <sup>14. V.</sup> yor, igual, ó menor que G, será F mayor, igual, ó menor que H: pero E, F son qualesquiera equimúltiples de A, B; y G, H otras qualesquiera equimúltiples de C, D: luego A será <sup>f</sup> á <sup>f</sup> <sup>Def. 5.</sup>

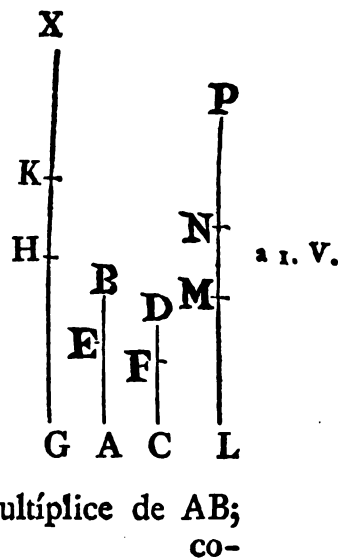
C, como B á D. Por consiguiente si quatro, &c. L. Q. D. D. <sup>V.</sup>

PROP. XVII. TEOR.

SI algunas cantidades compuestas fueren proporcionales; tambien lo serán dividiendo.

Sean compuestas las cantidades proporcionales AB, BE, CD, DF; siendo AB á BE, como CD á DF. Digo, que dividiendo serán tambien proporcionales, esto es AE á EB, como CF á FD.

Tómense GH, HK, LM, MN qualesquiera equimúltiples de AE, EB, CF, FD; y KX, NP otras qualesquiera equimúltiples de EB, FD: y siendo GH equimúltiple de AE; y HK de EB, resultará GH <sup>a</sup> equimúltiple de AE; y GK de AB: es así que GH es equimúltiple de AE; y LM de CF: luego GK será equimúltiple de AB; y LM de CF. A mas, por ser LM equimúltiple de CF, y MN de FD, será LM equimúltiple de CF, y LN de CD: es así que LM es equimúltiple de CF; y GK de AB: luego GK será tan múltiple de AB;

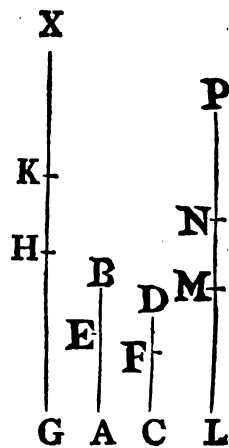


como LN de CD: por consiguiente GK, LN serán equimúltiples de AB, CD. A mas de esto, siendo HK equimúltiple de EB; MN de FD; KX equimúltiple de EB, y NP de FD; tambien la compuesta HX será equimul-

b 2. V. típlice de EB <sup>b</sup>; y la compuesta MP de FD: respecto de ser AB á BE, como CD á DF, y haberse tomado GK, LN equimúltiples de AB, CD; y HX, MP otras equimúltiples de

c 5. Def. V.

EB, FD, segun GK sea <sup>c</sup> mayor, igual, ó menor que HX, será LN mayor, igual, ó menor que MP: pero si GH es mayor que KX, añadiéndolas HK, será GK mayor que HX; y por ser LN mayor que MP, quitando la comun MN, será LM mayor que NP: luego si GH es mayor que KX, tambien LM será mayor que NP. Del mismo modo se demuestra, que si GH es igual, ó menor que KX; será LM igual, ó menor que NP: es así que GH, LM son cualesquiera equimúltiples de AE, CF; y KX, NP otras cualesquiera equimúltiples de EB, FD: luego AE será á EB, como EF á FD. Por consiguiente si alguna, &c. L. Q. D. D.

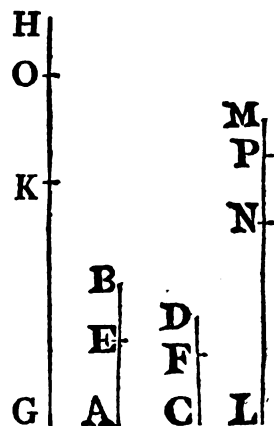


PROP. XVIII. TEOR.

SI algunas cantidades fueren proporcionales; tambien lo serán componiendo.

Sean las cantidades proporcionales AE, EB, CF, FD, esto es AE á EB, como CF á FD. Digo, que tambien componiendo serán proporcionales; es á saber AB á BE, como CD á DF.

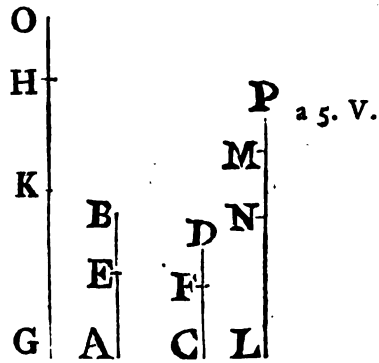
Tómense GH, HK, LM, MN cualesquiera equimúltiples de AB, BE, CD, DF; y KO, NP otras cualesquiera equimúltiples de BE, DF: siendo KO, NP equimúltiples de BE, DF, como tambien KH, NM equimúltiples de las mismas, segun sea



sea KO múltiple de BE mayor, igual, ó menor que KH múltiple de BE, será NP múltiple de DF mayor, igual, ó menor que NM múltiple de DF.

Primeramente si KO fuese menor que KH; NP será menor que NM: y siendo GH, HK equimúltiples de AB, BE; y AB mayor que BE, será GH mayor \* que KH: pero KO es menor que KH: luego GH será mayor que KO. Semejantemente se demostrará, que LM es mayor que NP: luego si KO es menor que KH; GH múltiple de AB será siempre mayor que KO múltiple de BE, como asimismo LM múltiple de CD mayor que NP múltiple de DF.

Pero supongamos, que KO sea mayor que KH, será NP, según se ha demostrado, mayor que NM: y siendo la total GH equimúltiple de la total AB, y la parte HK de la parte BE, quitadas estas, la restante GK será <sup>a</sup> equimúltiple de la restante AE; y GH de AB; esto es LM de CD. Semejantemente por ser LM equimúltiple de CD, y la parte MN de la parte DF, será <sup>a</sup> la restante LN equimúltiple de la restante CF; y LM de CD: pero se ha demostrado que LM es equimúltiple de CD; y GK de AE: luego GK

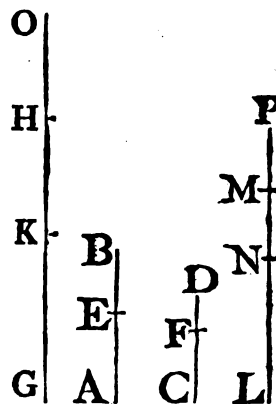


será equimúltiple de AE; y LN de CF: luego GK, LN serán equimúltiples de AE, CF: siendo, pues, KO, NP equimúltiples de BE, DF, y habiéndose quitado KH, NM equimúltiples de las mismas, serán las restantes HO, MP, ó iguales á BE, DF, ó sus equimúltiples <sup>b</sup>. Primeramente sean HO, MP iguales á BE, DF: respecto de ser AE á EB, como CF á FD, y haberse tomado GK, LN equimúltiples de AE, CF, será <sup>c</sup> GK á EB, como LN á FD: es así que HO es igual á EB, y MP á FD: luego GK será á HO, como LN á MP: luego según sea GK mayor, igual, ó menor que HO, será LN mayor, igual, ó menor que MP <sup>d</sup>.

Mas demos, que HO, MP sean equimúltiples de EB, FD; y siendo AE á EB, como CF á FD, y tomadas GK, LN equimúltiples de AE, CF, como asimismo HO, MP otras equimul-

e. 5. Def. V. múltiplos de EB, FD; segun sea GK mayor, igual, ó menor que HO, será LN mayor, igual, ó menor que MP<sup>e</sup>; lo qual se demostró tambien en el caso anterior: luego si GH es mayor que KO, quitada la parte comun KH, será GK mayor que HO; por tanto LN mayor que MP; y añadiendo á estas NM, será LM mayor que NP: luego si GH es mayor que KO, tambien LM será mayor que NP: semejantemente se demostrará, que si GH es igual, ó menor que KO, tambien LM será igual, ó menor que NP: y en el caso de ser KO menor que KH, yá se demostró, que GH es siempre mayor que KO; y al mismo tiempo LM mayor que NP:

es así que GH, LM son qualesquiera equimúltiplos de AB, CD; y KO, NP otras qualesquiera equimúltiplos de BE, DF: luego AB será á BE, como CD á DF. Por consiguiente si algunas, &c. L. Q. D. D.

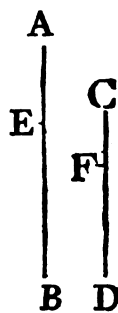


PROP. XIX. TEOR.

SI de dos cantidades se quitan dos partes, que estén en la misma razon de sus todos; las partes residuas estarán tambien en la misma razon.

Sea AB á CD, como la parte AE de la primera á la parte CF de la segunda; será tambien la otra parte EB de la primera á la otra parte FD de la segunda, como la primera AB á la segunda CD.

a 16. V. Porque siendo AB á CD, como AE á CF, permutando<sup>a</sup> será BA á AE, como DC á CF: pero si algunas cantidades compuestas son proporcionales, tambien lo serán dividiendo<sup>b</sup>: luego BE será á EA, como DF á FC; y permutando será BE á DF, como EA á FC: es así que se ha supuesto AB á CD, como AE á CF: luego la parte restante EB será á la restante FD, como la total AB á la total CD. Por consiguiente si de dos, &c. L. Q. D. D.



COR.

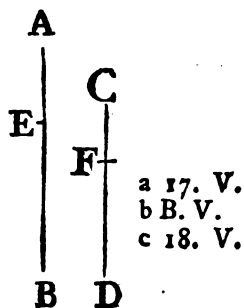
COR. Si de cada una de dos cantidades se quita una parte, que estén en la razon de ellas, las partes quitadas serán como las residuas, segun consta de la misma demostracion.

PROP. E. TEOR.

SI quatro cantidades son proporcionales; tambien lo serán convirtiendo.

Sea AB á BE, como CD á DF: convirtiendo será BA á AE, como DC á CF.

Porque siendo AB á BE, como CD á DF, dividiendo <sup>a</sup> será AE á EB, como CF á FD, é invirtiendo <sup>b</sup> será BE á EA, como DF á FC: luego componiendo <sup>c</sup> será BA á AE, como DC á CF. Por consiguiente si quatro, &c. L. Q. D. D.

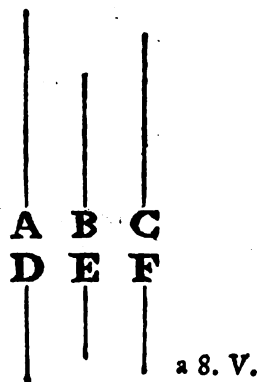


PROP. XX. TEOR.

SI hay tres cantidades, cuyas razones de la primera á la segunda, y de la segunda á la tercera sean respectivamente las mismas que las de otras tres cantidades; será la quarta cantidad mayor, igual, ó menor que la sexta, segun sea la primera mayor, igual, ó menor que la tercera.

Sean tres cantidades A, B, C, y otras tres D, E, F; la razon de A á B igual á la de D á E, y la de B á C igual á la de E á F: si A es mayor que C, será tambien D mayor que F; y si A fuese igual, ó menor que C, será tambien D igual, ó menor que F.

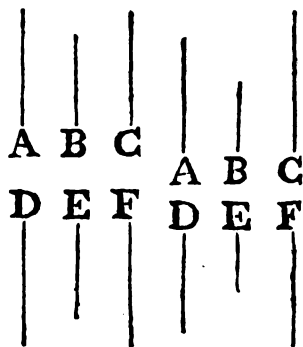
1.º Sea A mayor que C; y B otra qualquiera cantidad: por tener la mayor de dos cantidades mayor razon á una misma cantidad que la menor <sup>a</sup>; A tendrá á B mayor razon, que C á B: es así



- b 13. V. así que D es á E, como A á B: luego D<sup>b</sup> tendrá mayor razón á E, que C á B: y respecto de ser B á C, como E á F, invirtiendo será C á B, como F á E: pero se ha visto que D<sup>c</sup> tiene á E mayor razón que C á B: luego D<sup>c</sup> tendrá mayor razón á E que F á E: es así que de dos cantidades aquella es mayor que tiene mayor razón á una misma cantidad<sup>d</sup>: luego D será mayor que F.

II.º Si A fuese igual á C, tambien D será igual á F: porque siendo iguales A, y C; y B otra cualquiera cantidad, A<sup>e</sup> será á B, como C á B: es así que A es á B, como D á E; y C á B, como F á E: luego D<sup>f</sup> será á E, como F á E, y por tanto D<sup>g</sup> será igual á F.

e 7. V.  
f 11. V.  
g 9. V.



III.º Si A fuese menor que C, tambien D será menor que F; porque siendo A menor que C, será C mayor que A; y siendo por la hipótesis, é invirtiendo C á B, como F á E; B á A, como E á D; y C mayor que A, tambien F será mayor que D por el caso primero; y por tanto D menor que F. Por consiguiente si hay, &c. L. Q. D. D.

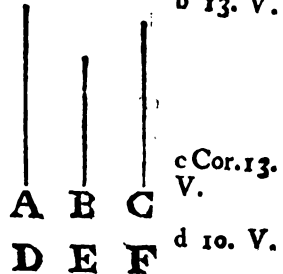
PROP. XXI. TEOR.

SI hay tres cantidades, cuyas razones sean las mismas que las de otras tres, pero perturbada su proporción; será la quarta cantidad mayor, igual, ó menor que la sexta, segun sea la primera mayor, igual, ó menor que la tercera.

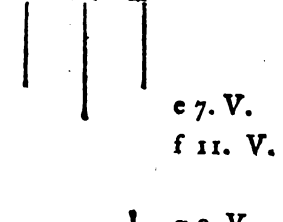
Sean tres cantidades A, B, C, y otras tres D, E, F tales que las razones A á B, B á C sean perturbadamente las mismas que las D á E, y E á F, esto es que A sea á B, como E á F; y B á C, como D á E. Digo, que segun sea A mayor, igual, ó menor que C, será D mayor, igual, ó menor que F.

I.º

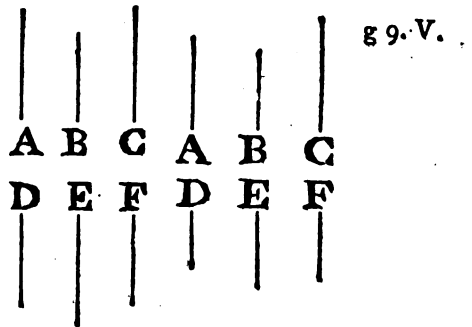
I.º Si fuere A mayor que C; y B otra cantidad qualquiera, A<sup>a</sup> tendrá mayor razon á B, que C á B: es así que E es á a 8. V.  
 F, como A á B: luego E<sup>b</sup> tendrá mayor razon b 13. V.  
 á F, que C á B: siendo, pues, B á C, como D á E, invirtiendo será C á B, como E á D: pero se ha visto, que E tiene mayor razon á F, que C á B: luego E<sup>c</sup> tendrá mayor razon á F, que á D: pero de dos cantidades aquella, á quien una misma tiene mayor razon, es menor<sup>d</sup>: luego F será menor que D, y por tanto D mayor que F.



II.º Si fuese A igual á C, será tambien D igual á F: por ser iguales A, y C, y B otra cantidad; A<sup>e</sup> será á B, como C á B: es así que A es á B, como E á F; y C á B, como E á D: luego E<sup>f</sup> será á F, como E á D: por consiguiente D será igual á F g.



III.º Si fuese A menor que C, tambien D será menor que F: por ser A menor que C, será C mayor que A; y siendo por la hipótesis, é invirtiendo C á B, como E á D; B á A, como F á E; y C mayor que A, será F mayor que D por el caso primero, y por lo mismo D será menor que F. Por consiguiente si hay, &c. L. Q. D. D.



PROP. XXII. TEOR.

SI hay muchas cantidades, cuyas razones sean respectivamente las mismas que las de otras cantidades en igual número; estarán por igualdad en la misma razon.


I.º Sean las tres cantidades A, B, C, y las otras tres D, E, F tales, que las razones A á B, y B á C sean respectivamente las mismas que las D á E, y E á F; esto es, sea A á

á B, como D á E; y B á C, como E á F. Digo, que A será á C, como D á F.

Tómense G, H cualesquiera equimúltiples de A, D; y K, L otras cualesquiera equimúltiples de B, E, como asimismo M, N otras cualesquiera equimúltiples de C, F. Siendo, pues, A á B, como D á E, y tomadas G, H equimúltiples de A, B; y K, L

a 11. V.

otras equimúltiples de B, E; será G á K, como H á L: por la misma razon K será á M, como L á N; y habiéndose tomado tres cantidades G, K, M, y otras tres H, L, N tales, que las dos razones de las primeras son respectivamente iguales á las dos razones de las segundas, segun sea G mayor, igual, ó



b 20. V.

menor que M, será H mayor, igual, ó menor <sup>b</sup> que N: es así que G, H son cualesquiera equimúltiples de A, D, y M, N otras

c 5. Def. V.

qualesquiera equimúltiples de C, F: luego A <sup>c</sup> será á C, como D á F.

II.º Sean quatro cantidades A, B, C, D; y otras quatro E, F, G, H tales, que las razones de A, B, C, D sean respectivamente iguales á las de E, F, G, H, esto es A á B, como E á F; B á C, como F á G; y C á D, como G á H: será A á D, como E á H.

A.	B.	C.	D.
E.	F.	G.	H.

Porque siendo tres cantidades A, B, C, y otras tres E, F, G tales, que las razones de las unas sean respectivamente iguales á las de las otras, es A á C, como E á G por el caso I.º es así que C es á D, como G á H: luego por el caso I.º A será á D, como E á H: asimismo qualquiera que sea el número de cantidades. Por consiguiente si hay muchas, &c. L. Q. D. D.

PROP.




PROP. XXIII. TEOR.

**S**I hay muchas cantidades, cuyas razones sean perturbadamente las mismas que las de otras cantidades en igual número; estarán por igualdad perturbada en la misma razon.

I.<sup>o</sup> Sean tres cantidades A, B, C, y otras tres D, E, F tales, que sus razones sean perturbadamente las mismas, esto es A á B, como E á F; y B á C, como D á E. Digo, que A será á C, como D á F.

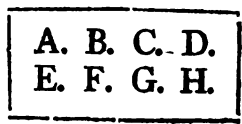
Tómense G, H, K qualesquiera equimúltiples de A, B, D; y L, M, N otras qualesquiera equimúltiples de C, E, F: siendo G, H equimúltiples de A, B, y teniendo las partes entre sí la misma razon que sus equimúltiples <sup>a</sup>, A será á B, como G á H: por la misma razon E será á F, como M á N: es así que A es á B, como E á F: luego M <sup>b</sup> será á N, como G á H: y por ser B á C, como D á E, y haberse tomado H, K equimúltiples de B, D; y L, M otras equimúltiples de C, E; será H <sup>c</sup> á L, como K á M: pero se ha visto, que G es á H, como M á N: siendo, pues, las tres cantidades G, H, L, y otras tres K, M, N tales, que las razones de las primeras son perturbadamente las mismas, que las de las segundas; segun sea G mayor, igual, ó menor que L, será K mayor, igual, ó menor <sup>d</sup> que N: es así <sup>d</sup> que G, K son qualesquiera equimúltiples de A, D; y L, N qualesquiera equimúltiples de C, F: luego A <sup>e</sup> será á C, como D á F.



a 15. V.  
b 11. V.

c 4. V.  
d 21. V.  
e 5. Def. V.

II.<sup>o</sup> Sean quatro cantidades A, B, C, D, y otras tantas E, F, G, H tales, que las razones de las primeras sean perturbadamente las mismas que las de las segundas, esto es A á B, como G á H, B á C, como F á G, y C á D como E á F; será A á D, como E á H.



Por-

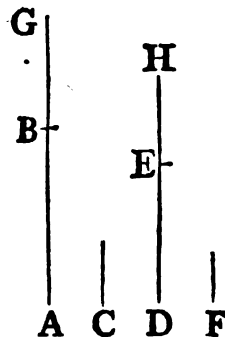
Porque siendo tres cantidades A, B, C, y otras tantas F, G, H tales, que las razones de las unas sean perturbadamente las mismas que las de las otras, A es á C, como F á H por el primer caso: es así que C es á D, como E á F: luego tambien por el primer caso A será á D, como E á H: y asimismo qualquiera que sea el número de cantidades. Por consiguiente si hay muchas, &c. L. Q. D. D.

PROP. XXIV. TEOR.

SI hay seis cantidades tales, que la primera tenga á la segunda la misma razon que la tercera á la quarta, y la quinta á la segunda la misma razon que la sexta á la quarta; la suma de la primera, y de la quinta tendrá la misma razon á la segunda, que la suma de la tercera, y de la sexta á la quarta.

Tenga la primera AB la misma razon á la segunda C, que la tercera DE á la quarta F: y la quinta BG la misma razon á la segunda C, que la sexta EH á la quarta F. Digo, que tambien AG suma de la primera, y de la quinta tendrá la misma razon á la segunda C, que DH suma de la tercera, y de la sexta á la quarta F.

a 22. V. Porque siendo BG á C, como EH á F, será invirtiendo C á BG, como F á EH; y respecto de ser AB á C, como DE á F; y C á BG, como F á EH; será por igualdad <sup>a</sup> AB á BG, como DE á EH: siendo, pues, estas cantidades proporcionales, tambien lo serán componiendo <sup>b</sup>: luego AG será á GB, como DH á HE: es así que GB es á C, como HE á F: luego por igualdad AG será á C, como DH á F. Por consiguiente si hay seis, &c. L. Q. D. D.



COR. I. En la misma hipótesis de la Proposicion el exceso de la primera, sobre la quinta será á la segunda, como el exceso de la tercera, sobre la sexta será á la quarta. La demostracion de esta es

es la misma que la de la Proposicion, con sola la diferencia de usar de Dividiendo en vez de Componiendo.

COR. 2. La Proposicion se verifica en cualesquiera cantidades, cuyas primeras tengan á la segunda comun las mismas razones, que tienen las restantes á la quarta comun: es á saber, cada una de las primeras á la segunda la misma razon, que cada una de las restantes á la quarta, como es manifesto.

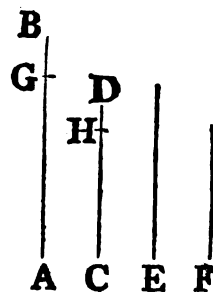
PROP. XXV. TEOR.

**S**I quatro cantidades fuesen proporcionales; la suma de la máxima, y de la mínima será mayor que la suma de las otras dos.

Sean quatro cantidades proporcionales AB, CD, E, F, esto es AB á CD, como E á F, y la máxima de ellas AB, será por consiguiente F<sup>a</sup> la mínima. Digo, que la suma de AB, y F será mayor que la suma de CD, y E.

<sup>a</sup> A. y 14. V.

Sea AG igual á E; y CH á F. Siendo, pues, AB á CD, como E á F, AG igual á E, y CH á F; será AB á CD, como AG á CH; y por ser AB á CD, como AG parte de AB á CH parte de CD, será tambien la otra parte GB de AB á la otra parte HD de CD, como AB á CD: es así que AB es mayor que CD: luego GB será tambien mayor que HD: y siendo AG igual á E; y CH á F, la suma de AG, y F será igual á la de CH, y E: siendo, pues, desiguales GB, HD, y GB la mayor de ellas, si se añaden AG, y F á GB; y CH, y E á HD, resultará la suma de AB, y F mayor que la suma de CD, y E. Por consiguiente si quatro cantidades, &c. L. Q. D. D.



<sup>b</sup> 19. V.

<sup>c</sup> A. V.

PROP.

## PROP. F. TEOR.

**L**AS razones compuestas de razones respectivamente iguales son iguales entre sí.

Sea A á B, como D á E; y B á C, como E á F: resultará la razon compuesta de las razones A á B, y B á C, esto es, segun la Definicion de la razon compuesta, la razon de A á C igual á la razon de D á F, la qual se compone de las razones D á E, y E á F.

A.	B.	C.
D.	E.	F.

Porque siendo tres cantidades A, B, C, y otras tres D, E, F tales, que las razones de las primeras son respectivamente iguales á las razones de las segundas, es por igualdad <sup>a</sup> A á C, como D á F.

A mas, sea A á B, como E á F; y B á C, como D á F: luego A será á C por igualdad perturbada <sup>b</sup>, como D á F; esto es la razon de A á C, que está compuesta de las razones A á B, y B á C, igual á la razon de D á F, que está compuesta de las razones D á E, y E á F: y lo mismo sucederá, si fuesen mas las razones en uno, y otro caso. Por consiguiente las razones, &c. L. Q. D. D.

A.	B.	C.
D.	E.	F.

## PROP. G. TEOR.

**S**I algunas razones son respectivamente iguales á otras; la razon compuesta de razones iguales á las primeras será igual á la razon compuesta de razones iguales á las segundas.

Sea A á B, como E á F; y C á D, como G á H: asimismo sea A á B, como K á L; y C á D, como L á M: luego la razon de K á M se compondrá, segun la Definicion de la razon compuesta, de las razones K á L, y L á M, que son igua-

iguales á las razones A á B, y C á D. A mas, sea E á F, como N á O, y G á H, como O á P: luego la razon de N á P estará compuesta de las razones N á O, y O á P, las quales son iguales á las razones E á F, y G á H. Ahora, pues, se ha de demostrar, que la razon de K á M es igual á la de N á P, ó que K es á M, como N á P.

A.	B.	C.	D.	K.	L.	M.
E.	F.	G.	H.	N.	O.	P.

Siendo, pues, K á L (como A á B, esto es como E á F) como N á O; y L á M (como C á D, como G á H) como O á P, será por igualdad  $\circ$  K á M, como N á P. Por consiguiente si algunas, &c. L. Q. D. D. c 22. V.

PROP. H. TEOR.

**S**I una razon compuesta de muchas razones fuese igual á otra compuesta de qualquier número de razones, y una de las primeras razones, ó la compuesta de algunas de ellas, fuese tambien igual á una de las segundas razones, ó á la compuesta de algunas de estas; la restante de las primeras, ó la compuesta de las demás de ellas, será igual á la restante de las segundas, ó á la compuesta de las demás de estas.

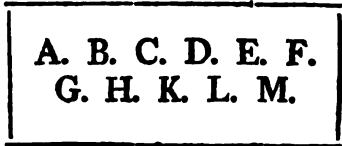
Sean las razones A á B, B á C, C á D, D á E, y E á F, y otras razones G á H, H á K, K á L, L á M, y sea la razon de A á F, que está compuesta <sup>a</sup> de las primeras, igual á la razon de G á M, que está compuesta de las segundas; y además, sea la razon de A á D, que está compuesta de las razones A á B, B á C, y C á D igual á la razon de G á K, que está compuesta de las razones G á H, y H á K: resultará la razon de D á F, que está compuesta de las razones primeras restantes D á E, y E á F, igual á

A.	B.	C.	D.	E.	F.
G.	H.	K.	L.	M.	

<sup>a</sup> Def. de la razon compuesta.

á la razon de K á M compuesta de las razones segundas restantes K á L, y L á M.

Porque siendo por hipótesis A á D,  
<sup>b</sup> B. V. como G á K; invirtiendo <sup>b</sup> será D á A, como K á G: pero A es á F, como G á M: luego por igualdad <sup>c</sup> D será á F, como K á M. Por consiguiente si una razon, &c. L. Q. D. D.



PROP. K. TEOR.

**S**I la razon compuesta de razones respectivamente iguales á otras razones (que llamaremos primeras) fuese igual á la razon compuesta de razones respectivamente iguales á otras razones (que llamaremos segundas) y una de las primeras, ó la compuesta de algunas razones iguales respectivamente á otras tantas de las primeras, fuese igual á una de las segundas, ó á la compuesta de algunas razones respectivamente iguales á otras tantas de las segundas; la restante de las primeras, ó siendo muchas las restantes, la compuesta de razones respectivamente iguales á ellas, será igual á la restante de las segundas, ó siendo muchas las restantes, á la compuesta de razones respectivamente iguales á ellas.

Sean las razones A á B, C á D, E á F las primeras; y las segundas G á H, K á L, M á N, O á P, Q á R; y sea A á B, como S á T, y C á D, como T á V, pero E á F, como V á X: luego, segun la Definicion de la razon compuesta, la razon de S á X estará compuesta de las razones S á T, T á V, V á X, las cuales son respectivamente iguales á las razones A á B, C á D, E á F: sea tambien G á H, como Y á Z, y K á L, como Z á a, M á N, como a á b,  
 O

O á P, como b á c, y Q á R, como c á d : estará , pues, conforme á la misma Definicion yá citada , la razon de Y á d compuesta de las razones Y á Z , Z á a , a á b , b á c , y c á d , las cuales son respectivamente iguales á las razones G á H , K á L , M á N , O á P , y Q á R : luego por la hipótesis S será á X , como Y á d. A mas , sea la razon de A á B , ó de S á T , es á saber una de las primeras , igual á la razon de e á g , que está compuesta de las razones e á f , y f á g , iguales por hipótesis á las razones G á H , y K á L de las segundas : esté asimismo compuesta la razon de h á l de las razones h á k , y k á l , iguales á las razones restantes de las primeras , esto es C á D , y E á F ; y esté compuesta la razon de m á p de las razones m á n , n á o , o á p , respectivamente iguales á las segundas restantes , esto es M á N , O á P , y Q á R. Digo , pues , que la razon de h á l será igual á la de m á p ; esto es h á l , como m á p.

h, k, l		
A, B; C, D; E, F.	S, T, V, X.	
G, H; K, L; M, N; O, P; Q, R.	Y, Z, a, b, c, d.	
e, f, g.	m, n, o, p.	

Porque siendo e á f ( como G á H ) como Y á Z , y f á g ( como K á L ) como Z á a , será por igualdad e á g , como Y á a : es así que por hipótesis A es á B , ó S á T , como e á g : luego S será á T , como Y á a ; é invirtiendo T á S , como a á Y : pero S es á X , como Y á d : luego por igualdad T será á X , como a á d. Además , por ser h á k ( como C á D ) como T á V , y k á l ( como E á F ) como V á X , será por igualdad h á l , como T á X. Semejantemente se demostrará ser m á p , como a á d : pero se

K 2

ha

a II. V. ha visto, que T es á X, como a á d: luego h<sup>a</sup> será á l, como m á p. L. Q. D. D.

Los Geómetras antiguos, y modernos comprehenden comunmente, para mayor brevedad, las Propositiones G, y K en la enunciacion de las F, y H; pero á nosotros nos ha parecido mas conveniente separarlas, para manifestar de qué modo pueden reducirse, y por el freqüentísimo uso que tienen.

**ELE-**



# ELEMENTOS DE EUCLIDES.

## LIBRO SEXTO.

### DEFINICIONES.

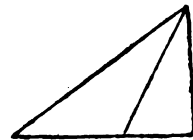
**I.**  
**F**IGURAS rectilíneas semejantes son las que tienen los ángulos respectivamente iguales, y proporcionales los lados que contienen ángulos iguales.



**II.**  
\*Aquellas figuras son recíprocas ( esto es los triángulos entre sí, »y los paralelogramos entre sí ) que tienen los lados que contienen dos ángulos de tal suerte proporcionales, que el un »lado de la primera es al de la segunda, como el otro de la »segunda al otro de la primera.\*

**III.**  
Se dice, que una recta está dividida en extrema, y media razón, quando toda la línea es á su segmento mayor, como este al menor.

**IV.**  
Altura de una figura es la línea recta tirada perpendicularmente del vértice á la base.



### PROP. I. TEOR.

**L**OS triángulos, y los paralelogramos, que tienen una misma altura, son entre sí como sus bases.

Tengan los triángulos  $ABC$ ,  $ACD$ , y los paralelogramos  $EC$ ,  $CF$

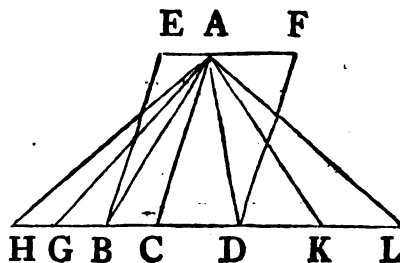
$K_3$

CF la misma altura, es á saber la perpendicular tirada del punto A á la recta BD. Digo, que el triángulo ABC será al ACD, y el paralelogramo EC al CF, como la base BC es á la CD.

Prolónguese BD por ambas partes hasta H, L, y tómense quantas partes se quieran BG, GH iguales á la base BC, como tambien quantas partes se quieran DK, KL iguales á la base CD: tírense asimismo AG, AH, AK, AL. Siendo, pues, iguales entre sí las líneas CB, BG, GH, tambien los triángulos AHG,

a 38. I. AGB, ABC serán entre sí iguales <sup>a</sup>: luego quan múltiplice sea la base HC de la BC, tan múltiplice será el triángulo AHC del ABC: por la misma razon, quan múltiplice sea la base LC de la CD, tan múltiplice será el triángulo ALC del ACD: y segun sea

la base HC igual, mayor, ó menor que la CL, el triángulo AHC será igual <sup>a</sup>, mayor, ó menor que el ALC: dadas, pues, quatro cantidades, esto es las dos bases BC, CD, y los dos triángulos ABC, ACD,



se han tomado qualesquiera equimúltiples de la base BC, y del triángulo ABC, esto es la base HC, y el triángulo AHC, y otras qualesquiera múltiplices de la base CD, y del triángulo ACD, es á saber la base CL, y el triángulo ALC: pero se ha demostrado, que segun sea la base HC mayor, igual, ó menor que la CL, será el triángulo AHC mayor, igual, ó menor que el ALC: luego el triángulo

b 5. Def. V.

ABC será al ACD, como la base <sup>b</sup> BC á la CD.

c 41. I.

Y por ser el paralelogramo EC duplo del triángulo <sup>c</sup> ABC, y el paralelogramo CF duplo del triángulo ACD, y tener las

d 15. V.

partes la misma razon que sus equimúltiples <sup>d</sup>, será el paralelogramo EC al CF, como el triángulo ABC al ACD: luego habiéndose demostrado, que el triángulo ABC es al ACD, como la base BC á la CD, y el paralelogramo EC al CF, como el triángulo

e 11. V.

ABC al ACD, será el paralelogramo EC al CF, como la base BC <sup>e</sup> á la CD. Por consiguiente los triángulos, &c. L. Q. D. D.

COR. De aquí es, que los triángulos, y paralelogramos de iguales alturas son entre sí como sus bases.

Por-

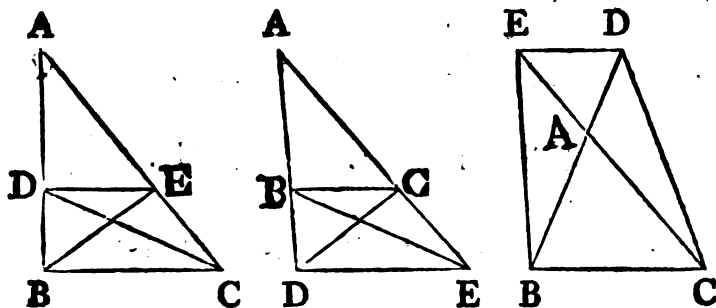
Porque colocadas las figuras de manera que sus bases estén en una misma recta, y tiradas perpendiculares de los vértices de los triángulos á las bases; resultará la recta, que junta los vértices, paralela á la recta, en que están las bases <sup>f</sup>, por ser las per- f 33. I.  
pendiculares iguales, y paralelas entre sí: por lo tanto supuesta la misma construcción que en la Proposición, la demostración será también la misma.

PROP. II. TEOR.

**S**I en un triángulo se tira una recta paralela á uno de sus lados; dividirá á los otros dos, ó á sus prolongaciones, proporcionalmente: y si los lados de un triángulo, ó sus prolongaciones, estuviesen divididos proporcionalmente; la recta, que junte las secciones, será paralela al otro lado.

En el triángulo ABC tírese DE paralela al lado BC. Digo, que será BD á DA, como CE á EA.

Tírense BE, CD, y resultará el triángulo BDE igual al CDE <sup>a</sup>, por estar sobre una misma base DE, y en unas mismas a 37. I.  
paralelas DE, BC: es así que cantidades iguales tienen la misma



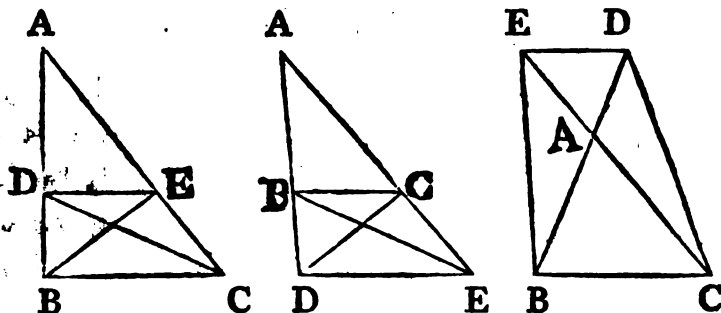
razon <sup>b</sup> á una misma: luego el triángulo BDE será á otro trián- b 7. V.  
gulo ADE, como el triángulo CDE al mismo triángulo ADE:  
pero el triángulo BDE es al ADE, como DB <sup>c</sup> á DA; pues te- c 1. VI.  
niendo una misma altura, esto es la perpendicular tirada del

K. 4

pun-

punto E á la recta AB, son entre sí como sus bases: y asimismo el triángulo CDE es al ADE, como CE á EA: luego BD será *d* 11. V. á DA, como CE á EA *d*.

Pero supongamos, que los lados AB, AC del triángulo ABC, ó sus prolongaciones, se hallen divididos proporcionalmente en los puntos D, E; esto es que BD sea á DA, como CE á EA. Digo, que si se juntan D, E, la recta DE será paralela á BC.



Porque supuesta la misma construcción, siendo BD á DA, como CE á EA; y BD á DA, como el triángulo BDE al ADE, asimismo CE á EA, como el triángulo CDE al ADE, será el triángulo BDE al ADE, como el CDE al ADE: luego los dos triángulos BDE, CDE tienen una misma razón al triángulo ADE: *e* 9. V. por consiguiente BDE será igual á CDE *e*: pero están sobre una misma base DE: luego DE será paralela á BC, porque los triángulos iguales; y sobre una misma base están en unas mismas paralelas *f*. Por consiguiente si en un triángulo, &c. L. Q. D. D. *f* 39. I.

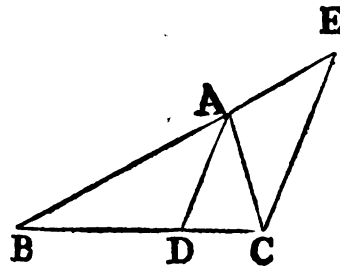
PROP. III. TEOR.

**S**I la recta que divide en dos partes iguales un ángulo de un triángulo, divide también su base; los segmentos de la base estarán en la misma razón de los otros lados: y si los segmentos de la base están en la misma razón de los otros lados; la recta tirada del vértice á la sección de la base la dividirá en dos partes iguales.

Di-

Divídase en dos partes iguales el ángulo BAC del triángulo ABC por la recta AD. Digo, que BD será á DC, como BA á AC.

Tírese por C CE paralela <sup>a</sup> á DA, que encontrará en E á BA prolongada. Cayendo, pues, la recta AC sobre las paralelas AD, EC, el ángulo ACE será igual <sup>b</sup> al ángulo alterno CAD: es así que el CAD se supone igual al BAD: luego BAD será igual á ACE. A mas, por caer la recta BAE sobre las paralelas AD, EC, el ángulo externo BAD será igual al interno, opuesto AEC: pero se ha demostrado antes la igualdad del ángulo ACE al BAD: luego tambien el ACE será igual al AEC, y por consiguiente el lado AE será igual al AC <sup>c</sup>: habiéndose tirado AD paralela al lado EC del triángulo BCE, será BD <sup>d</sup> á DC, como BA á AE: es así que AE es igual á AC: luego BD <sup>e</sup> será á DC, como BA á AC.



c 6. I.

d 2. VI.

e 7. V.

Pero sea BD á DC, como BA á AC. Digo, que si se tira AD, el ángulo BAC quedará dividido en dos partes iguales por la recta AD.

Porque supuesta la misma construcción, siendo BD á DC, como BA á AC, y BD á DC, como BA á AE <sup>d</sup>, por ser la recta AD paralela al lado EC del triángulo BCE; resultará BA <sup>f</sup> á AC, como BA á AE: luego AC será igual á AE <sup>g</sup>; y por tanto el ángulo AEC igual <sup>h</sup> al ACE: es así que el ángulo AEC es igual al externo BAD <sup>i</sup>, y el ACE igual al alterno CAD: luego BAD será igual á CAD; y así el ángulo BAC quedará dividido en dos partes iguales por la recta AD. Por consiguiente si la recta, &c. L. Q. D D.

f 11. V.

g 9. V.

h 5. I.

i 29. I.

PROP.

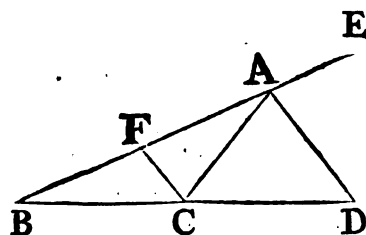
## PROP. A. TEOR.

**S**I prolongado qualquier lado de un triángulo se divide el ángulo externo en dos partes iguales, y la recta que lo corta divide tambien la base prolongada; los segmentos de esta contenidos por la secante, y por los extremos de la base estarán en la misma razon de los lados: y si los segmentos de la base prolongada están en la misma razon de los lados; la recta tirada del vértice á la seccion dividirá en dos partes iguales al ángulo externo del triángulo.

Sea el triángulo ABC, y divida la recta AD en dos partes iguales al ángulo externo CAE, y encuentre en D á la base BC prolongada. Digo, que será BD á DC, como BA á AC.

<sup>a</sup> 31. I. Tírese por C <sup>a</sup> la recta CF paralela á AD. Cayendo, pues, la recta AC sobre las paralelas AD, FC, será el ángulo ACF

<sup>b</sup> 29. I. igual <sup>b</sup> al alterno CAD: pero este se ha supuesto igual al DAE: luego DAE será igual á ACF. A mas, por caer la recta FAE sobre las paralelas AD, FC, el ángulo externo DAE será igual al interno, y opuesto CFA: es así que ya se ha demostrado la igualdad del ángulo ACF al DAE: luego tambien



<sup>c</sup> 6. I. AC <sup>c</sup>: respecto, pues, de ser la recta AD paralela al lado FC del triángulo BCF, será BD <sup>d</sup> á DC, como BA á AF: pero AF es igual á AC: luego BD será á DC, como BA á AC.

Sea BD á DC, como BA á AC. Digo, que tirando AD, quedará el ángulo externo CAE dividido en dos partes iguales por la recta AD.

<sup>e</sup> 2. VI. Porque supuesta la misma construccion: siendo BD á DC, como BA á AC, y BD <sup>e</sup> á DC, como BA á AF, pues se ha tirado AD paralela al lado FC del triángulo BCF; resultará  
BA

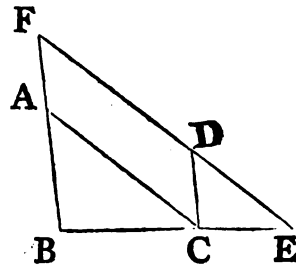
BA <sup>f</sup> á AC, como BA á AF: luego AC será igual á AF <sup>g</sup>, y <sup>f 11. V.</sup> por consiguiente el ángulo AFC igual al ACF: pero AFC es <sup>g 9. V.</sup> igual al externo EAD, y el ACF igual al alterno CAD: luego EAD será igual á CAD: y así CAE quedará dividido en dos partes iguales por la recta AD. Por consiguiente si prolongado, &c. L. Q. D. D.

PROP. IV. TEOR.

**L**OS triángulos equiángulos tienen proporcionales los lados que contienen iguales ángulos; y homólogos los lados opuestos á ángulos iguales.

Tengan los triángulos equiángulos ABC, DCE el ángulo ABC igual al ángulo DCE, y el ACB igual al DEC, y por consiguiente el ángulo BAC <sup>a</sup> igual al CDE. Digo, que los lados de <sup>a 32. I.</sup> dichos triángulos, que contienen ángulos iguales, serán proporcionales; y los lados opuestos á ángulos iguales serán homólogos.

Colóquese <sup>b</sup> el triángulo DCE de manera que su lado CE esté directamente al BC, y siendo los ángulos ABC, ACB menores que dos rectos <sup>c</sup>, y el ACB igual á DEC, resultarán ABC, DEC menores que dos rectos: por tanto BA, ED prolongadas se encontrarán <sup>d</sup>: prólonguense, y encuéntrense en



<sup>b</sup> 22. I.

<sup>c</sup> 17. I.

el punto F. Por ser el ángulo DCE igual al ABC, será BF <sup>e</sup> <sup>d Ax. 12.</sup> paralela á CD: además, por ser el ángulo ACB igual al DEC, será AC <sup>f</sup> <sup>e 28. I.</sup> paralela á FE: luego FACD será un paralelogramo; por consiguiente AF igual á CD, y AC <sup>g</sup> á FD: siendo <sup>f 28. I.</sup> <sup>g 34. I.</sup> pues, la AC paralela al lado FE del triángulo FBE, será BA <sup>h</sup> á AF, como BC á CE: pero AF es igual á CD: luego BA <sup>i</sup> será á CD, como BC á CE: y permutando será AB <sup>h 2. VI.</sup> <sup>i 7. V.</sup> á BC, como DC á CE. A mas de esto, siendo CD paralela á BF, será BC á CE, como FD <sup>h</sup> á DE: pero FD es igual á AC: luego BC será á CE, como AC á DE, y permutando BC á CA, como CE á ED: por consiguiente habiéndose demostrado, que AB

es

## 156 ELEMENTOS DE EUCLIDES.

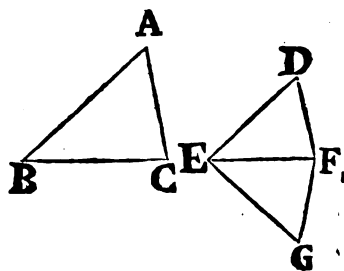
es á BC, como DC á CE; y BC á CA, como CE á ED, será  
 k 22. V. por igualdad k BA á AC, como CD á DE. Por consiguiente  
 los triángulos, &c. L. Q. D. D.

### PROP. V. TEOR.

**S**I dos triángulos tienen los lados proporcionales; se-  
 rán equiángulos; y tendrán iguales los ángulos opues-  
 tos á los lados homólogos.

Tengan los dos triángulos ABC, DEF los lados proporci-  
 onales, esto es AB á BC, como DE á EF; y BC á CA, como  
 EF á FD, y consiguientemente por igualdad BA á AC, como  
 ED á DF. Digo, que el triángulo ABC será equiángulo al trián-  
 gulo DEF; y tendrá iguales los ángulos opuestos á los lados ho-  
 mólogos, es á saber ABC igual á DEF; BCA á EFD, y últi-  
 mamente BAC á EDF.

- a 23. I. Constrúyanse <sup>a</sup> en la recta EF, en los puntos E, y F el  
 ángulo FEG igual al ABC, y el EFG al BCA: luego el otro  
 b 32. I. ángulo BAC será igual <sup>b</sup> al otro EGF,  
 por consiguiente el triángulo ABC equi-  
 ángulo al EGF: luego los lados de los  
 c 4. VI. triángulos ABC, EGF opuestos <sup>c</sup> á án-  
 gulos iguales serán proporcionales; y  
 así AB será á BC, como GE á EF:  
 pero AB es á BC, como DE á EF:  
 d 11. V. luego DE será á EF, como GE á EF <sup>d</sup>:  
 teniendo, pues, DE, GE una misma ra-  
 e 9. V. zon á EF, será DE igual <sup>e</sup> á GE: por la misma razon DF será  
 igual á FG: siendo, pues, DE igual á EG, y EF comun; las  
 dos DE, EF serán iguales á las dos GE, EF, y la base DF  
 f 8. I. á la base FG: luego el ángulo DEF será igual al GEF <sup>f</sup>, y el  
 triángulo DEF igual al GEF, é iguales entre sí los demás án-  
 g 4. I. gulos opuestos á lados iguales <sup>g</sup>: esto es el ángulo DFE será  
 igual al GFE, y el EDF al EGF: siendo, pues, el ángulo DEF  
 igual al GEF, y el GEF al ABC; será el ABC igual al DEF:  
 por la misma razon el ángulo ACB será igual al DFE, y el án-  
 gu-





gulo A al D: luego el triángulo ABC será equiángulo al triángulo DEF. Por consiguiente si dos, &c. L. Q. D. D.

## PROP. VI. TEOR.

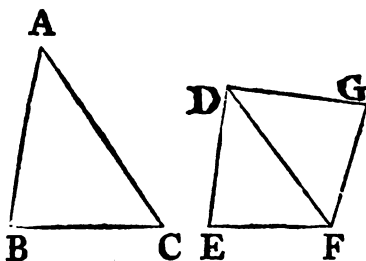
**S**I dos triángulos tienen un ángulo del uno igual á un ángulo del otro, y proporcionales los lados, que los contienen; serán los triángulos equiángulos; y tendrá iguales los ángulos opuestos á los lados homólogos.

Tengan los dos triángulos ABC, DEF el ángulo BAC igual al ángulo EDF, y proporcionales los lados, que los contienen, esto es BA á AC, como ED á DF. Digo, que el triángulo ABC será equiángulo al triángulo DEF, y tendrá el ángulo ABC igual al ángulo DEF, y el ACB igual al DFE.

Constrúyanse <sup>a</sup> sobre la recta DF en los puntos D, F el ángulo FDG igual á uno de los dos BAC, EDF, y el DFG igual al ACB: luego los otros ángulos B,

y G serán iguales <sup>b</sup>; luego el triángulo ABC será equiángulo al DGF, y por tanto BA <sup>c</sup> á AC, como GD á DF: pero se ha supuesto, que BA es á AC, como ED á DF: luego ED será á DF <sup>d</sup>, como GD á DF, por consiguiente ED igual á DG <sup>e</sup>: pero DF es comun: luego las dos ED, DF serán iguales á las dos GD, DF, y el ángulo EDF igual al GDF:

luego la base EF será igual <sup>f</sup> á la GF, el triángulo EDF igual al triángulo GDF, y los demás ángulos del uno iguales á los demás ángulos del otro, que están opuestos á lados iguales: luego el ángulo DFG será igual al DFE, y el ángulo G al E: es así que el ángulo DFG es igual al ACB: luego ACB será igual á DFE; pero el ángulo BAC se ha supuesto igual al EDF: luego el otro ángulo B será igual al E; y así el triángulo ABC será equiángulo al triángulo DEF. Por consiguiente si dos, &c. L. Q. D. D.



<sup>a</sup> 23. I.

<sup>b</sup> 32. I.

<sup>c</sup> 4. VI.

<sup>d</sup> 11. V.  
<sup>e</sup> 9. V.

<sup>f</sup> 4. I.

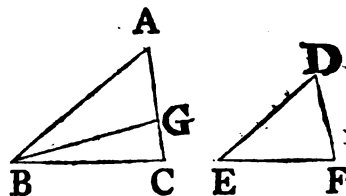
PROP.

## PROP. VII. TEOR.

**S**I dos triángulos tienen un ángulo del uno igual á un ángulo del otro , proporcionales los lados que contienen los otros dos ángulos , y cada uno de los demás ángulos menor , ó mayor que un recto, ó recto ; los triángulos serán equiángulos , y tendrán iguales los ángulos contenidos por los lados proporcionales.

Tengan los dos triángulos ABC, DEF un ángulo BAC igual á un ángulo EDF, y proporcionales los lados, que contienen los otros dos ángulos ABC, DEF, esto es AB á BC, como DE á EF; y sean primeramente los demás ángulos C, F, cada uno menor que un recto. Digo, que el triángulo ABC será equiángulo al DEF, el ángulo ABC igual al ángulo DEF, y el otro ángulo C igual al otro ángulo F.

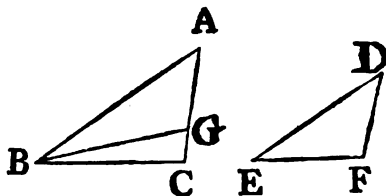
Porque si el ángulo ABC no fuese igual al DEF, uno de ellos sería mayor ; séalo ABC, y construido <sup>a</sup> sobre la recta AB en el punto B el ángulo ABG igual al DEF: y siendo el ángulo A igual al D, y el ABG al DEF, sería <sup>b</sup> el otro ángulo AGB igual al otro DFE: luego el triángulo ABG sería equiángulo al triángulo DEF, y por consiguiente AB <sup>c</sup> á BG, como DE á EF; pero se ha supuesto DE á EF, como AB á BC: luego AB sería á BC, como AB <sup>d</sup> á BG, teniendo, pues, AB la misma razón á BC, y BG, sería BC igual á BG, y por consiguiente el ángulo BGC igual al BCG <sup>e</sup>: es así que el ángulo BCG se supuso menor que un recto: luego también el BGC sería menor que un recto, y por tanto su contiguo AGB sería mayor que un recto <sup>f</sup>: por consiguiente el ángulo F, igual á AGB, sería mayor que un recto; lo que es absurdo: pues se ha supuesto menor: luego el ángulo ABC no puede ser desigual al DEF: luego le es igual: pero el ángulo A es igual



igual al ángulo D: luego tambien C será igual á F, y así el triángulo ABC será equiángulo al DEF.

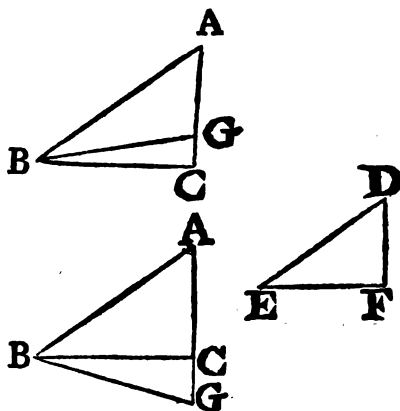
II.º Sea cada uno de los dos ángulos C, y F mayor que un recto. Digo, que el triángulo ABC será equiángulo al DEF.

Porque supuesta la misma construcción se demostrará semejantemente, que BC sería igual á BG, y el ángulo C igual al BGC: pero el ángulo C es mayor que un recto: luego el BGC sería tambien mayor que un recto: serían, pues, los dos ángulos del triángulo BGC mayores que dos rectos; lo qual es imposible g: y por tanto en este caso tambien el triángulo ABC será equiángulo al DEF, como se demostró en el antecedente.



Ultimamente sea recto uno de los ángulos C, y F, por exemplo C: tambien en este caso el triángulo ABC será equiángulo al DEF.

Porque á no ser así, construido sobre la recta AB en el punto B el ángulo ABG igual al DEF; se demostrará, como en el primer caso, la igualdad de la recta BG á la BC, y del ángulo BCG al BGC: pero BCG es recto: luego tambien BGC h sería recto; por consiguiente los dos ángulos del triángulo BGC serían mayores que dos rectos; lo qual es imposible i: y por tanto el triángulo ABC será equiángulo al DEF. Por consiguiente si dos, &c. L. Q. D. D.



PROP. VIII. TEOR.

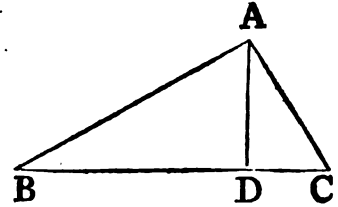
SI en un triángulo rectángulo se tira una perpendicular del ángulo recto á la base; lo dividirá en dos triángulos semejantes al total, y entre sí.

Sea BAC el ángulo recto del triángulo ABC, y del punto A á

á la línea BC tírese la perpendicular AD. Digo, que los triángulos ABD, ADC serán semejantes al total ABC, y entre sí.

Porque siendo el ángulo BAC igual al ADB, por ser ambos rectos, y el ángulo B comun á los dos triángulos ABC, ABD; el otro ángulo

- a 32. I. ACB será igual <sup>a</sup> al otro BAD: luego el triángulo ABC será equiángulo al ABD; y así los dos tendrán proporcionales <sup>b</sup> los lados, que contienen ángulos iguales, y serán por consiguiente semejantes entre sí <sup>c</sup>. Del mismo modo se demostrará la semejanza del triángulo ADC al ABC.
- b 4. VI.
- c 1. Def. VI.



Tambien los triángulos ABD, ADC serán semejantes entre sí.

Porque siendo el ángulo recto BDA igual al recto ADC, y habiéndose demostrado la igualdad del ángulo BAD al C, será el otro ángulo B igual al otro DAC: luego el triángulo ABD será equiángulo, y semejante <sup>c</sup> al ADC. Por consiguiente si en un &c. L. Q. D. D.

- COR. De aquí se infiere con evidencia, que la perpendicular tirada, en el triángulo rectángulo, del ángulo recto á la base es media proporcional entre los segmentos de la base; y ademas de esto, que cada uno de los lados es medio proporcional entre la base, y el segmento contiguo al lado: porque en los triángulos equiángulos BDA, ADC, es BD á DA, como DA á DC <sup>d</sup>; en los triángulos equiángulos ABC, DBA, es BC á BA, como BA á BD <sup>d</sup>; y en los triángulos equiángulos ABC, DAC, BC es CA, como CA á CD.
- d 4. VI.

### PROP. IX. PROBL.

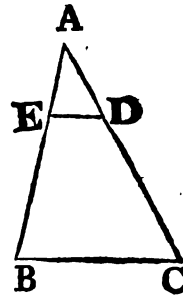
**D**E una recta dada cortar la parte que se pida.

Sea la recta dada AB, y háyase de cortar de ella una parte que se pida.

Tírese del punto A una recta AC, que con AB contenga un ángu-

gulo qualquiera ; tómese en AC cualquier punto D, y hágase AC tan múltiple de AD, quan múltiple sea AB de la parte que se ha de cortar ; tírese BC, y por el punto D, la DE paralela á BC.

Pues habiéndose tirado ED paralela al lado BC del triángulo ABC, será <sup>a</sup> CD á DA, como BE á EA, y componiendo <sup>b</sup> CA será á AD, como BA á AE : pero CA es múltiple de AD: luego BA será la misma múltiple de AE <sup>c</sup> : y así qualquiera parte que sea AD de AC, la misma será AE de AB: luego AE será la parte que se habia de cortar de la recta AB. Por consiguiente de la recta dada, &c. L. Q. D. H.



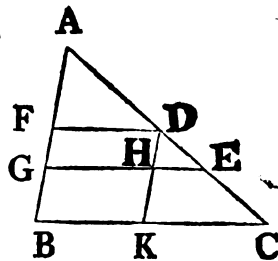
<sup>a</sup> 2. VI.  
<sup>b</sup> 18. V.  
<sup>c</sup> D. V.

PROP. X. PROBL.

**D**IVIDIR una recta dada semejantemente á otra dividida dada.

Sea la recta dada AB, AC la dividida; y háyase de dividir AB semejantemente á AC (esto es que los segmentos de AB estén en la misma razon que los de AC.)

Esté AC dividida en D, y E : colóquense las rectas AB, AC, de manera, que contengan cualquier ángulo ; tírese BC, y por D, E tírense <sup>a</sup> DF, EG paralelas á BC, como tambien por D la DHK paralela á AB: luego FH, HB serán paralelogramos; por tanto DH será igual <sup>b</sup> á FG; y <sup>b</sup> 34. I. HK á GB.



<sup>a</sup> 31. I.  
<sup>b</sup> 34. I.

Habiéndose, pues, tirado HE paralela al lado KC del triángulo DKC, será CE á ED, como KH <sup>c</sup> á HD: pero KH es igual <sup>c</sup> 2. VI. á BG, y HD á GF: luego CE será á ED, como BG á GF: ademas por haberse tirado FD paralela al lado EG del triángulo AGE, será ED á DA, como GF á FA: pero se ha visto, que CE es á ED, como BG á GF: será, pues, CE á ED, como BG á GF; y ED á DA, como GF á FA. Por consiguiente se ha dividido, &c. L. Q. D. H.

L

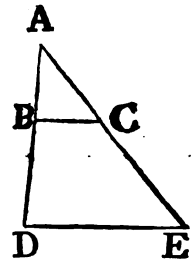
PROP.

PROP. XI. PROBL.

**H**ALLAR una tercera proporcional á dos rectas dadas.

Sean las dos rectas dadas AB, AC; y háyase de hallar una tercera proporcional á ellas.

Colóquense AB, AC formando un ángulo cualquiera; prolonguense indefinidamente, y tómese BD <sup>a</sup> 31. I. igual á AC, y tirada <sup>a</sup> BC, tírese por D la DE paralela á BC; será CE la tercera proporcional.



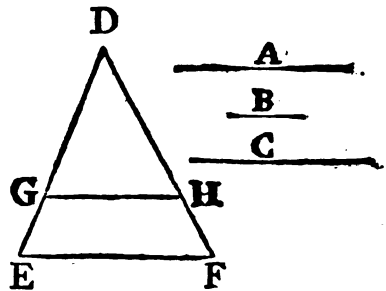
Porque habiéndose tirado BC paralela al lado DE del triángulo ADE, será <sup>b</sup> AB á BD, como AC á CE: pero BD es igual á AC: luego AB será á AC, como AC á CE. Por consiguiente se ha hallado, &c. L. Q. D. H.

PROP. XII. PROBL.

**H**ALLAR una quarta proporcional á tres rectas dadas.

Sean las tres rectas dadas A, B, C, y háyase de hallar una quarta proporcional á ellas.

Tírense dos rectas DE, DF, que formen cualquier ángulo EDF, y tómense en ellas DG igual á A, GE igual á B, y HD igual á C; tírese GH, y por E la EF <sup>a</sup> paralela á GH; será HF la quarta proporcional. <sup>a</sup> 31. I.



Porque habiéndose tirado GH paralela al lado EF del triángulo DEF, será DG á GE <sup>b</sup>, como DH á HF: pero DG es igual á A; GE á B; y DH á C: luego A será á B, como C á HF. Por consiguiente se ha hallado, &c. L. Q. D. H. <sup>b</sup> 2. VI.

PROP.

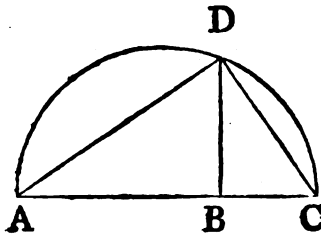
PROP. XIII. PROBL.

**H**ALLAR una media proporcional á dos rectas dadas.

Sean  $AB$ ,  $BC$  las dos rectas dadas, y háyase de hallar una media proporcional á ellas.

Colóquense directamente, y sobre  $AC$  describáse un semicírculo  $ADC$ , en el punto  $B$  elévese <sup>a</sup>  $BD$  perpendicular á  $AC$ , y tírense  $AD$ ,  $DC$ : será  $BD$  la media proporcional.

Por estar el ángulo  $ADC$  en el semicírculo, es recto <sup>b</sup>; y por haberse tirado en el triángulo rectángulo  $ADC$  del ángulo recto á la base la perpendicular  $DB$ , esta será media proporcional entre los segmentos  $AB$ ,  $BC$  <sup>c</sup> de la base. Por consiguiente se ha hallado, <sup>c</sup> Cor. 8. &c.  $L. Q. D. H.$  <sup>VI.</sup>



<sup>a</sup> 11. I.

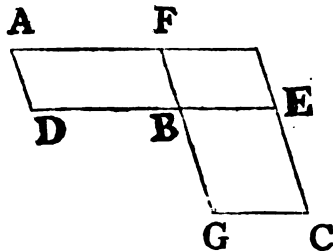
<sup>b</sup> 31. III.

<sup>c</sup> Cor. 8. VI.

PROP. XIV. TEOR.

**L**OS paralelogramos iguales, y equiángulos entre sí tienen recíprocamente proporcionales los lados, que contienen ángulos iguales: y los paralelogramos equiángulos entre sí, y que tienen recíprocamente proporcionales los lados, que contienen ángulos iguales, son iguales.

Sean iguales los paralelogramos  $AB$ ,  $BC$ , y tengan iguales los ángulos en  $B$ : colóquense directamente las líneas  $DB$ ,  $BE$ : y también estarán directamente las  $FB$ ,  $BG$  <sup>a</sup>. Digo, que los lados de dichos paralelogramos, que contienen ángulos iguales, serán recíprocamente proporcionales, esto es  $DB$  á  $BE$ , como  $GB$  á  $BF$ .



<sup>a</sup> 14. L.

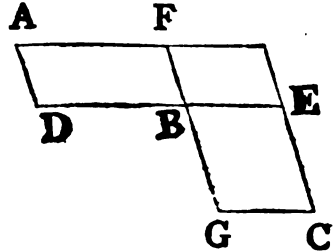
Porque completado el paralelogramo  $FE$ ; por ser el paralelogramo  $AB$  igual al  $BC$ , y  $FE$  otro para-

$L. 2$

le-

b 7. V. lelogramo, será  $AB^b$  á  $FE$ , como  $BC$  á  $FE$ : es así que  $AB^c$   
 c 1. VI. es á  $FE$ , como  $DB$  á  $BE$ ; y  $BC^c$  á  $FE$ , como  $GB$  á  $BF$ : luego  
 d 11. V.  $DB$  será á  $BE$ , como  $GB$  á  $BF^d$ : los lados, pues, de los para-  
 lelogramos  $AB$ ,  $BC$ , que contienen ángulos iguales, serán recíprocamente pro-  
 porcionales.

Mas demos, que los lados que con-  
 tienen ángulos iguales, sean recíproca-  
 mente proporcionales, esto es  $DB$  á  $BE$ ,  
 como  $GB$  á  $BF$ . Digo, que el paralelo-  
 gramo  $AB$  será igual al  $BC$ .

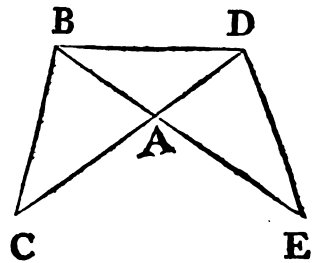


Por ser  $DB$  á  $BE$ , como  $GB$  á  $BF$ , y  $DB$  á  $BE$ , como el  
 paralelogramo  $AB$  al  $FE^c$ : y asimismo  $GB$  á  $BF$ , como el para-  
 lelogramo  $BC$  al  $FE$ , será  $AB^d$  á  $FE$ , como  $BC$  á  $FE$ : luego  
 e 9. V. el paralelogramo  $AB$  será igual  $e$  al  $BC$ . Por consiguiente los  
 paralelogramos, &c. L. Q. D. D.

PROP. XV. TEOR.

**L**OS triángulos iguales, y equiángulos entre sí tienen  
 recíprocamente proporcionales los lados, que con-  
 tienen ángulos iguales: y los triángulos equiángulos en-  
 tre sí, y que tienen recíprocamente proporcionales los  
 lados que contienen ángulos iguales, son iguales.

Sean iguales los triángulos  $ABC$ ,  $ADE$ , y tengan un ángulo  
 igual á un ángulo, es á saber  $BAC$  á  $DAE$ . Digo, que los lados de los triángulos  $BAC$ ,  
 $DAE$ , que contienen los ángulos igua-  
 les, serán recíprocamente proporcionales,  
 esto es  $CA$  á  $AD$ , como  $EA$  á  $AB$ .



Colóquense de forma, que  $CA$  esté di-  
 rectamente á  $AD$ , por consiguiente  $EA$  es-  
 tará directamente á  $AB^a$ ; y tírese  $BD$ .

Por ser el triángulo  $ABC$  igual al  $ADE$ , y  $ABD$  otro trián-  
 gulo, será el triángulo  $CAB^b$  al  $BAD$ , como el  $EAD$  al  $DAB$ :  
 es



es así que el triángulo CAB es al BAD, como CA á AD, y el triángulo EAD al mismo DAB, como EA á AB: luego CA á AD, como EA á AB: los lados, pues, de los triángulos ABC, ADE, que contienen ángulos iguales, serán recíprocamente proporcionales.

Pero supongamos, que los lados de los triángulos ABC, ADE, que contienen ángulos iguales, sean recíprocamente proporcionales, esto es CA á AD, como EA á AB. Digo, que el triángulo ABC será igual al ADE.

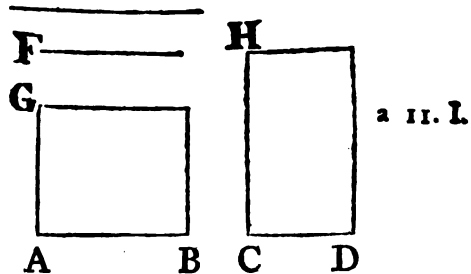
Porque tirada BD, siendo CA á AD, como EA á AB; pero CA á AD, como el triángulo BAC al triángulo BAD, y EA á AB, como el triángulo EAD al triángulo BAD, resultará el triángulo BAC al BAD, como el EAD al BAD: luego el triángulo ABC será igual al triángulo ADE. Por consiguiente los triángulos, &c. L. Q. D. D.

PROP. XVI. TEOR.

SI quatro rectas fueren proporcionales; el rectángulo contenido por las extremas será igual al rectángulo contenido por las medias: y si el rectángulo contenido por las extremas es igual al rectángulo contenido por las medias; las quatro rectas serán proporcionales.

Sean AB, CD, E, F quatro rectas proporcionales, esto es AB á CD, como E á F. Digo, que el rectángulo contenido por AB, F será igual al contenido por CD, E.

Tírense de los puntos A, C las líneas AG, CH perpendiculares á AB, CD, tómese AG igual á F, y CH igual á E, y complétense los paralelogramos BG, DH.



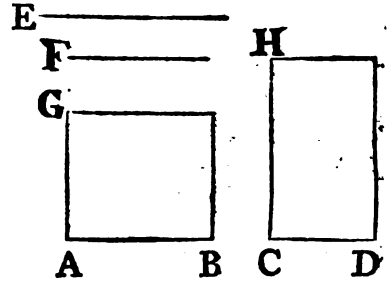
Por ser AB á CD, como E á F, E igual á CH, y F á AG, será AB á CD, como CH á AG: luego los lados de los paralelogramos BG, DH, que contienen

L 3

los

los ángulos iguales, son recíprocamente proporcionales: es así que los paralelogramos equiángulos entre sí, y que tienen recíprocamente proporcionales los lados, que contienen ángulos iguales, son iguales entre sí: luego el paralelogramo BG será igual al DH: pero el paralelogramo BG se halla contenido por las rectas AB, F; por ser AG igual á F; y el paralelogramo DH está contenido por las líneas CD, E, por ser CH igual á E: luego el rectángulo contenido por AB, F será igual al contenido por CD, E.

Pero si el rectángulo contenido por las rectas AB, F fuese igual al contenido por CD, E, las quatro rectas serán proporcionales, esto es AB á CD, como E á F.



Porque supuesta la misma construcción, siendo el rectángulo contenido por AB, F igual al contenido por CD, E, y estando el rectángulo BG contenido por AB, F; pues AG es igual á F; y el rectángulo DH contenido por CD, E, pues CH es igual á E, resulta el paralelogramo BG igual al DH: pero son equiángulos; y los paralelogramos iguales, y equiángulos entre sí tienen recíprocamente proporcionales los lados, que contienen ángulos iguales: luego AB será á CD, como CH á AG: pero CH es igual á E, y AG á F: luego AB será á CD, como E á F. Por consiguiente si quatro, &c. L. Q. D. D.

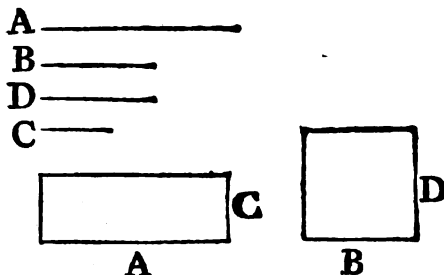
PROP. XVII. TEOR.

SI tres rectas son proporcionales; el rectángulo contenido por las extremas será igual al cuadrado de la media: y si el rectángulo contenido por las extremas es igual al cuadrado de la media; las tres rectas serán proporcionales.

Sean las tres rectas proporcionales A, B, C, es á saber, A á B, como B á C. Digo, que el rectángulo contenido por las rectas A, C será igual al cuadrado de la media B.

Por-

Porque tómesese D igual á B, y siendo A á B, como B á C, y B igual á D, será <sup>a</sup> A á B, como D á C: es así que si quatro rectas son proporcionales, el rectángulo contenido por las extremas es igual al contenido por las medias <sup>b</sup>: luego el rectángulo contenido por las rectas A, C será igual al contenido por B, D: pero el rectángulo contenido por las rectas B, D es igual al cuadrado de B, por ser B igual á D: luego el rectángulo contenido por las rectas A, C será igual al cuadrado de B.



Pero si el rectángulo contenido por las rectas A, C fuese igual al cuadrado de B, será A á B, como B á C.

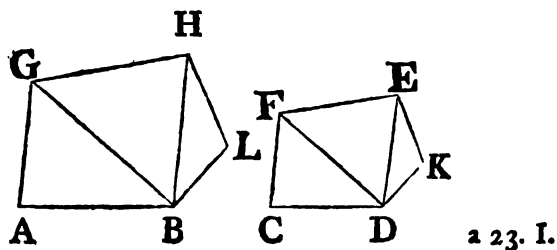
Porque supuesta la misma construccion, siendo el rectángulo contenido por A, C igual al cuadrado de B, y el cuadrado de B igual al rectángulo contenido por B, D, por ser B igual á D, será el rectángulo contenido por A, C igual al contenido por B, D: es así que si el rectángulo contenido por las extremas es igual al contenido por las medias, las quatro rectas serán proporcionales <sup>b</sup>: luego A será á B, como D á C: pero B es igual á D: luego A será á B, como B á C. Por consiguiente si tres, &c. L. Q. D. D.

PROP. XVIII. PROBL.

**S**OBRE una recta dada describir semejantemente una figura rectilínea semejante á otra figura rectilínea dada.

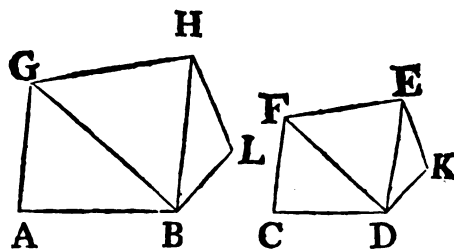
Sea la recta dada AB, y la figura rectilínea dada el cuadrilátero CDEF, y háyase de describir semejantemente sobre la recta AB una figura rectilínea semejante á la CDEF.

Tírese DF, y en los puntos A, B de la recta AB constrúyase <sup>a</sup> el ángulo BAG igual al ángulo



- ángulo C, y el ángulo ABG igual al CDF : luego el otro CFD  
 b 32. I. será igual <sup>b</sup> al otro AGB: luego el triángulo FCD será equián-  
 c 32. I. gulo al triángulo GAB. Además de esto, constrúyanse <sup>c</sup> en los  
 puntos G, B de la recta BG el ángulo BGH igual al DFE, y  
 el GBH igual al FDE.

Por ser el ángulo AGB igual al CFD, y el BGH al DFE, se-  
 rá el ángulo total AGH igual al ángulo total CFE: por la mis-  
 ma razon el ABH será igual al CDE; y á mas, el ángulo A  
 igual al C, como tambien el  
 GHB igual al FED: luego el  
 quadrilátero ABHG será equi-  
 ángulo al quadrilátero CDEF:  
 y son tambien proporcionales  
 los lados, que contienen án-  
 gulos iguales: siendo, pues,  
 equiángulos entre sí los trián-



- d 4. VI. gulos GAB, FCD, BA será á AG, como DC á CF <sup>d</sup>; y sien-  
 do AG á GB, como CF á FD; pero GB á GH, por ser equi-  
 ángulos los triángulos BGH, DFE, como FD á FE, será por  
 e 22. V. igualdad <sup>e</sup> AG á GH, como CF á FE. Semejantemente se de-  
 mostrará ser AB á BH, como CD á DE, y GH á HB, como  
 f 4. VI. FE á ED <sup>f</sup>: luego siendo equiángulos los quadriláteros ABHG,  
 CDEF, y teniendo proporcionales los lados, que contienen án-  
 gulos iguales, serán entre sí semejantes <sup>g</sup>.

g 1. Def. VI. Pero háyase de describir semejantemente sobre la recta dada  
 AB, un pentágono semejante al pentágono dado CDKEF.

Tírese DE, y sobre la recta dada AB describese semejan-  
 temente el quadrilátero ABHG semejante al CDEF, y en los pun-  
 tos B, H de la recta BH constrúyanse el ángulo HBL igual al  
 EDK, y el BHL igual al DEK: el otro ángulo K será igual  
 al otro L.

Siendo, pues, semejantes los quadriláteros ABHG, y CDEF,  
 el ángulo GHB igual al FED, y el BHL al DEK: luego  
 el total GHL será igual al total FEK: por la misma razon el  
 ABL será igual al CDK: luego serán equiángulos los pentágo-  
 nos AGHLB, CFEKD; y por ser semejantes los quadriláteros  
 AGHB, CFED, será GH á HB, como FE á ED: pero HB

es

es  $h$  á  $HL$ , como  $ED$  á  $EK$ : luego por igualdad será  $GH$  á  $h$  4. VI.  
 $HL$ , como  $FE$  á  $EK$ : por la misma razon  $AB$  es á  $BL$ , como  
 $CD$  á  $DK$ , y  $BL$  á  $LH$ , como  $DK$  á  $KE$ , por ser equiángulos  
los triángulos  $BLH$ ,  $DKE$ : luego siendo equiángulos los pen-  
tágonos  $AGHLB$ ,  $CFEKD$ , y teniendo proporcionales los lados,  
que contienen ángulos iguales, serán semejantes entre sí <sup>i</sup>. Del <sup>i</sup> 1. Def.  
mismo modo se puede describir semejantemente sobre una rec-  
ta dada una figura rectilínea semejante á un hexágono dado, ó  
á qualquier otro polígono. L. Q. D. H. <sup>VI.</sup>

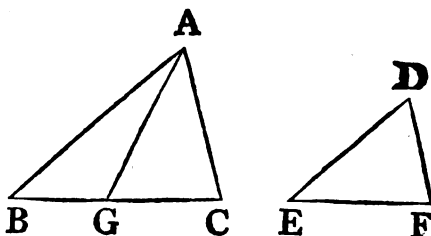
## PROP. XIX. TEOR.

**L**OS triángulos semejantes están entre sí en la razon  
duplicada de sus lados homólogos.

Sean semejantes los triángulos  $ABC$ ,  $DEF$ , teniendo el án-  
gulo  $B$  igual al  $E$ , y  $AB$  á  $BC$ , como  $DE$  á  $EF$ , de suerte que  
el lado  $BC$  sea homólogo al lado  $EF$ . Digo, que los triángulos  
 $ABC$ , y  $DEF$  estarán en la razon duplicada de  $BC$  á  $EF$ .

Tómese  $BG$  <sup>a</sup> tercera proporcional á  $BC$ ,  $EF$ , de manera que <sup>a</sup> 11. VI.  
 $BC$  sea á  $EF$ , como  $EF$  á  $BG$ , y  
tírese  $GA$ .

Siendo, pues,  $AB$  á  $BC$ , co-  
mo  $DE$  á  $EF$ , será permutando <sup>b</sup>  
 $AB$  á  $DE$ , como  $BC$  á  $EF$ : pero  
 $BC$  es á  $EF$ , como  $EF$  á  $BG$ :  
luego  $AB$  será á  $DE$ , como  $EF$   
á  $BG$  <sup>c</sup>: por consiguiente los la-  
dos de los triángulos  $ABG$ ,  $DEF$ , que contienen iguales án-  
gulos, son recíprocamente proporcionales: pero los triángulos  
equiángulos entre sí, y que tienen recíprocamente proporcio-  
nales los lados, que contienen ángulos iguales, son iguales <sup>d</sup>: <sup>d</sup> 15. VI.  
luego el triángulo  $ABG$  será igual al  $DEF$ : y siendo  $BC$  á  $EF$ ,  
como  $EF$  á  $BG$ , y quando tres rectas son proporcionales, tie-  
ne la primera á la tercera razon duplicada de la que tiene á la  
segunda <sup>e</sup>,  $BC$  tendrá á  $BG$  razon duplicada de la que tiene <sup>e</sup> 10. Def.  
 $BC$  <sup>V.</sup>



b 16. V.

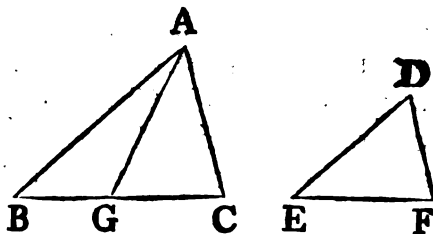
c 11. V.

d 15. VI.

e 10. Def. V.

## 170 ELEMENTOS DE EUCLIDES.

f 1. VI. BC á EF: es así que BC es f á BG, como el triángulo ABC al triángulo ABG: luego el triángulo ABC tendrá al ABG razon duplicada de la que BC tiene á EF: pero el triángulo ABG es igual al DEF: tendrá, pues, tambien el triángulo g ABC al DEF razon duplicada de la que tiene BC á EF. Por consiguiente los triángulos, &c. L. Q. D. D.



COR. De aquí se sigue manifiestamente, que si tres rectas son proporcionales, la primera será á la tercera, como el triángulo descrito sobre la primera al triángulo semejante descrito semejantemente sobre la segunda, pues ya se demostró, que CB es á BG, como el triángulo ABC al DEF.

### PROP. XX. TEOR.

**L**OS polígonos semejantes se dividen en igual número de triángulos semejantes, y homólogos á sus todos; y están entre sí en razon duplicada de sus lados homólogos.

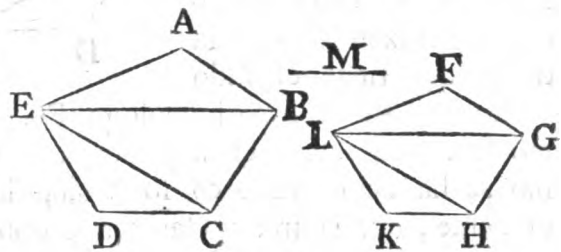
Sean los polígonos semejantes ABCDE, FGHLK, y el lado AB homólogo al FG. Digo, que los polígonos ABCDE, y FGHLK se dividirán en igual número de triángulos semejantes, y homólogos á sus todos; y estarán entre sí en razon duplicada de la de AB á FG.

Porque tiradas las líneas BE, EC, GL, LH, y siendo el polígono ABCDE semejante al FGHLK, el ángulo BAE será igual <sup>a</sup> al GFL, y GF á FL <sup>a</sup>, como BA á AE; siendo, pues, ABE, FGL dos triángulos, que tienen un ángulo igual á un ángulo, y proporcionales los lados, que contienen ángulos iguales, resultará el triángulo ABE equiángulo <sup>b</sup> al triángulo FGL: luego tambien será semejante á él <sup>c</sup>: será, pues, el ángulo ABE igual al FGL: pero el total ABC es igual al total FGH, por la semejan-

anza de los polígonos: luego el otro EBC será igual al otro LGH: y siendo por la semejanza de los triángulos ABE, FGL, EB á BA, como LG á GF, y por la semejanza de los polígonos, AB á BC, como FG á GH, será por igualdad EB á BC<sup>d</sup>, como LG á GH; esto es que los lados, que contienen los ángulos iguales EBC, LGH, serán proporcionales: luego el triángulo EBC será equiángulo al LGH: luego tambien será semejante á él<sup>e</sup>: por la misma razon el triángulo ECD será semejante al triángulo LHK: los polígonos, pues, semejantes ABCDE, FGHLK se dividirán en igual número de triángulos semejantes.

Añado, que serán homólogos á sus todos; esto es que los triángulos serán proporcionales entre sí, y á los polígonos sus todos, y que son antecedentes los ABE, EBC, ECD, y conseqüentes de estos los FGL, LGH, LHK; y que los polígonos ABCDE, y FGHLK están entre sí en razon duplicada de sus lados homólogos, esto es de AB á FG.

Porque siendo el triángulo ABE semejante al FGL, tendrá á él razon duplicada de la que BE tiene á GL<sup>f</sup>: por la misma razon el triángulo BEC



f 19. VI.

tendrá al GLH razon duplicada de la que tiene BE á GL<sup>g</sup>: luego el triángulo ABE será al FGL<sup>h</sup>, como el triángulo BEC al GLH: además de esto, siendo el triángulo EBC semejante al LGH, tendrá á él razon duplicada de la que CE tiene á HL: asimismo el triángulo ECD tendrá al triángulo LHK razon duplicada de la que CE tiene á HL: luego el triángulo EBC será al LGH, como el triángulo ECD al LHK: pero ya se demostró ser el triángulo EBC al LGH, como el triángulo ABE al FGL: luego el triángulo ABE será al FGL, como el triángulo EBC al LGH, como el triángulo ECD al LHK: es así que la suma de los antecedentes es á la suma de los conseqüentes, como qualquier antecedente á su conseqüente<sup>i</sup>: luego el polígono ABCDE será al polígono FGHLK, como el triángulo ABE al triángulo FGL: pero el triángulo ABE tiene al FGL razon duplicada

g 19. VI.  
h 11. V.

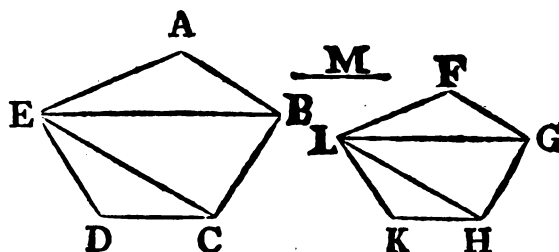
i 12. V.

PLICADA de la que el lado homólogo AB tiene al lado homólogo  
 k 19. VI. FG <sup>k</sup>: luego tambien el polígono ABCDE tendrá al FGHKL ra-  
 zon duplicada de la que el lado homólogo AB tiene al lado ho-  
 mólogo FG. Por consiguiente los polígonos, &c. L. Q. D. D.

COR. 1. De la misma manera se demostrará, que cualesquiera  
 cuadriláteros, y multiláteros semejantes están en razon duplicada  
 de los lados homólogos: es así que lo mismo queda demostra-  
 do en los triángulos: luego en general las figuras rectilíneas se-  
 mejantes están en razon duplicada de sus lados homólogos.

COR. 2. Si se toma M tercera proporcional á AB, y FG, ten-  
 drá AB á M razon du-  
 plicada de la que tiene á

l 10. Def. V. FG <sup>l</sup>: tambien el po-  
 lígono sobre AB al po-  
 lígono sobre FG, y el qua-  
 drilátero al quadrilátero  
 tendrán razon duplicada  
 de la que tiene el lado



homólogo AB al lado homólogo FG: luego AB será á M, co-  
 mo la figura sobre AB á la figura sobre FG: es así que lo mis-  
 mo se ha demostrado en los triángulos <sup>m</sup>: luego en general es  
 m Cor. 19. VI. evidente, que si tres rectas son proporcionales, la primera será  
 á la tercera, como la figura rectilínea descrita sobre la primera  
 á la figura rectilínea semejante, y semejantemente descrita so-  
 bre la segunda.

PROP. XXI. TEOR.

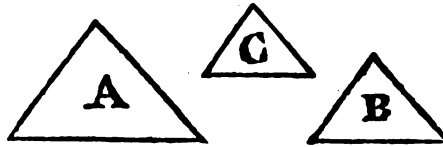
**L**AS figuras rectilíneas semejantes á una misma son  
 semejantes entre sí.

Sean ambas figuras rectilíneas A, y B semejantes á C. Digo,  
 que A será semejante á B.

Porque siendo la figura rectilínea A semejante á la C, tam-  
 bien será equiángula á ella, y tendrá proporcionales <sup>a</sup> los lados,  
 a 1. Def. VI. que contienen ángulos iguales: además, siendo semejante la fi-  
 gura rectilínea B á la C, será equiángula á ella, y tendrá pro-  
 por-



porcionales los lados, que contienen ángulos iguales: luego ambas figuras rectilíneas A, y B serán equiángulas á C, y tendrán proporcionales los lados, que contienen ángulos iguales: luego la figura rectilínea A será equiángula á la B<sup>b</sup>, y tendrá proporcionales los lados, que contienen ángulos iguales; y por tanto A será semejante á B<sup>d</sup>. L. Q. D. D.

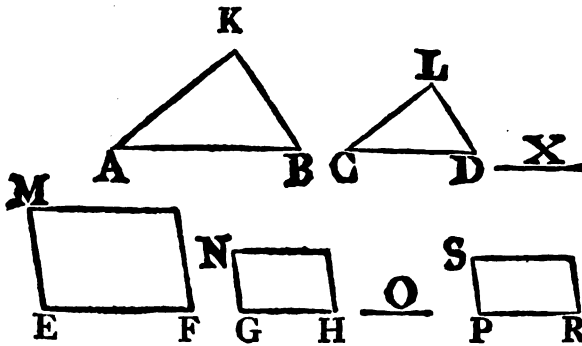


b I. Axi. I.  
c II. V.  
d I. Def. VI.

PROP. XXII. TEOR.

SI quatro rectas son proporcionales; las figuras rectilíneas semejantes, y semejantemente descritas sobre ellas serán proporcionales: y si son proporcionales quatro figuras rectilíneas semejantes, y semejantemente descritas sobre quatro rectas; estas serán tambien proporcionales.

Sean las quatro rectas proporcionales AB, CD, EF, GH; esto es que AB sea á CD, como EF á GH, y estén semejantemente descritas las figuras rectilíneas semejantes KAB, LCD sobre AB,

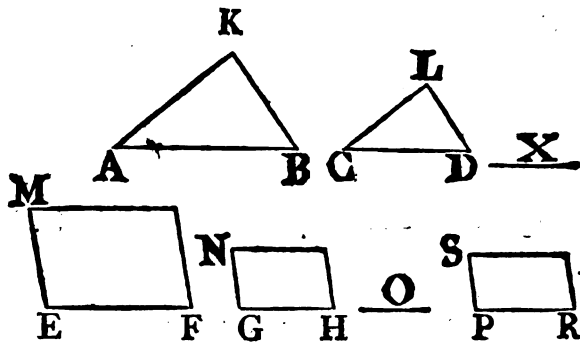


CD, y asimismo semejantemente descritas las figuras rectilíneas semejantes MF, NH sobre EF, GH. Digo, que la figura rectilínea KAB será á la LCD, como la figura rectilínea MF á la NH.

174 ELEMENTOS DE EUCLIDES.

a 11. VI. Tómese X <sup>a</sup> tercera proporcional á AB, CD; y O tercera proporcional á EF, GH. Siendo AB á CD, como EF á GH, será CD á X, como GH á O <sup>b</sup>: luego por igualdad <sup>c</sup> AB será á X, como EF á O: es así que AB es á X <sup>d</sup>, como la figura rectilínea KAB á la LCD, y EF á O <sup>d</sup>, como la figura rectilínea MF á la NH: luego la figura rectilínea KAB será á la LCD <sup>e</sup>, como la MF á la NH.

Pero sea la figura rectilínea KAB á la LCD, como la MF á la NH. Digo, que AB será á CD, como EF á GH. Hágase EF á PR <sup>f</sup>, como AB á CD, y describáse g semejantemente sobre PR la figura rectilínea SR semejante á MF, y NH.



Siendo, pues, AB á CD, como EF á PR, y habiéndose descrito semejantemente sobre AB, CD las figuras rectilíneas semejantes KAB, LCD, y descrito semejantemente sobre EF, PR las figuras rectilíneas semejantes MF, SR; resultará, según lo anteriormente demostrado, ser la figura rectilínea KAB á la LCD, como la figura rectilínea MF á la SR: pero se ha supuesto la figura rectilínea KAB á la LCD, como la MF á la NH: luego la figura rectilínea MF tendrá la misma razón á las NH, y SR: luego la figura rectilínea NH será igual á la SR <sup>h</sup>: es así que es semejante, y semejantemente descrita: luego GH será igual á PR: y siendo AB á CD, como EF á PR, y PR igual á GH, será AB á CD, como EF á GH. Por consiguiente si quatro, &c. L. Q. D. D.

PROP.

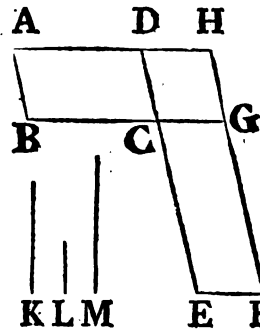
PROP. XXIII. TEOR.

**L**OS paralelogramos equiángulos están entre sí en razón compuesta de las razones de sus lados.

Sean equiángulos los paralelogramos AC, CF, teniendo el ángulo BCD igual al ECG. Digo, que el paralelogramo AC estará al CF en razón compuesta de las razones de sus lados.

Colóquense de manera que BC esté directamente á CG, por consiguiente DC estará directamente <sup>a</sup> á CE: complétese el pa- <sup>a</sup> 14. I. ralelogramo DG, tírese una recta qualquiera K, y hágase <sup>b</sup> K á <sup>b</sup> 12. VI.

L, como BC á CG, y L á M, como DC á CE: luego las razones de K á L, y de L á M serán las mismas, que las razones de los lados BC á CG, y DC á CE: es así que la razón de K á M está compuesta <sup>c</sup> de la razón de K á L, y de L á M: luego K tendrá á M razón compuesta de las razones de los lados: y siendo BC á CG, como el paralelogramo AC al CH <sup>d</sup>, y como K á L, será K á L, como <sup>e</sup> el paralelogramo AC



<sup>c</sup> A. Def. V.

<sup>d</sup> I. VI.

<sup>e</sup> II. V.

al CH. Además de esto, siendo DC á CE, como el paralelogramo CH al CF, y como L á M; será L á M, como el paralelogramo CH al CF: así habiéndose demostrado, que K es á L, como el paralelogramo AC al CH, y L á M, como el paralelogramo CH al CF, será por igualdad <sup>f</sup> K á M, como el paralelo- <sup>f</sup> 22. V. gramo AC al CF: pero K está á M en razón compuesta de las razones de los lados: luego también el paralelogramo AC estará al paralelogramo CF en razón compuesta de las razones de los lados. Por consiguiente los paralelogramos, &c. L. Q. D. D.

PROP. XXIV. TEOR.

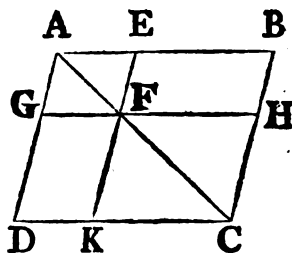
**E**N qualquier paralelogramo, los paralelogramos, que están baxo su diagonal, son semejantes al total, y entre sí.

Sea

## 176 ELEMENTOS DE EUCLIDES.

Sea el paralelogramo  $ABCD$ , y su diagonal  $AC$ , baxo la qual estén los paralelogramos  $EG$ ,  $KH$ . Digo, que  $EG$ ,  $KH$  serán semejantes al total  $ABCD$ , y entre sí.

- a 29. I. Porque siendo paralelas  $DC$ ,  $GF$ , el ángulo  $ADC$  será igual <sup>a</sup> al  $AGF$ : asimismo siendo paralelas  $BC$ ,  $EF$ , el ángulo  $ABC$  será igual al  $AEF$ : es así que ambos ángulos  $BCD$ ,  $EFG$  son
- b 34. I. iguales <sup>b</sup> al  $DAB$  opuesto: por tanto serán iguales entre sí: luego los paralelogramos  $ABCD$ ,  $AEFG$  serán equiángulos entre sí: y por ser el ángulo  $ABC$  igual al  $AEF$ , y el  $BAC$  comun, resultarán equiángulos entre sí los triángulos  $BAC$ ,  $EAF$ : luego  $AB$  será á  $BC$ , como  $AE$  á  $EF$ : y
- c 4. VI. siendo entre sí iguales <sup>c</sup> los lados opues-
- d 7. V. tos de los paralelogramos, tambien será <sup>d</sup>  $AB$  á  $AD$ , como  $AE$  á  $AG$ ;  $DC$  á  $CB$ , como  $GF$  á  $FE$ ; y  $CD$  á  $DA$ , como  $FG$  á  $GA$ : luego los lados de los paralelogramos  $ABCD$ ,  $AEFG$ , que contienen ángulos iguales, serán proporcionales; y por tanto el
- e 1. Def. VI. paralelogramo  $ABCD$  será semejante <sup>e</sup> al  $AEFG$ : por la misma razon el paralelogramo  $ABCD$  será semejante al  $FHCK$ : luego entrambos paralelogramos  $GE$ ,  $HK$  serán semejantes al  $DB$ : es así que las figuras rectilíneas semejantes á una misma son semejantes entre sí <sup>f</sup>: luego el paralelogramo  $GE$  será semejante al  $HK$ . Por consiguiente en qualquier, &c. L. Q. D. D.



### PROP. XXV. PROBL.

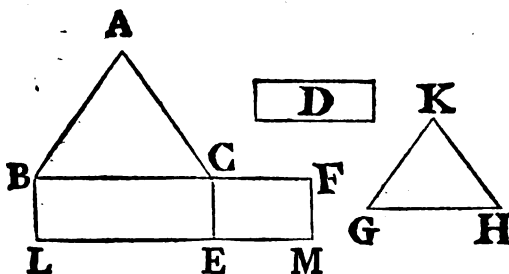
**C**ONSTRUIR una figura rectilínea semejante á una figura rectilínea dada, é igual á otra dada.

Sea  $ABC$  la figura rectilínea dada, semejante á la qual se haya de construir la que se pide, y  $D$  la figura rectilínea dada, á que ha de ser igual la que se pide.

- a Cor. 45. I. Aplíquese <sup>a</sup> sobre la recta  $BC$  el paralelogramo  $BE$  igual á la figura rectilínea  $ABC$ , y sobre la recta  $CE$  <sup>a</sup> el paralelogramo  $CM$  igual á la figura rectilínea  $D$  con el ángulo  $FCE$  igual al
- b { 29. I.  $CBL$ ; y  $BC$  estará directamente á  $CF$  <sup>b</sup>, y  $LE$  á  $EM$ : tóme-
- me-

se sobre  $GH$  <sup>c</sup> media proporcional entre  $BC$ ,  $CF$ , y sobre  $GH$  des- <sup>c</sup> 13. VI.  
 cribase <sup>d</sup> semejantemente la figura rectilínea  $KGH$  semejante á <sup>d</sup> 18. VI.  
 la  $ABC$ .

Siendo, pues,  $BC$  á  $GH$ , como  $GH$  á  $CF$ ; y quando tres rectas son  
 proporcionales, la primera á la tercera, como la figura descrita



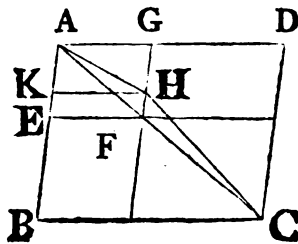
sobre la primera á la figura semejante, y semejantemente descrita  
 sobre la segunda <sup>e</sup>; será  $BC$  á  $CF$ , como la figura rectilínea  $ABC$  <sup>e</sup> 2. Cor.  
 á la  $KGH$ : pero  $BC$  es á  $CF$ , como el paralelogramo  $BE$  <sup>20. VI.</sup>  
 al  $EF$  <sup>f</sup>: luego la figura rectilínea  $ABC$  será á la  $KGH$ , como <sup>g</sup> <sup>f</sup> 1. VI.  
 el paralelogramo  $BE$  al  $EF$ : pero la figura rectilínea  $ABC$  es <sup>g</sup> <sup>11. V.</sup>  
 igual al paralelogramo  $BE$ : luego la figura rectilínea  $KGH$  será  
 igual <sup>h</sup> al paralelogramo  $EF$ : es así que el paralelogramo  $EF$  es <sup>h</sup> <sup>14. V.</sup>  
 igual á la figura rectilínea  $D$ : luego tambien la figura rectilínea  
 $KGH$  será igual á la  $D$ : pero  $KGH$  es semejante á  $ABC$ . Por  
 consiguiente se ha construido la figura  $ABC$ , &c. L. Q. D. H.

PROP. XXVI. TEOR.

**S**I de un paralelogramo se quita otro semejante á él,  
 y semejantemente colocado, teniendo un ángulo  
 comun; estará baxo la misma diagonal del total.

Quítese del paralelogramo  $ABCD$  el  
 $AEFG$  semejante, y semejantemente colo-  
 cado, teniendo el ángulo  $DAB$  comun. Di-  
 go, que el paralelogramo  $ABCD$  estará  
 baxo la misma diagonal del  $AEFG$ .

Porque á no estar, sea  $AHC$  la diagonal  
 del



del paralelogramo BD, y encuentre GF á la diagonal AHC en H: por el mismo punto tírese HK paralela á AD, ó á BC.

Estando, pues, los paralelogramos ABCD, y AKHG baxo una misma diagonal, el paralelogramo ABCD

a 24. VI. será semejante <sup>a</sup> al AKHG: luego DA se-

b 1. Def. rá á AB, como GA á AK <sup>b</sup>: es así que por

VI.

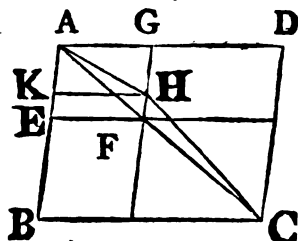
la semejanza de los paralelogramos ABCD, y AEFG, DA es AB, como GA á AE:

c 11. V. luego tambien GA será á AE, como <sup>c</sup> GA

á AK: así GA tendría la misma razon á

d 9. V. AE, y á AK: luego AE sería igual <sup>d</sup> á

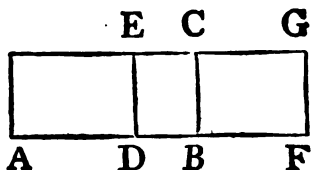
AK, la mayor á la menor; lo qual es imposible: luego el paralelogramo ABCD no estará baxo la misma diagonal con el paralelogramo AKHG: luego lo estará con el AEFG. Por consigui-  
ente si de un, &c. L. Q. D. D.



“Para mas facil inteligencia de las tres Proposiciones siguientes deben preceder algunas advertencias.”

“1.<sup>a</sup> Se dice, que un paralelogramo se aplica á una recta, quando se describe sobre ella: v. g. el paralelogramo AC se dice, que se aplica á la recta AB, quando sobre ella se describe.”

“2.<sup>a</sup> Se dice, que se aplica á la recta AB el paralelogramo AE deficiente en una figura paralelogramo, quando la base AD del paralelogramo AE es menor que la recta AB, á que ella se aplica; y por tanto el paralelogramo AE está deficiente respecto del AC descrito sobre la recta AB con el mismo ángulo, y entre las mismas paralelas, en un paralelogramo DC, el qual se llama defecto del AE.”



“3.<sup>a</sup> Ultimamente se dice, que se aplica á una recta AB el paralelogramo AG excedente en una figura paralelogramo, quando la base AF del paralelogramo AG es mayor que la recta AB, y por tanto AG excede á AC en un paralelogramo BG.”

PROP.

PROP. XXVII. TEOR.

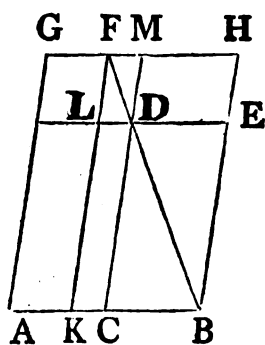
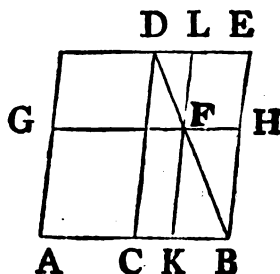
**D**E todos los paralelogramos aplicados á una misma recta , y deficientes en figuras paralelogramas semejantes , y semejantemente colocadas á la descrita sobre la mitad de la recta ; el aplicado á la mitad , siendo semejante al defecto , será el máximo.

Sea la recta AB , divídase por medio en C , y aplíquese á ella el paralelogramo AD deficiente en la figura paralelogramo CE descrita sobre CB mitad de AB , á la qual es semejante AD. Digo , que de todos los paralelogramos aplicados á la recta AB , y deficientes en figuras paralelogramas semejantes , y semejantemente colocadas á CE , será AD el máximo.

Aplíquese á la recta AB el paralelogramo AF deficiente en la figura paralelogramo KH semejante , y semejantemente colocada á CE. Digo , que el paralelogramo AD será mayor que el AF.

Sea primeramente la recta AK base de AF mayor que AC : siendo el paralelogramo CE semejante al KH , por estar baxo la misma diagonal <sup>a</sup> , tírese su diagonal DB , y describase la figura : siendo , pues , el paralelogramo CF igual al FE <sup>b</sup> , añádase KH , y se tendrá el total CH igual al total KE : es así que CH es igual á CG <sup>c</sup> , por ser la recta AC igual á CB : luego CG será igual á KE : añádase CF , y resultará el AF total igual al gnomon CHL : luego CE , esto es el paralelogramo AD , será mayor que el paralelogramo AF.

En segundo lugar sea AK base del paralelogramo AF menor que AC : supuesta la misma construccion , siendo el paralelogramo DH igual al DG <sup>d</sup> , por ser HM igual <sup>d</sup> á <sup>d</sup> 34. I.



<sup>a</sup> 26. VI.  
<sup>b</sup> 43. I.  
<sup>c</sup> 36. I.

M<sub>2</sub>

MG,

- e 43. I. MG, será DH mayor que LG: pero DH es igual á DK e: luego DK será mayor que LG: añádase AL comun, y se tendrá el total AD mayor que el total AF. Por consiguiente de todos, &c. L. Q. D. D.

## PROP. XXVIII. PROBL.

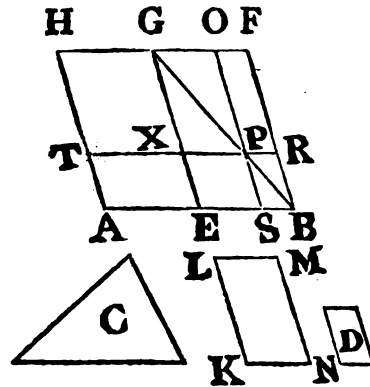
**A** UNA recta dada aplicar un paralelogramo igual á una figura rectilínea dada, y que sea deficiente en un paralelogramo semejante á otro dado; con tal que la figura rectilínea dada, á que ha de ser igual el paralelogramo, que se ha de aplicar, no sea mayor que el aplicado á la mitad de la recta; siendo semejantes los defectos, así del paralelogramo aplicado á la mitad, como del paralelogramo, á que debe ser semejante el deficiente.

Sea la recta dada AB, y C la figura rectilínea, á que debe ser igual la que se aplique sobre AB, pero no mayor que la aplicada á la mitad, siendo semejantes los defectos; y D la figura, á que debe ser semejante la deficiente: y háyase de aplicar á la recta AB un paralelogramo igual á la figura rectilínea C deficiente en un paralelogramo semejante á D.

- a 10. I. Divídase por medio AB en el punto E <sup>a</sup>, y sobre EB descríbese la figura ECFG semejante <sup>b</sup>, y semejantemente á la figura dada D, y complétese el paralelogramo AG: será, pues, AG igual, ó mayor que C, de una cantidad determinada. Si es igual, se tiene lo que se pedia; pues sobre la recta AB se habrá aplicado igual á la figura rectilínea dada C el paralelogramo AG deficiente en la figura paralelogramo EF semejante á D. Si AG no es igual á C, será mayor; pero EF es igual á AG: luego EF será mayor que C: constrúyase el paralelogramo <sup>c</sup> KLMN igual al exceso de EF á C, semejante, y semejantemente puesto á D: pero D es semejante á EF: luego KM será semejante <sup>d</sup> á EF. Sea, pues, la recta KL homóloga á la EG, y LM á GF. Sien-



Siendo EF igual á C, y KM, será EF mayor que KM: luego la recta GE será mayor que la LK, y GF mayor que LM. Tómese GX igual á LK, y GO á LM, y complétese el paralelogramo XGOP: resultará XO igual, y semejante á KM: es así que KM es semejante á EF: luego tambien XO será semejante á EF: sea su diagonal GPB, y describáse la figura. Los paralelogramos XO, EF estarán baxo esta diagonal: siendo, pues, EF igual á C, y KM juntos, de los quales XO es igual á KM, será el gnomon restante ERO igual á la figura C: y siendo OR igual á XS, añadiendo SR, resultará el OB total igual al XB total; pero XB es igual á TE, por ser el lado AE igual al EB: luego será TE igual á OB: añádase XS; y se tendrá el paralelogramo TS igual al gnomon ERO: es así que ya se demostró ser el gnomon ERO igual á la figura C: luego TS será igual á C. Por consiguiente sobre la recta dada AB se ha aplicado igual á la figura rectilínea dada C el paralelogramo TS deficiente en la figura paralelograma SR semejante á D, por ser SR semejante á EF<sup>h</sup>. L. Q. D. D.



e 26. VI.

f 43. I.

g 36. I.

h 24. VI.

PROP. XXIX. PROBL.

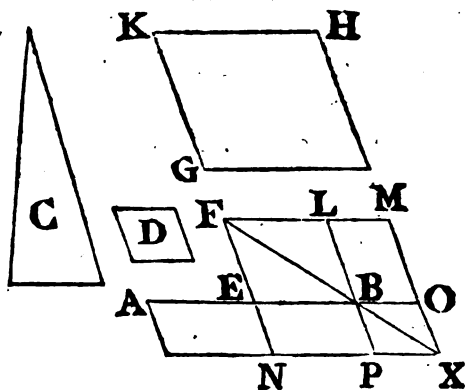
**S**OBRE una recta dada aplicar un paralelogramo igual á una figura rectilínea dada, excedente en un paralelogramo semejante á otro dado.

Sea la recta dada AB, y C la figura rectilínea dada, á que debe ser igual el paralelogramo, que se ha de aplicar sobre AB; y sea D el paralelogramo á que debe ser semejante el exceso; y háyase de aplicar sobre la recta AB un paralelogramo igual á la figura rectilínea dada C, excedente en un paralelogramo semejante á D.

M 3

Di-

- a 18. VI. Divídase por medio AB en el punto E, y descríbese <sup>a</sup> sobre EB el paralelogramo EL semejante, y semejantemente al paralelogramo D: asimismo constrúyase <sup>b</sup> GH igual á EL, C, semejante, y semejantemente al paralelogramo D: luego GH será semejante á EL <sup>c</sup>. Sea el lado HK homólogo al FL, y KG á FE: siendo el paralelogramo GH mayor que el EL, será la recta KH mayor que la FL, y KG mayor que FE: prolónguense FL, FE, y tómese FLM igual á KH, y FEN á KG; complétese el paralelogramo MN: luego MN será igual, y semejante á GH: pero GH es semejante á EL: luego MN será semejante á EL; y por tanto EL estará baxo la misma diagonal que MN <sup>d</sup>: tírese su diagonal FX, y descríbese la figura: siendo, pues, GH igual á EL, y C, pero GH igual á MN; será MN igual á L, y á C: quítese EL comun, y resultará el gnomon NOL igual á C: y por ser AE igual á EB, también el paralelogramo AN será igual al NB, esto es al BM <sup>e</sup>: añádase NO, y resultará el paralelogramo total AX igual al gnomon NOL: es así que el gnomon NOL es igual á C: luego también AX será igual á C. Por consiguiente sobre la recta dada AB se ha aplicado el paralelogramo AX igual á la figura rectilínea dada C excedente en la figura paralelograma PO semejante á D; por ser EL semejante á PO <sup>f</sup>. L. Q. D. H.



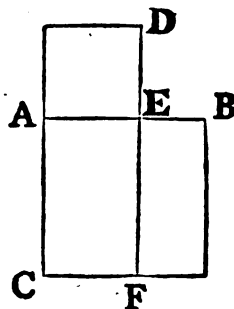
PROP. XXX. PROBL.

**D**IVIDIR en extrema, y media razon una recta dada terminada.

Sea la recta dada AB, y háyase de dividir en extrema, y media razon.

- a 46. I. Descríbase <sup>a</sup> sobre AB el quadrado BC, y sobre AC aplí- que-

quese <sup>b</sup> el paralelogramo CD igual al BC excedente en la figura <sup>b</sup> 29. VI.  
 ra AD semejante á la BC. Es BC un cuadrado: luego tambien lo será AD: y siendo BC igual á CD, quítese CE comun, y la figura restante BF será igual á la restante AD: pero tambien es equiángula á ella: luego los lados de BF, y de AD, que contienen ángulos iguales, serán recíprocamente proporcionales <sup>c</sup>: así EF será á ED, como AE á EB: pero FE es igual á AC <sup>d</sup>, esto es á AB, y ED á AE: luego BA será á AE, como AE á EB: es así que AB es mayor que AE: luego AE será mayor <sup>e</sup> que EB; queda, pues, la recta AB dividida en E <sup>f</sup> en extrema, y media razon. L. Q. D. H.



c 14. VI.

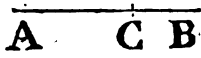
d 34. I.

e 14. V.

f 3. Def. VI.

*De otro modo.*

Dívidase AB en C, de manera que el rectángulo contenido por AB, BC sea igual al cuadrado de AC <sup>g</sup>: siendo, pues, el rectángulo de AB, BC igual al cuadrado de AC, será BA á AC, como <sup>h</sup> AC á CB: luego la recta AB se hallará dividida en C en extrema, y media razon. L. Q. D. H.



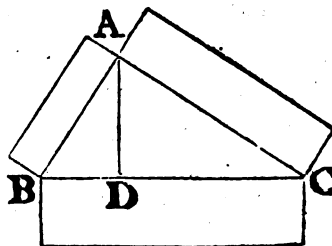
g 11. II.

h 17. VI.

PROP. XXXI. TEOR.

**E**N el triángulo rectángulo la figura rectilínea descrita sobre el lado opuesto al ángulo recto, es igual á la suma de las figuras rectilíneas semejantes, y semejantemente descritas sobre los otros lados.

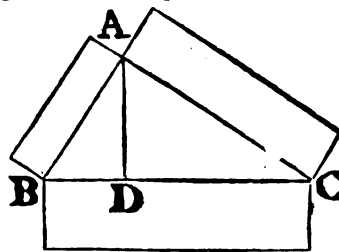
Sea el triángulo rectángulo ABC, teniendo el ángulo BAC recto. Digo, que la figura rectilínea descrita sobre BC será igual á la suma de las figuras rectilíneas semejantes, y semejantemente descritas sobre BA, y AC.



M<sub>4</sub>

Tí-

- Tírese la perpendicular  $AD$ ; y habiéndose tirado en el triángulo rectángulo  $ABC$  del ángulo recto  $A$  á la base  $BC$  la perpendicular  $AD$ , resultarán los triángulos  $ABD$ ,  $ADC$  semejantes <sup>a</sup> al  $ABC$  total, y entre sí: y siendo semejante el triángulo <sup>b</sup>  $ABC$  al  $ABD$ , será  $CB$  á  $BA$ , como  $BA$  á  $BD$ : y por ser las tres rectas proporcionales, la primera será á la tercera, como <sup>c</sup> la figura descrita sobre la primera á la figura semejante, y semejantemente descrita sobre la segunda: luego  $CB$  será á  $BD$ , como la figura descrita sobre  $CB$  á la figura semejante, y semejantemente descrita sobre  $BA$ ; é invirtiendo <sup>d</sup>  $DB$  será á  $BC$ , como la figura descrita sobre  $BA$  á la descrita sobre  $BC$ : por la misma razon  $DC$  será á  $CB$ , como la figura descrita sobre  $CA$  á la descrita sobre  $CB$ : por consiguiente la suma de  $BD$ , y  $DC$  será á  $BC$  <sup>e</sup>, como la suma de las figuras descritas sobre  $BA$ , y  $AC$  á la figura descrita sobre  $BC$ : pero la suma de  $BD$ , y  $DC$  es igual á  $BC$ : luego la figura sobre  $BC$  será igual <sup>f</sup> á la suma de las figuras semejantes, y semejantemente descritas sobre  $BA$ , y  $AC$ . Por consiguiente en los triángulos, &c.  $L. Q. D. D.$



## PROP. XXXII. TEOR.

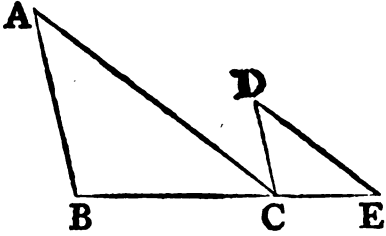
**S**I dos triángulos tienen dos lados del uno proporcionales á dos lados del otro, y se componen segun un ángulo (*esta es que dos ángulos tengan un vértice comun*), de manera que los lados homólogos sean paralelos; tendrán directamente los otros lados.

Sean los dos triángulos  $ABC$ ,  $DCE$ , teniendo los dos lados  $BA$ ,  $AC$  proporcionales á los dos  $CD$ ,  $DE$ , esto es  $BA$  á  $AC$ , como  $CD$  á  $DE$ : y sea  $AB$  paralela á  $CD$ , como asimismo  $AC$  á  $DE$ . Digo, que  $BC$  estará directamente á  $CE$  (ó que compondrá una recta con ella).

Porque siendo  $AB$  paralela á  $CD$ , y cayendo sobre ellas la recta  $AC$ , serán los ángulos alternos  $BAC$ ,  $ACD$  entre sí iguales

les <sup>a</sup>: por la misma razon el ángulo CDE será igual al ACD; <sup>a</sup> 29. I. por consiguiente el BAC igual al CDE: y siendo ABC, DCE dos triángulos, que tienen el ángulo A igual al D, y proporcionales los lados, que contienen ángulos iguales, esto es BA á AC, como CD á DE; será el triángulo ABC equiángulo <sup>b</sup> al <sup>b</sup> 6. VI.

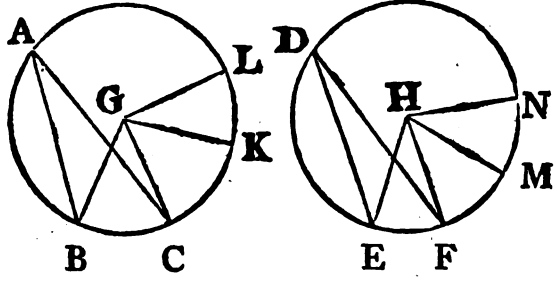
DCE; luego el ángulo ABC será igual al DCE: es así que ya se demostró la igualdad del ángulo BAC al ACD: luego el ángulo total ACE será igual á la suma de ABC, y BAC: añádase el ACB; y resultarán iguales los ángulos ACE, ACB á los ABC, BAC, ACB: es así que los ABC, BAC, ACB son iguales <sup>c</sup> á dos rectos: luego también los ángulos ACE, ACB serán iguales á dos rectos: luego las dos rectas BC, CE, que concurren en el punto C de la recta AC ácia diferentes partes, forman los ángulos contiguos ACE, ACB iguales á dos rectos: luego BC compondrá una recta <sup>d</sup> con <sup>d</sup> 14. I. CE. Por consiguiente si dos, &c. L. Q. D. D.



PROP. XXXIII. TEOR.

**E**N círculos iguales, los ángulos, en el centro, ó en la circunferencia, tienen la misma razon que los arcos, sobre que insisten: y asimismo los sectores están en la razon de sus arcos.

Sean iguales los círculos ABC, DEF, y estén en sus centros

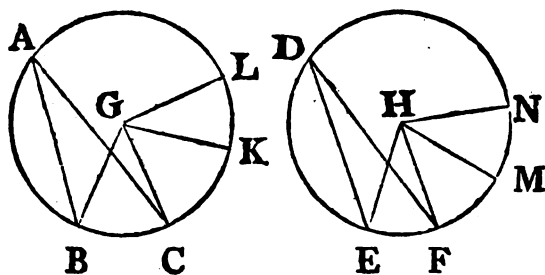


G, H los ángulos BGC, EHF; y en sus circunferencias los ángu-

gulos BAC, EDF. Digo, que el arco BC será al EF, como el ángulo BGC al EHF; y como el ángulo BAC al EDF; y tambien como el sector BGC al sector EHF.

Tómense cualesquiera arcos CK, KL iguales al BC; y FM, MN iguales al EF, y tírense GK, GL, HM, HN.

27. III. Siendo, pues, los arcos BC, CK, KL entre sí iguales, tambien lo serán entre sí los ángulos <sup>a</sup> BGC, CGK, KGL: luego quan múltiple sea el arco BL del BC, tan múltiple será el ángulo BGL del BGC: por la misma razon quan múltiple sea el arco EN del EF, tan múltiple será el ángulo EHN del EHF: y segun el arco BL sea igual, mayor, ó menor que el arco EN, será el ángulo BGL igual <sup>a</sup>, mayor, ó menor que el ángulo EHN: luego dadas quatro cantidades, es á saber los dos arcos BC, EF, y los dos ángulos BGC, EHF,



se han tomado el arco BL, y el ángulo BGL cualesquiera equimúltiples del arco BC, y del ángulo BGC; como tambien el arco EN, y el ángulo EHN otros cualesquiera equimúltiples del arco EF, y del ángulo EHF: pero se ha demostrado, que segun sea el arco BL mayor, igual, ó menor que el EN, será tambien el ángulo BGL mayor, igual, ó menor que el EHN: luego el arco BC será al EF, como <sup>b</sup> el ángulo BGC al EHF. Siendo el ángulo BGC al EHF, como <sup>c</sup> el ángulo BAC al EDF; por ser los dos primeros duplos <sup>d</sup> de los dos segundos; y el arco BC al arco EF, como el ángulo BGC al EHF; será el arco BC al EF, como el ángulo BAC al EDF. Por consiguiente en círculos iguales los ángulos, así en el centro, como en la circunferencia, tienen la misma razon de los arcos, sobre que insisten. L. Q. D. D.

Añado, que tambien el arco BC será al EF, como el sector

<sup>b</sup> 5. Def.  
<sup>c</sup> 15. V.  
<sup>d</sup> 20. III.

tór BGC al EHF. Tírense BC, CK, y tomados en los arcos BC, CK los puntos X, O tírense BX, XC, CO, OK.

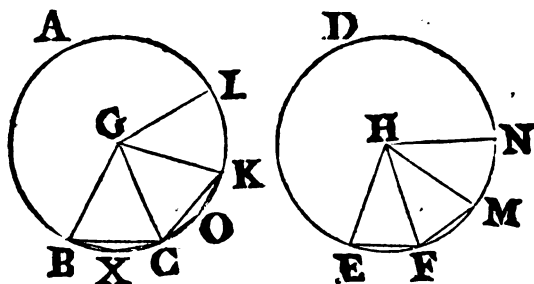
Siendo, pues, las dos BG, GC iguales á las dos CG, GK, y conteniendo ángulos iguales, la base BC será igual á la base CK, y el triángulo GBC será igual <sup>e</sup> al triángulo GCK: y siendo el arco BC igual al CK, tambien los demás arcos, que completan todo el círculo ABC, serán iguales á los demás, que completan el mismo círculo: por consiguiente el ángulo BXC será igual <sup>f</sup> al COK: luego el segmento BXC será semejante al segmento COK <sup>g</sup>; están sobre las rectas iguales BC, CK; y los segmentos semejantes de círculos, que están sobre rectas iguales, son iguales entre sí <sup>h</sup>: luego el segmento BXC será igual al segmento COK: pero el triángulo BGC es igual al CGK: luego todo el

e 4. I.

f 27. III.

g 11. Def. III.

h 24. III.



sector BGC será igual á todo el sector CGK: por la misma razon el sector KGL será igual á cada uno de los dos BGC, CGK: asimismo serán entre sí iguales los sectores EHF, FHM, MHN: luego quan múltiple sea el arco BL del BC, tan múltiple será el sector BGL del BGC: y asimismo quan múltiple sea el arco EN del EF, tan múltiple será el sector EHN del EHF; y segun sea el arco BL igual, mayor, ó menor que el EN, tambien el sector BGL será igual, mayor, ó menor que el EHN: luego dadas quatro cantidades, quales son los dos arcos BC, EF, y los dos sectores BGC, EHF, se han tomado el arco BL, y el sector BGL qualesquiera equimúltiples del arco BC, y del sector BGC, como tambien el arco EN, y el sector EHN qualesquiera equimúltiples del arco EF, y del sector EHF: pero ya se demostró, que segun sea el arco BL mayor, igual,

igual, ó menor que el EN, será el sector BGL mayor, igual, ó menor que el EHN : luego el arco BC será al EF, como el sector BGC al EHF.

PROP. B. TEOR.

**S**I una recta tirada de un ángulo á la base de un triángulo divide el ángulo en dos partes iguales; el rectángulo contenido por los dos lados será igual á la suma del rectángulo contenido por los segmentos de la base, y del cuadrado de la recta.

Sea ABC el triángulo, y divídase en dos partes iguales el ángulo BAC por la recta AD. Digo, que el rectángulo de BA, y AC será igual á la suma del rectángulo de BD, DC, y del cuadrado de AD.

<sup>a</sup> 5. IV. Circunscríbese un círculo ABC <sup>a</sup> al triángulo, y prolonguese AD hasta encontrar la circunferencia en E, y tírese EC.

Siendo, pues, el ángulo BAD igual al <sup>b</sup> 21. III. CAE, y el ABD al AEC <sup>b</sup>, por estar en un mismo segmento, resultarán equiángulos entre sí los triángulos ABD, AEC:

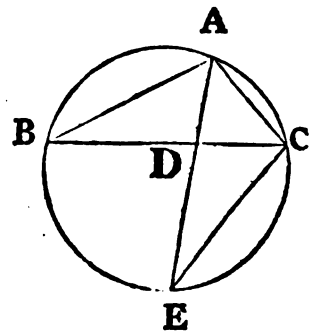
<sup>c</sup> 4. VI. luego BA será á AD, como <sup>c</sup> EA á AC,

<sup>d</sup> 16. VI. y el rectángulo de BA, y AC será igual <sup>d</sup> al rectángulo de EA,

<sup>e</sup> 3. II. y AD, esto es á la suma del rectángulo <sup>e</sup> de ED, DA, y del

<sup>f</sup> 35. III. cuadrado de AD: pero el rectángulo de ED, y DA es igual <sup>f</sup>

al rectángulo de BD, y DC: luego el rectángulo de BA, y AC será igual á la suma del rectángulo de BD, y DC, y del cuadrado de AD. Por consiguiente si una, &c. L. Q. D. D.



PROP.



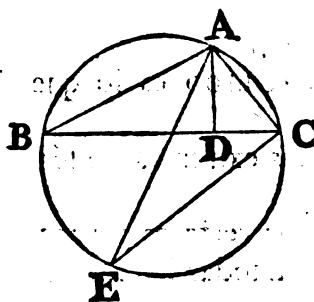
## PROP. C. TEOR.

**S**I de cualquier ángulo de un triángulo se tira una perpendicular á su base; el rectángulo contenido por los lados del triángulo será igual al contenido por la perpendicular, y por el diámetro del círculo circunscrito al triángulo.

Sea el triángulo ABC, y del ángulo A tírese la perpendicular AD á la base BC. Digo que el rectángulo de BA, y AC será igual al rectángulo contenido por AD, y por el diámetro del círculo circunscrito al triángulo.

Circunscríbese <sup>a</sup> al triángulo el círculo ACB, y tírese el diámetro AE, y la línea EC.

Siendo, pues, el ángulo recto BDA igual al ángulo ECA en el semicírculo <sup>b</sup>, y el ángulo ABD igual <sup>c</sup> al AEC en el mismo segmento, serán equiángulos los triángulos ABD, AEC: luego BA será á AD, como <sup>d</sup> EA á AC, y por tanto el rectángulo de BA, y AC será igual <sup>e</sup> al rectángulo de EA, y AD. Por consiguiente si se tira, &c. L. Q. D. D.



<sup>a</sup> 5. IV.

<sup>b</sup> 31. III.

<sup>c</sup> 21. III.

<sup>d</sup> 4. VI.

<sup>e</sup> 16. VI.

**ELE-**

# ELEMENTOS DE EUCLIDES.

---

## LIBRO UNDECIMO.

---

### DEFINICIONES.

**S**ÓLIDO es lo que tiene longitud, latitud, y grueso.

II.

Los extremos, ó términos del sólido son superficies.

III.

Una recta es perpendicular á un plano, quando es perpendicular á todas las rectas que la tocan, y están en el mismo plano.

IV.

Un plano es perpendicular á otro, quando las rectas tiradas en uno de ellos perpendiculares á la seccion común son tambien perpendiculares al otro plano.

V.

La inclinacion de una recta á un plano es el ángulo agudo contenido por ella, y otra recta tirada en el mismo plano del punto, en que lo encuentra al punto, en que la perpendicular al plano baxada del extremo superior de la misma recta encuentra al plano.

VI.

La inclinacion de un plano á otro es el ángulo agudo contenido por dos rectas tiradas, una en cada plano, perpendiculares á la seccion comun en un mismo punto.

VII.

Planos semejantemente inclinados son aquellos, cuyos ángulos de inclinacion son iguales.

Pla-

## VIII.

Planos paralelos son los que continuados nunca se encontrarán.

## IX.

Angulo sólido es el contenido por mas de dos ángulos planos, que concurren en un punto, y no están en un mismo plano.

## X.

“Se omite por las razones, que se hallarán en las Notas.”

## XI.

Figuras sólidas semejantes son las que tienen los ángulos sólidos respectivamente iguales, y están contenidas por igual número de planos semejantes.

## XII.

Pirámide es la figura sólida contenida por planos, que salen de los extremos de otro, y concurren en un punto.

## XIII.

Prisma es la figura sólida contenida por planos, en que dos opuestos son iguales, semejantes, y paralelos; y los demas paralelogramos.

## XIV.

Esfera es la figura descrita por la rotacion de un semicírculo, que gira al rededor de su diámetro inmovil, hasta volver al lugar de donde salió.

## XV.

Exe de la esfera es la recta fixa, ó inmovil, al rededor de la qual gira el semicírculo.

## XVI.

Centro de la esfera es el mismo que el del semicírculo.

## XVII.

Diámetro de la esfera es la recta tirada por su centro, y terminada por ambas partes en su superficie.

## XVIII.

Cono es la figura descrita por la rotacion de un triángulo rectángulo, que gira al rededor de un lado inmovil de los que contienen el ángulo recto, hasta volver al lugar de donde salió.

Si el lado fixo, ó inmovil fuese igual al otro lado, que con él contiene el ángulo recto, esto es al que gira; el cono será orthogonio; si fuere menor, el cono será ambignonio; y si mayor, oxignonio.

Exe

XIX.

Exe del cono es la recta fixa, al rededor de la qual gira el triángulo.

XX.

Base del cono es el círculo descrito por la recta que gira.

XXI.

Cilindro es la figura descrita por la rotacion de un paralelogramo rectángulo, que gira al rededor de uno de sus lados in-mobil, hasta volver al lugar de donde salió.

XXII.

Exe del cilindro es la recta fixa, al rededor de la qual gira el paralelogramo.

XXIII.

Bases del cilindro son los círculos descritos por los dos lados opuestos, que giran.

XXIV.

Conos, y cilindros semejantes son aquellos, cuyos exes, y diámetros de las bases son proporcionales.

XXV.

Cubo es la figura sólida contenida por seis cuadrados iguales.

XXVI.

Tetraedro es la figura sólida contenida por quatro triángulos iguales, y equiláteros.

XXVII.

Octaedro es la figura sólida contenida por ocho triángulos iguales, y equiláteros.

XXVIII.

Dodecaedro es la figura sólida contenida por doce pentágonos iguales, equiláteros, y equiángulos.

XXIX.

Icosaedro es la figura sólida contenida por veinte triángulos iguales, y equiláteros.

DEF. A.

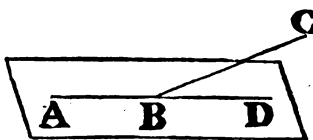
Paralelepipedo es la figura sólida contenida por seis figuras cuadriláteras, en que cada dos opuestas son paralelas.

PROP.

PROP. I. TEOR.

UNA recta no puede estar parte en un plano, y parte en otro diferente \*.

Si pudiese la parte AB de la recta ABC estar en un plano, y la parte BC en otro, resultaría, que una recta continuada en el plano de AB estaría directamente á AB. Séalo DB: luego dos rectas ABC, ABD tendrian un comun segmento AB; lo qual es imposible <sup>a</sup>. Por consiguiente si una recta, &c. L. Q. D. D.



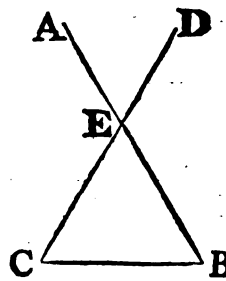
<sup>a</sup> Cor. II. I.

PROP. II. TEOR.

SI dos rectas se cortan una á otra; estarán en un plano: y tres rectas qualesquiera, que se encuentran mutuamente, están en un plano.

Córtense mutuamente en E las dos rectas AB, CD; estarán en un mismo plano; y las tres rectas EC, CB, BE, que mutuamente se encuentran, estarán tambien en un plano.

Tírese por la recta EB qualquier plano, y al rededor de EB continuada, si fuere necesario, muévase el plano hasta pasar por el punto C. Estando, pues, los puntos E, C en este plano, en el mismo estará <sup>a</sup> la recta EC: por la misma razon la recta BC estará en el mismo plano; y en el mismo está por hipótesis la recta EB:



<sup>a</sup> 7. Def. I.

luego las tres rectas EC, CB, BE estarán en un plano: es así que las rectas CD, AB están <sup>b</sup> en el mismo plano, en que se hallan EC, EB: luego las rectas AB, CD estarán en un mismo plano. Por consiguiente si dos, &c. L. Q. D. D.

<sup>b</sup> 1. XI.

N

PROP.

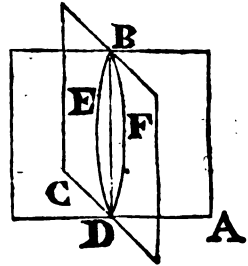
\* N. T. Omitimos decir plano inferior, y superior; entendiendo por planos diferentes los que encontrándose forman ángulo, ó no componen un mismo plano, y los que nunca se encuentran.

PROP. III. TEOR.

**S**I dos planos se cortan mutuamente; su seccion comun será una linea recta.

Córtense mutuamente los dos planos AB, BC, y sea DB su comun seccion. Digo, que la linea DB será recta.

Porque si no lo fuese, tírese del punto D al B en el plano AB la recta DEB; y en el plano EC la recta DFB: luego estas encerrarian espacio, lo qual es absurdo <sup>a</sup>: luego la comun seccion BD de los planos AB, BC no puede dexar de ser una recta: luego lo será. Por consiguiente si dos, &c. L. Q. D. D.



<sup>a</sup> 10. Axi. I.

PROP. IV. TEOR.

**S**I una recta es perpendicular, en la seccion comun, á dos rectas, que se cortan mutuamente; será tambien perpendicular al plano, que pasa por ellas.

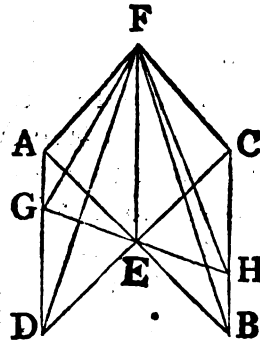
Sea la recta EF perpendicular en E á las dos rectas AB, CD, que se cortan mutuamente en el punto E. Digo, que EF será tambien perpendicular al plano, que pasa por AB, CD.

Tómense las rectas AE, EB, CE, ED iguales entre sí; y por el punto E tírese en el plano, que pasa por AB, CD, qualquiera recta GEH; júntense A, D; C, B; y de qualquier punto F de la recta EF tírense FA, FG, FD, FC, FH, FB.

Siendo, pues, iguales las dos rectas AE, ED á las dos BE, EC, y conteniendo <sup>a</sup> los ángulos iguales AED, BEC, la base <sup>b</sup> 4. I. AD será igual á la CB, y el ángulo DAE al EBC <sup>b</sup>: pero el ángulo AEG es tambien igual al BEH <sup>a</sup>: luego AGE, BHE son dos triángulos, que tienen dos ángulos del uno respectivamente iguales á dos ángulos del otro, é iguales los lados AE, EB adyacentes á ángulos iguales: consiguientemente tendrán los <sup>c</sup> 26. I. demás lados iguales <sup>c</sup> entre sí: luego GE será igual á EH, y AG á BH. Siendo AE igual á EB, y FE comun, y perpendi-

dicular á estas rectas, resultará la base AF igual <sup>d</sup> á la FB, Por <sup>d</sup> 4. I. la misma razon CF será igual á FD. A mas, siendo AD igual á BC, y AF á FB, las dos FA, AD serán respectivamente iguales á las dos FB, BC: pero ya se demostró, que la base DF es igual á la FC: luego el ángulo FAD será igual <sup>e</sup> al FBC. <sup>e</sup> 8. I.

Ademas se demostró la igualdad de AG á BH; y que AF es igual á FB: luego las dos FA, AG son iguales á las dos FB, BH: pero se ha demostrado la igualdad del ángulo FAG al FBH: luego la base FG será igual <sup>d</sup> á la FH: quedando tambien demostrada la igualdad de GE á EH, y siendo EF comun, las dos GE, EF serán iguales á las dos HE, EF: pero la base GF es igual á la FH: luego el ángulo GEF será igual <sup>e</sup> al HEF; y por tanto rectos ambos



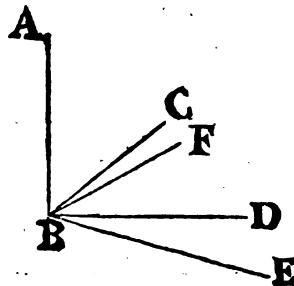
ángulos GEF, HEF <sup>f</sup>: luego la recta FE será perpendicular á <sup>f</sup> 10. Def. una recta GH tirada por un punto qualquiera E: semejantemente <sup>I.</sup> se demuestra, que FE es perpendicular á todas las rectas que la tocan, y están en un mismo plano: es así que una recta es perpendicular á un plano, quando lo es á todas las rectas que la tocan, y están en el mismo <sup>g</sup>: luego FE será perpendicular al dicho plano. Por consiguiente si una, &c. L. Q. D. D. <sup>g</sup> 3. Def. <sup>XI.</sup>

PROP. V. TEOR.

**S**I una recta es perpendicular, en la seccion comun, á tres rectas que se tocan; las tres estarán en un mismo plano.

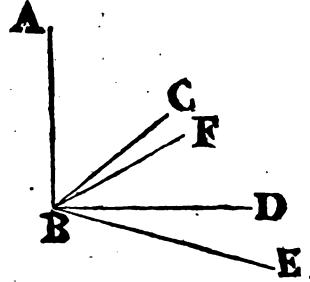
Sea una recta qualquiera AB perpendicular en el punto de concurso B á tres rectas BC, BD, BE. Digo, que BC, BD, BE estarán en un mismo plano.

Porque á no estar las tres en un mismo plano, BC se hallaria en un plano elevado sobre el de las BD, BE: continúese



N 2 el

a 3. XI. el plano, que pasa por AB, y BC, la comun seccion de este, y del plano de las BD, BC será una linea recta <sup>a</sup> BF: estarían las tres rectas AB, BC, BF en el plano, que pasa por AB, BC: y siendo AB perpendicular á BD, BE, tambien lo será al plano, que pase  
 b 4. XI. por ellas <sup>b</sup>: por consiguiente será perpendicular <sup>c</sup> á todas las rectas que la tocan, y están en el mismo plano: es así que BF se halla en el mismo plano, y la toca: luego el ángulo ABF será recto: pero se ha supuesto recto el ángulo ABC: luego el ángulo ABF sería igual al ABC: pero esto es imposible; por hallarse los dos en un mismo plano: luego la recta BC no estará en diferente plano: luego las tres rectas BC, BD, BE estarán en un plano. Por consiguiente si una, &c. L. Q. D. D.

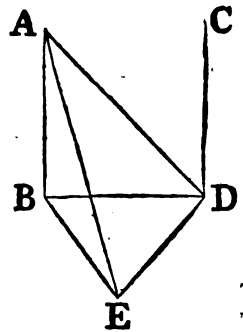


PROP. VI. TEOR.

SI dos rectas son perpendiculares á un mismo plano; serán paralelas entre sí.

Sean las dos rectas AB, CD perpendiculares á un mismo plano. Digo, que AB será paralela á CD.

Encuentren al plano en los puntos B, D, tírese la recta BD; y DE perpendicular á esta en el mismo plano, tómese DE igual á AB, y tírense BE, AE, AD: siendo, pues, AB perpendicular al plano, lo será <sup>a</sup> tambien á todas las rectas que la tocan, y están en el mismo: es así que AB encuentra á las dos BD, BE, que están en el plano: luego ambos ángulos ABD, ABE serán rectos: por la misma razon serán rectos los dos ángulos CDB, CDE: y siendo AB igual á DE, y BD comun, resultarán las dos AB, BD iguales á las dos ED, DB: pero contienen ángulos  
 a 3. Def. XI. rectos: luego la base AD será igual <sup>b</sup> á la BE. A mas, siendo  
 b 4. I. AB





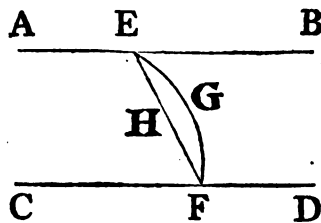
AB igual á DE, y BE á AD, las dos AB, BE serán iguales á las dos ED, DA, y la base AE comun: luego el ángulo ABE será igual <sup>c</sup> al EDA: es así que ABE es recto: luego tambien EDA <sup>e</sup> 8. I. será recto; y por tanto ED perpendicular á DA: pero tambien lo es á las dos BD, DC: por consiguiente ED será perpendicular en el punto de concurso á las tres rectas BD, DA, DC: luego BD, DA, DC estarán en un plano <sup>d</sup>: pero AB está en el mismo <sup>d</sup> 5. XI. plano de BD, DA; y tres rectas qualesquiera, que mutuamente se encuentran, están en un plano <sup>e</sup>: luego AB, BD, DC <sup>e</sup> 2. II. estarán en un plano, y serán rectos ambos ángulos ABD, BDC: luego AB será paralela á CD <sup>f</sup>. Por consiguiente si dos, &c. <sup>f</sup> 28. I. L. Q. D. D.

## PROP. VII. TEOR.

**S**I dos rectas son paralelas; la recta, que junta dos puntos qualesquiera de ellas, estará en el mismo plano, en que se hallan las paralelas.

Sean dos rectas paralelas AB, CD, y tórnense dos puntos qualesquiera E, F. Digo, que la recta EF, que los junta, estará en el mismo plano, en que se hallan las paralelas AB, CD.

Porque á no ser así, esté la linea EGF, que los junta, en un plano elevado sobre el de las paralelas, y en el plano ABCD, en que están las paralelas, tírese del punto E al F la recta EHF: pero se supone ser una recta la linea EFG: luego las dos rectas EHF, EGF contendrían espacio, lo qual es imposible <sup>a</sup>: luego la recta tirada de E á F no estará en un plano elevado: estará, pues, en el plano, que pasa por las paralelas AB, CD. Por consiguiente si dos, &c. L. Q. D. D.

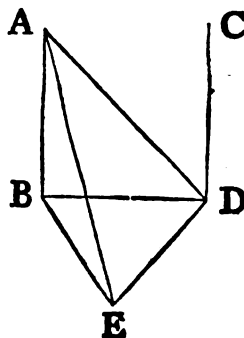


## PROP. VIII. TEOR.

**S**I de dos rectas paralelas la una es perpendicular á un plano; tambien lo será la otra.

Sean dos rectas paralelas  $AB, CD$ , y la  $AB$  perpendicular á un plano. Digo, que  $CD$  será perpendicular al mismo plano.

Encuentren  $AB, CD$  al plano en los puntos  $B, D$ : tírese  $BD$ : tírese tambien  $DE$  perpendicular á  $BD$  en el mismo plano: tómese  $DE$  igual á  $AB$ , y tírense  $BE, AE, ED$ : luego  $AB, CD, BD$  estarán en un mismo plano: y por ser  $AB$  perpendicular á un plano, tambien lo será <sup>a</sup> á todas las rectas, que la tocan, y están en el mismo: por consiguiente los dos ángulos  $ABD, ABE$  serán rectos: y cayendo la recta  $BD$  sobre las rectas paralelas  $AB, CD$ , resultarán los ángulos  $ABD, CDB$  iguales á dos rectos <sup>b</sup>: es así que  $ABD$  es recto: luego tambien lo será  $CDB$ , y por tanto  $CD$  será perpendicular á  $BD$ . Siendo  $AB$  igual á  $DE$ , y  $BD$  comun, las dos  $AB, BD$  serán iguales á las dos  $ED, DB$ , y el ángulo  $ABD$  igual al  $EDB$ , por ser ambos rectos: luego la base  $AD$  será igual <sup>c</sup> á la  $BE$ : á mas, siendo  $AB$  igual á  $DE$ , y  $BE$  á  $AD$ , serán las dos  $AB, BE$  iguales á las dos  $ED, DA$ , y la base  $AE$  comun: por consiguiente el ángulo  $ABE$  será igual al  $EDA$  <sup>d</sup>: pero  $ABE$  es recto: luego tambien lo será  $EDA$ : y por tanto  $ED$  será perpendicular á  $DA$ : es así que tambien lo es  $BD$ : luego  $ED$  será perpendicular <sup>e</sup> al plano, que pasa por  $BD, DA$ , y á todas las rectas <sup>f</sup>, que la encuentran en el mismo plano: pero  $DC$  está en el plano, que pasa por  $BD, DA$ , por hallarse todas tres en el plano, en que están las rectas paralelas  $AB, CD$ : por consiguiente  $ED$  será perpendicular á  $CD$ ; y por tanto  $CD$  perpendicular á  $DE$ : pero tambien lo es á  $DB$ : luego  $CD$  será perpendicular en la comun seccion  $D$  á las dos rectas  $DE, DB$ , que mutuamente se cortan; y por tanto al plano, que pasa por  $DE, DB$ ; pero este es el plano, á que es perpendicular  $AB$ : luego  $CD$  será perpendicular al mismo plano. L. Q. D. D.



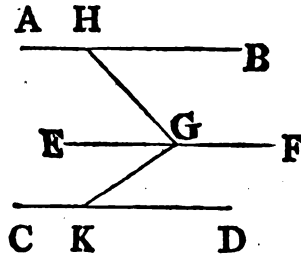
PROP.

PROP. IX. TEOR.

**L**AS rectas paralelas á otra, aun no estando todas en un mismo plano, son entre sí paralelas.

Sean las dos AB, CD paralelas á EF, y no se hallen las tres en un mismo plano. Digo, que AB será paralela á CD.

Tómese en EF qualquier punto G, del qual tírese GH perpendicular á EF en el plano, que pasa por EF, AB; y en el que pasa por EF, CD tírese GK perpendicular á EF: siendo, pues, EF perpendicular á las dos GH, GK, tambien lo será al plano, que pasa <sup>a</sup> por ellas: pero EF es paralela á AB: luego AB será perpendicular <sup>b</sup> al plano, que pasa por HGK: por la misma razon CD será perpendicular al plano, que pasa por HGK: luego las dos AB, CD serán perpendiculares al mismo plano: pero si dos rectas son perpendiculares á un plano, son entre sí paralelas <sup>c</sup>: e 6. XI. luego AB será paralela á CD. Por consiguiente las rectas, &c. L. Q. D. D.



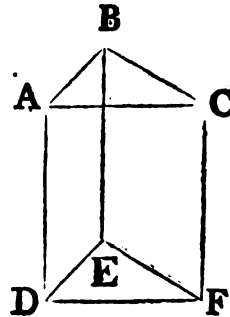
<sup>a</sup> 4. XI.  
<sup>b</sup> 8. XI.

PROP. X. TEOR.

**S**I dos rectas, que se tocan, son paralelas á otras dos, que se tocan no estando en el mismo plano; contendrán ángulos iguales.

Sean las dos rectas, que se tocan AB, BC paralelas á las dos rectas, que se tocan DE, EF, no estando en un mismo plano. Digo, que el ángulo ABC será igual al DEF.

Tómense BA, BC, ED, EF iguales entre sí, y tírense AD, CF, BE, AC, DF: siendo, pues, BA igual, y paralela á ED, tambien AD será igual, y paralela á BE <sup>a</sup>: por la misma razon CF será igual, y paralela á BE: luego las dos AD, CF serán iguales, y paralelas á BE:

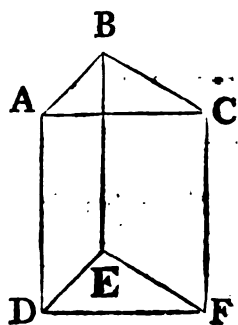


<sup>a</sup> 33. I.

N 4

es

es así que las rectas paralelas á otra, aun no estando todas en un mismo plano, son paralelas <sup>b</sup> entre sí: luego AD será paralela á CF: pero es igual <sup>c</sup> á ella; y AC, DF las juntan: luego AC será igual, y paralela <sup>d</sup> á DF. Siendo, pues, las dos rectas AB, BC iguales á las dos DE, EF, y la base AC á la DF, será el ángulo ABC igual <sup>e</sup> al DEF. Por consiguiente si dos, &c. L. Q. D. D.

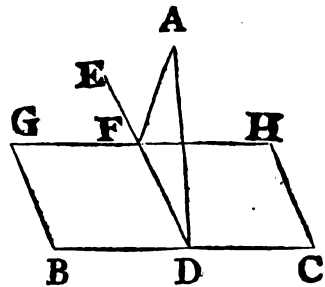


PROP. XI. PROBL.

**D**E un punto dado elevado baxar una recta perpendicular al plano.

Sea A el punto dado elevado, y BH el plano, y háyase de baxar de A á BH una recta perpendicular.

Tírese en el plano qualquiera recta BC, y del punto A á la línea BC bájese la perpendicular AD <sup>a</sup>. Si esta es perpendicular al plano, se tendrá lo que se pedia; pero si no lo fuese, tírese del punto D, la DE <sup>b</sup> perpendicular á BC, y del punto A bájese AF perpendicular á DE, y lo será al plano. Por F tírese GH <sup>c</sup> paralela á BC <sup>c</sup>: siendo BC perpendicular á las dos ED, DA, lo será <sup>d</sup> también al plano que pasa por ellas: es así que GH es paralela á BC; y si de dos rectas paralelas la una es perpendicular á un plano, también lo es la otra <sup>e</sup>: luego GH será perpendicular al plano, que pasa por ED, DA; y consiguientemente á todas las rectas, que la tocan, y están en el mismo <sup>f</sup>: pero la toca la recta AF, que está en el mismo plano, que pasa por ED, DA: luego GH será perpendicular á AF, y por tanto AF perpendicular á GH: pero AF es perpendicular á DE: luego AF será perpendicular á las dos GH, DE: es así que si una recta es perpendicular en la seccion comun á otras dos, que se dividen mutuamente, lo es también al plano tirado por ellas <sup>g</sup>: lue-



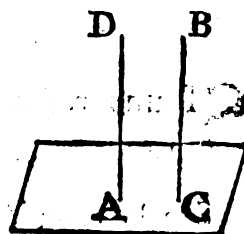
luego AF será perpendicular al plano tirado por ED, GH: es así que este es el plano dado: luego AF será perpendicular al plano dado. Por consiguiente de un punto, &c. L. Q. D. H.

PROP. XII. PROBL.

**E**N un punto dado de un plano dado, elevar una perpendicular al plano.

Sea A el punto dado en el plano dado, y háyase de elevar en él una perpendicular al plano.

Supóngase algún punto elevado B, del qual al plano inferior bájese la perpendicular BC<sup>a</sup>, y por A tírese AD paralela<sup>b</sup> á BC. Siendo, pues, AD, CB dos rectas paralelas, y una de ellas BC perpendicular al plano, tambien lo será<sup>c</sup> al mismo la otra AD. Por consiguiente se ha elevado, &c. L. Q. D. H.



a 11. XI.

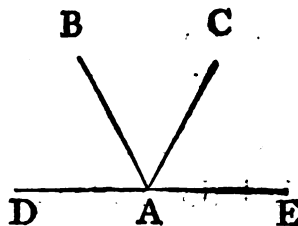
b 31. I.

c 8. XI.

PROP. XIII. TEOR.

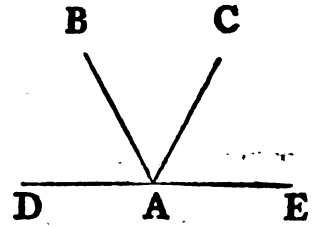
**E**N un punto dado de un plano no se pueden elevar dos perpendiculares al plano: y de un punto elevado sobre un plano únicamente se puede baxar una perpendicular al plano.

Si en un punto dado A de un plano se pudiesen elevar dos rectas perpendiculares al plano, serían AB, AC. Sea la recta DE la seccion<sup>a</sup> del plano, que pasa por AB, AC, y del plano dado: luego las rectas AB, AC, DAE estarán en un mismo plano: y siendo CA perpendicular al plano, tambien lo será á todas las rectas, que la tocan, y están en el mismo: es así que la toca la DAE, que está en el mismo plano: luego el ángulo CAE será recto: por la



a 3. XI.

la misma razon lo sería el BAE: luego CAE sería igual á BAE; pero esto es imposible, pues están en un mismo plano: por consiguiente en un punto dado de un plano no se pueden elevar dos perpendiculares al plano. De un punto elevado sobre un plano solo se puede baxar una perpendicular al plano; porque si se pudiesen baxar dos del mismo punto, serían entre sí paralelas; lo qual es absurdo. Por consiguiente de un punto, &c. L. Q. D. D.

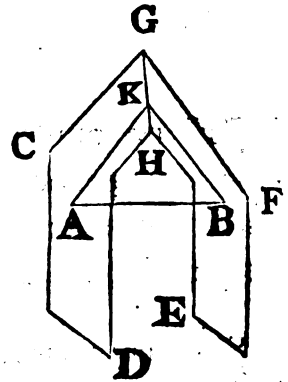


PROP. XIV. TEOR.

**S**I una recta es perpendicular á dos planos; estos serán paralelos.

Sea la recta AB perpendicular á los dos planos CD, EF. Digo, que estos serán paralelos.

Porque á no ser así, continuados se encontrarían: encuéntrense; la comun seccion será una recta: sea, pues, esta GH, y tómese en ella qualquier punto K, tírense AK, BK. Siendo, pues, AB perpendicular al plano EF, lo será tambien á la recta BK, que está <sup>a</sup> en el plano EF continuado: luego el ángulo ABK será recto: asimismo será recto el BAK: luego los dos ángulos ABK, BAK del triángulo ABK serían iguales á dos rec-



<sup>a</sup> 3. Def. XI.

<sup>b</sup> 17. I.

<sup>c</sup> 8. Def. XI.

tos, lo qual es imposible <sup>b</sup>: luego los planos CD, EF continuados no se encontrarán: serán, pues, paralelos <sup>c</sup>. Por consiguiente si un, &c. L. Q. D. D.

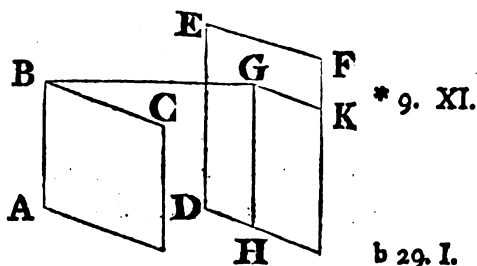
PROP. XV. TEOR.

**S**I dos rectas, que se tocan en un plano, son paralelas á otras dos que se tocan en otro; tambien serán paralelos los planos, que pasan por ellas.

Sean

Sean las dos rectas  $AB, BC$ , que se tocan en un plano, paralelas á las  $DE, EF$ , que se tocan en otro. Digo, que continuados los planos, que pasan por  $ABC, DEF$ , nunca se encontrarán.

Tírese \* del punto  $B$  al plano, que pasa por  $DEF$ , la perpendicular  $BG$ , que encuentra al plano en  $G$ , y por este punto tírese \*  $GH$  paralela á  $ED$ , y asimismo  $GK$  paralela á  $EF$ : \* 31. I. siendo, pues,  $BG$  perpendicular al plano, que pasa por  $DE, EF$ , tambien lo será <sup>a</sup> á todas las rectas, que la tocan, y están en el mismo: pero la tocan las dos  $GH, GK$ , que están en el mismo plano: luego los dos ángulos  $BGH, BGK$  serán rectos: y siendo  $BA$  paralela á  $GH$  \*, (por ser las dos paralelas á  $DE$ , y no estar en el mismo plano que ella) resultarán los dos ángulos  $GBA, BGH$  iguales <sup>b</sup> á dos rectos: pero  $BGH$  es recto: luego tambien lo será  $GBA$ ; y por tanto  $GB$  será perpendicular á  $BA$ : por la misma razon será  $GB$  perpendicular á  $BC$ : siendo, pues, la recta  $GB$  perpendicular á las dos rectas  $BA, BC$ , que mutuamente se dividen, lo será <sup>c</sup> tambien al plano, que pasa por ellas: pero lo es <sup>c</sup> 4. XI. asimismo al plano, que pasa por  $DE, EF$ : luego  $BG$  será perpendicular á los dos planos, que pasan por  $ABC, DEF$ : es así que si una recta es perpendicular á dos planos, estos son paralelos <sup>d</sup>: luego el plano, que pasa por  $AB, BC$ , será paralelo <sup>d</sup> 14. XI. al que pasa por  $DE, EF$ . Por consiguiente si dos, &c. L. Q. D. D.



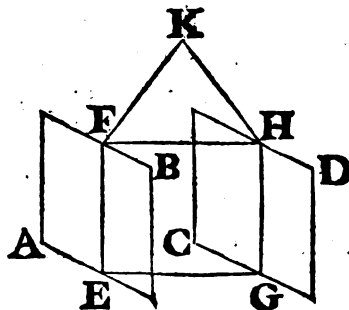
<sup>a</sup> 3. Def. XI.  
<sup>b</sup> 29. I.  
<sup>c</sup> 4. XI.  
<sup>d</sup> 14. XI.

PROP. XVI. TEOR.

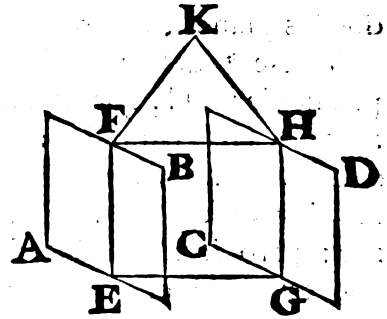
SI dos planos paralelos se cortan por otro; las comunes secciones serán paralelas.

Córtense los dos planos paralelos  $AB, CD$  por el plano  $EFHG$ , y sean las comunes secciones  $EF, GH$ . Digo, que  $EF$  será paralela á  $GH$ .

Porque á no serlo, continuadas se encontrarían, ó ácia la parte  $FH$ , ó ácia



ácia la EG : continúense ácia FH, y encuéntrense en K. Estando, pues, la EFK en el plano AB, en el mismo estarán todos sus puntos: pero K es uno de los puntos de EFK: luego K estará en el plano AB: por la misma razon K estará en el plano CD: luego los planos AB, CD continuados se encontrarían, lo que no puede ser, por suponerse paralelos: luego las rectas EF, GH continuadas no se encontrarán ácia FH: semejantemente se demuestra, que continuadas tampoco se encontrarán ácia EG: es así que las líneas, que estando en un mismo plano continuadas nunca se encuentran, son paralelas: luego EF será paralela á GH. Por consiguiente si dos planos, &c. L. Q. D. D.

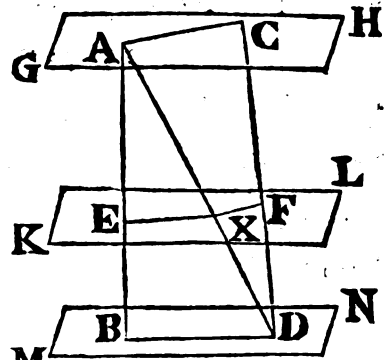


PROP. XVII. TEOR.

**S**I dos rectas se cortan por planos paralelos; quedarán divididas en una misma razon.

Divídanse las dos rectas AB, CD por los planos paralelos GH, KL, MN en los puntos A, E, B; C, F, D. Digo, que la recta AE será á la EB, como CF á FD.

Tírense AC, BD, AD, y encuentre AD al plano KL en el punto X, y tírense EX, XF. Dividiendo, pues, el plano EBDX á los dos planos paralelos KL, MN, sus comunes secciones EX, BD serán paralelas <sup>a</sup>: por la misma razon dividiendo el plano AXFC á los dos planos paralelos GH, KL, sus comunes secciones AC, XF serán paralelas: y por ser EX paralela al lado BD del triángulo ABD, será AE á EB, como <sup>b</sup> AX á XD: además de esto por ser XF paralela <sup>M</sup> al lado AC del triángulo ADC, será AX á XD, como CF á FD: es





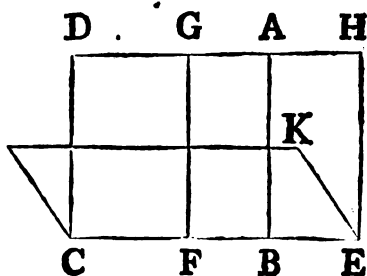
es así que ya se demostró ser  $AX$  á  $XD$ , como  $AE$  á  $EB$ : luego  $AE$  será á  $EB$ , como  $CF$  á  $FD$ . Por consiguiente si dos rectas, &c. L. Q. D. D.

## PROP. XVIII. TEOR.

**S**I una recta es perpendicular á un plano; todos los planos, que pasen por ella, serán perpendiculares al mismo plano.

Sea la recta  $AB$  perpendicular al plano  $CK$ . Digo, que serán tambien perpendiculares al mismo plano todos los planos, que pasen por  $AB$ .

Pase por  $AB$  el plano  $DE$ , y sea  $CE$  la comun seccion de dichos planos, y tómese en  $CE$  qualquier punto  $F$ , en el qual tírese en el plano  $DE$  la  $FG$  perpendicular á  $CE$ : siendo, pues,  $AB$  perpendicular al plano  $CK$ , lo será <sup>a</sup> tambien á todas las rectas, que la tocan, y están en el mismo plano, por consiguiente á  $CE$ : luego el ángulo  $ABF$  será recto: pero tambien lo es  $GFB$ : luego  $AB$  será paralela á  $FG$  <sup>b</sup>: pero  $AB$  es perpendicular al plano  $CK$ : luego  $FG$  será perpendicular <sup>c</sup> al mismo: es así que un plano es perpendicular á otro, quando las rectas tiradas en uno de ellos perpendiculares á la seccion comun son perpendiculares al otro plano <sup>d</sup>: y ya se demostró, que  $FG$  tirada en el plano  $DE$  perpendicular á la seccion comun  $CE$  es perpendicular al plano  $CK$ : luego al mismo será perpendicular el plano  $DE$ : del mismo modo se puede demostrar, que todos los planos que pasan por  $AB$ , son perpendiculares al plano  $CK$ . Por consiguiente si una, &c. L. Q. D. D.



<sup>a</sup> 3. Def. XI.

<sup>b</sup> 28. I.

<sup>c</sup> 8. XI.

<sup>d</sup> 4. Def. XI.

PROP.

## PROP. XIX. TEOR.

**S**I dos planos, que mutuamente se cortan, son perpendiculares á otro; será tambien perpendicular al mismo plano la comun seccion de entrambos.

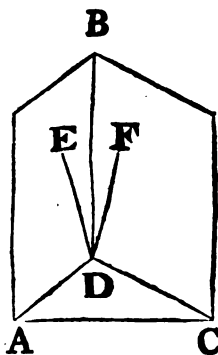
Sean los dos planos  $AB, BC$ , que mutuamente se cortan perpendiculares al plano  $ADC$ ; y  $BD$  su comun seccion. Digo, que  $BD$  será perpendicular al plano  $ADC$ .

Porque si no lo fuese; en el punto  $D$  tírese en el plano  $AB$  la  $DE$  perpendicular á la recta  $AD$ , y en el plano  $BC$  la  $DF$  perpendicular á  $CD$ ; y siendo el plano  $AB$  perpendicular al  $ADC$ , y habiéndose tirado en el plano  $AB$  la  $DE$  perpendicular á la comun seccion  $AD$ , será  $DE$

a 4. Def. XI.

perpendicular <sup>a</sup> al plano  $ADC$ : semejantemente se demuestra ser  $DF$  perpendicular al plano  $ADC$ : consiguientemente en el mismo punto  $D$  se habrian tirado ácia la misma parte dos rectas

b 13. XI. perpendiculares al plano  $ADC$ ; lo qual es imposible <sup>b</sup>: luego no se tirará en el punto  $D$  otra recta perpendicular al plano  $ADC$ , fuera de la  $DB$  comun seccion de los planos  $AB, BC$ : luego  $DB$  será perpendicular al plano  $ADC$ . Por consiguiente si dos, &c. L. Q. D. D.



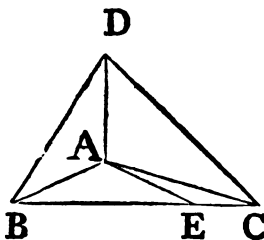
## PROP. XX. TEOR.

**S**I un ángulo sólido está contenido por tres ángulos planos; la suma de dos cualesquiera será mayor que el otro.

Esté el ángulo sólido  $A$  contenido por los tres ángulos planos  $BAC, CAD, DAB$ . Digo, que la suma de dos cualesquiera de ellos será mayor que el otro.

Porque si fuesen entre sí iguales los ángulos  $BAC, CAD, DAB$ , es evidente, que la suma de dos cualesquiera sería mayor que

que el otro: pero si no fuesen iguales, sea BAC no menor que uno, y otro, y mayor que el DAB; y sobre la recta AB en el punto A constrúyase el ángulo BAE igual <sup>a</sup> al DAB en el plano, que pasa por BA, AC: tómese AE igual á AD, y BEC tirada por E divida las rectas AB, AC en los puntos B, C, y tírense BD, DC: siendo, pues, DA igual á AE, y AB comun, las dos DA, AB serán iguales á las dos EA, AB, y el ángulo DAB igual al BAE: luego la base DB será igual <sup>b</sup> á la BE; y siendo BD, DC mayores <sup>c</sup> que CB, de las cuales DB se ha demostrado ser igual á BE, la otra BC será mayor que la otra EC, y por ser DA igual á AE, AC comun, y la base DC mayor que la EC, será el ángulo DAC mayor <sup>d</sup> que el EAC: es así que el ángulo DAB es por construcción igual al BAE: luego los ángulos DAB, DAC serán mayores que el BAC: pero BAC no es menor que uno, y otro de los DAB, DAC: luego la suma del BAC, y de uno de ellos será mayor que el otro. Por consiguiente si un, &c. L. Q. D. D.



b 4. I.  
c 20. I.

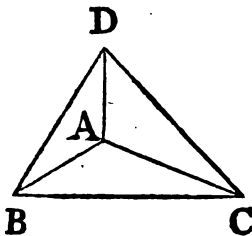
d 25. I.

## PROP. XXI. TEOR.

**L**A suma de todos los ángulos planos, que contienen un ángulo sólido, es menor que quatro rectos.

1.º Esté contenido el ángulo sólido A por tres ángulos planos BAC, CAD, DAB. Digo, que la suma de estos ángulos será menor que quatro rectos.

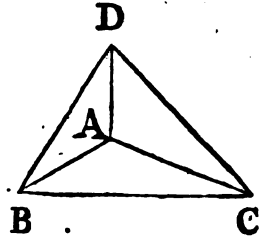
Tómense en cada una de las líneas AB, AC, AD cualesquiera puntos B, C, D; y tírense BC, CD, DB: hallándose, pues, el ángulo sólido B contenido por tres ángulos planos CBA, ABD, DBC, la suma de dos cualesquiera será mayor <sup>a</sup> que el otro: luego la suma de los ángulos CBA, ABD será mayor que el ángulo DBC: por la misma razon la suma de los ángulos BCA, ACD será mayor que el ángulo DCB, y la de los CDA, ADB mayor



a 20. XI.

por que el BDC : luego la suma de los seis ángulos CBA , ABD , BCA , ACD , CDA , ADB será mayor que la suma de los tres ángulos DBC , BCD , CDB : es así que la suma de los tres DBC ,

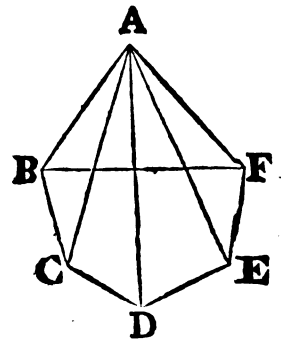
b 32. I. BCD , CDB es igual <sup>b</sup> á dos rectos : luego la suma de los seis ángulos CBA , ABD , BCA , ACD , CDA , ADB será mayor que dos rectos : y siendo la suma de los tres ángulos de cada uno de los triángulos ABC , ACD , ADB igual á dos rectos , será la suma de los nueve ángulos CBA , BAC , ACB , ACD , CDA , DAC , ADB , DBA , BAD de los triángulos igual á seis rectos ; de los cuales la suma de los seis ángulos CBA , ACB , ACD , CDA , ADB , DBA es mayor que dos rectos : luego la suma de los otros tres ángulos BAC , CAD , DAB , que contienen el ángulo sólido , será menor que quatro rectos.



2.º Esté el ángulo sólido A contenido por qualquier número de ángulos planos BAC , CAD , DAE , EAF , FAB : la suma de todos ellos será menor que quatro rectos.

Encuentre algun plano á los planos , en que están los ángulos , y sean sus secciones comunes con estos planos las rectas BC , CD , DE , EF , FB : estando , pues , el ángulo sólido B contenido por los tres ángulos planos CBA , ABF , FBC , la suma de dos cuales-

c 20. XI. quiera será mayor <sup>c</sup> que el otro : luego la suma de los ángulos CBA , ABF será mayor que el ángulo FBC : por la misma razon la suma de los dos ángulos planos terminados en qualquiera de los puntos C , D , E , F , los cuales están en las bases de los triángulos , cuyo vértice comun es A , será mayor que



el otro ángulo en el mismo punto , el qual es el ángulo del polígono BCDEF : luego la suma de todos los ángulos , que están en las bases de los triángulos , será mayor que todos los ángulos del polígono : siendo , pues , la suma de todos los ángulos de los triángulos igual al duplo de tantos rectos , quantos son los trián-

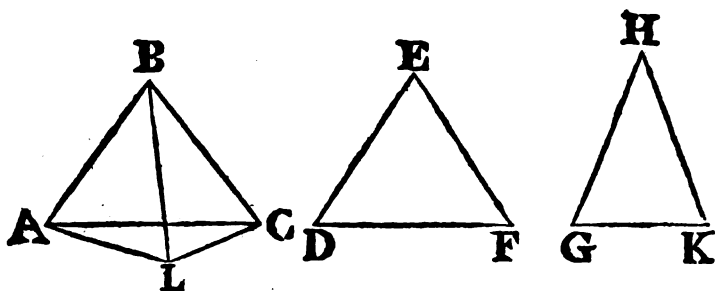
d 32. I. gulos <sup>d</sup> ; esto es quantos son los lados del polígono BCDEF , y la

la suma de todos los ángulos del polígono juntos con quatro rectos tambien igual al duplo de tantos rectos, quantos son los lados del polígono <sup>e</sup>, será la suma de todos los ángulos de los triángulos igual á la de todos los ángulos del polígono juntos con quatro rectos: pero ya se demostró, que la suma de todos los ángulos, que están en las bases de los triángulos, es mayor que la de todos los ángulos del polígono: luego la suma de los otros ángulos de los triángulos, es á saber de los que contienen el ángulo sólido A, será menor que quatro rectos. Por consiguiente la suma, &c. L. Q. D. D. e 1. Cor.  
32. I.

## PROP. XXII. TEOR.

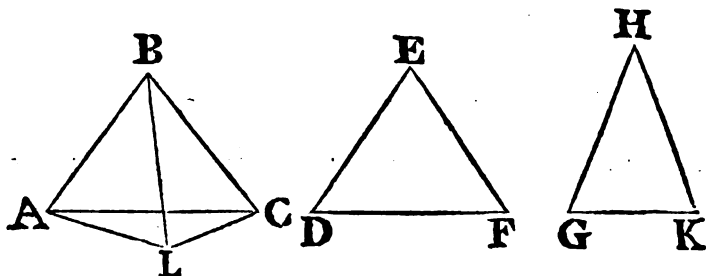
**S**I tres ángulos planos, siendo la suma de dos cualesquiera mayor que el otro, se hallan contenidos por rectas iguales; se podrá construir un triángulo de las líneas, que juntan dichas rectas.

Sean tres ángulos planos ABC, DEF, GHK contenidos por las rectas iguales AB, BC, DE, EF, GH, HK, siendo la suma de dos cualesquiera de ellos mayor que el otro; y tírense las líneas AC, DF, GK. Digo, que se podrá construir un triángulo de rectas iguales á AC, DF, GK; esto es que la suma de dos cualesquiera será mayor que la otra.



Porque si los ángulos B, E, H son iguales, tambien lo serán <sup>a</sup> a 4. I. las líneas AC, DF, GK, y la suma de las dos mayor que la otra; y si no, sean desiguales los ángulos, que concurren en dichos pun-  
o

puntos, y no sea el ángulo B menor que uno, y otro de los E, y H: luego la recta AC no será menor que una, y otra de las DF, GK<sup>b</sup>: y es evidente, que la suma de AC, y de una de las DF, GK es mayor que la otra. Digo, que tambien la suma de DF, GK será mayor que AC. Constrúyase<sup>c</sup> sobre el punto B la recta AB en el ángulo ABL igual al GHK, y tómesese BL igual á una de las AB, BC, DE, EF, GH, HK, y tírense AL,



LC. Siendo, pues, las dos AB, BL respectivamente iguales á las dos GH, HK, y conteniendo ángulos iguales, la base AL será igual<sup>d</sup> á la base GK: y por ser los ángulos E, H mayores que el ABC, de los cuales el GHK es igual al ABL, será el ángulo E, mayor que el ángulo LBC; y siendo las dos LB, BC respectivamente iguales á las dos DE, EF, y el ángulo DEF mayor que el LBC, será la base DF mayor<sup>e</sup> que la LC: es así que ya se demostró la igualdad de GK á AL: luego DF, GK serán mayores que AL, LC: pero AL, LC son mayores que AC<sup>f</sup>: luego la suma de dos cualesquiera de las rectas AC, DF, GK será mayor que la otra: y por consiguiente se podrá construir un triángulo de rectas iguales<sup>g</sup> á AC, DF, GK. L. Q. D. D.

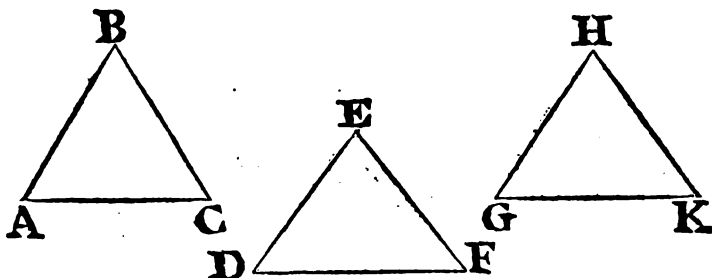
PROP. XXIII. PROBL.

**C**ONSTRUIR un ángulo sólido de tres ángulos planos dados, de los cuales la suma de dos cualesquiera sea mayor que el otro, y la suma de todos menor que quatro rectos.

Sean

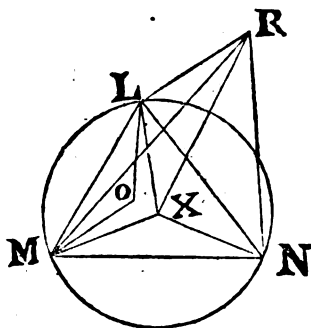
Sean tres ángulos planos dados ABC, DEF, GHK, de los cuales la suma de dos cualesquiera sea mayor que el otro, y la suma de los tres menor que quatro rectos, y háyase de construir un ángulo sólido de tres ángulos iguales á los ABC, DEF, GHK.

Córtense iguales las líneas AB, BC, DE, EF, GH, HK, y tírense AC, DF, GK: luego se podrá construir <sup>a</sup> un triángulo <sup>a</sup> 22. XI.



de rectas iguales á AC, DF, GK: constrúyase <sup>b</sup>, pues, el <sup>b</sup> 22. I. LMN, de manera que AC sea igual á LM, DF á MN, y GK á NL; y circunscríbese <sup>c</sup> al triángulo LMN un círculo LMN, <sup>c</sup> 5. IV. y sea su centro X, el qual estará dentro del triángulo LMN, ó en uno de sus lados, ó fuera.

I.º Supóngase dentro, y tírense LX, MX, NX. Digo, que AB será mayor que LX; porque á no ser así, AB sería igual á LX, ó menor que ella. Sea primeramente igual: siendo, pues, AB igual á LX, AB á DC, y LX á XM, las dos AB, BC serán respectivamente iguales á las dos LX, XM: pero la base AC se supone igual á la LM: luego el ángulo ABC será igual <sup>d</sup> al LXM: por la misma razon el ángulo DEF será igual al MXN, y el GHK al NXL: luego la suma de los tres ángulos ABC, DEF, GHK será igual á la de los tres LXM, MXN, NXL: es así que la suma de LXM, MXN, NXL es igual <sup>e</sup> á quatro rectos: luego <sup>e</sup> 2. Cor. tambien la suma de los tres ABC, DEF, GHK sería igual á <sup>f</sup> 15. I.

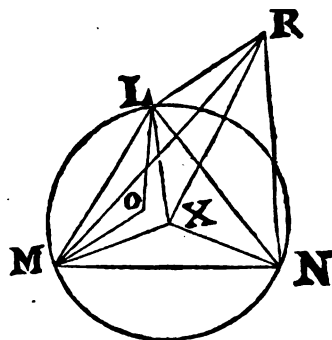


d 8. I.

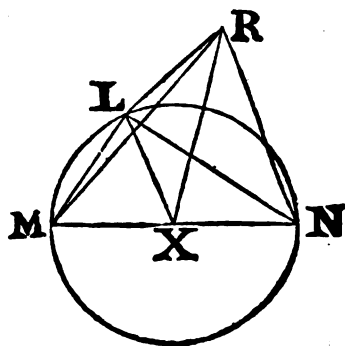
quatro rectos; lo qual es absurdo, por haberse supuesto menor que quatro rectos: luego AB no será igual á LX; ni tampoco menor; pues si lo fuese, sobre la recta LM ácia la parte, en que está el centro X, constrúyase el triángulo LOM, cuyos la-

f 22. I. dos-LO, OM sean iguales á los AB, BC <sup>f</sup>; y siendo la base LM g 8. I. igual á la AC, será el ángulo LOM igual al ABC <sup>g</sup>: pero se ha supuesto la recta AB, esto es LO menor que LX: luego LO, MO caerán dentro del triángulo LXM, porque si ajustáran á los LX, XM, ó cayesen fuera, serían

h 21. I. iguales, ó mayores que LX, XM <sup>h</sup>: luego el ángulo LOM, esto es ABC, será mayor que el LXM <sup>h</sup>: de la misma manera se demostrará ser el ángulo DEF mayor que el MXN, y el GHK mayor que el NXL: luego la suma de los tres ángulos ABC, DEF, GHK sería mayor que la de los tres LXM, MXN, NXL, esto es que quatro rectos, lo qual es absurdo; pues se supone la suma de los ángulos ABC, DEF, GHK menor que quatro rectos: luego AB no será menor que LX; y yá se demostró, que tampoco es igual: luego AB será mayor que LX.



II.º Pero supóngase el centro del círculo en uno de los lados del triángulo, es á saber en MN, sea X, y tírese XL. Digo, que AB será mayor que LX; pues á no ser así, sería igual, ó menor: sea primeramente igual: luego la suma de las dos AB, BC, esto es DE, EF, será igual á las dos MX, XL, esto es á MN; pero MN se supone igual á DF: luego la suma de DE, EF será igual á DF, lo que

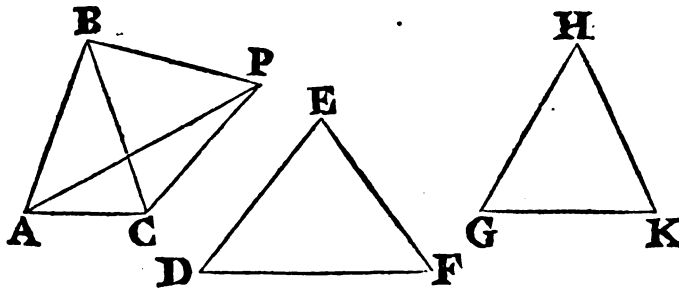


\* 20. I. es imposible \*: luego AB no será igual á LX: ni tampoco menor, pues se seguiría mucho mayor absurdo: luego será mayor AB que LX.

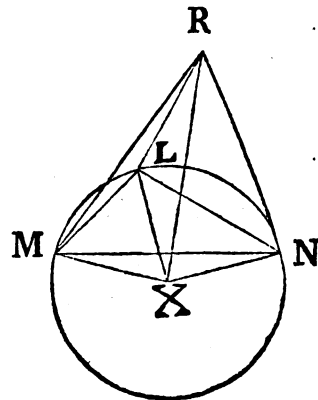
III.º Si el centro X del círculo cae fuera del triángulo LMN, y se tiran LX, MX, NX, tambien AB será mayor que LX; pues



pues á no serlo, sería igual, ó menor. Sea primeramente igual; y se demostrará, como en el primer caso, la igualdad del ángulo ABC al MXL, y del GHK al LXN: luego MXN total será igual á la suma de los dos ABC, GHK: es así que la suma de ABC, GHK es mayor que DEF: luego tambien MXN será mayor que DEF: siendo, pues, la suma de las dos DE, EF igual á la de las dos MX, XN, y la base DF igual á la

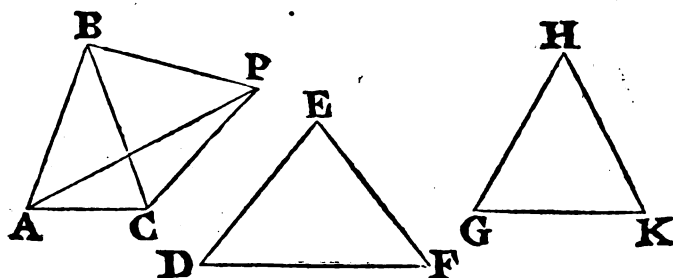


MN, resultará el ángulo MXN igual i al DEF; lo qual es absurdo, pues se demostró mayor: luego AB no será igual á LX: tampoco es menor, porque si lo fuese, resultaría, como se demostró en el primer caso, el ángulo ABC mayor que el MXL, y el GHK mayor que el LXN: constrúyase sobre la recta BC en el punto B el ángulo CBP igual al GHK, tómesse BP igual á HK, y tírense CP, AP; y siendo CB igual á GH, las dos CB, BP serán iguales á las dos GH, HK, y contendrán ángulos iguales; consiguientemente la base CP será igual á la GK, ó á la LN: y siendo en los triángulos isósceles ABC, MXL el ángulo ABC mayor que el MXL, será el ángulo MLX en la base mayor que el ángulo ACB k en la base: por la misma razon, siendo el ángulo GHK, esto es el CBP mayor que el LXN, tambien XLN será mayor que BCP: luego el total MLN será mayor que el total ACP: y por ser las dos ML, LN iguales á las dos AC, CP, y el ángulo MLN mayor que



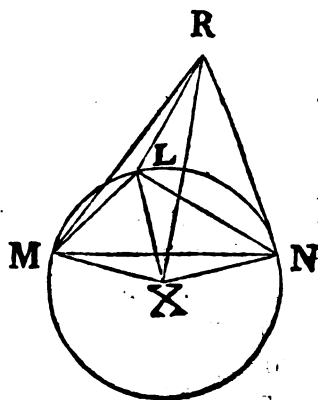
k 32. I.

124. I. que el ACP, será tambien la base MN mayor <sup>l</sup> que la AP: es así que MN es igual á DF: luego DF será tambien mayor que AP: siendo, pues, las dos DE, EF respectivamente iguales á las dos AB, BP, y la base DF mayor que la AP, será el ángulo DEF mayor <sup>m</sup> que el ABP: pero el ABP es igual á los ABC, CBP, esto es á los ABC, GHK: luego DEF será mayor que ABC, GHK; lo qual es imposible, por ser menor:



no será, pues, AB menor que LX; y antes se demostró no ser igual: luego AB será mayor que LX.

12. XI. Tírese del punto X la XR perpendicular <sup>n</sup> al plano del círculo LMN; y habiéndose demostrado en todos casos ser AB mayor que LX, tómese RX tal, que su quadrado sea igual al exceso del quadrado de AB sobre el de LX, y tírense las líneas RL, RM, RN: siendo, pues, RX perpendicular al plano LMN del círculo, tambien lo será <sup>o</sup> á qualquiera de las LX, MX, NX: y por ser LX igual á XM, y XR comun, y perpendicular, será la base RL igual á la RM: por la misma razon RN será igual á las dos RL, RM: luego las tres RL, RM, RN serán iguales entre sí: y porque se ha supuesto el quadrado de XR igual al exceso del quadrado de AB sobre el de LX, resultará el quadrado de AB igual á los de LX, XR: pero el quadrado de RL es igual <sup>p</sup> á los de LX, XR, por ser recto el ángulo LXR: luego el quadrado de AB será igual al de RL, y



y por tanto  $AB$  igual á  $RL$ : pero cada una de las  $BC$ ,  $DE$ ,  $EF$ ,  $GH$ ,  $HK$  es igual á  $AB$ ; y las dos  $RM$ ,  $RN$  son iguales á  $RL$ : luego qualquiera de las  $AB$ ,  $BC$ ,  $DE$ ,  $EF$ ,  $GH$ ,  $HK$  será igual á qualquiera de las  $RL$ ,  $RM$ ,  $RN$ : y siendo las dos  $RL$ ,  $RM$  iguales á las dos  $AB$ ,  $BC$ , y la base  $LM$  igual á la  $AC$ , será el ángulo  $LRM$  igual al  $ABC$ : por la misma razon el ángulo  $MRN$  será igual al  $DEF$ , y el  $NRL$  al  $GHK$ . Por consiguiente se ha construido el ángulo sólido  $R$ , de los ángulos planos  $LRM$ ,  $MRN$ ,  $NRL$  iguales á los tres ángulos dados  $ABC$ ,  $DEF$ ,  $GHK$ . L. Q. D. H.

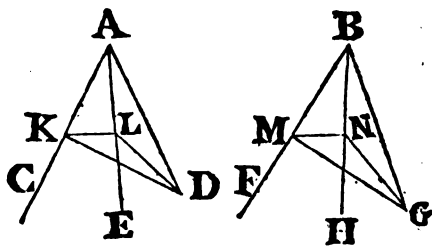
## PROP. A. TEOR.

**S**I dos ángulos sólidos se hallan ambos contenidos por tres ángulos planos respectivamente iguales entre sí; los planos, en que se hallan los ángulos iguales, estarán semejantemente inclinados uno á otro.

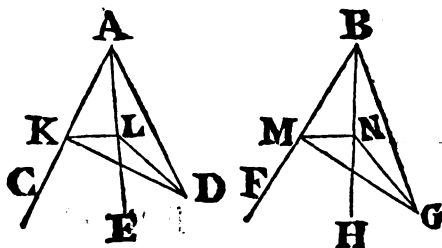
Sean los dos ángulos sólidos  $A$ ,  $B$ , y esté contenido el ángulo  $A$  por los tres ángulos planos  $CAD$ ,  $CAE$ ,  $EAD$ ; y el ángulo  $B$  por los tres ángulos planos  $FBG$ ,  $FBH$ ,  $HBG$ , de los cuales el ángulo  $CAD$  es igual al  $FBG$ , el  $CAE$  al  $FBH$ , y el  $EAD$  al  $HBG$ . Digo, que los planos, en que se hallan los ángulos iguales, estarán semejantemente inclinados uno á otro.

Tómese en la recta  $AC$  cualquier punto  $K$ , de donde tírense en el plano  $CAD$  la recta  $KD$ , y en el plano  $CAE$  la recta  $KL$  perpendiculares á  $AC$ : luego el ángulo  $DKL$  será la inclinacion del plano  $CAD$  al  $CAE$  <sup>a</sup>. En la recta  $BF$  tómese  $BM$  <sup>a</sup> 6. Def. <sup>XI</sup>.

igual á  $AK$ ; y del punto  $M$  tírense en los planos  $FBG$ ,  $FBH$  las rectas  $MG$ ,  $MN$  perpendiculares á  $BF$ : luego el ángulo  $GMN$  será la inclinacion del plano  $FBH$  al  $FBG$  <sup>a</sup>; tírense  $LD$ ,  $NG$ . Siendo en los triángulos  $KAD$ ,  $MBG$  iguales los ángulos  $KAD$ ,



b 26. I. MBG, como asimismo los AKD, BMG, por ser ambos rectos; y siendo los lados AK, BM, adyacentes á ángulos iguales, iguales entre sí, será KD igual á MG, y AD á BG<sup>b</sup>: por la misma razon en los triángulos KAL, MBN será KL igual á MN, y AL á BN: pero queda demostrado, que en los triángulos LAD, NBG las dos LA, AD son respectivamente iguales á las dos NB, BG, y contienen ángulos iguales: luego la base LD será igual<sup>c</sup> á la NG: últimamente en los triángulos KLD, MNG las dos DK, KL son iguales á los dos GM, MN, y la base LD



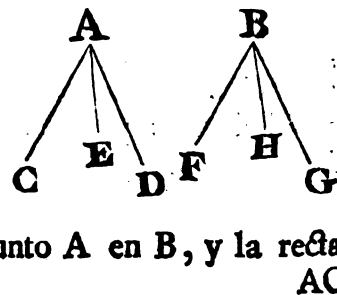
c 4. I. á la NG: luego el ángulo DKL será igual<sup>d</sup> al GMN; pero el ángulo DKL es la inclinacion del plano CAD al plano CAE, y el ángulo GMN la inclinacion del plano FBG al plano FBH: luego los planos de los ángulos iguales CAD, FBG están semejantemente inclinados á los de los ángulos iguales CAE, FBH respectivamente<sup>e</sup>. Del mismo modo se demuestra, que los demás planos, en que se hallan ángulos iguales, están semejantemente inclinados uno á otro. Por consiguiente si dos, &c. L. Q. D. D.

e 7. Def. XI.

PROP. B. TEOR.

SI dos ángulos sólidos se hallan ambos contenidos por tres ángulos planos respectivamente iguales entre sí, y semejantemente colocados; serán entre sí iguales.

Sean los ángulos sólidos A, B; y esté contenido el ángulo A por los tres ángulos planos CAD, CAE, EAD; y el ángulo B por los tres FBG, FBH, HBG, de los cuales CAD es igual á FBG, CAE á FBH, y EAD á HBG. Digo, que el ángulo sólido A será igual al ángulo sólido B.



Porque aplicado el ángulo sólido A al B, y primeramente aplicado el ángulo plano CAD al FBG, colocado el punto A en B, y la recta AC

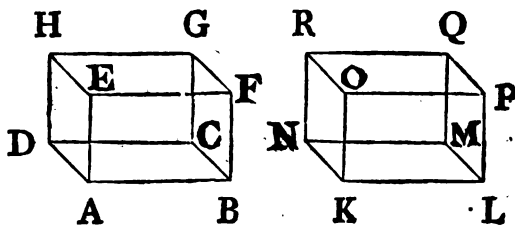
AC sobre BF ; la recta AD se ajustará á la recta BG, por ser el ángulo CAD igual al FBG : siendo, pues, la inclinacion del plano CAE al CAD igual á la inclinacion del plano FBH al FBG <sup>a</sup>, y ajustando el plano CAD al FBG, tambien ajustará <sup>a</sup> Ax. II. el plano CAE al FBH, y por tanto la recta AE se ajustará á la BH, por ser el ángulo CAE igual al FBH : es así que yá se demostró, que la recta AD se ajusta á la BG ; por consiguiente el plano EAD se ajustará al HBG : luego el ángulo sólido A se ajustará al ángulo sólido B, y serán entre sí iguales <sup>b</sup>. L. Q. D. D. b 8. Ax. I.

## PROP. C. TEOR.

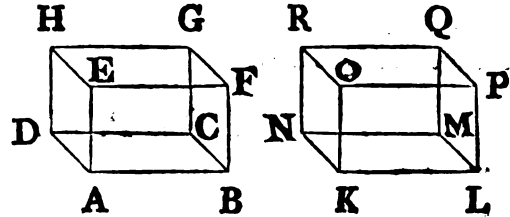
**L**AS figuras sólidas contenidas por igual número de planos semejantes, é iguales, semejantemente colocados, y cuyos ángulos sólidos están comprendidos por solos tres ángulos planos, son iguales, y semejantes entre sí.

Sean las figuras sólidas AG, KQ contenidas por igual número de planos semejantes, é iguales, y semejantemente colocados ; sea el plano AC semejante, é igual al KM, el AF al KP, el BG al LQ, el GD al QN, el DE al NO, y finalmente el FH al PR. Digo, que la figura sólida AG será igual, y semejante á la KQ.

Porque estando el ángulo sólido A contenido por los tres ángulos planos BAD, BAE, EAD, que son por hipótesis respectivamente iguales á los ángulos planos LKN, LKO, OKN, que contienen el ángulo sólido K, resultará el ángulo sólido A igual <sup>a</sup> al ángulo sólido K : semejantemente se demostrará, que los demás ángulos sólidos de las figuras son iguales entre sí : luego aplicada la figura sólida AG á la KQ, y aplicada primeramente la figura plana AC á la KM, esto es colocada la recta AB sobre KL,



**b B. XI.** KL, las figuras AC, KM se ajustarán, por ser iguales, y semejantes: luego las rectas AD, DC, CB se ajustarán respectivamente á las KN, NM, ML; los puntos A, D, C, B á los K, N, M, L, y el ángulo sólido A al K<sup>b</sup>: consiguientemente se ajustarán los planos AF, KP, y las figuras AF, KP, por ser iguales, y semejantes entre sí: luego las rectas AE, EF, FB se ajustarán á las rectas KO, OP, PL, y los puntos E, F á los O, P: semejantemente se demostrará, que la figura AH se ajusta con la KR; la recta DH con la recta NR, y el punto H con el R: y siendo el ángulo sólido B igual al L, se demostrará de la misma suerte, que la figura BG se ajusta con la LQ; la recta CG con la MQ; y el punto G con el Q. Ajustándose, pues, todos los planos, y lados de la figura sólida AG á los planos, y lados de la figura sólida KQ, será AG igual, y semejante á KQ. Asimismo se demuestra, que cualesquiera otras figuras sólidas, que estén contenidas por igual número de planos semejantes, é iguales, semejantemente colocados, hallándose contenidos sus ángulos sólidos por solos sus ángulos planos, serán iguales, y semejantes entre sí. L. Q. D. D.



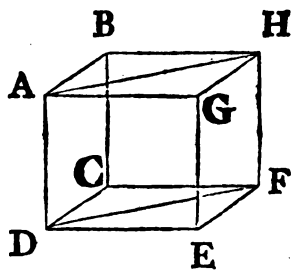
PROP. XXIV. TEOR.

**S**I un sólido está contenido por seis planos paralelos; sus planos opuestos serán paralelogramos semejantes iguales.

Supóngase el sólido CDGH contenido por los planos paralelos AC, FG; BG, CE; FB, AE. Digo, que sus planos opuestos serán paralelogramos semejantes, é iguales.

**a 16. XI.** Porque cortando el plano AC á los dos planos paralelos BG, CE, sus comunes secciones serán paralelas<sup>a</sup>: luego AB será paralela á CD: además cortando el mismo plano AC á los dos planos BF, AE, resultarán sus comunes secciones paralelas<sup>a</sup>: lue-

luego AD será paralela á BC: pero ya se demostró ser AB paralela á CD: luego AC será un paralelogramo: semejantemente se demuestra, que cada una de las figuras CE, FG, GB, BF, AE es un paralelogramo. Tírense AH, DF: por ser AB paralela á DC, y BH á CF, resultarán las dos rectas AB, BH, que se tocan, paralelas, y en diferentes planos de las dos DC, CF, que se tocan; consiguientemente contendrán ángulos iguales <sup>b</sup>: luego el ángulo ABH será igual al DCF: y siendo las dos AB, BH iguales á las dos DC, CF, y el ángulo ABH igual al DCF, será la base AH igual á la DF, y el triángulo ABH igual <sup>c</sup> al DCF: es <sup>c</sup> 4. I. así que el paralelogramo BG es duplo <sup>d</sup> del triángulo ABH, y <sup>d</sup> 34. I. el paralelogramo CE duplo del triángulo DCF: luego el paralelogramo BG será igual, y semejante al paralelogramo CE: semejantemente se demuestra ser el paralelogramo AC igual, y semejante al GF; y el AE al BF. Por consiguiente si un, &c. L. Q. D. D.



b 10. XI.

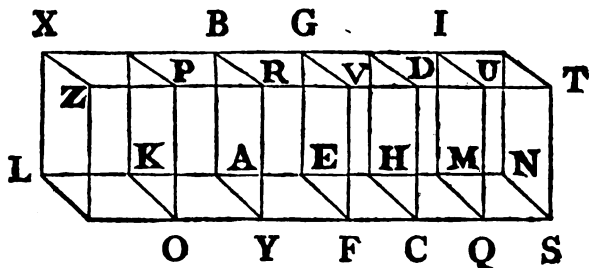
c 4. I.

d 34. I.

PROP. XXV. TEOR.

SI un paralelepípedo se corta por un plano paralelo á dos opuestos; los segmentos estarán entre sí en la razon de sus bases.

Este dividido el paralelepípedo ABCD por el plano EV paralelo á los planos opuestos AR, HD. Digo, que los segmentos



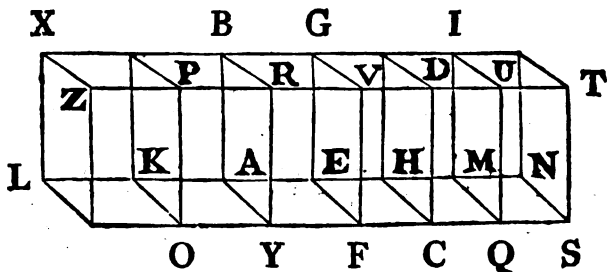
ABFV, y EGCD estarán entre sí en la razon de sus bases AEFY, EHCF.

Pro-

220 ELEMENTOS DE EUCLIDES.

Prolónguese por ambas partes AH, y tómense quantas partes se quieran HM, MN iguales á EH, y otras AK, KL iguales á EA; complétense los paralelogramos LO, KY, HQ, MS, y los sólidos LP, KR, HU, MT. Siendo, pues, las rectas LK, KA,

- a 36. I. AE entre sí iguales, tambien serán iguales <sup>a</sup> entre sí los paralelogramos LO, KY, AF: como asimismo iguales entre sí los paralelogramos KX, KB, AG; y tambien iguales entre <sup>b</sup> sí los paralelogramos LZ, KP, AR; por ser opuestos: por la misma razon serán iguales <sup>a</sup> entre sí los paralelogramos EC, HQ, MS; como asimismo iguales entre sí los paralelogramos HG, HI, IN; y tambien <sup>b</sup> los HD, MU, NT: luego los tres planos del sólido LP serán iguales, y semejantes á los tres planos del sólido KR, y tambien del sólido AV: es así que los tres son iguales, y semejantes á los tres opuestos, y ninguno de sus ángulos sólidos



- c C. XI. dos se halla contenido por mas de tres ángulos planos: luego los tres sólidos LP, KR, AV serán iguales <sup>c</sup> entre sí: por la misma razon serán tambien iguales entre sí los tres sólidos ED, HU, MT: luego quan multiplique sea la base LF de la AF, tan multiplique será el sólido LV del sólido AV: por la misma razon quan multiplique sea la base NF de la HF, tan multiplique será el sólido NV del ED; y segun sea la base LF igual, mayor, ó menor que la NF; será tambien el sólido LV igual <sup>c</sup>, mayor, ó menor que el sólido NV: luego dadas quatro cantidades, es á saber las dos bases AF, FH, y los dos sólidos AV, ED, se han tomado la base LF, y el sólido LV cualesquiera equimúltiples de la base AF, y del sólido AV; como asimismo la base FN, y el sólido NV cualesquiera equimúltiples de la base HF, y del sólido ED: es así que ya se demostró, que segun sea la base LF
- ma-



mayor, igual, ó menor que la FN, tambien el sólido LV será mayor, igual, ó menor que el NV: luego el sólido AV será al ED, como la base AF á la FH. Por consiguiente si un paralelepípedo, &c. L. Q. D. D.

## PROP. XXVI. PROBL.

**E**N un punto dado de una recta dada construir un ángulo sólido igual á otro dado contenido por tres ángulos planos.

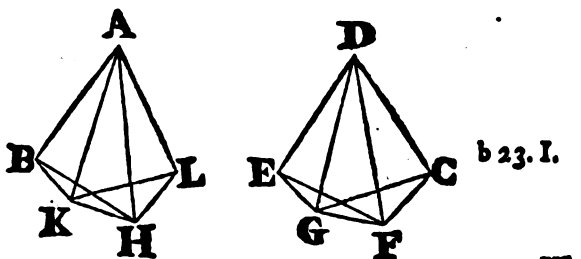
Sea la recta dada AB, A el punto dado en ella, y D el ángulo sólido dado contenido por los ángulos planos EDC, EDF, FDC; y háyase de construir en el punto A de la recta AB un ángulo sólido igual al D.

Tómese en la recta DF cualquier punto F, de donde tírese al plano, que pasa por ED, DC la perpendicular FG<sup>a</sup>, que en-

cuentre al plano en el punto G; tírese DG; y sobre la recta AB en el punto dado A constrúyase el ángulo BAL igual al EDC, y el BAK<sup>b</sup> igual al EDG: tómese AK igual á DG, y en el punto K elévese HK<sup>c</sup> perpendicular

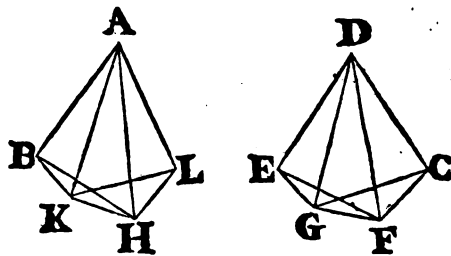
al plano BAL: tómese KH igual á GF, y tírese HA. Digo, que el ángulo sólido A contenido por los ángulos planos BAL, BAH, HAL será igual al ángulo sólido D contenido por los ángulos planos EDC, EDF, FDC.

Tómense iguales las rectas AB, DE, y tírense las líneas HB, KB, FE, GE. Siendo, pues, FG perpendicular al plano EDC, lo será<sup>d</sup> igualmente á todas las rectas, que toca, y están en el mismo plano: luego ambos ángulos FGD, FGE serán rectos; por la misma razon serán tambien rectos los dos ángulos HKA, HKB: y siendo las KA, AB respectivamente iguales á las dos GD, DE, y conteniendo ángulos iguales, será la base BK igual<sup>e</sup> á la EG: es así que KH es igual á GF, y contienen án-



gu-

- f 4. I. gulos rectos: luego HB será igual <sup>f</sup> á FE. A mas, siendo las dos AK, KH iguales á las dos DG, GF, y conteniendo ángulos rectos, será la base AH igual á la DF: pero AB es igual á DE: luego las dos HA, AB serán iguales á las dos FD, DE; es así
- g 8. I. que HB es igual á FE: luego el ángulo BAH será igual <sup>g</sup> al EDF: por la misma razon el ángulo HAL será igual al FDC; por lo tanto si se toman iguales AL, DC, y se tiran KL, HL, GC, FC, siendo el ángulo total BAL igual al total EDC, de los cuales el BAK se ha tomado igual al EDG, será el otro KAL igual al otro GDC: y por ser las dos KA, AL iguales á las dos GD, DC, y contener ángulos iguales, la base KL será igual <sup>f</sup> á la GC: pero HK es igual á GF: luego las dos LK, KH serán iguales á las dos CG, GF, y contendrán ángulos rectos: luego la base HL será igual á la FC: ademas de esto, siendo las dos rectas HA, AL iguales á las dos FD, DC, y la base HL á la FC, será el ángulo HAL igual al FDC <sup>f</sup>: siendo, pues, los ángulos planos BAL, BAH, HAL, que contienen el ángulo sólido A, respectivamente iguales á los tres ángulos planos EDC, EDF, FDC, que contienen el ángulo sólido D, y estando
- h B. XI. colocados semejantemente, resultará el ángulo sólido A igual <sup>h</sup> al D. Por consiguiente en un punto, &c. L. Q. D. H.



PROP. XXVII. PROBL.

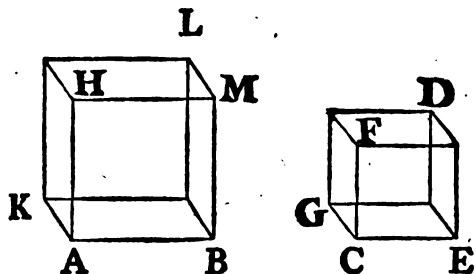
**S**OBRE una recta dada describir semejantemente un paralelepípedo semejante á otro dado.

Sea la recta AB, y el paralelepípedo dado CD; y háyase de describir semejantemente sobre AB un paralelepípedo semejante al CD.

- a 26. XI. Constrúyase sobre la recta AB en el punto dado A un ángulo <sup>a</sup> sólido igual al ángulo sólido C, y que esté contenido por tres ángulos planos BAK, KAH, HAB, tales que el ángulo BAK sea igual al

al ECG, el KAH al GCF, y el HAB al FCE; y tómesese EC á CG, como BA á AK; y GC á CF, como <sup>b</sup> KA á AH: será <sup>b</sup> 12. VI. por igualdad EC á CF, como <sup>c</sup> BA á AH: complétense el pa- <sup>c</sup> 22. V. ralelogramo BH, y el sólido AL. Siendo, pues, EC á CG, como BA á AK, los lados, que comprehenden á los ángulos iguales

ECG, BAK, son proporcionales: luego el paralelogramo BK será semejante al paralelogramo EG: por la misma razon el paralelogramo KH será semejante al GF, y el HB al FE: luego los tres paralelogramos del sólido AL serán semejantes á los tres

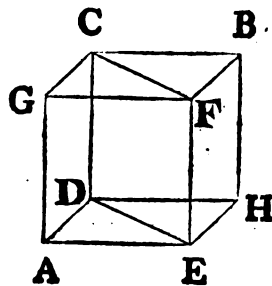


del sólido CD: pero los tres son semejantes, é iguales <sup>d</sup> á los <sup>d</sup> 24. XI. tres opuestos: y siendo los ángulos planos, que contienen los ángulos sólidos de las figuras sólidas iguales entre sí, y estando semejantemente colocados, serán tambien los ángulos sólidos iguales <sup>e</sup> entre sí: luego el sólido AL será semejante <sup>f</sup> al CD. <sup>e</sup> B. XI. Por consiguiente sobre la recta dada AB se ha descrito el parale- <sup>f</sup> 11. Def. lepípedo AL semejante, y semejantemente puesto al CD. L.Q.D.H. XI.

PROP. XXVIII. TEOR.

SI un paralelepípedo se corta por un plano, que pase por las diagonales de dos planos opuestos; quedará dividido en dos partes iguales.

Sea el paralelepípedo AB, y DE, CF las diagonales de dos planos opuestos AH, GB, las cuales están tiradas de los ángulos iguales de los paralelogramos AH, GB. Siendo las dos CD, FE paralelas á GA, y estando en diferentes planos, serán CD, FE paralelas <sup>a</sup> entre sí: consiguientemente las diagonales CF, DE estarán en el plano, en que se hallan las paralelas, y lo serán <sup>b</sup> entre sí. Digo, que el pla-



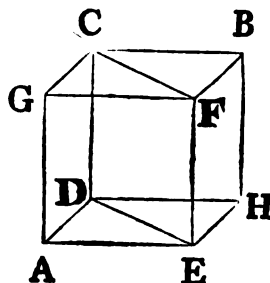
<sup>a</sup> 9. XI.

<sup>b</sup> 16. XI.

## 224 ELEMENTOS DE EUCLIDES.

plano CDEF cortará en dos partes iguales al sólido AB.

Porque siendo el triángulo CGF igual al CBF, y el DAE al DHE <sup>c</sup>, y el paralelogramo CA igual <sup>d</sup> al BE, por ser opuesto, y el paralelogramo GE al CH, resultará el prisma contenido por los triángulos CGF, DAE, y por los tres paralelogramos CA, GE, EC, igual al prisma contenido por los dos triángulos CBF, DHE, y por los tres paralelogramos BE, CH, EC <sup>e</sup>: pues están contenidos por igual número de planos semejantes, é iguales, y semejantemente colocados, y por hallarse cada uno de sus ángulos sólidos contenidos por solos tres ángulos planos: luego el sólido AB total quedará dividido en dos partes iguales por el plano CDEF. L. Q. D. H.

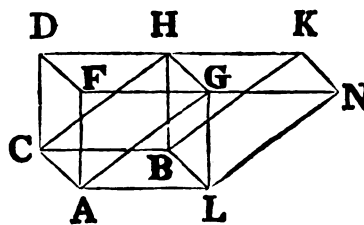


### PROP. XXIX. TEOR.

**L**OS paralelepípedos, que tienen una misma base, y altura, y cuyas rectas insistentes están en unas mismas rectas, son iguales entre sí.

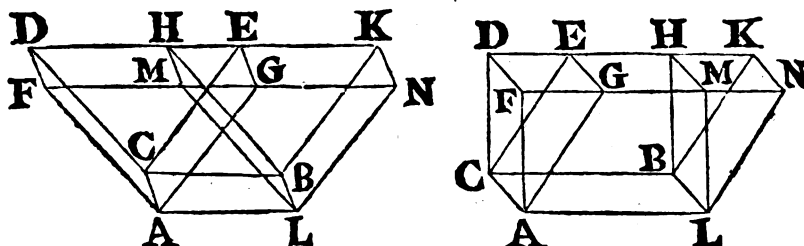
Véanse las figuras 2. y 3. Tengan la misma base AB los paralelepípedos AH, AK, y una misma altura; y las rectas insistentes AF, AG, LG, LN, CD, CH, BH, BK estén en las mismas rectas FN, DK. Digo, que el sólido AH será igual al sólido AK.

Primeramente tengan los paralelogramos DG, HN opuestos á la base AB el lado comun HG. Cortando, pues, el plano AGHC al sólido AH por las diagonales AG, CH de los planos opuestos ALGF, CBHD, quedará dividido <sup>a</sup> en dos partes iguales: luego el sólido AH será duplo del prisma contenido por los triángulos ALG, CBH: por la misma razon cortando el plano LGHB al sólido AK por las diagonales LG, BH de los planos opuestos ALNG, CBKH,



CBKH, será el sólido AK duplo del prisma contenido por los triángulos ALG, CBH: luego el sólido AH será igual al sólido AK.

Pero supongamos, que los paralelogramos opuestos á la base, es á saber DM, EN, no tengan lado comun: siendo, pues, CH, CK dos paralelogramos, CB será igual <sup>b</sup> á las dos rectas <sup>b</sup> 34. I. DH, EK: luego DH será igual á EK: añádase, ó quítese HE comun, y resultará DE igual á HK; consiguientemente el triángulo CDE será igual <sup>c</sup> al BHK; y el paralelogramo DG igual <sup>c</sup> 38. I.



al HN <sup>d</sup>: por la misma razon el triángulo AFG será igual al <sup>d</sup> 36. I. LMN; el paralelogramo CF igual al BM, y el CG al BN <sup>e</sup>, <sup>e</sup> 24. XI. por ser opuestos: luego tambien el prisma contenido por los dos triángulos AFG, CDE, y por los tres paralelogramos AD, DG, GC será igual <sup>f</sup> al prisma contenido por los dos triángulos LMN, BHK, y por los tres paralelogramos BM, MK, KL: por consiguiente quitando el prisma LMNBHK del sólido, cuya base es el paralelogramo AB, y la opuesta el paralelogramo FDKN, y quitando del mismo sólido el prisma AFGCDE, será el paralelepípedo residuo AH igual al paralelepípedo restante AK. Por consiguiente los paralelepípedos, que tienen una misma base, y altura, y cuyas rectas insistentes están en unas mismas rectas, son iguales entre sí. L. Q. D. D.

P

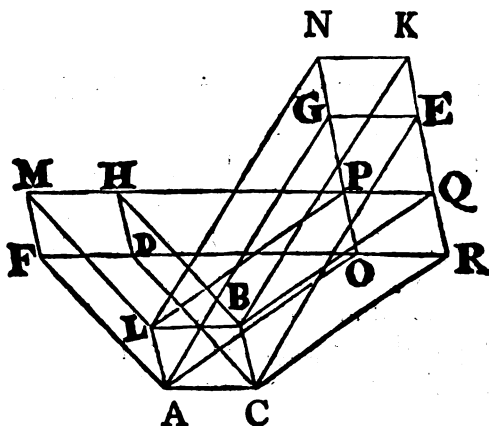
PROP.

## PROP. XXX. TEOR.

**L**OS paralelepípedos, que tienen una misma base, y altura, y cuyas rectas insistentes no están en unas mismas rectas, son iguales entre sí.

Tengan los paralelepípedos  $CM$ ,  $CN$  la misma base  $AB$ , y la misma altura; y no estén sus rectas insistentes  $AF$ ,  $AG$ ,  $LM$ ,  $LN$ ,  $CD$ ,  $CE$ ,  $BH$ ,  $BK$  en unas mismas rectas. Digo, que el sólido  $CM$  será igual al sólido  $CN$ .

Prolónguense  $FD$ ,  $MH$ , y  $NG$ ,  $KE$ , y encuéntrense en los puntos  $O$ ,  $P$ ,  $Q$ ,  $R$ , y tírense las líneas  $AO$ ,  $LP$ ,  $BQ$ ,  $CR$ . Siendo, pues, el plano  $LBHM$  paralelo al plano opuesto  $ACDF$ , y estando en el plano  $LBHM$  las rectas paralelas  $LB$ ,  $MHPQ$ , y también la figura  $BLPQ$ ; y en el plano  $ACDF$  las paralelas



$AC$ ,  $FDOR$ , y la figura  $CAOR$ , estarán las figuras  $BLPQ$ ,  $CAOR$  en planos paralelos entre sí. Semejantemente siendo el plano  $ALNG$  paralelo al opuesto  $CBKE$ , y estando en el plano  $ALNG$  las paralelas  $AL$ ,  $OPGN$ ; y en él también la figura  $ALPO$ ; como asimismo en el plano  $CBKE$  las paralelas  $CB$ ,  $RQEK$ , y la figura  $CBQR$ , estarán las figuras  $ALPO$ ,  $CBQR$  en planos entre sí paralelos: luego el sólido  $CP$  será paralelepípedo: es así que el sólido  $CM$ , cuya base es  $ACBL$ , y el pa-

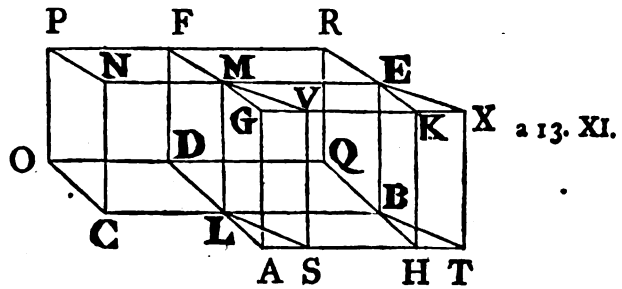
paralelogramo opuesto á ella FDHM, es igual <sup>a</sup> al sólido CP, <sup>a</sup> 29. XI. cuya base es el paralelogramo ACBL, y el opuesto á él ORQP, por estar en una misma base, y estar sus rectas insistentes AF, AO, CD, CR; LM, LP, BH, BQ en las mismas rectas FR, MQ: es así que el sólido CP es igual al CN; por estar en la misma base ACBL, y estar las rectas insistentes AO, AG, LP, LN; CR, CE, BQ, BK en las mismas rectas ON, RK: luego el sólido CM será igual al CN. Por consiguiente los paralelepípedos, &c. L. Q. D. D.

PROP. XXXI. TEOR.

**L**OS paralelepípedos, que tienen iguales bases, y una misma altura, son iguales entre sí.

Tengan los paralelepípedos AE, CF, las bases iguales AB, CD, y la misma altura. Digo, que el sólido AE será igual al sólido CF.

Sean primeramente las rectas insistentes perpendiculares á las bases AB, CD. Colóquense los sólidos, de manera que las bases se hallen en un mismo plano, y los lados CL, LB estén directamente: luego la recta LM, que insiste en el punto L, será comun á los sólidos AE, CF <sup>a</sup>; y sean las otras rectas insistentes AG, HK, BE; DF, OP, CN. Primeramente sea el ángulo ALB igual al CLD: luego AL, LD estarán directamente. Pro-



lónguense OD, HB, y encuéntrense en Q; y complétese el paralelepípedo LR, cuya base es el paralelogramo LQ, y LM una de sus rectas insistentes. Siendo, pues, el paralelogramo AB igual al CD, será la base AB á la LQ, como <sup>b</sup> la base CD á la misma LQ; y cortando el plano LMEB paralelo á los planos opuestos AK, DR al paralelepípedo AR, será la base AB á la LQ, como el segmento AE al LR <sup>c</sup>: por la misma razon cortando el

el plano LF paralelo á los planos opuestos CP, BR al paralelepípedo CR, será la base CD á la LQ, como el segmento CF al LR: pero ya se demostró que es AB á LQ, como la base CD á la misma LQ: luego el sólido AE será al LR, como el

d 9. V. CF al LR: por consiguiente será el sólido AE igual <sup>d</sup> al CF.

Supongamos ahora, que los paralelepípedos SE, CF tengan las bases iguales SB, CD, y la misma altura, y sean las rectas insistentes perpendiculares á las bases; pero puestas las bases SB, CD en un mismo plano, de forma que CL, LB estén directamente, no sea el ángulo SLB igual al CLD; será tambien el sólido SE igual al CF. Prolónguense DL, TS, y encuéntrense en A, por B tírese BH paralela á DA; HB, y OD prolongadas se encontrarán en Q: complétense

los sólidos AE, LR: luego el sólido AE, cuya base es el paralelogramo LE, y su opuesto el AK, será igual al sólido SE, cuya base es el LE, y su opuesto SX <sup>e</sup>:

e 29. XI.

pues tienen la misma base LE, la misma altura, y sus rectas insistentes, es á saber LA, LS, BH, BT; MG, MV, EK, EX están en las mismas rectas AT, GX. Siendo, pues,

f 35. I.

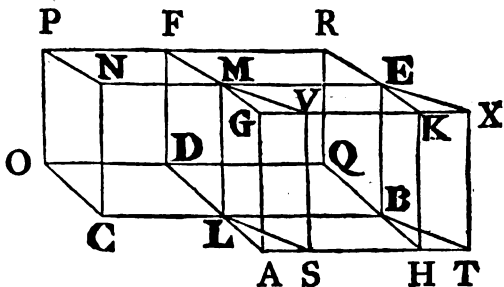
el paralelogramo AB igual al SB <sup>f</sup>, pues tienen la misma base LB, y están en unas mismas paralelas LB, AT; la base SB será igual á la CD; consiguientemente la base AB será igual á la CD: pero el ángulo ALB es igual al CLD: luego, segun lo ya demostrado, el sólido AE será igual al CF, pero se demostró que AE es igual á SE: luego el sólido SE será igual al CF.

Ultimamente las rectas insistentes AG, HK, BE, LM; CN, RS, DF, OP no sean perpendiculares á las bases AB, CD. Digo, que

g 11. XI. tambien el sólido AE será igual al CF. Tírense g de los puntos G, K, E, M; N, S, F, P perpendiculares al plano inferior las GQ, KT, EV, MX; NY, SZ, FI, PU, y encuentren al plano en los puntos Q, T, V, X; Y, Z, I, U; y tírense las líneas QT, TV, VX, XQ; YZ, ZI, IU, UY. Siendo, pues,

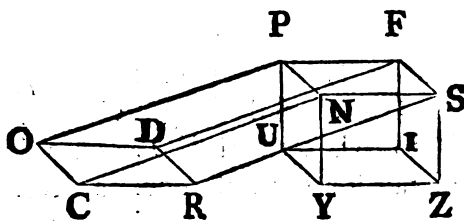
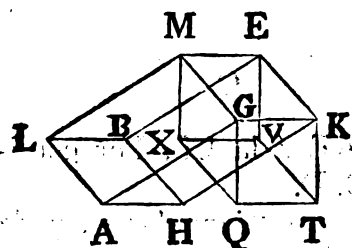
h 6. XI.

GQ, KT perpendiculares á un mismo plano, serán paralelas <sup>h</sup> entre





tre sí : pero tambien lo son  $MG$ ,  $EK$ : luego los planos  $MQ$ ,  $ET$ , uno de los cuales pasa por  $MG$ ,  $GQ$ , y otro por  $EK$ ,  $KT$ , que son paralelas á aquellas, y están en diferente plano, serán entre sí paralelos <sup>i</sup>: por la misma razon los planos  $MV$ ,  $GT$  serán entre sí paralelos: luego el sólido  $QE$  será paralelepípedo : semejantemente se demuestra ser el sólido



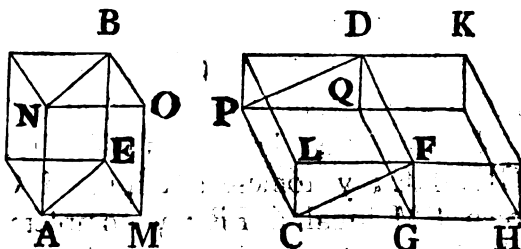
$YF$  paralelepípedo ; pero segun lo precedente el sólido  $EQ$  es igual al  $FY$ , pues tienen las bases iguales  $MK$ ,  $PS$ , la misma altura , y son sus rectas insistentes perpendiculares á las bases : pero el sólido  $EQ$  es igual <sup>k</sup> al  $AE$ , y el sólido  $FY$  al <sup>k 29. 6</sup>  $CF$  <sup>30. XI.</sup>, pues están en una misma base, y tienen la misma altura : luego tambien el sólido  $AE$  será igual al  $CF$ . Por consiguiente los paralelepípedos , &c. L. Q. D. D.

PROP. XXXII. TEOR.

**L** OS paralelepípedos , que tienen una misma altura, son entre sí como sus bases.

Tengan los paralelepípedos  $AB$ ,  $CD$  una misma altura. Digo , que el sólido  $AB$  será al  $CD$ , como la base  $AE$  á la  $CF$ .

Aplíquese sobre la recta  $FG$  el paralelogramo  $FH$  igual al  $AE$ , de suerte que el ángulo  $FGH$  sea igual al  $LCG$ ; y complétese el paralelepípedo  $GK$ , cuya base sea  $FH$ ; y sea una de las

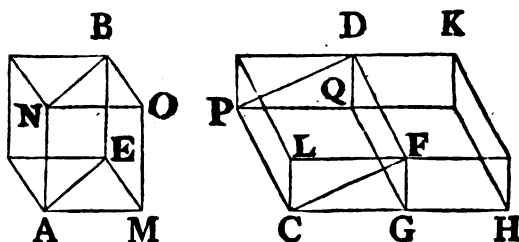


<sup>2</sup> Cor. 45. I.

P 3 tas

b 31. XI. tas insistentes FD: luego el sólido AB será igual al GK<sup>b</sup>, por tener las bases iguales AE, FH, y la misma altura. Cortando, pues, el plano DG, paralelo á los planos opuestos, al paralelepípedo CK; será la base HF á la FC, como<sup>c</sup> el sólido HD al DC: pero la base FH es igual á la AE, y el sólido GK al AB: luego el sólido AB será al CD, como la base AE á la CF. Por consiguiente los paralelepípedos, &c. L. Q. D. D.

c 25. XI.



COR. De aquí se infiere, que los prismas triangulares, y de una misma altura son entre sí como sus bases.

Tengan una misma altura los prismas, cuyas bases son los triángulos AEM, CFG, y sus opuestos NBO, PDQ, y complétense los paralelogramos AE, CF, y tambien los paralelepípedos AB, CD, en el primero de los cuales sea MO una de las rectas insistentes, y en el otro GQ. Teniendo, pues, una misma altura los paralelepípedos AB, CD, serán entre sí como la base AE á la CF: por consiguiente los prismas, que son sus mitades<sup>d</sup>, serán entre sí, como la base AE á la CF, esto es como el triángulo AEM al CFG.

d 28. XI.

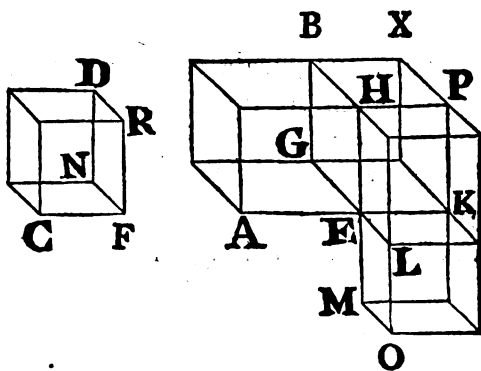
### PROP. XXXIII. TEOR.

**L**OS paralelepípedos semejantes están entre sí en la razon triplicada de sus lados homólogos.

Sean semejantes los paralelepípedos AB, CD, y el lado AE sea homólogo al CF. Digo, que el sólido AB estará al CD en la razon triplicada del lado AE al CF.

Prolónguense las rectas EK, EL, EM directamente á las AE, GE, HE; y tómesese EK igual á CF; y EL á FN, como tambien EM igual á FR; y complétense el paralelogramo KL, y el sólido KO. Siendo, pues, las dos KE, EL iguales á las dos CF, FN, y asimismo el ángulo KEL igual al CFN, pues el ángu-

gulo AEG es igual al CFN, por la semejanza de los sólidos AB, CD, será el paralelogramo KL semejante, é igual al CN: por la misma razon el paralelogramo MK será igual, y semejante al CR, y tambien el paralelogramo OE al FD: luego los tres paralelogramos del sólido KO serán iguales, y semejantes á los tres paralelogramos del sólido CD: pero los tres son iguales, y semejantes <sup>a</sup> á los tres opuestos: luego el sólido KO será <sup>a 24. XI.</sup> igual, y semejante al CD <sup>b</sup>. Complétese el paralelogramo GK, <sup>b C. XI.</sup> y con las bases GK, KL paralelogramas; y con la misma altura que AB, complétese EX, LP, de manera que la recta EH sea una de las insistentes. Siendo por la semejanza de los sólidos AB, CD, y permutando, AE á CF, como EG á FN, y EH á FR; y siendo FC igual á EK, FN á EL, y FR á EM, resultará AE á EK, como EG á EL, y como HE á EM: pero AE es á EK, como <sup>c</sup> el paralelogramo AG al paralelogramo GK; y GE á EL, como GK á KL; y HP á EM, como PE á KM: luego tambien el paralelogramo AG será al GK, como GK á KL, y PE á KM: pero AG es á GK, como <sup>d</sup> el sólido AB al EX; GK á KL, como el sólido <sup>d 25. XI.</sup> EX al PL; últimamente PE á KM, como el sólido PL al KO: será, pues, el sólido AB al EX, como EX á PL, y PL á KO: es así que dadas quatro cantidades continuo proporcionales, la primera tiene á la quarta razon triplicada de la que tiene á la segunda: luego el sólido AB tendrá al KO razon triplicada de la que AB tiene á EX: pero AB es á EX, como el paralelogramo AG al GK, y como la recta AE á la EK: luego el sólido AB tendrá al KO razon triplicada de la que AE tiene á EK: es así que el sólido KO es igual al sólido CD, y la recta EK á la recta CF. Por consiguiente el sólido AB tendrá al CD razon triplicada de la que el lado homólogo AE tiene al lado homólogo CF. L. Q. D. D.



232 ELEMENTOS DE EUCLIDES.

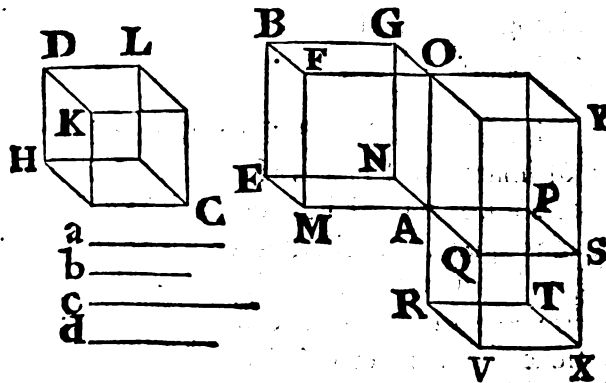
COR. De donde se infiere manifiestamente, que si quatro rectas son continuo proporcionales, la primera será á la quarta, como el paralelepípedo descrito sobre la primera al paralelepípedo semejante, y semejantemente descrito sobre la segunda; por tener la primera á la quarta razon triplicada de la que tiene á la se-

e 11. Def. gunda e.  
V.

PROP. D. TEOR.

**L**OS paralelepípedos contenidos por paralelogramos respectivamente equiángulos, esto es cuyos ángulos sólidos son entre sí iguales, están uno á otro en la razon compuesta de las razones de los lados.

Sean los paralelepípedos AB, CD; el primero de los cuales esté contenido por los paralelogramos AE, AF, AG respectivamente equiángulos á los paralelogramos CH, CK, CL, que contienen el sólido CD. La razon del sólido AB al CD estará compuesta de las razones de los lados AM á DL, AN á DK, y AO á DH. Prolónguense MA, NA, OA hasta los puntos P, Q,



R, de forma, que AP sea igual á DL, AQ á DK, y AR á DH: y complétese el paralelepípedo AX contenido por los paralelogramos AS, AT, AV respectivamente semejantes, é iguales á los paralelogramos CH, CK, CL: luego el sólido AX será igual al CD. Complétese el sólido AY, cuya base es AS, y

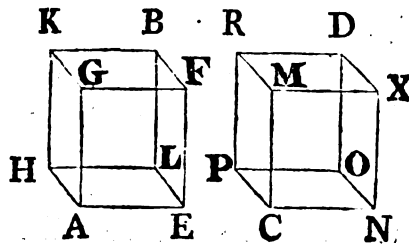
y una de las rectas insistentes AO : tírese qualquiera recta a , y hágase MA á AP , como a á la recta b , y NA á AQ , como b á c ; últimamente OA á AR , como c á d . Siendo , pues , el paralelogramo AE equiángulo al paralelogramo AS , será AE á AS , como la recta a á la c , segun se demostró en la Proposicion XXIII. del Libro VI : es así que los sólidos AB , AY cons- truidos entre los planos paralelos BOY , EAS tienen una misma altura : luego el sólido AB será al AY , como la base AE á la AS <sup>b</sup> ; esto es como la recta a á la recta c : y el sólido AY se- <sup>b 32. XI.</sup> rá al AX , como la base OQ á la QR <sup>c</sup> ; esto es como la recta <sup>c 25. XI.</sup> OA á la AR ; esto es como la recta c á la d . Siendo , pues , el sólido AB al AY , como la recta a á la c ; y el sólido AY al AX , como la recta c á la d , será por igualdad el sólido AB al AX , ó CD , como la recta a á la d : es así que la razon de a á d está compuesta <sup>d</sup> de las razones de a á b , de b á c , y <sup>d A. Def. V.</sup> de c á d , que son respectivamente iguales á las razones de los lados MA á AP , NA á AQ , y OA á AR : pero los lados AP , AQ , AR son respectivamente iguales á los lados DL , DK , DH . Por consiguiente el sólido AB estará al CD en la razon com- puesta de las razones de los lados AM á DL , AN á DK , y AO á DH . L. Q. D. D.

PROP. XXXIV. TEOR.

**L**AS bases de los paralelepípedos iguales son recípro- camente proporcionales á las alturas : y los para- lelepípedos , cuyas bases son recíprocamente proporcio- nales á las alturas , son iguales entre sí.

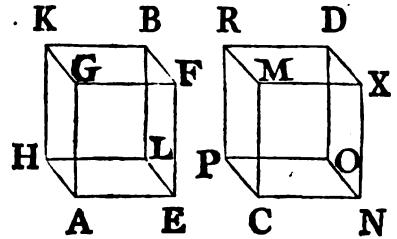
Sean iguales los paralelepípedos AB, CD. Digo , que sus ba- ses serán recíprocamente proporcio- nales á las alturas ; esto es la base EH á la base NP , como la altura del sólido CD á la altura del sólido AB.

I.º Sean las insistentes AG, EF, LB, HK ; CM, NX, QD, PR per- pen-



234 ELEMENTOS DE EUCLIDES.

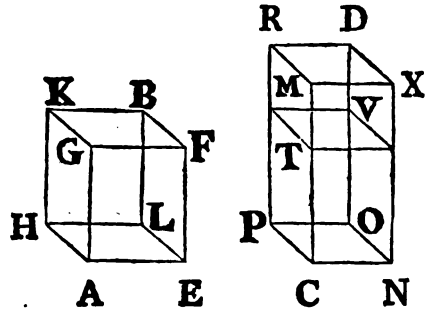
pendiculares á sus bases. Digo, que la base EH será á la NP, como CM á AG. Si la base EH es igual á la base NP, siendo tambien el sólido AB igual al CD, resultará CM igual á AG: porque si siendo iguales las bases EH, NP, no lo fueran las alturas AG, CM, tampoco el sólido AB sería igual al CD: pero se supone igual: luego la altura CM no será desigual á la altura AG: luego será igual: y por tanto la base EH será á la NP, como CM á AG.



Pero si no es la base EH igual á la NP, sino mayor; siendo el sólido AB igual al CD; será CM mayor que AG; pues si no lo fuese, tampoco serían iguales los sólidos AB, CD

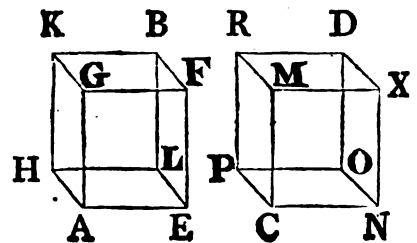
contra lo supuesto. Tómese CT igual á AG, y complétese el paralelepípedo CV con la base NP, y con la altura CT: siendo, pues, el sólido AB igual al CD, será

a 7. V. AB á CV, como <sup>a</sup> CD á CV: es así que el sólido AB es al CV, como <sup>b</sup> la base EH á la NP, por ser AB, CV dos sólidos de igual altura: además de esto el sólido



c 25. XI. CD es al CV, como la base MP á la PT <sup>c</sup>, y como la recta d 1. VI. MC á la CT <sup>d</sup>: luego MC será á CT, como la base EH á la NP: pero CT es igual á AG: luego la base EH será á la NP, como MC á AG: por consiguiente las bases de los paralelepípedos AB, CD serán recíprocamente proporcionales á sus alturas.

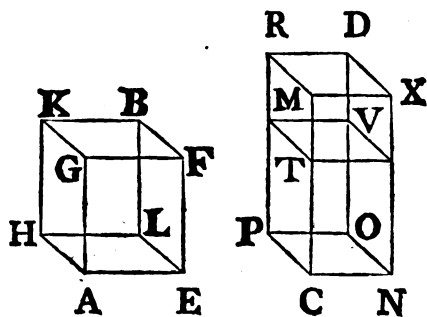
II.º Sean las bases de los paralelepípedos AB, CD recíprocamente proporcionales á sus alturas, y la base EH á la NP, como la altura del sólido CD á la del AB. Digo, que el sólido AB será igual al CD. Sean primero las insistentes perpendiculares á las bases: y respecto de ser la base EH igual á



la

la NP, y como la altura del sólido CD á la del AB, resultará la altura del sólido CD igual <sup>e</sup> á la altura del sólido AB: es así <sup>e</sup> Ax. 5. que los paralelepípedos, que tienen iguales bases, y una misma altura son iguales <sup>f</sup> entre sí: luego el sólido AB será igual <sup>f</sup> 31. XI. al CD.

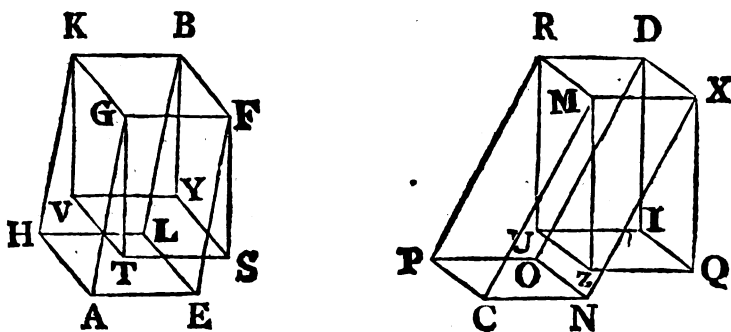
No sea la base EH igual á la base NP, sino mayor que ella. Siendo, pues, la base EH á la base NP, como la altura CM del sólido CD á la altura AG del sólido AB, será CM mayor que AG: tómese CT igual á AG, y complétese semejantemente el sólido CV. Siendo, pues, la base EH á la NP, como CM á AG, y AG igual á CT, será la base EH á la NP, como MC á CT: es así que la base EH es á la NP, como <sup>g</sup> el sólido AB al CV; por ser de igual altura los dos sólidos AB, CV; y MC á CT, como <sup>h</sup> la base MP á la PT, y el sólido CD al CV: luego AB será á CV, como el sólido CD al CV: luego el sólido AB será igual al CD. L. Q. D. D.



g 32. XI.

h 25. XI.

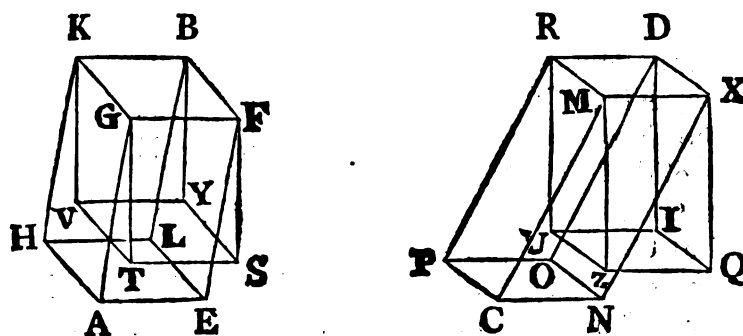
Mas demos, que las insistentes FE, BL, GA, KH; XN, DO, MC, RP no sean perpendiculares á las bases de los sólidos, y



de los puntos F, B, K, G; X, D, R, M tírense á los planos de las bases EH, NP perpendiculares, que encuentren á los planos en los puntos S, Y, V, T; Q, I, U, Z, y complétese los sólidos FV,

i 29. 6  
3º. XI.

FV, XU, que serán paralelepípedos, como se demostró en el último caso de la Proposición XXXI. de este Libro. Digo, que también así, siendo iguales los sólidos AB, CD, las bases serán recíprocamente proporcionales á las alturas; es á saber la base EH á la NP, como la altura del sólido CD á la del AB: porque siendo el sólido AB igual al CD, y el BT <sup>i</sup> al AB, por tener la misma base FK, y la misma altura; como asimismo el sólido DC igual <sup>i</sup> al DZ, por tener también la misma base XR, y la misma altura, resultará el sólido BT igual al DZ: es así que las bases de paralelepípedos iguales, cuyas insistentes son perpendiculares á las bases de los mismos, son recíprocamente proporcionales á las alturas, como se demostró: luego la base FK será á la base XR, como la altura del sólido DZ á la altura del



sólido BT: pero la base FK es igual á la EH, y la base XR á la NP: por consiguiente la base EH será á la NP, como la altura del sólido DZ á la del BT: es así que las alturas de los sólidos DZ, DC, como también las de los BT, BA son las mismas: luego la base EH será á la NP, como la altura del sólido DC á la del BA: las bases, pues, de los paralelepípedos AB, CD serán recíprocamente proporcionales á sus alturas.

Ademas de esto sean las bases de los paralelepípedos AB, CD recíprocamente proporcionales á sus alturas, y la base EH á la NP, como la altura del sólido CD á la del AB. Digo, que el sólido AB será igual al CD: porque supuesta la misma construcción, siendo la base EH á la NP, como la altura del sólido CD á la del AB, y la base EH igual á la FK, como también

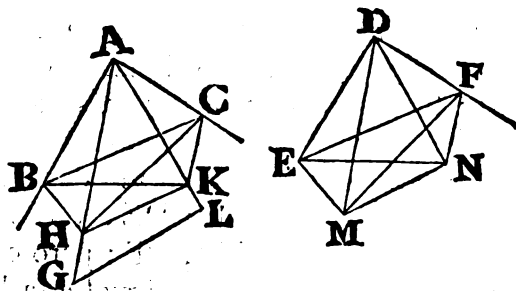


bien la NP á la XR, será la base FK á la XR, como la altura del sólido CD á la del AB: es así que las alturas de los sólidos AB, BT, y de los CD, DZ son las mismas: luego la base FK será á la XR, como la altura del sólido DZ á la del BT: consiguientemente las bases de los paralelepípedos BT, DZ serán recíprocamente proporcionales á sus alturas: pero sus insistentes son perpendiculares á las bases: luego el sólido BT será, como ya se demostró, igual al DZ: es así que BT es igual <sup>k</sup> á BA, y <sup>k</sup> <sup>29. 6</sup> DZ <sup>k</sup> á DC, por tener las mismas bases, y altura: luego el sólido AB será igual al CD. L. Q. D. D. <sup>30. XI.</sup>

## PROP. XXXV. TEOR.

**S**I en los vértices de dos ángulos planos iguales se elevan dos rectas sobre los planos de los ángulos, de manera que con los lados de ellos contengan ángulos respectivamente iguales, y si de los extremos de estas rectas se baxan perpendiculares á los planos, y de los puntos, donde los encuentran, se tiran rectas á los vértices; estas líneas con las elevadas contendrán ángulos iguales,

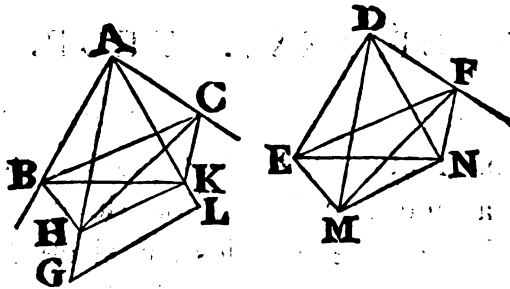
Sean los dos ángulos planos iguales BAC, EDF, y en los vértices A, D elévense las rectas AG, DM sobre los planos, que con



los lados de los ángulos contengan ángulos respectivamente iguales, es á saber GAB igual á MDE, y GAC á MDF; tórnense en

en  $AG$ ,  $DM$  cualesquiera puntos  $G$ ,  $M$ , de los cuales bájense á los planos, que pasan por  $BAC$ ,  $EDF$ , las perpendiculares  $GL$ ,  $MN$ , que encuentren á los planos en los puntos  $L$ ,  $M$ ; y tírense las líneas  $LA$ ,  $ND$ . Digo, que el ángulo  $GAL$  será igual al  $MDN$ .

Tómese  $AH$  igual á  $DM$ ; y por  $H$  tírese  $HK$  paralela á  $GL$ : es así que  $GL$  es perpendicular al plano  $BAC$ : luego tambien **a** 8. XI.  $HK$  será perpendicular <sup>a</sup> al plano  $BAC$ . Tírense de los puntos  $K$ ,  $N$  á las rectas  $AB$ ,  $AC$ ,  $DE$ ,  $DF$  las perpendiculares  $KB$ ,  $KC$ ,  $NE$ ,  $NF$ ; y tírense  $HB$ ,  $BC$ ,  $ME$ ,  $EF$ . Siendo, pues,  $HK$  perpendicular al plano  $BAC$ , tambien el plano  $HBK$ , que pasa



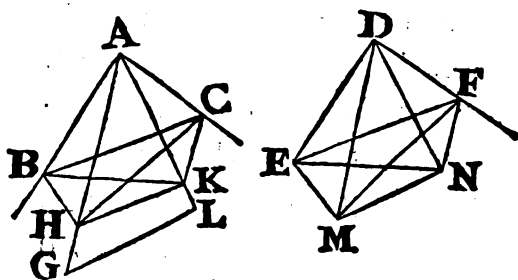
**b** 18. XI. por  $HK$ , será perpendicular al plano  $BAC$  <sup>b</sup>: es así que se halla en el plano  $BAC$  la recta  $AB$  perpendicular á la  $BK$ , comun seccion de los planos: por consiguiente  $AB$  será perpendicular al plano  $HBK$  <sup>c</sup>, y á todas las rectas, que la tocan en el mismo plano <sup>d</sup>: es así que la toca la recta  $BH$ , que está en el mismo plano: luego el ángulo  $ABH$  será recto: por la misma razon será tambien recto el ángulo  $DEM$ : luego el ángulo  $ABH$  será igual al  $DEM$ ; pero  $HAB$  es igual á  $MDE$ : luego  $HAB$ ,  $MDE$  son dos triángulos, que tienen dos ángulos respectivamente iguales á dos ángulos, y un lado opuesto á ángulos iguales igual á otro, es á saber  $HA$  á  $DM$ : luego tendrán los demás lados respectivamente iguales entre sí <sup>e</sup>: consiguientemente  $AB$  será igual á  $DE$ . Del mismo modo tiradas  $HC$ ,  $MF$  se demuestra ser  $AC$  igual á  $DF$ . Siendo, pues,  $AB$  igual á  $DE$ , y  $AC$  á  $DF$ , serán las dos  $BA$ ,  $AC$  iguales á las dos  $ED$ ,  $DF$ : pero el ángulo  $BAC$  es igual al  $EDF$ : luego la base  $BC$  será igual á la  $EF$ , y los demás ángulos respectivamente iguales <sup>f</sup> entre sí: luego el ángulo  $ABC$  será igual al  $DEF$ : es así que el recto  $ABK$  es tambien igual

igual al recto DEN; por consiguiente los otros ángulos CBK, FEN serán iguales entre sí: por la misma razon el ángulo BCK será igual al EFN: luego BCK, EFN son dos triángulos, que tienen dos ángulos respectivamente iguales á dos ángulos, y un lado igual á otro, adyacentes los dos á ángulos iguales; es á saber BC á EF: por consiguiente tendrán iguales  $g$  los demás lados: así BK será igual á EN; pero AB es igual á DE: luego siendo las dos AB, BK iguales á las dos DE, EN, y conteniendo ángulos rectos; será la base AK igual á la DN; y por ser AH igual á DM, será el quadrado de AH igual al quadrado de DM: es así que los quadrados de AK, KH son iguales  $h$  al quadrado de AH; por ser recto el ángulo AKH: y los quadrados de DN, NM son iguales al quadrado de DM; por ser recto el ángulo DNM: luego los quadrados de AK, KH son iguales á los de DN, NM, de los quales el quadrado de AK es igual al de DN: luego el quadrado de KH será igual al de NM; y por tanto la recta HK igual á la MN: y siendo las dos HA, AK respectivamente iguales á las dos MD, DN, y la base HK igual á la MN, como ya se ha demostrado, será el ángulo HAK igual  $i$  al MDN. L. Q. D. D. g 26. I.  
h 47. I.  
i 8. I.

**COR.** Es evidente, que si en los vértices de dos ángulos planos iguales se elevan rectas iguales, que contengan ángulos respectivamente iguales con los lados de los ángulos, las perpendiculares baxadas de ellas á los planos de los ángulos serán iguales entre sí.

Otra demostracion del Corolario.

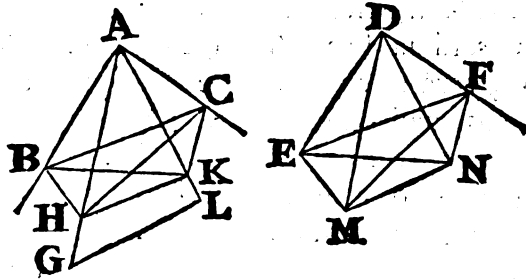
Sean los dos ángulos planos BAC, EDF entre sí iguales; y con-



tengan las rectas elevadas, é iguales AH, DM con las BA, AC, y ED,

ED, DF ángulos respectivamente iguales, es á saber el ángulo HAB igual al MDE, y el HAC al MDF: y báxense á los planos BAC, EDF las perpendiculares HK, MN: será HK igual á MN.

Porque estando el ángulo sólido A contenido por los tres ángulos planos BAC, BAH, HAC respectivamente iguales á los



tres ángulos planos EDF, EDM, MDF, que contienen el ángulo sólido D, serán los ángulos sólidos A, y D entre sí iguales, y se ajustarán mutuamente; esto es si se aplica el ángulo BAC al EDF, la recta AH ajustará con la DM, como se demostró en la Proposición B de este Libro: y siendo AH igual á DM, el punto H se ajustará al M: por consiguiente HK perpendicular al plano BAC se ajustará á MN perpendicular al plano EDF; respecto de que estos planos se ajustan mutuamente entre sí: luego la recta HK será igual á la recta MN. L. Q. D. D.

k 13. XI.

PROP. XXXVI. TEOR.

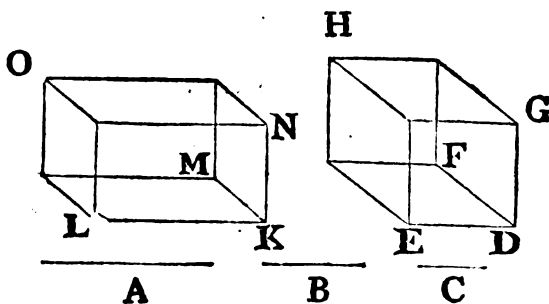
**S**I tres rectas son proporcionales; el paralelepípedo de las tres será igual al paralelepípedo equilátero de la media, siendo los dos equiángulos, esto es que cualquiera de los ángulos sólidos del un paralelepípedo esté contenido por tres ángulos planos respectivamente iguales á los que contienen un ángulo sólido del otro.

Sean proporcionales las tres rectas A, B, C, esto es A á B,  
co-

cómo B á C. Digo, que el paralelepípedo de A, B, C será igual al paralelepípedo equilátero, y equiángulo de B.

Constrúyase un ángulo sólido en D contenido por los tres ángulos planos EDF, FDG, GDE, y tómese cada una de las líneas ED, DF, DG igual á B, complétese el paralelepípedo DH, tómese la recta LK igual á A, y en su punto K constrúyase <sup>a</sup> un ángulo sólido contenido por tres ángulos planos LKM, MKN, NKL respectivamente iguales á los EDF, FDG, GDE; tómese la recta

KN igual á B, y KM igual á C, y complétese el paralelepípedo KO. Siendo, pues, A á B, como B á C, y A igual á LK, y B á cada una de las dos DE, DF, y C igual á KM, resultará LK á ED, como DF á



KM: siendo, pues, los lados, que contienen ángulos iguales recíprocamente proporcionales; el paralelogramo LM será igual <sup>b</sup> al EF: y siendo iguales los dos ángulos planos EDF, LKM; y hallándose en ellos las rectas elevadas DG, KN iguales entre sí, y que con las primeras rectas contienen ángulos respectivamente iguales, serán iguales entre sí <sup>c</sup> las perpendiculares bajadas de los puntos G, N á los planos EDF, LKM: luego los sólidos KO, DH tendrán una misma altura: es así que los paralelepípedos, que tienen iguales bases, y una misma altura, son iguales entre sí <sup>d</sup>: luego el sólido KO será igual al DH: pero KO está formado por las tres líneas A, B, C, y el sólido DH por la B. Por consiguiente si tres, &c. L. Q. D. D.

### PROP. XXXVII. TEOR.

**S**I quatro rectas son proporcionales; lo serán tambien los paralelepípedos semejantes, y semejantemente descritos sobre ellas: y si los paralelepípedos semejantes, y semejantemente descritos sobre quatro rectas son proporcionales; tambien lo serán las quatro rectas.

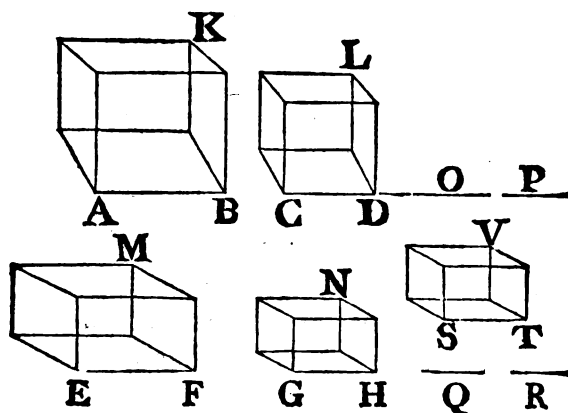
Q

Sean

## 242 ELEMENTOS DE EUCLIDES.

Sean proporcionales las quatro rectas  $AB, CD, EF, GH$ , de manera, que  $AB$  sea á  $CD$ , como  $EF$  á  $GH$ ; y describanse semejantemente sobre ellas los paralelepípedos semejantes  $AK, CL, EM, GN$ . Digo, que  $AK$  será á  $CL$ , como  $EM$  á  $GN$ .

- a** II. VI. Háganse continuo proporcionales <sup>a</sup>  $AB, CD, O, P$ , y así mismo  $EF, GH, Q, R$ . Siendo, pues,  $AB$  á  $CD$ , como  $EF$  á  $GH$ , será también  $CD$  á  $O$ , como  $GH$  á  $Q$ ; y  $O$  á  $P$ , como  $Q$  á  $R$  <sup>b</sup>: luego por igualdad  $AB$  será á  $P$ , como  $EF$  á  $R$  <sup>c</sup>: es así que  $AB$  es á  $P$ , como <sup>d</sup> el sólido  $AK$  al  $CL$ , y  $EF$  á  $R$ , como <sup>d</sup> el sólido  $EM$  al  $GN$ : luego  $AK$  <sup>b</sup> será á  $CL$ , como el sólido  $EM$  al sólido  $GN$ .



Pero sea el sólido  $AK$  al  $CL$ , como el sólido  $EM$  al  $GN$ . Digo, que la recta  $AB$  será á la  $CD$ , como la recta  $EF$  á la  $GH$ .

- e** 27. XI. Hágase  $AB$  á  $CD$ , como  $EF$  á  $ST$ , y sobre  $ST$  describase <sup>e</sup> semejantemente el paralelepípedo  $SV$  semejante á uno de los  $EM, GN$ . Siendo, pues,  $AB$  á  $CD$ , como  $EF$  á  $ST$ , y habiéndose descrito semejantemente sobre  $AB, CD$  los paralelepípedos semejantes  $AK, CL$ , y sobre  $EF, ST$  los paralelepípedos semejantes  $EM, SV$ ; será  $AK$  á  $CL$ , como  $EM$  á  $SV$ : pero se supuso **f** 9. V.  $AK$  á  $CL$ , como  $EM$  á  $GN$ : luego el sólido  $GN$  será igual <sup>f</sup> al  $SV$ : es así que es semejante, y semejantemente colocado á él: luego los planos, que contienen estos sólidos, serán semejantes, y sus lados homólogos  $GH, ST$  iguales entre sí: siendo, pues,  $AB$  á  $CD$ , como  $EF$  á  $ST$ , y  $ST$  igual á  $GH$ , será  $AB$  á  $CD$ ,

co-

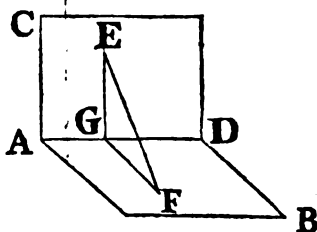
como EF á GH. Por consiguiente si quatro, &c. L. Q. D. D.

## PROP. XXXVIII. TEOR.

«SI un plano es perpendicular á otro, y de algun punto  
»tomado en uno de ellos se baxa una perpendicular  
»al otro; caerá en la comun seccion de entrambos.

»Sea el plano CD perpendicular al AB, y AD su comun seccion: y tómesese qualquier punto E en el plano CD. Digo, que la perpendicular baxada del punto E al plano AB caerá sobre AD.

»Porque á no ser así, caiga fuera, como EF, y encuentre al plano AB en el punto F, del qual á DA tírese en el plano AB la perpendicular FG<sup>a</sup>, que será perpendicular al plano CD: y tírese EG. Siendo, pues, FG perpendicular á CD, y encontrádola la recta EG, que está en el mismo plano CD, resultará el ángulo FGE recto<sup>c</sup>: es así que tambien EF es perpendicular al plano AB: luego el ángulo EFG será recto: por consiguiente dos ángulos del triángulo EFG serían iguales á dos rectos, lo qual es absurdo: luego la perpendicular baxada del punto E al plano AB no caerá fuera de la recta AD: luego caerá en ella. Por consiguiente si un plano, &c. L. Q. D. D.”



a 12. I.  
b 4. Def.  
XI.

c 3. Def.  
XI.

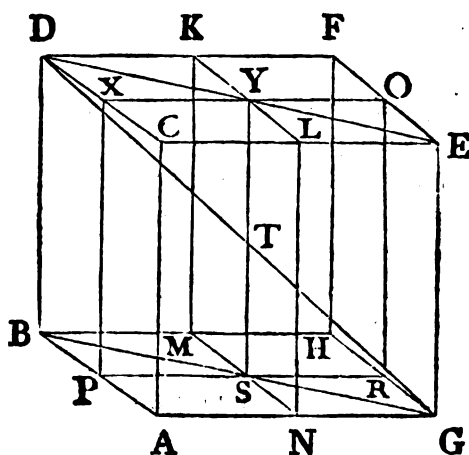
## PROP. XXXIX. TEOR.

SI cada dos lados de los planos opuestos de un paralelepípedo se dividen en dos partes iguales, y por las secciones se tiran planos; la comun seccion de los planos, y la diagonal del paralelepípedo mutuamente se dividirán en dos partes iguales.

Divídanse en dos partes iguales los lados de los planos opuestos

## 244 ELEMENTOS DE EUCLIDES.

- tos CF, AH del paralelepípedo AF en los puntos K, L, M, N; X, O, P, R; y tírense las líneas KL, MN, XO, PR. Siendo
- <sup>a</sup> 33. I. DK, CL iguales, y paralelas, KL, DC serán paralelas <sup>a</sup>: por la misma razón serán paralelas MN, BA: pero BA es paralela á DC: luego siendo, pues, las dos KL, BA paralelas á DC, y no estando en el mismo plano que ella; será también KL paralela <sup>b</sup> á BA: y siendo las dos KL, MN paralelas á BA, y no estando en el mismo plano que ella, será KL paralela <sup>b</sup> á MN: consiguientemente KL, MN estarán en un plano: semejantemente se demostrará, que XO, PR están en un mismo plano. Sea YS la comun seccion de los planos KN, XR, y DG la diagonal del



paralelepípedo AF. Digo, que YS, y DG se encontrarán mutuamente, y se cortarán en dos partes iguales.

- Tírense DY, YE, BS, SG. Siendo, pues, DX paralela á OE,
- ¶ 29. I. los ángulos alternos DXY, YOE serán iguales <sup>c</sup> entre sí: y siendo DX igual á OE, y XY á YO, y conteniendo ángulos iguales, la base DY será igual á la YE, y los demás ángulos iguales entre sí <sup>d</sup>: luego el ángulo XYD será igual al OYE, y por
- <sup>e</sup> 14. I. tanto la línea DYE es recta <sup>e</sup>: por la misma razón la BSG será recta: y BS es igual á SG: y siendo CA igual, y paralela á DB, y á EG, también DB será igual, y paralela <sup>b</sup> á EG: pero las juntan las rectas DE, BG: luego DE será paralela <sup>a</sup>, é igual á BG: es así que se han tomado en las dos ciertos puntos
- D,

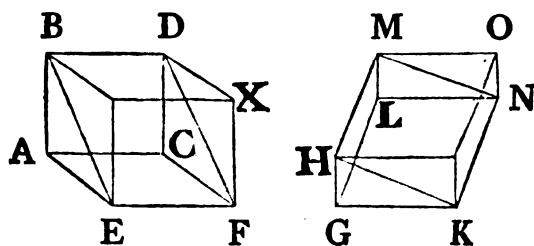


D, Y, G, S, y se han tirado DG, YS : luego DG, YS estarán en un mismo plano : por tanto es manifiesto, que se encontrarán mutuamente : encuéntrense en T. Siendo DE paralela á BG, el ángulo EDT será igual <sup>f</sup> al BGT, por ser alternos : pero <sup>f</sup> 29. I. el ángulo DTY es igual <sup>g</sup> al GTS : luego DTY, GTS son dos <sup>g</sup> 15. I. triángulos, que tienen dos ángulos iguales á dos ángulos, y un lado igual á otro opuesto á uno de los ángulos iguales, es á saber DY igual á GS ; por ser mitades de DE, BG : luego tendrán tambien iguales entre sí <sup>h</sup> los demás lados : luego DT será igual <sup>h</sup> 26. I. á TG, y YT á TS. Por consiguiente si los lados, &c. L. Q. D. D.

## PROP. XL. TEOR.

**D**OS prismas triangulares de igual altura, uno de los cuales tenga por base un paralelogramo, y el otro un triángulo, siendo el paralelogramo duplo del triángulo, serán iguales entre sí.

Sean de igual altura los prismas ABCDEF, GHKLMN ; el primero contenido por los dos triángulos ABE, CDF, y por los tres paralelogramos AD, DE, EC ; y el segundo contenido por los dos triángulos GHK, LMN, y los tres paralelogramos LH, HN, NG, y tenga el uno por base al paralelogramo AF, y el



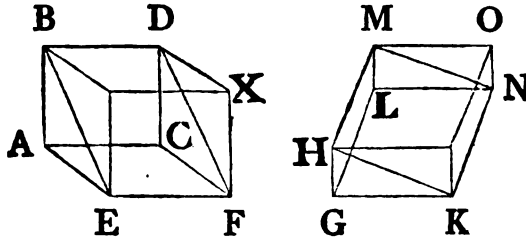
otro al triángulo GHK, siendo el paralelogramo AF duplo del triángulo GHK. Digo, que el prisma ABCDEF será igual al prisma GHKLMN.

Complétense los sólidos AX, GO. Siendo el paralelogramo AF duplo del triángulo GHK, y el paralelogramo HK duplo <sup>a</sup> 34. I.

Q 3 del

246 ELEMENTOS DE EUCLIDES.

del triángulo GHK, será el paralelogramo AF igual al HK: es así que los paralelepípedos, que tienen iguales bases, y la misma altura, son iguales entre sí <sup>b</sup>: luego el sólido AX será igual



al sólido GO: pero el prisma ABCDEF es la mitad del sólido AX; y el prisma GHKLMN la mitad <sup>c</sup> del sólido GO: luego el prisma ABCDEF será igual al GHKLMN. Por consiguiente dos prismas, &c. L. Q. D. D.

ELE-

# ELEMENTOS DE EUCLIDES.

## LIBRO DUODECIMO.

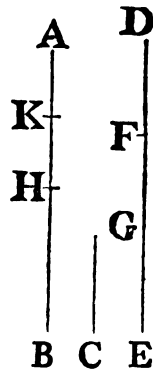
### LEMA I.

(Necesario para algunas Proposiciones de este Libro ; y es la Proposicion I. del Libro X.)

**S**I de la mayor de dos cantidades desiguales dadas se quita una parte mayor que su mitad, y del residuo se quita tambien otra parte mayor que su mitad ; continuando siempre la misma operacion, llegará á resultar una parte menor que la cantidad menor propuesta.

Sean las dos cantidades desiguales dadas  $AB$ ,  $C$ , siendo  $AB$  la mayor. Digo, que si de ellas se quita una parte mayor que la mitad, de su residuo otra parte mayor que la mitad, y se prosigue la misma operacion, llegará al fin á resultar una parte menor que la cantidad  $C$ .

Porque  $C$  multiplicada llegará á ser mayor que  $AB$  : multiplíquese, y sea  $DE$  múltiplice de  $C$ , y mayor que  $AB$  : divídase  $DE$  en partes  $DF$ ,  $FG$ ,  $GE$  iguales á  $C$ , y de  $AB$  quítese una parte  $BH$  mayor que la mitad, y de  $AH$  una parte  $HK$  mayor que la mitad, y continúese la misma operacion, hasta que el número de divisiones de  $AB$  llegue á igualar al número de divisiones de  $DE$ . Sea, pues, el número de

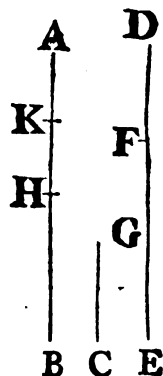


Q 4

de

## 248 ELEMENTOS DE EUCLIDES.

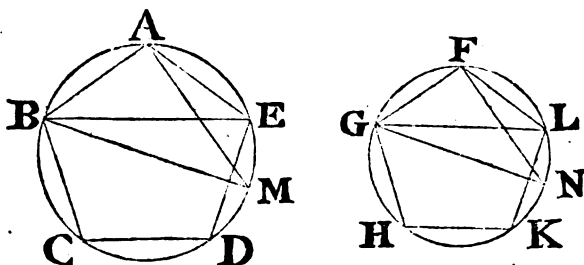
de divisiones AK, KH, HB igual al número de divisiones DF, FG, GE. Siendo DE mayor que AB, y habiéndose quitado de DE la parte EG menor que la mitad DG, y de AB la parte BH mayor que la mitad AB, será GD restante mayor que la restante HA. Además, siendo GD mayor que HA, y habiéndose quitado de GD la mitad GF, y de HA mas de la mitad HK: la FD restante será mayor que la AK restante: es así que FD es igual á C: luego C será mayor que AK: luego AK menor que C. Por consiguiente de la cantidad AB queda la parte AK menor que la cantidad menor propuesta C. L. Q. D. D.



### PROP. I. TEOR.

**L**OS polígonos semejantes inscritos en círculos son entre sí como los cuadrados de sus diámetros.

Sean los círculos ABCDE, FGHLK, y en ellos inscritos los polígonos semejantes ABCDE, FGHLK; y sean BM, GN los diámetros de los círculos. Digo, que el polígono ABCDE será al polígono FGHLK, como el cuadrado de BM al de GN.



Tírense BE, AM, GL, FN. Siendo el polígono ABCDE semejante al polígono FGHLK, será el ángulo BAE igual <sup>a</sup> al GFL, y BA á AE, como GF á FL: luego BAE, GFL son dos triángulos, que tienen un ángulo del uno igual á un ángulo del otro, esto es el BAE

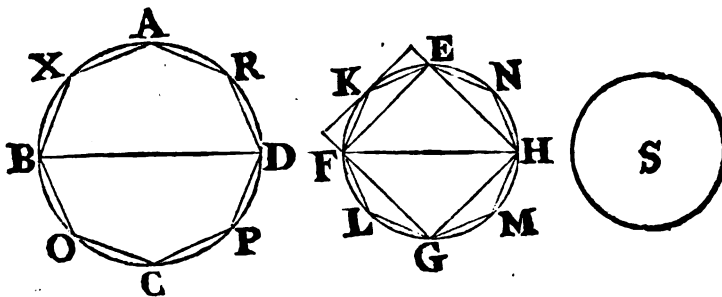
BAE al GFL, y proporcionales los lados, que contienen estos ángulos: por consiguiente el triángulo ABE será equiángulo <sup>b</sup> al triángulo GFL, y por tanto el ángulo AEB será igual <sup>c</sup> al ángulo FLG: pero el ángulo AEB es igual al AMB, por insistir ambos en un mismo arco; y el ángulo FLG es igual al FNG <sup>c</sup>: luego el ángulo AMB será también igual al ángulo FNG: pero el recto BAM es igual al recto GFN <sup>d</sup>: consiguientemente los demás ángulos serán iguales entre sí: luego el triángulo ABM será equiángulo al triángulo FGN: luego BM será á GN, como <sup>e</sup> BA á GF: y la razón duplicada de BM á GN será igual <sup>f</sup> á la razón duplicada de la razón de BA á GF: es así que la razón duplicada de BM á GN es la razón del cuadrado de BM al de GN <sup>g</sup>; y la razón duplicada de BA á GF es la razón del polígono ABCDE al polígono FGHKL <sup>g</sup>: luego el polígono ABCDE será al FGHKL, como el cuadrado de BM al de GN. Por consiguiente los polígonos, &c. L. Q. D. D.

b 6. VI.  
c 21. III.  
d 31. III.  
e 4. VI.  
f 10. Def.  
V. y 22.  
V.  
g 20. VI.

PROP. II. TEOR.

**L**OS círculos están entre sí en la razón de los cuadrados de sus diámetros.

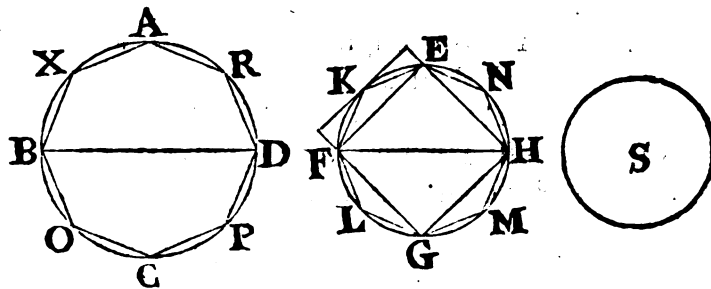
Sean los círculos ABCD, EFGH; y BD, FH sus diámetros. Digo, que el círculo ABCD será al círculo EFGH, como el cuadrado de BD al de FH.



Pues á no ser así, el cuadrado de BD sería al de FH, como el círculo ABCD á un espacio menor, ó mayor que el círculo EFGH.

EFGH. \* Sea primeramente á uno menor S; é inscribábase en el círculo EFGH el quadrado EFGH, el qual así descrito será mayor que la mitad del mismo círculo, pues si se tiran por los puntos E, F, G, H tangentes al círculo, resultará, que el quadrado

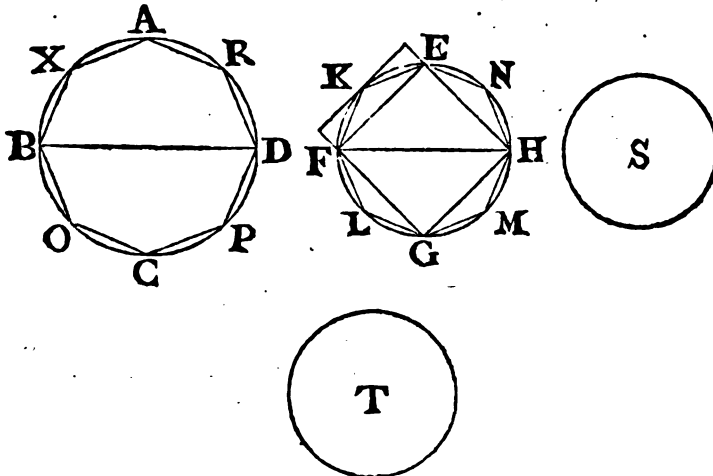
41. I. EFGH <sup>2</sup> es la mitad del quadrado circunscrito al círculo: pero el círculo es menor que el quadrado circunscrito á él: luego el quadrado EFGH será mayor que la mitad del círculo EFGH: córtense en dos partes iguales los arcos EF, FG, GH, HE en los puntos K, L, M, N, y tírense las líneas rectas EK, KF, FL, LG, GM, MH, HN, NE: qualquiera de los triángulos EKF, FLG, GMH, HNE:



GMH, HNE será mayor que la mitad del segmento del círculo, en que se halla; pues tiradas tangentes al círculo por los puntos K, L, M, N, y completados los paralelogramos formados sobre las rectas EF, FG, GH, HE, resultará cada uno de los triángulos EKF, FLG, GMH, HNE la mitad de su paralelogramo <sup>2</sup>: es así que el segmento es menor que el paralelogramo: consiguientemente qualquiera de los triángulos EKF, FLG, GMH, HNE será mayor que la mitad del segmento del círculo, en que se halla: luego cortando en dos partes iguales estos arcos, tirando rectas, y prosiguiendo siempre la misma operacion, resultarán al fin ciertos segmentos de círculo menores que el exceso del círculo EFGH sobre el espacio S; pues queda demostrado en el Lema anterior, que si de la mayor de dos cantidades desiguales da-

\* Hay algun cierto quadrado igual al círculo ABCD: sea su lado P: luego podrá haber una quarta proporcional á las tres BD, FH, y P, que sea Q: luego los quadrados de estas serán proporcionales; esto es á los quadrados de BD, FH, y al círculo ABCD puede haber una quarta proporcional, que sea S: semejantemente se demostrarán ciertas cosas en las siguientes Proposiciones.

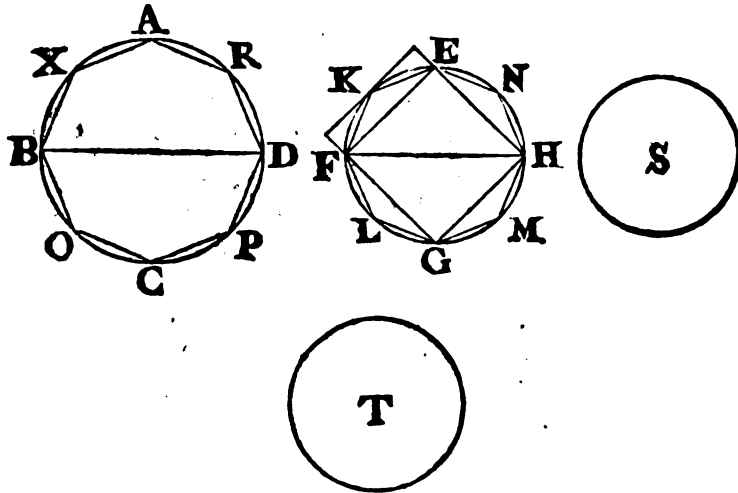
dadas se quita una parte mayor que su mitad, y del residuo se quita tambien otra parte mayor que su mitad, continuando siempre la misma operacion, llega á resultar una parte menor que la cantidad menor propuesta. Queden, pues, los segmentos EK, KF, FL, LG, GM, MH, HN, NE menores que el exceso del círculo EFGH sobre el espacio S: luego el polígono restante EKFLGMHN será mayor que el espacio S. Descríbase tambien en el círculo ABCD el polígono AXBOCPDR semejante al polígono EKFLGMHN: luego aquel polígono será <sup>b</sup> á este, como el <sup>b</sup> 11. XII. cuadrado de BD al de FH: pero el círculo ABCD es al espacio S, como el cuadrado de BD al de FH: luego el círculo ABCD será al espacio S, como <sup>c</sup> el polígono AXBOCPDR al polígono <sup>c</sup> 11. V. EKFLGMHN: es así que el círculo ABCD es mayor que el polígono inscrito en él: consiguientemente el espacio S sería mayor que el polígono EKFLGMHN <sup>d</sup>; lo qual es imposible, pues <sup>d</sup> 14. V. se ha demostrado ser menor: luego el cuadrado de BD no será al de FH, como el círculo ABCD á un espacio menor que el círculo EFGH; de la misma manera se demostrará, que tampoco el cuadrado de FH es al de BD, como el círculo EFGH á un espacio menor que el círculo ABCD. Añado, que el cuadrado de BD no será al de FH, como el círculo ABCD á algun espacio mayor que el círculo EFGH: porque si fuera posible, séalo



al espacio mayor T, é invirtiendo será el cuadrado de FH al de BD,

252 ELEMENTOS DE EUCLIDES.

BD, como el espacio T al círculo ABCD: pero el espacio † T es al círculo ABCD, como el círculo EFGH á un espacio menor que el círculo ABCD d, por ser el espacio T mayor que el círculo EFGH: luego el quadrado de FH será al de BD, como el círculo EFGH á algun espacio menor que el círculo ABCD;



La imposibilidad de lo qual se demostró antes: luego el quadrado de AB no será al de FH, como el círculo ABCD á algun espacio mayor que el círculo EFGH: pero se ha demostrado, que tampoco lo será á algun espacio menor: luego el círculo ABCD será al ‡ círculo EFGH, como el quadrado de BD al de FH. Por consiguiente los círculos, &c. L. Q. D. D.

† En la Nota anterior \* se demostró, que puede haber una quarta proporcional á los quadrados de BD, FH, y al círculo ABCD, la qual sea S; y que del mismo modo puede haber una quarta proporcional al espacio T, y á los círculos ABCD, EFGH. En el mismo sentido se debe entender lo que ocurriere semejante en algunas de las siguientes Propositiones.

‡ Porque puede haber una quarta proporcional á los quadrados de BD, FH, y al círculo ABCD; la qual no puede ser mayor, ni menor que el círculo EFGH, como se demostró: luego será necesariamente igual á dicho círculo.

PROP.



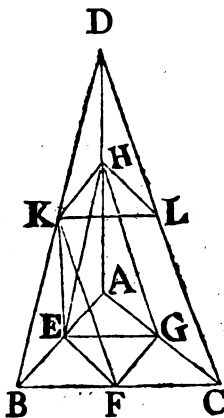
## PROP. III. TEOR.

**T**ODA pirámide de base triangular se divide en dos pirámides semejantes á la total, é iguales, y semejantes entre sí, las cuales tienen bases triangulares; y en dos prismas mayores que la mitad de toda la pirámide.

Sea una pirámide, que tenga por base el triángulo ABC, y por vértice el punto D. Digo, que la pirámide ABCD se dividirá en dos pirámides iguales, semejantes entre sí, y á la total, que tendrán las bases triangulares; y en dos prismas mayores que la mitad de toda la pirámide.

Córtense en dos partes iguales en los puntos E, F, G, H, K, L los lados AB, BC, CA, AD, DB, DC, y tírense las líneas EH, EG, GH, HK, KL, LH, EK, KF, FG. Siendo, pues, AE igual á EB, y AH á HD, será HE paralela <sup>a</sup> á DB: por la misma razon HK será paralela á AB: luego la figura HEBK será un paralelogramo; consiguientemente HK será igual <sup>b</sup> á EB: es así que EB es igual á AE: luego AE será igual á HK: tambien AH es igual á HD: luego las dos EA, AH serán respectivamente iguales á los dos KH, HD, y el ángulo EAH igual <sup>c</sup> al KHD: luego la base EH será igual á la KD, y el triángulo AEH igual <sup>d</sup>, y semejante al triángulo HKD.

Por la misma razon el triángulo AGH será igual, y semejante al triángulo HLD; y siendo las dos rectas EH, HG, que se tocan, paralelas á las dos rectas KD, DL, que se tocan, y no estando en el mismo plano, contendrán ángulos iguales <sup>e</sup>: luego el ángulo EHF será igual al KDL. Ademas, siendo las dos rectas EH, HG respectivamente iguales á las dos KD, DL, y el ángulo EHG igual al KDL, será la base EG igual á la KL, y el triángulo EHG igual <sup>d</sup>, y semejante al triángulo KDL. Por la misma razon el triángulo AEG será igual, y semejante al trián-



a 2. VI.

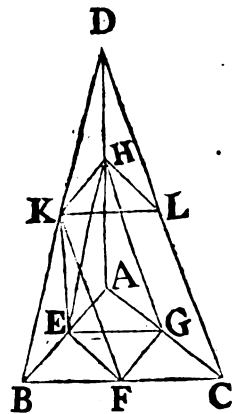
b 34. I.

c 29. I.

d 4. I.

e 10. XI.

gulo HKL : consiguientemente la pirámide, cuya base es el triángulo AEG, y vértice el punto H, será igual, y semejante á la pirámide, cuya base es el triángulo KHL, y vértice el punto D <sup>f</sup>: y respecto de haberse tirado HK paralela al lado AB del triángulo ADB, este será equiángulo al triángulo HDK ; consiguientemente tendrán los lados proporcionales <sup>g</sup> : luego el triángulo ADB será semejante al HDK, y por la misma razon el triángulo DBC semejante al DKL ; el ADC al HDL ; y asimismo el ABC al AEG : es así que se demostró ser el triángulo AEG semejante al triángulo HKL : luego tambien será semejante <sup>h</sup> á HKL el triángulo ABC. Ultimamente, la pirámide, cuya base es el triángulo ABC, y vértice el punto D, será semejante á la pirámide, cuya base es el triángulo HKL, y vértice el punto D <sup>i</sup>: pero ya se demostró ser semejante la pirámide, que tiene por base el triángulo HKL, y vértice el punto D á la pirámide, que tiene por base el triángulo AEG, y vértice al punto H: consiguientemente la pirámide, cuya base es el triángulo ABC, y vértice el punto D, será semejante á la que tiene por base el triángulo AEG, y por vértice el punto H: luego ambas pirámides AEGH, HKLD serán semejantes á la pirámide total ABCD : y siendo BF igual á FC, el paralelogramo EBFG será duplo <sup>k</sup> del triángulo GFC ; y respecto, que si de dos prismas de igual altura uno tiene por base un paralelogramo, y otro un triángulo, siendo aquel duplo de este, los prismas son iguales entre sí <sup>l</sup> : resultará el prisma, cuya base es el paralelogramo EBFG, y la recta HK opuesta á él, igual al prisma, cuya base es el triángulo FGC, y el triángulo HKL opuesto á él ; pues son de igual altura, por estar entre los planos paralelos <sup>m</sup> ABC, HKL. Es manifiesto, que ambos prismas, así el que tiene por base el paralelogramo EBFG, y la recta HK opuesta á él, como el que tiene por base el triángulo GFC, y el triángulo HKL opuesto á él, son mayores que las dos pirámides, cuyas bases son los triángulos AEG, HKL, y vértices los puntos H, D ; porque tirada la recta EF, el prisma, cuya base es el paralelogramo EBFG, y la



la recta HK opuesta á él, será mayor que la pirámide, cuya base es el triángulo EBF, y vértice el punto K: pero esta es igual <sup>n</sup> n C. XI. á la pirámide, que tiene por base el triángulo AEG, y por vértice el punto H; por estar contenidas de planos iguales, y semejantes: consiguientemente el prisma, que tiene por base el paralelogramo ECFG, y la recta HK opuesta á él, será mayor que la pirámide, que tiene por base el triángulo AEG, y vértice el punto H: es así que el prisma, cuya base es el paralelogramo ECFG, y la recta HK opuesta á él, es igual al prisma, cuya base es el triángulo GFC, y el triángulo HKL opuesto á él; y la pirámide, cuya base es el triángulo AEG, y vértice el punto H, es igual á la que tiene por base el triángulo HKL, y por vértice D: luego los dos prismas mencionados serán mayores que las dos pirámides propuestas, cuyas bases son los triángulos AEG, HKL, y vértices los puntos H, D: luego la pirámide total, cuya base es el triángulo ABC, se ha dividido en dos pirámides entre sí iguales, y semejantes; y semejantes á la total; y en dos prismas iguales mayores que la mitad de toda la pirámide. L. Q. D. D.

## PROP. IV. TEOR.

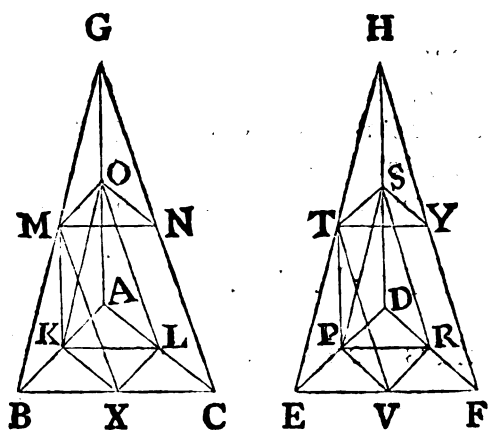
**S**I dos pirámides de iguales alturas, y de bases triangulares se dividen cada una en dos pirámides iguales entre sí, y semejantes á la total, y en dos prismas iguales; y las pirámides, que resultaren, se subdividen del mismo modo; prosiguiendo la subdivision en todas las pirámides resultantes hasta donde se quiera; será la base de una pirámide á la base de la otra, como la suma de todos los prismas de la una pirámide á la suma de todos los prismas de la otra.

Sean dos pirámides de igual altura, que tengan las bases triangulares ABC, DEF, y por vértices los puntos G, H; divídanse ambas en dos pirámides iguales entre sí, y semejantes á la total, como asimismo en dos prismas iguales: supónganse divi-  
di-

## 256 ELEMENTOS DE EUCLIDES.

didadas de la misma suerte las dos pirámides resultantes en cada una, y continuada siempre la misma operación hasta donde se quiera. Digo, que la base ABC será á la base DEF, como la suma de todos los prismas de la pirámide ABCG á la de los prismas de la pirámide DEFH.

a 2. VI. Supóngase la misma construcción precedente. Siendo BX igual á XC, y AL á LC, será XL paralela á AB, y el triángulo ABC semejante al triángulo LXC: por la misma razón el triángulo DEF será semejante al triángulo RVF: y por ser BC dupla de CX, y EF dupla de FV, será BC á CX, como EF á FV: es así que sobre BC, CX se han descrito semejantemente



las figuras rectilíneas semejantes ABC, LXC; y sobre EF, FV se han descrito semejantemente las figuras rectilíneas semejantes  
b 22. VI. DEF, RVF: luego el triángulo ABC será al LXC, como b el DEF al RVF; y alternando el triángulo ABC será al DEF, como el LXC al RVF. Siendo, pues, paralelos los planos ABC,  
c 15. XI. OMN c, como también los DEF, STY c, las perpendiculares tiradas de los puntos G, H á las bases ABC, DEF, que son igual  
d 17. XI. les entre sí, quedarán divididas d en dos partes iguales por los planos OMN, STY; pues las rectas GC, HF están cortadas en dos partes iguales por los mismos planos en los puntos N, Y: luego los prismas LXCOMN, RVFSTY serán de igual altura; y por tanto la base LXC á la base RVF, esto es el triángulo-

gulo ABC al triángulo DEF, como el prisma, cuya base es el triángulo LXC, y su opuesto OMN, al prisma, cuya base es el triángulo RVF, y su opuesto STY <sup>e</sup>: y siendo los dos prismas, que están en la pirámide ABCG, iguales entre sí; como también los dos, que están en la pirámide DEFH, será el prisma <sup>f</sup>, <sup>f</sup> 7. V. cuya base es el paralelogramo KBXL, y su opuesta la recta MO, al prisma, cuya base es el triángulo LXC, y su opuesta OMN, como el prisma, cuya base es el paralelogramo PEVR, y su opuesta la recta TS, al prisma, cuya base es el triángulo RVF, y su opuesto el triángulo STY: por consiguiente componiendo, los prismas KBXLMO, LXCOMN serán al prisma LXCOMN, como los prismas PEVRTS, RVFSTY al prisma RVFSTY; y permutando, serán los prismas KBXLMO, LXCOMN á los prismas PEVRTS, RVFSTY, como el prisma LXCOMN al prisma RVFSTY: es así que se ha demostrado ser el prisma LXCOMN al RVFSTY, como la base ABC á la DEF: luego la base ABC será á la DEF, como los dos prismas, que están en la pirámide ABCG, á los dos prismas, que están en la pirámide DEFH. Semejantemente si se dividen del mismo modo las pirámides resultantes, será OMNG á STYH, como la base OMN á la STY, como los dos prismas, que están en la pirámide OMNG, á los dos, que están en la pirámide STYH: pero la base OMN es á la STY, como la base ABC á la DEF: luego la base ABC será á la DEF, como los dos prismas, que están en la pirámide ABCG, á los dos, que están en la pirámide DEFH, y los dos, que están en la pirámide OMNG, á los dos, que están en la STYH; y los cuatro á los cuatro. Lo mismo se demostrará en los prismas formados de la division de los pirámides AKLO, DPRS, y de todos los iguales en número. L. Q. D. D.

R

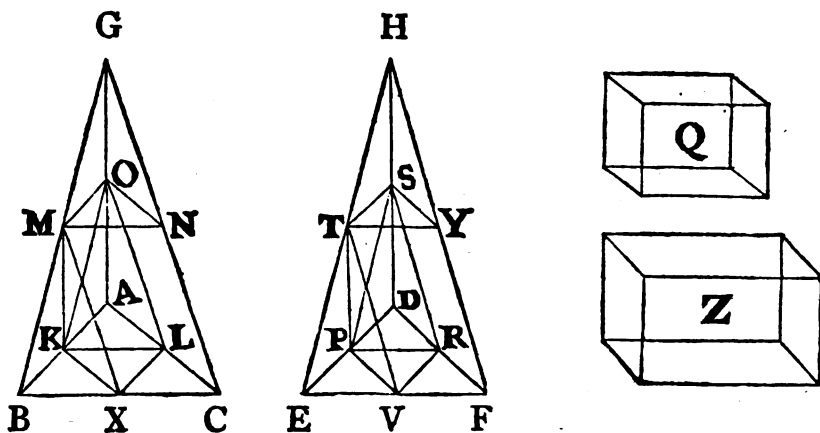
PROP.

PROP. V. TEOR.

**L**AS pirámides de una misma altura, y de bases triangulares son entre sí, como sus bases.

Sean de la misma altura las pirámides, cuyas bases son los triángulos ABC, DEF, y vértices los puntos G, H. Digo, que la pirámide ABCG será á la pirámide DEFH, como la base ABC á la base DEF.

Porque á no ser así, sería la base ABC á la DEF, como la pirámide ABCG á un sólido mayor \*, ó menor que la pirámide DEFH. Séalo primeramente á un sólido menor Q; y divídase la pirámide DEFH en dos pirámides entre sí iguales, y semejan-



tes á la total, y en dos prismas iguales: luego los dos prismas serán mayores <sup>a</sup> que la mitad de toda la pirámide: además, divídase semejantemente las pirámides resultantes de la division, y prosígase haciendo lo mismo, hasta que queden ciertas pirámides en la DEFH menores que su exceso sobre el sólido Q. Sean por exemplo las pirámides DPRS, STYH; serán los prismas restantes en la pirámide DEFH mayores que el sólido Q. Divídase tambien la

\* Esto se puede demostrar como en la Proposicion II. á la nota \*.

la pirámide ABCH semejantemente, y en tantas partes, como la pirámide DEFH: luego la base ABC será á la DEF, como <sup>b</sup> los <sup>b</sup> 4. XII. prismas de la pirámide ABCG á los de la DEFH: es así que la base ABC es á la DEF, como la pirámide ABCG al sólido Q: luego la pirámide ABCG será al sólido Q, como los prismas de la pirámide ABCG á los de la DEFH: pero la pirámide ABCG es mayor que sus prismas: luego tambien el sólido Q será mayor <sup>c</sup> que los prismas de la pirámide DEFH; lo <sup>c</sup> 14. V. que es imposible, pues se ha supuesto menor: luego la base ABC no será á la DEF, como la pirámide ABCG á algun sólido menor que la pirámide DEFH. Del mismo modo se demuestra, que tampoco es la base DEF á la ABC, como la pirámide DEFH á algun sólido menor que la pirámide ABCG. Añado, que tampoco la base ABC será á la DEF, como la pirámide ABCG á algun sólido mayor que la pirámide DEFH: porque si fuese posible, séalo á alguno mayor Z: luego invirtiendo, será la base DEF á la ABC, como el sólido Z á la pirámide ABCG, y el sólido Z á la pirámide ABCG, como <sup>c</sup> la pirámide DEFH á algun sólido † menor que la pirámide ABCG, por ser el sólido Z mayor que la pirámide DEFH: luego la base DEF será á la ABC, como la pirámide DEFH á algun sólido menor que la pirámide ABCG; lo qual es absurdo: luego la base ABC no será á la DEF, como la pirámide ABCG á algun sólido menor que la pirámide DEFH: es así que ya se demostró, que tampoco lo es á alguno menor: luego la pirámide ABCG será á la DEFH, como la base ABC á la DEF. Por consiguiente las pirámides, &c. L. Q. D. D.

## PROP. VI. TEOR.

**L**AS pirámides de una misma altura, y de bases polígonas tienen entre sí la razon de sus bases.

Sean de la misma altura las pirámides, que tengan las bases.

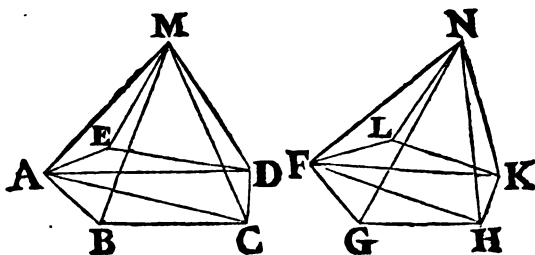
R 2

po-

† Esto se demostrará, como en la Proposicion II. en la Nota †.

polígonas ABCDE, FGHLK, y por vértices los puntos M, N. Digo, que la pirámide ABCDEM será á la pirámide FGHLKN; como la base ABCDE á la base FGHLK.

Divídase la base ABCDE en los triángulos ABC, ACD, ADE; y la base FGHLK en los triángulos FGH, FHK, FKL: y concíbense sobre cada triángulo ABC, ACD, ADE pirámides, cuyo vértice comun sea el punto M; y sobre los triángulos FGH, FHK, FKL pirámides, cuyo vértice comun sea el punto N. Siendo, pues, el triángulo ABC al FGH, como <sup>a</sup> la pirámide ABCM á la FGHN, el triángulo ACD al FGH, como la pirámide



ACDM á la FGHN, y el triángulo ADE al FGH, como la pirámide ADEM á la FGHN; será la suma de todos los primeros <sup>b</sup> 2. Cor. 24. V. antecedentes al conseqüente comun, como <sup>b</sup> la suma de todos los demás antecedentes al conseqüente comun: esto es la base ABCDE á la FGH, como la pirámide ABCDEM á la FGHN; y por la misma razon la base FGHLK á la FGH, como la pirámide FGHLKN á la FGHN, é invirtiendo. Siendo, pues, la base ABCDE á la FGH, como la pirámide ABCDEM á la FGHN, y la base FGH á la FGHLK, como la pirámide FGHN á la FGHLKN, <sup>c</sup> 22. V. será por igualdad <sup>c</sup> la base ABCDE á la FGHLK, como la pirámide ABCDEM á la FGHLKN. Por consiguiente las pirámides, &c. L. Q. D. D.

PROP. VII. TEOR.

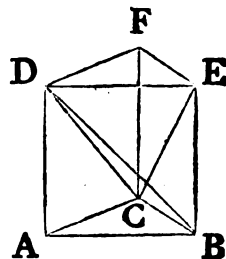
**L**OS prismas de base triangular se dividen en tres pirámides iguales entre sí, que tienen bases triangulares.

Sea



Sea un prisma, que tenga por base el triángulo ABC, y DEF su opuesto. Digo, que el prisma ABCDEF se dividirá en tres pirámides entre sí iguales, que tengan bases triangulares.

Tírense las líneas BD, EC, CD. Siendo la figura ABED un paralelogramo, cuya diagonal es BD, el triángulo ABD será igual <sup>a</sup> al triángulo EBD: luego la pirámide, cuya base es <sup>a</sup> 34. I. el triángulo ABD, y vértice el punto C, será igual <sup>b</sup> á la pi- <sup>b</sup> 5. XII. rámide, que tiene por base el triángulo EBD, y por vértice C: pero esta última pirámide es la misma que la que tiene por base el triángulo EBC, y por vértice D; pues se halla contenida por los mismos planos: luego también la pirámide, que tiene por base el triángulo ABD, y por vértice C, será igual á la que tiene por base el triángulo EBC, y por vértice D. Además de esto, siendo la figura FCBE un paralelogramo, cuya diagonal es CE; el triángulo ECF será igual <sup>a</sup> al ECB: luego también la pirámide, que tiene por base al triángulo ECB, y por vértice D, será igual á la que tiene por base el triángulo ECF, y por vértice D: es así que ya se demostró la igualdad de la pirámide, que tiene por base al triángulo ECB, y por vértice D, á la que tiene por base al triángulo ABD; y por vértice C: consiguientemente la pirámide, cuya base es el triángulo ECF, y vértice el punto D, será igual á la que tiene por base el triángulo ABD, y vértice el punto C: luego el prisma ABCDEF se divide en tres pirámides entre sí iguales, y que tienen bases triangulares; es á saber en las ABDC, EBDC, ECFD. Siendo la pirámide, que tiene por base el triángulo ABD, y por vértice C, la misma que la que tiene por base el triángulo ABC, y por vértice D, pues están contenidas por los mismos planos; y haberse ya demostrado, que la pirámide, cuya base es el triángulo ABD, y vértice C, es la tercera parte del prisma, cuya base es el triángulo ABC, y su opuesto DEF; también la pirámide, cuya base es el triángulo ABC, y vértice D, será la tercera parte del prisma, que tiene la misma base; es á saber el triángulo ABC, y su opuesto DEF. L. Q. D. D.



R 3

COR.

COR. 1. De aquí se infiere, que toda pirámide es la tercera parte del prisma, que tiene la misma base, é igual altura; porque si la base del prisma tuviera qualquiera otra figura rectilínea, podria dividirse en otros prismas de bases triangulares.

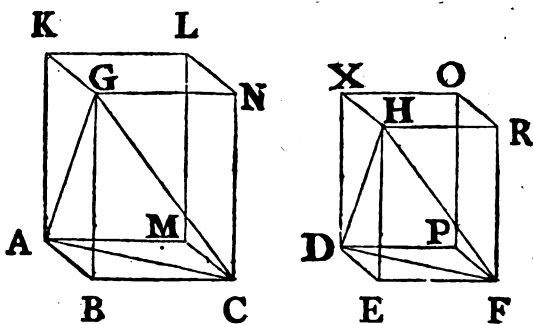
COR. 2. Los prismas de igual altura son entre sí como sus bases: pues las pirámides, que tienen las mismas bases, y alturas, son entre sí como sus bases.

PROP. VIII. TEOR.

**L**AS pirámides semejantes de bases triangulares están en la razon triplicada de sus lados homólogos.

Sean semejantes, y semejantemente colocadas las pirámides, que tienen por bases los triángulos ABC, DEF, y por vértices los puntos G, H. Digo, que la pirámide ABCG estará á la DEFH en la razon triplicada de la del lado BC al lado homólogo EF.

Complétense los paralelogramos ABCM, GBCN, ABGK, y el paralelepípedo BGML contenido por estos planos, y sus opues-



tos: complétese igualmente el paralelepípedo EHPO contenido por los tres paralelogramos DEFP, HEFR, DEHX, y por sus opuestos; y siendo la pirámide ABCG semejante á la DEFH, el ángulo ABC será igual <sup>a</sup> al DEF, el GBC al HEF, y el ABG al DEH: pero AB es á BC, como <sup>b</sup> DE á EF; pues los lados, que contienen ángulos iguales, son proporcionales: luego el paralelogramo BM será semejante al EP: por la mis-

<sup>a</sup> II. Def. XI.  
<sup>b</sup> I. Def. VI.

misma razon el paralelogramo  $BN$  es semejante al  $ER$ , y el  $BK$  al  $EX$ : luego los tres paralelogramos  $BM$ ,  $BN$ ,  $BK$  son semejantes á los tres  $EP$ ,  $ER$ ,  $EX$ : es así que los tres  $BM$ ,  $BN$ ,  $BK$  son iguales, y semejantes <sup>c</sup> á sus tres opuestos; y los tres <sup>c 24. XI.</sup>  $EP$ ,  $ER$ ,  $EX$ , iguales, y semejantes á sus opuestos: luego los sólidos  $BGML$ ,  $EHPO$  están contenidos por igual número de planos semejantes; y tienen iguales <sup>d</sup> los ángulos sólidos; por <sup>d B. XI.</sup> consiguiente el sólido  $BGML$  será semejante al  $EHPO$  <sup>e</sup>: es así <sup>e 11. Def. XI.</sup> que los paralelepípedos semejantes están entre sí en la razon triplicada de los lados homólogos <sup>f</sup>: luego la razon del sólido <sup>f 33. XI.</sup>  $BGML$  al  $EHPO$  será triplicada de la que el lado homólogo  $BC$  tiene al lado homólogo  $EF$ : pero el sólido  $BGML$  es al  $EHPO$ , como <sup>g</sup> la pirámide  $ABCG$  á la  $DEFH$ : pues la pirá- <sup>g 15. V.</sup> mide es la sexta parte del sólido; por ser el prisma, que es la mitad del paralelepípedo <sup>h</sup>, triplo de la pirámide <sup>i</sup>. Por consi- <sup>h 28. XI.</sup> guiente la pirámide  $ABCG$  tendrá á la  $DEFH$  razon triplicada <sup>i 7. XII.</sup> de la que  $BC$  tiene á  $EF$ . L. Q. D. D.

**COR.** De aquí se deduce claramente, que las pirámides semejantes, que tienen bases polígonas, están también entre sí en la razon triplicada de los lados homólogos: porque divididas en pirámides de bases triangulares, quedan divididos los polígonos semejantes, que están en las bases, en igual número de triángulos semejantes, y homólogos á los todos; será una de las pirámides de base triangular en la primera pirámide á una pirámide de base triangular, y semejante en la segunda, como la suma de todas las pirámides de bases triangulares en la primera á la suma de todas las pirámides de bases triangulares en la segunda; esto es como la primera pirámide de base polígona á la segunda de base polígona: es así que las pirámides semejantes de bases triangulares están en la razon triplicada de sus lados homólogos: luego las pirámides semejantes de bases polígonas tendrán entre sí la razon triplicada de sus lados homólogos.

## PROP. IX. TEOR.

**L**AS pirámides iguales de bases triangulares, tienen sus bases recíprocamente proporcionales á sus alturas: y las pirámides de bases triangulares, que tienen las bases recíprocamente proporcionales á sus alturas, son iguales entre sí.

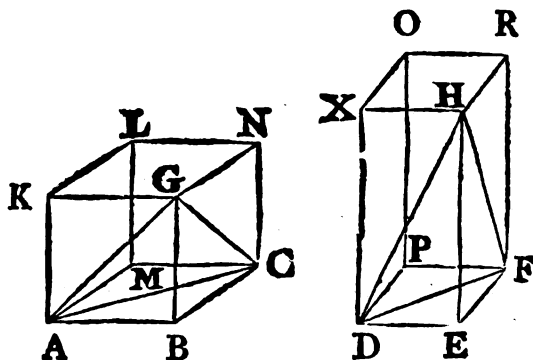
Sean dos pirámides iguales, que tengan las bases triangulares  $ABC$ ,  $DEF$ , y cuyos vértices sean los puntos  $G$ ,  $H$ . Digo, que las bases, y alturas de las pirámides  $ABCG$ ,  $DEFH$  serán recíprocamente proporcionales; esto es la base  $ABC$  á la  $DEF$ , como la altura de la pirámide  $DEFH$  á la altura de la pirámide  $ABCG$ .

Complétense los paralelogramos  $AC$ ,  $AG$ ,  $GC$ , y tambien los  $DF$ ,  $DH$ ,  $HF$ ; como asimismo los paralelepípedos  $BGML$ ,  $EHPO$  contenidos por aquellos planos, y sus opuestos: y siendo la pirámide  $ABCG$  igual á la  $DEFH$ , y el sólido  $BGML$  séxtupla de la pirámide  $ABCG$ ; como asimismo el sólido  $EHPO$  séxtuplo de la pirámide  $DEFH$ ; será el sólido  $BGML$  igual á al  $EHPO$ : es así que las bases, y alturas de paralelepípedos iguales son recíprocamente

2 1. Ax.  
V.

34. XI. proporcionales <sup>b</sup>: luego la base  $BM$  será á la  $EP$ , como la altura del sólido  $EHPO$  á la del  $BGML$ : pero la base  $BM$  es á la  $EP$ , como el triángulo  $ABC$  al  $DEF$ : luego el triángulo  $ABC$  será al  $DEF$ , como la altura del sólido  $EHPO$  á la del  $BGML$ : es así que la altura del sólido  $EHPO$  es la misma que la de la pirámide  $DEFH$ ; y la altura del sólido  $BGML$  la misma que la de la pirámide  $ABCG$ : luego la base  $ABC$  será á la  $DEF$ , como la altura de la pirámide  $DEFH$  á la de la pirámide  $ABCG$ : por

con-



consiguiente las bases, y alturas de las pirámides ABCG, DEFH serán recíprocamente proporcionales.

Pero supuesto, que las bases, y alturas de las pirámides ABCG, DEFH sean recíprocamente proporcionales, esto es la base ABC á la DEF, como la altura de la pirámide DEFH á la de la pirámide ABCG; digo, que la pirámide ABCG será igual á la DEFH.

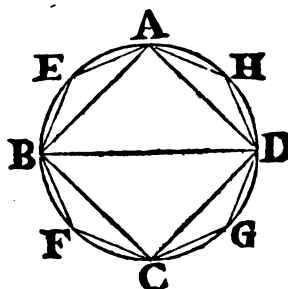
Porque supuesta la misma construccion, siendo la base ABC á la DEF, como la altura de la pirámide DEFH á la de la ABCG; y la base ABC á la DEF, como el paralelogramo BM al EP; será el paralelogramo BM al EP, como la altura de la pirámide DEFH á la de la ABCG: es así que la altura de la pirámide DEFH es la misma que la del paralelepípedo EHPO; y la altura de la pirámide ABCG la misma que la del paralelepípedo BGML: y los paralelepípedos, cuyas bases, y alturas son recíprocamente proporcionales, son iguales entre sí; luego el paralelepípedo BGML será igual al EHPO: pero la pirámide ABCG es la sexta parte del sólido BGML; y la pirámide DEFH la sexta parte del sólido EHPO: luego la pirámide ABCG será igual á la DEFH. Por consiguiente las pirámides, &c. L. Q. D. D. c 34. XI.

PROP. X. TEOR.

**T**ODO cono es la tercera parte del cilindro, que tiene la misma base, é igual altura.

Tenga el cono la misma base que el cilindro; es á saber el círculo ABCD, é igual altura. Digo, que el cono será la tercera parte del cilindro; esto es, que el cilindro será triplo del cono.

Porque á no ser así, el cilindro sería mayor, ó menor que el triplo del cono. Sea primeramente mayor, é inscribase en el círculo ABCD el quadrado ABCD: luego el quadrado ABCD será mayor que la mitad del círculo ABCD: elévese sobre el quadrado ABCD un

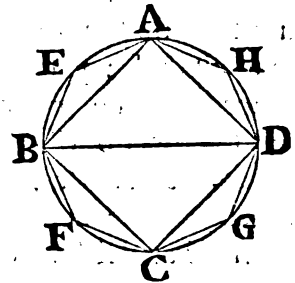


pris-

prisma de igual altura que el cilindro, el qual será mayor que la mitad del cilindro; porque circunscrito al círculo ABCD un quadrado, y elevando sobre este un prisma de igual altura á la del cilindro, el quadrado inscrito será la mitad del circunscrito: pero sobre estas bases quadradas se han elevado paralelepípedos de igual altura; es á saber los prismas: luego el prisma elevado sobre el quadrado ABCD será la mitad del prisma elevado sobre el quadrado circunscrito al círculo ABCD; por estar

a 32. XI. entre sí como sus bases <sup>a</sup>: pero el cilindro es menor que el prisma elevado sobre el quadrado circunscrito al círculo ABCD: luego el prisma elevado sobre el quadrado ABCD de igual altura á la del cilindro será mayor que la mitad de él. Córtense en dos partes iguales los arcos AB, BC, CD, DA en los puntos E, F, G, H, y tírense las líneas AE, EB, BF, FC, CG, GD, DH, HA: luego cada uno de los triángulos AEB, BFC, CGD, DHA será mayor que la mitad del segmento del círculo ABCD, en que se halla; como se demostró en la Proposición II. de este Libro. Elévense sobre cada uno de los triángulos AEB, BFC, CGD, DHA prismas de iguales alturas á la del cilindro; cada uno será mayor, que la mitad de la porción de cilindro, que le contiene; pues tiradas por los puntos E, F, G, H paralelas á AB, BC, CD, DA, y completando sobre AB, BC, CD, DA los paralelogramos, y elevando sobre ellos paralelepípedos de iguales alturas á la del cilindro, será cada uno de los prismas <sup>b</sup>, que están sobre los triángulos AEB, BFC, CGD, DHA, la mitad de cada uno de dichos sólidos elevados; pero las porciones de cilindro son menores que los paralelepípedos elevados: luego los prismas, que están sobre los triángulos AEB, BFC, CGD, DHA, serán mayores que la mitad de las porciones de cilindro, que los contienen. Así cortando en dos partes iguales los demas arcos, juntando las secciones, y elevando sobre cada uno de los triángulos, prismas de iguales alturas á la del cilindro; prosiguiendo siempre la operación, vendrán al fin á quedar ciertas porciones de cilindro menores que el exceso del

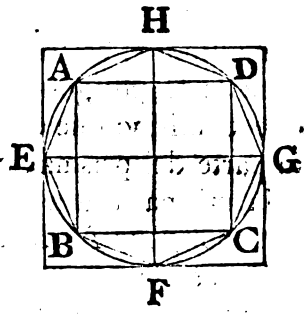
ci-



b 2. Cor.  
7. XII.

cilindro sobre el triplo del cono <sup>c</sup>: Sean las que están sobre los <sup>c</sup>Lema. segmentos AE, EB, BF, FC, CG, GD, DH, HA del círculo: luego el otro prisma, cuya base es el polígono AEBFCGDH, y que tiene la misma altura que el cilindro, será mayor que el triplo del cono: pero este prisma es triplo de la pirámide, cuya base es el polígono AEBFCGDH, y vértice el mismo que el del cono <sup>d</sup>: luego la pirámide, que tiene por base el polígono <sup>d</sup> 1. Cor. AEBFCGDH, y el mismo vértice que el cono, será mayor que 7. XII. el cono, cuya base es el círculo ABCD: lo qual es imposible, por ser menor, pues está contenida en él. Añado, que tampoco el cilindro será menor que el triple del cono; porque si lo fuese, sería inversamente el cono mayor que la tercera parte del cilindro.

Inscríbese en el círculo ABCD el quadrado ABCD, y será mayor que la mitad del círculo: sobre el quadrado ABCD elévese una pirámide, que tenga el mismo vértice que el cono, y será mayor que la mitad de él; porque, como demostramos antes, si se circunscribe un quadrado al círculo, el quadrado ABCD será la mitad de él; y elevando sobre los quadrados paralelepípedos de iguales alturas á la del



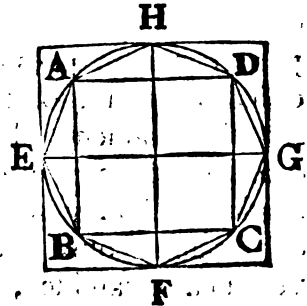
cono, los cuales al mismo tiempo son prismas, el paralelepípedo elevado sobre el quadrado ABCD será la mitad del elevado sobre el quadrado circunscrito al círculo, por estar entre sí como sus bases <sup>e</sup>, en cuya razon están las terceras partes de ellas: <sup>e</sup> 32. XI. luego la pirámide, cuya base es el quadrado ABCD, será la mitad de la pirámide elevada sobre el quadrado circunscrito al círculo: pero esta es mayor que el cono, pues lo contiene: luego la pirámide, cuya base es el quadrado ABCD, y vértice el mismo que el del cono, será mayor que la mitad del cono. Córtese en dos partes iguales los arcos AB, BC, CD, DA en los puntos E, F, G, H, tírense las líneas AE, EB, BF, FC, CG, GD, DH, HA, y resultará cada uno de los triángulos AEB, BFC, CGD, DHA mayor que la mitad del segmento del círculo, en que se halla. Elévense sobre cada uno de los triángulos AEB, BFC, CGD, DHA pirámides, que tengan el mismo vértice que el cono;

y

y cada una de las pirámides elevadas de este modo será mayor que la mitad de la porción de cono, que la contiene; lo qual se demostrará del mismo modo, que se executó tratando de los prismas, y segmentos del cilindro. Cortando, pues, en dos partes iguales los demas arcos, juntando las secciones, levantando sobre cada uno de los triángulos pirámides, que tengan el mismo vértice que el cono, y prosiguiendo la misma operacion, se tendrán al fin ciertas porciones del cono menores que su ex-

f Lema.

ceso sobre la tercera parte del cilindro f. Sean las que están sobre los segmentos AE, EB, BF, FC, CG, GD, DH, HA del círculo: luego la otra pirámide, cuya base es AEBFCGDH, y vértice el mismo que el del cono, será mayor que la tercera parte del cilindro: es así que la pirámide, cuya base es el polígono AEBFCGDH, y vértice el mismo que el del cono, es la tercera parte del prisma, que tiene por base el polígono AEBFCGDH, y la misma altura que el cilindro: luego el prisma, cuya base es el polígono AEBFCGDH, y que tiene la misma altura que el cilindro, sería mayor que el cilindro, cuya base es el círculo ABCD: lo qual es imposible, por ser menor; pues, está contenido en él: luego el cilindro no será menor que el triplo del cono: y ya antes se demostró no ser tampoco mayor: luego el cilindro será triplo del cono: por tanto el cono la tercera parte del cilindro. Por consiguiente todo cono, &c. L. Q. D. D.



PROP. XI. TEOR.

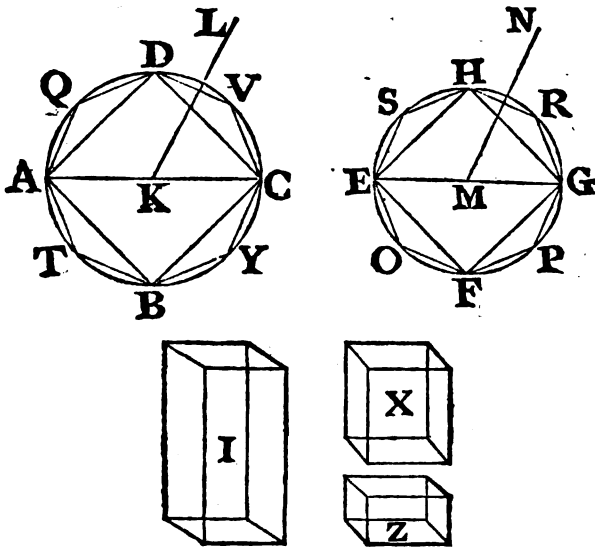
**L**OS conos, y los cilindros de una misma altura son entre sí como sus bases.

Sean de la misma altura los conos, y cilindros, cuyas bases son los círculos ABCD, EFGH, sus exas KL, MN, y los diámetros de sus bases AC, EG. Digo, que el cono AL será al cono EN, como el círculo ABCD al círculo EFGH.

Porque á no ser así, el círculo ABCD sería al EFGH, como el



el cono  $AL$  á algun sólido mayor, ó menor que el cono  $EN$ . Sea primeramente á uno menor  $X$ ; y sea el sólido  $Z$  la diferencia del sólido  $X$  al cono  $EN$ : luego el cono  $EN$  será igual á los sólidos  $X, Z$ . Inscríbese en el círculo  $EFGH$  el quadrado  $EFGH$ , y este resultará mayor que la mitad del círculo. Elévese sobre el mismo quadrado una pirámide de igual altura á la del cono \*, y será mayor que la mitad de este; porque circunscribiendo un quadrado al círculo, y elevando sobre él una pirámide de igual al-



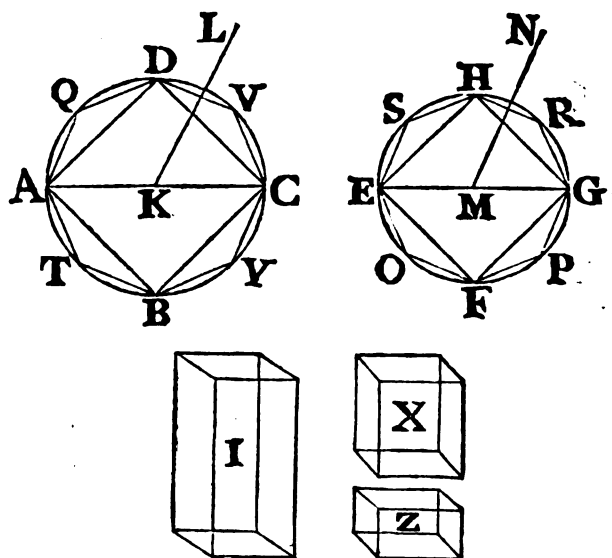
tura á la del cono, la pirámide inscrita será la mitad de la circunscrita, por tener entre sí la razón de sus bases <sup>2</sup>: pero el cono a 6. XII. es menor que la pirámide circunscrita: luego la pirámide, cuya base es el quadrado  $EFGH$ , y vértice el mismo que el del cono, será mayor que la mitad del cono. Divídanse en dos partes iguales los arcos  $EF, FG, GH, HE$  en los puntos  $O, P, R, S$ : tírense las líneas  $EO, OF, FP, PG, GR, RH, HS, SE$ : y resultará cada uno de los triángulos  $EOF, FPG, GRH, HSE$  mayor que la mitad del segmento del círculo, en que se halla. Elé-

\* O por mejor decir, teniendo el mismo vértice que el cono; y lo mismo se entenderá en adelante.

270 ELEMENTOS DE EUCLIDES.

Elévese sobre cada uno de los triángulos EOF, FPG, GRH, HSE una pirámide de igual altura á la del cono: luego cada una de las pirámides elevadas será mayor que la mitad de la porcion de cono que la contiene. Así cortando los demas arcos en dos partes iguales, tirando rectas, elevando pirámides de iguales alturas á la del cono en cada triángulo, y continuando la misma operación, quedarán algunas porciones de cono menores <sup>b</sup> que el sólido Z, Sean las que se hallan sobre los segmentos EO, OF,

<sup>b</sup> Lema.



FP, PG, GR, RH, HS, SE del círculo: luego la otra pirámide, cuya base el polígono EOFPGRHS, y que tiene la misma altura que el cono, será mayor que el sólido X. Describese en el círculo ABCD el polígono ATBYCVDQ semejante al polígono EOFPGRHS, y sobre él elévese una pirámide de igual altura á la del cono AL. Siendo, pues, el polígono ATBYCVDQ al EOFPGRHS <sup>c</sup>, y el círculo ABCD al EFGH <sup>d</sup>, como el cuadrado de AC al de EG, será el círculo ABCD al EFGH, como <sup>e</sup> el polígono ATBYCVDQ al EOFPGRHS; es así que el círculo ABCD es al EFGH, como el cono AL al sólido X, y el polígono ATBYCVDQ al EOFPGRHS, como <sup>f</sup> la pirámide, que tiene por base el polígono ATBYCVDQ, y por vértice el pun-

- <sup>c</sup> I. XII.
- <sup>d</sup> 2. XII.
- <sup>e</sup> II. V.
- <sup>f</sup> 6. XII.

punto L, á la que tiene por base el polígono EOFPGRHS, y por vértice el punto N: luego la pirámide, cuya base es ATBYCVDQ, y vértice L, es á la pirámide, cuya base es EOFPGRHS, y vértice N, como el cono AL al sólido X: es así que el cono AL es mayor que la pirámide, que está en él: luego el sólido X sería mayor que la pirámide, que está en el cono EN <sup>g 14. V.</sup> ~~surdo~~, por ser menor; luego el cono AL no será á algun sólido menor que el cono EN, como el círculo ABCD al EFGH. Se- mejantemente se demostrará, que tampoco el círculo EFGH es al ABCD, como el cono EN á algun sólido menor que el cono AL. Añado, que tampoco el círculo ABCD será al EFGH, como el cono AL á algun sólido mayor que el cono EN; porque si lo fuera, sea I el sólido mayor: luego invirtiendo, será el círculo EFGH al ABCD, como el sólido I al cono AL, y el sólido I al cono AL, como el cono EN á algun sólido menor que el cono AL <sup>g</sup>; pues el sólido I es mayor que el cono EN: luego el círculo EFGH será al ABCD, como el cono EN á algun sólido menor que el cono AL; lo qual es imposible, como ya se demostró: no será, pues, el círculo ABCD al EFGH, como el cono AL á algun sólido mayor que el cono EN: es así que se ha demostrado no serlo tampoco á alguno menor: luego el círculo ABCD será al EFGH, como el cono AL al EN: pero el cono es al cono, como <sup>h</sup> el cilindro al cilindro; por ser los cilindros <sup>h 15. V.</sup> triplos <sup>i</sup> de los conos: luego los cilindros de igual altura, que <sup>i 10. XII.</sup> están sobre los círculos ABCD, EFGH, serán entre sí, como los mismos círculos. Por consiguiente los conos, &c. L. Q. D. D.

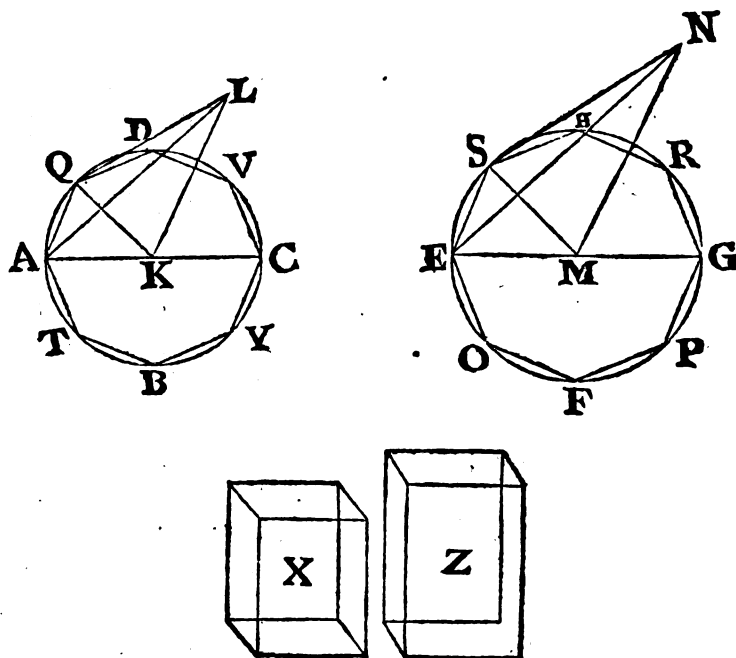
## PROP. XII. TEOR.

**L**OS conos, y cilindros semejantes están entre sí en la razon triplicada de los diámetros de sus bases.

Sean semejantes los conos, y cilindros, cuyas bases son los círculos ABCD, EFGH; AC, EG los diámetros de sus bases; y KL, MN los exes de los conos, ó cilindros. Digo, que el cono, cuya base es el círculo ABCD, y vértice el punto L, es-  
ta-

tará al cono, cuya base es el círculo EFGH, y vértice el punto N, en la razon triplicada de la de AC á EG.

Porque si el cono ABCDL no tuviese al cono EFGHN razon triplicada de la que AC tiene á EG, la tendría á algun solido mayor, ó menor que el cono EFGHN. Téngala primeramente á uno menor X, y supuesta la misma construccion de la Proposicion antecedente, se demostrará, como en ella, que la pirámide, cu-



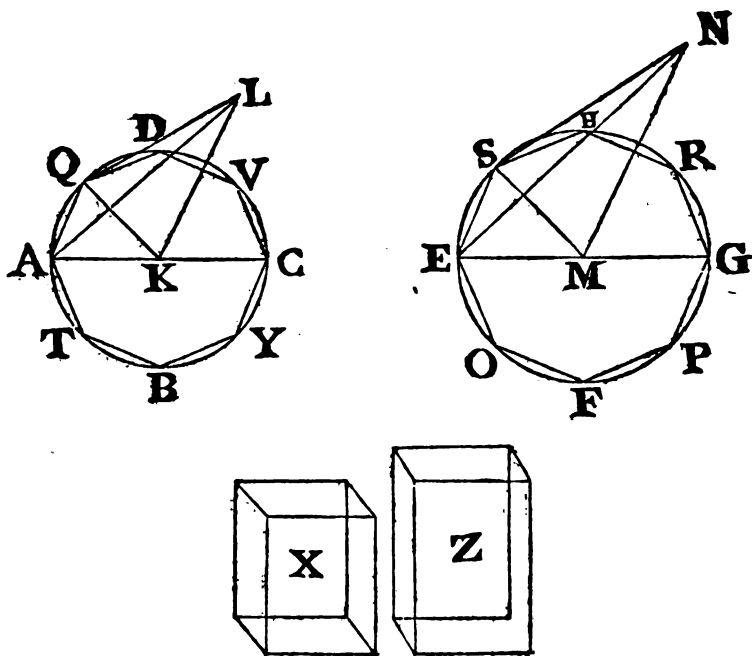
ya base es el polígono EOFPGRHS, y vértice el punto N, será mayor que el sólido X.

Inscríbase en el círculo ABCD el polígono ATBYCVDQ semejante á el EOFPGRHS, sobre el qual elévese una pirámide, que tenga el mismo vértice que el cono: y sea LAQ uno de los triángulos, que contienen la pirámide, cuya base es ATBYCVDQ, y vértice L, é igualmente NES uno de los triángulos, que contienen la pirámide, cuya base es EOFPGRHS, y vértice N; y tírense las líneas KQ, MS. Siendo, pues, el cono ABCDL

ABCDL semejante al cono EFGHN; será AC á EG, como el  
 exe KL al MN <sup>a</sup>, pero es AC á EG <sup>b</sup>, como AK á EM: con- <sup>a 24. Def.</sup>  
 siguientemente AK será á EM, como KL á MN; y permutan- <sup>XI.</sup>  
 do AK á KL, como EM á MN: pero los ángulos AKL, EMN <sup>b 15. V.</sup>  
 son iguales, por ser ambos rectos, y los lados, que compren-  
 den los ángulos iguales, son proporcionales: luego el trián-  
 gulo AKL será semejante <sup>c</sup> al triángulo EMN. Además, siendo <sup>c 6. VI.</sup>  
 AK á KQ, como EM á MS, y comprendiendo los ángulos  
 iguales AKQ, EMS; por ser el ángulo AKQ la misma parte  
 de los quatro rectos, que concurren en el centro K, que es el  
 ángulo EMS de los quatro rectos, que concurren en el centro  
 M; el triángulo AKQ será semejante <sup>c</sup> al EMS: y habiéndose  
 demostrado, que AK es á KL, como EM á MN, AK igual á  
 QK, y EM á MS, resultará ser QK á KL, como SM á MN:  
 luego serán proporcionales los lados, que comprehenden á los  
 ángulos iguales QKL, SMN; pero estos son rectos: luego el trián-  
 gulo LKQ será semejante al triángulo NMS: y siendo LA á  
 AK, como NE á EM, por la semejanza de los triángulos AKL,  
 EMN; y KA á AQ, como ME á ES, por la semejanza de los  
 triángulos AKQ, EMS; será por igualdad <sup>d</sup> LA á AQ, como <sup>d 22. V.</sup>  
 NE á ES. Además de esto, siendo LQ á QK, como NS á SM,  
 por la semejanza de los triángulos LQK, NSM; y KQ á  
 QA, como MS á SE, por la semejanza de los triángulos  
 KAQ, MES, será por igualdad <sup>d</sup> LQ á QA, como NS á  
 SE: pero se ha demostrado ser QA á AL, como SE á EN:  
 luego por igualdad QL será á LA, como SN á NE: luego se-  
 rán proporcionales los lados de los triángulos LQA, NSE; y  
 por tanto los triángulos equiángulos <sup>e</sup>, y semejantes entre sí. Por  
 consiguiente la pirámide, cuya base es el triángulo AKQ, y <sup>e 5. VI.</sup>  
 vértice el punto L, será semejante á la que tiene por base el  
 triángulo EMS, y por vértice el punto N; por ser iguales en-  
 tre sí sus ángulos <sup>f</sup> sólidos, y estar ellas contenidas por igual  
 número de planos semejantes: es así que las pirámides semejan- <sup>f B. XI.</sup>  
 tes, y de bases triangulares están en la razon triplicada de los  
 lados homólogos <sup>g</sup>: luego la pirámide AKQL tendrá á la EMSN  
 razon triplicada de la que AK tiene á EM: semejantemente ti- <sup>g 8. XII.</sup>  
 rando rectas de los puntos D, V, C, Y, B, T á K, y de los  
 S pun-

274 ELEMENTOS DE EUCLIDES.

puntos H, R, G, P, F, O á M, y elevando sobre los triángulos pirámides, que tengan los mismos vértices que los conos, demostraremos, que cada una de las primeras pirámides tendrá á su correspondiente de las segundas razon triplicada de la que el lado AK tiene á su lado homólogo EM; esto es de la de AC á EG: pero la suma de todos los antecedentes es á la suma de todos los conseqüentes, como <sup>b</sup> uno de los antecedentes á su conseqüente: será, pues, la pirámide AKQL á la EMSN, como la



pirámide total, cuya base es el polígono ATBYCVDQ, y vértice el punto L, á la pirámide total, cuya base es el polígono EOFPGRHS, y vértice el punto N: por consiguiente la pirámide, cuya base es ATBYCVDQ, y vértice L, tendrá á la pirámide, cuya base es EOFPGRHS, y vértice N, razon triplicada de la de AC á EG: pero se ha supuesto, que el cono, cuya base es el círculo ABCD, y vértice el punto L, tiene al sólido X razon triplicada de la de AC á EG: luego el cono, cuya base es el círculo ABCD, y vértice L, será al sólido X, como

mo la pirámide, cuya base es  $ATBYCVDQ$ , y vértice  $L$ , á la pirámide, cuya base es  $EOFPGRHS$ , y vértice  $N$ : pero el cono, cuya base es el círculo  $ABCD$ , y vértice  $L$ , es mayor que la pirámide, que está en él, pues la contiene: luego el sólido  $X$  será mayor que la pirámide, cuya base es  $EOFPGRHS$ , y vértice  $N$  <sup>i</sup>; lo qual es imposible, por ser menor: luego dicho cono no tendrá á algun sólido menor que el cono, cuya base es el círculo  $EFGH$ , y vértice  $N$ , razon triplicada de la que  $AC$  tiene á  $EG$ . De la misma manera demostraremos, que tampoco el cono  $EFGHN$  tendrá á algun sólido menor que el cono  $ABCDL$  razon triplicada de la de  $EG$  á  $AC$ . Añado, que tampoco el cono  $ABCDL$  tendrá á algun sólido mayor que el cono  $EFGHN$  razon triplicada de la que  $AC$  tiene á  $EG$ : porque si la tuviese, sea al sólido mayor  $Z$ ; y resultará, que invirtiendo el sólido  $Z$  tendrá al cono  $ABCDL$  razon triplicada de la que  $EG$  tiene á  $AC$ : es así que el sólido  $Z$  es al cono  $ABCDL$ , como el cono  $EFGHN$  á algun sólido menor <sup>i</sup> que el cono  $ABCDL$ ; por ser el sólido  $Z$  mayor que el cono  $EFGHN$ : luego tambien el cono  $EFGHN$  tendrá á algun sólido menor que el cono  $ABCDL$  razon triplicada de la de  $EG$  á  $AC$ ; lo qual se ha demostrado imposible: luego el cono  $ABCDL$  no tendrá á algun sólido mayor que el cono  $EFGHN$  razon triplicada de la que  $AC$  tiene á  $EG$ : pero se demostró, que tampoco á alguno menor: consiguientemente el cono  $ABCDL$  tendrá al  $EFGHN$  razon triplicada de la de  $AC$  á  $EG$ : es así que el cono es al cono, como <sup>k</sup> el cilindro al cilindro; pues se ha demostrado, que todo cono es la tercera parte del cilindro de la misma base, é igual altura: luego un cilindro tendrá á otro razon triplicada de la que  $AC$  tiene á  $EG$ . Por consiguiente los conos, &c. **L. Q. D. D.**

### PROP. XIII. TEOR.

**S**I un cilindro se corta por un plano paralelo á los planos opuestos, estarán sus segmentos en la razon de los segmentos del exe.

Córtese el cilindro  $AD$  por el plano  $GH$  paralelo á los planos

S 2

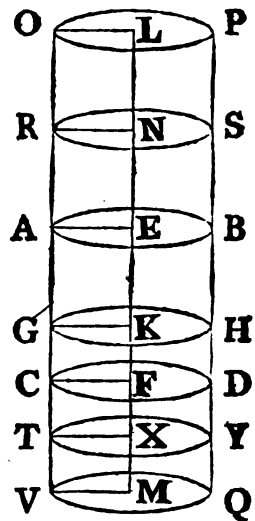
nos

nos opuestos AB, CD; encuentre al eje EF en K; y sea GH la comun seccion del plano GH, y de la superficie del cilindro AD. Sea en qualquiera posicion AEFC el paralelogramo rectángulo; por cuya revolucion al rededor de la recta EF se describe el cilindro AD: y sea la recta GK comun seccion de los planos GH, AEFC: estando, pues, los planos paralelos AB, GH cortados por el plano AEKG, sus comunes secciones AE, GK serán paralelas <sup>a</sup>: luego AK será un paralelogramo; por tanto KG igual á EA, que es radio del círculo AD. De la misma manera se demostrará, que todas las rectas tiradas del punto K á la linea GH son iguales á los radios del círculo AB, y por lo mismo iguales entre sí: luego GH será igual á la circunferencia del círculo <sup>b</sup>, cuyo centro es K: luego el plano GH dividirá al cilindro AD en los cilindros AH, GD: pues son los mismos, que describirían los paralelogramos AK, GF, si girasen al rededor de las rectas EK, KF. Digo, pues, que el cilindro AH será al cilindro HC, como el eje EK al eje KF.

a 16. XI.

b 15. Def. I.

Prolónguese el eje EF por ambas partes hasta los puntos L, M: tómense qualesquiera lineas EN, NL iguales al eje EK; é igualmente FX, XM iguales al eje FK; y por los puntos L, N, X, M tírense planos paralelos á AB, CD: luego los círculos, cuyos centros son L, N, X, M, serán comunes secciones de los planos, y de la superficie continuada del cilindro, como se demostró del plano GH: y los planos cortarán á los cilindros PR, RB, DT, TQ: así siendo iguales entre sí los exes LN, NE, EK, los cilindros



c 11. XII.

PR, RB, BG, serán entre sí, como sus bases <sup>c</sup>: pero las bases son iguales: luego tambien serán iguales entre sí los cilindros PR, RB, BG. Siendo, pues, iguales entre sí los exes LN, NE, EK; é iguales entre sí los cilindros PR, RB, BG, y el número de exes igual al de cilindros, quan múltiplice sea el eje KL del KE, tan múltiplice será el cilindro PG del GB: asimismo quan múltiplice sea el eje MK del KF, tan múltiplice será el cilindro



dro QG del GD, y segun sea el exe KL igual, mayor, ó menor que el exe KM, será el cilindro PG igual, mayor, ó menor que el cilindro GQ: luego dadas quatro cantidades, esto es los exes EK, KF, y los cilindros BG, GD, se han tomado el exe KL, y el cilindro PG qualesquiera equimúltiples del exe KF, y del cilindro BG; como tambien el exe KM, y el cilindro GQ qualesquiera equimúltiples del exe KF, y del cilindro GD: pero se ha demostrado, que segun sea el exe KL mayor, igual, ó menor que el exe KM, será el cilindro PG mayor, igual, ó menor que el cilindro GQ: luego el exe <sup>d</sup> EK será al KF, como el cilindro BG al GD. Por consiguiente si un, &c. L. Q. D. D. <sup>d 5. Def. V.</sup>

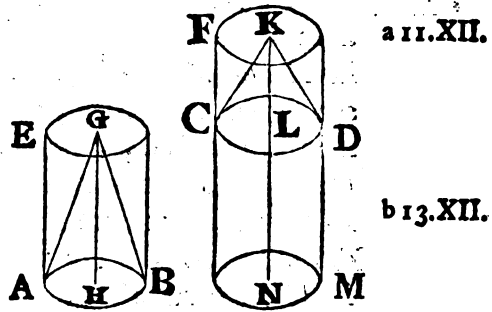
PROP. XIV. TEOR.

**L**OS conos, y cilindros de bases iguales están entre sí en la razon de sus alturas.

Tengan los cilindros EB, FD las bases AB, CD iguales. Digo, que el cilindro EB será al FD, como el exe GH al KL.

Prolónguese el exe KL hasta el punto N; tómese LN igual al exe GH, y concíbese el cilindro CM descrito al rededor del exe LN. Siendo, pues, de una misma altura los cilindros EB, CM, estarán entre sí en la razon de sus bases <sup>a</sup>: pero estas son iguales:

luego tambien lo serán entre sí los cilindros EB, CM: así estando cortado el cilindro FM por el plano CD paralelo á los planos opuestos, el cilindro CM será al FD, como <sup>b</sup> el exe LN al KL: es así que el cilindro CM es igual al EB, y el exe LN al GH: luego el cilindro EB será al FD, como el exe GH al KL: pero el cilindro EB es al FD, como <sup>c</sup> el cono ABG al CDK; por ser los cilindros triplos de los conos <sup>d</sup>: luego el cono ABG será al CDK; y el cilindro EB al FD, como el exe GH al KL. Por consiguiente los conos, &c. L. Q. D. D.



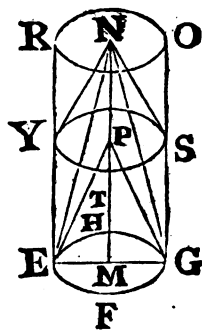
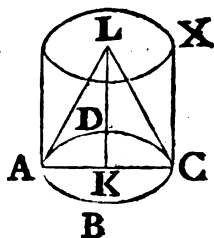
como el cono ABG al CDK; por ser los cilindros triplos de los conos <sup>d</sup>: luego el cono ABG será al CDK; y el cilindro EB al FD, como el exe GH al KL. Por consiguiente los conos, &c. L. Q. D. D. <sup>c 15. V. d 10. XII.</sup>

PROP. XV. TEOR.

**L**AS bases, y alturas de conos, y cilindros iguales son recíprocamente proporcionales: y los conos, y cilindros, cuyas bases, y alturas son recíprocamente proporcionales, son iguales entre sí.

Sean iguales los conos  $ALC$ ,  $ENG$ , y los cilindros  $AX$ ,  $EO$ , cuyas bases son los círculos  $ABCD$ ,  $EFGH$ ; diámetros  $AC$ ,  $EG$ ; y exes  $KL$ ,  $MN$ , los cuales son las alturas de los conos, y cilindros. Digo, que las bases, y alturas de los cilindros  $AX$ ,  $EO$  serán recíprocamente proporcionales; esto es la base  $ABCD$  á la base  $EFGH$ , como la altura  $MN$  á la altura  $KL$ .

La altura  $KL$  ó es igual á la  $MN$ , ó no. Sea primeramente igual: tambien el cilindro  $AX$  será igual al  $EO$ : es así que los conos, y cilindros de una misma altura tienen entre



a 11. XII. sí la razón de sus bases <sup>a</sup>: luego la base  $ABCD$  será igual \*

\* A. V.

á la base  $EFG$ : luego la base  $ABCD$  será á la  $EFGH$ , como la altura  $MN$  á la  $KL$ . Pero suponiendo, que la altura  $KL$  no sea igual á la  $MN$ , sino mayor, tómesese de  $MN$  la  $MP$  igual á la altura  $KL$ , y por el punto  $P$  córtese el cilindro  $EO$  por el plano  $TYS$  paralelo á los planos opuestos de los círculos  $EFGH$ ,  $RO$ , y resultará un círculo la comun seccion del plano  $TYS$ , y del cilindro  $EO$ ; y un cilindro  $ES$ , cuya base es el círculo  $EFGH$ , y su altura  $MP$ . Siendo, pues, el cilindro  $AX$  igual

b 7. V. al  $EO$ , será  $AX$  al  $ES$ , como <sup>b</sup>  $EO$  á  $ES$ : es así que el cilindro  $AX$  es á  $ES$ , como <sup>a</sup> la base  $ABCD$  á la  $EFGH$ ; por tener una misma altura los cilindros  $AX$ ,  $ES$ ; y el cilindro  $EO$

c 13. XII. al  $ES$ , como <sup>c</sup> la altura  $MN$  á la  $MP$ ; pues está el cilindro  $EO$  cortado por el plano  $TYS$  paralelo á los planos opuestos: luego la base  $ABCD$  será á la  $EFGH$ , como la altura  $MN$  á la  $MP$ :

es

es así que la altura MP es igual á la KL : luego la base ABCD será á la EFGH, como la altura MN á la KL : por consiguiente las bases, y alturas de los cilindros AX, EO serán recíprocamente proporcionales.

Supuesto, que las bases, y alturas de los cilindros AX, EO son recíprocamente proporcionales, esto es la base ABCD á la EFGH, como la altura MN á la KL. Digo, que el cilindro AX será igual al cilindro EO.

Primeramente sea la base ABCD igual á la EFGH; y respecto de ser la base ABCD á la base EFGH, como la altura MN á la KL, será MN igual \* á KL; consiguientemente el cilindro AX \* A. V. será igual <sup>a</sup> al cilindro EO. Pero demos, que la base ABCD <sup>a</sup> II. XII. no sea igual á la EFGH, sino mayor; y resultará, que siendo la base ABCD á la EFGH, como la altura MN á la KL, será MN mayor \* que KL; y supuesta la misma construcción, por ser la base ABCD á la EFGH, como la altura MN á la KL; y la altura KL igual á la MP, la base ABCD será á la EFGH, como el cilindro AX al ES, pues tienen la misma altura <sup>a</sup>; y la altura MN á la MP, ó KL, como el cilindro EO al ES: luego el cilindro AX será al ES, como el cilindro EO al ES: luego el cilindro AX será igual al EO. Asimismo se demostrará en los conos. L. Q. D. D.

## PROP. XVI. PROBL.

**D**ADOS dos círculos concéntricos, inscribir en el mayor un polígono de un número par de lados, que no toquen al círculo menor.

Sean los dos círculos dados ABCD, EFGH, que tengan un mismo centro K; y háyase de inscribir en el mayor un polígono equilátero de un número par de lados, que no toquen al círculo menor.

Tírese por el centro K la recta BD, y del punto G la GA perpendicular á BD, prolongándola hasta C: luego AC tocará al círculo EFGH <sup>a</sup>. Dividiendo des-



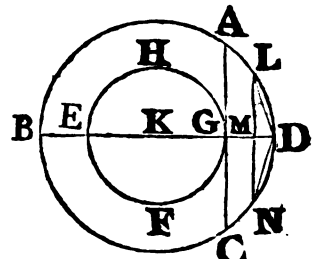
<sup>a</sup> 16. III.

S 4

pues

pues en dos partes iguales el arco BAD, repitiendo la misma operacion con su mitad, y así sucesivamente, quedará al fin un

<sup>b</sup> Lema. arco menor que el AD <sup>b</sup>. Sea LD, y del punto L á la linea BD tírese la perpendicular LM, y alárguese hasta N: tírense las lineas LD, DN: resultará LD igual <sup>c</sup> á DN: y siendo LN paralela á AC, y tocando AC al círculo EFGH, no lo tocará el LM; luego tampoco lo tocarán las rectas LD, DN; y si despues se aplican al círculo ABCD lineas iguales á LD, quedará inscrito en él un polígono equilátero de un número par de lados, que no tocan al círculo menor. L. Q. D. H.



<sup>c</sup> 3. III.  
<sup>y</sup> 4. L.

LEMA II.

**S**I dos trapecios ABCD, EFGH están inscritos en círculos, que tengan por centros los puntos K, L, y tienen los lados AB, DC paralelos entre sí, y lo mismo los EF, HG, y los otros quatro AD, BC, EH, FG iguales entre sí, y el lado AB mayor que el EF, como asimismo el DC mayor que el HG; será el radio KA del círculo circunscrito al trapecio de lados mayores mayor que el radio LE del círculo circunscrito al otro trapecio.

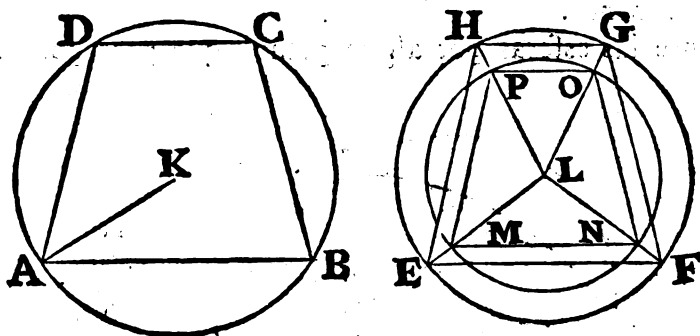
No sea, si es posible, KA mayor que LE; será, pues, KA igual, ó menor que LE; sea primeramente igual. Siendo, pues, en círculos iguales las rectas AD, BC iguales á las EH, FG, serán los arcos AD, BC iguales á los EH, FG <sup>a</sup>: siendo, pues, las rectas AD, DC respectivamente mayores que las EF, HG, serán los arcos AB, DC mayores que los EF, HG: luego toda la circunferencia ABCD será mayor, que toda la circunferencia EFGH; lo qual es imposible: luego KA no será igual á LE.

<sup>a</sup> 28. III.

Pero suponiendo KA menor que LE; tómese LM igual á KA; y con

con centro  $L$ , é intervalo  $LM$  describese el círculo  $MNOP$ , el qual tiradas las líneas  $LF, LG, LH$ , las encontrará en los puntos  $N, O, P, M$ : tírense  $MN, NO, OP, PM$ , que serán respectivamente paralelas <sup>b</sup> á  $EF, FG, GH, HE$ , y respectivamente menores que ellas. Así siendo  $EH$  mayor que  $MP$ , también  $AD$  será mayor que  $MP$ : es así que los círculos  $ABCD, MNOP$  son iguales: luego el arco  $AD$  será mayor que el  $MP$ : é igualmente el arco  $BC$  será mayor que el  $NO$ : y respecto de ser  $AB$

b 2. VI.



mayor que  $EF$ , la qual es mayor que  $MN$ , será  $AB$  mucho mayor que  $MN$ : luego  $AB$  será mayor que  $MN$ : y por la misma razón  $BC$  mayor que  $PO$ : luego toda la circunferencia  $ABCD$  sería mayor que la  $MNOP$ : lo que es imposible, por ser igual; luego  $KA$  no será menor que  $LE$ : es así que tampoco es igual: luego  $KA$  será necesariamente mayor que  $LE$ . L. Q. D. D.

COR. De aquí es, que si fuese un triángulo isósceles, cuyos lados sean iguales á  $AD, BC$ , y la base menor que  $AB$ , línea mayor de las  $AB, DC$ ; se demostrará de la misma manera, que el radio  $KA$  será mayor que el radio del círculo circunscrito al tal triángulo.

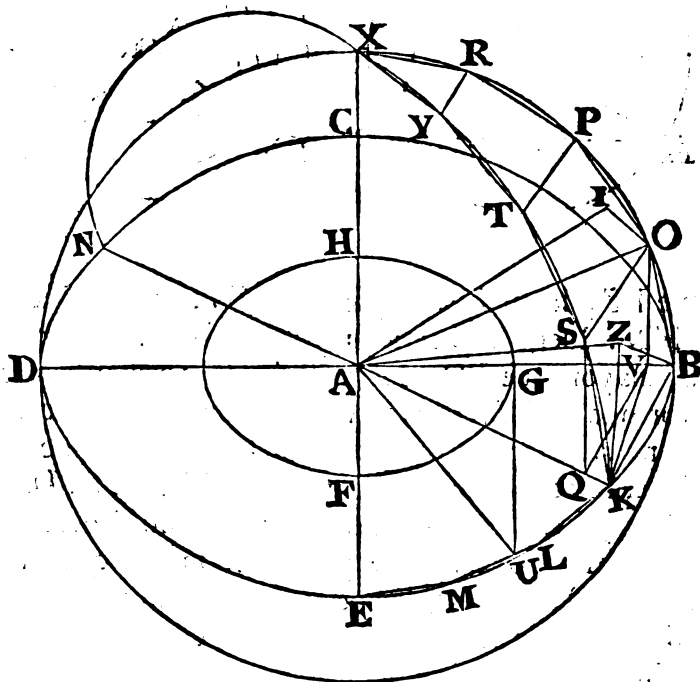
PROP.

## PROP. XVII. PROBL.

**D**ADAS dos esferas concéntricas, inscribir en la mayor un poliedro, cuya superficie no toque á la menor.

Supónganse dos esferas, que tengan el mismo centro *A*: y háyase de inscribir en la mayor un poliedro, cuya superficie no toque á la menor.

Córtense las esferas por algun plano, que pase por el centro:

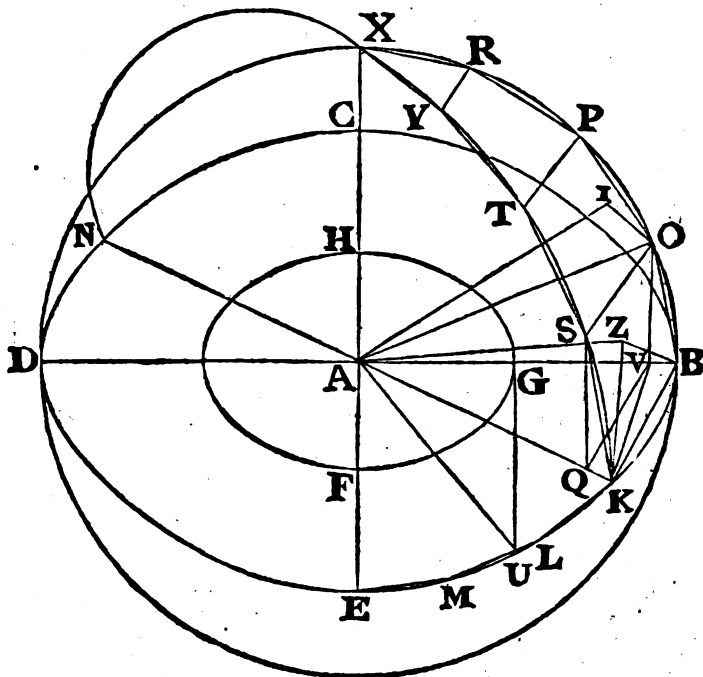


consiguientemente las secciones serán círculos; porque estando fixo el diámetro, y girando al rededor del semicírculo, se generará la esfera: luego en qualquiera posicion, que concibamos el semicírculo, el plano, que pase por él, formará en la superficie de la esfera un círculo, y este será el máximo, por ser el diá-

diámetro de la esfera , el qual lo es tambien del círculo , la mayor de todas las rectas , que se pueden tirar en el círculo , ó en la esfera <sup>a</sup> . Sea , pues , BCDE el círculo de la esfera mayor , y <sup>a</sup> 15. III. FGH el círculo de la esfera menor ; y tírense los dos diámetros BD , CE perpendiculares entre sí : y siendo concéntricos los dos círculos BCDE , FGH , inscribase <sup>b</sup> en el mayor BCDE un polígono equilátero de un número par de lados , que no toquen al círculo menor FGH ; cuyos lados BK , KL , LM , ME estén en el quadrante BE del círculo ; y tirada KA , prolónguese hasta N , y del punto A tírese AX perpendicular al plano del círculo BCDE , que encuentre á la superficie de la esfera en el punto X : tírense asimismo por la linea AX , y por las dos BD , KN planos , los quales , segun lo ya dicho , formarán en la superficie de la esfera círculos máximos ; y sean BXD , KXN los semicírculos ; y BD , KN sus diámetros. Siendo , pues , XA perpendicular al plano del círculo BCDE , todos los planos , que pasan por XA , serán perpendiculares <sup>c</sup> al plano del círculo BCDE : consiguiendo tambien los semicírculos BXD , KXN serán perpendiculares al mismo plano : y respecto de que son iguales los semicírculos BED , BXD , KXN , por estar sobre los diámetros iguales BD , KN , sus quadrantes BX , KX serán tambien iguales entre sí : luego quantos lados del polígono haya en el quadrante BE , tantos lados habrá en los quadrantes BX , KX iguales á los lados BK , KL , LM , ME. Descríbanse , y sean BO , OP , PR , RX ; KS , ST , TY , YX , y tírense OS , PT , RY , como tambien de los puntos O , S á las rectas AB , AK las perpendiculares OV , SQ. Siendo , pues , el plano BOXD perpendicular al plano BCDE , y habiéndose tirado en BOXD la OV perpendicular á AB comun seccion de los planos , será OV perpendicular al plano BCDE <sup>d</sup> . Así tambien SQ será perpendicular al mismo plano ; <sup>d</sup> 4. Def. XI. por ser el plano KSXN perpendicular al BCDE. Tírese VQ , y por quanto en los semicírculos iguales BXD , KXN se han tomado los arcos iguales BO , KS , y se han tirado las perpendiculares OV , SQ á los diámetros de los círculos , resultará OV igual á SQ , y BV á KQ : es así que la total BA es igual á la total KA : luego la parte VA será igual QA : luego BV será á VA , como KQ á QA : y por tanto VQ será paralela <sup>e</sup> á BK. Por ser <sup>e</sup> 2. VI. las

284 ELEMENTOS DE EUCLIDES.

las dos  $OV$ ,  $SQ$  perpendiculares al plano del círculo  $BCDE$ ,  
 f 6. XI. será  $OV$  paralela <sup>f</sup> á  $SQ$ : pero ya se demostró serle igual: luego  
 g 33. I.  $QV$ ,  $SO$  serán iguales, y paralelas <sup>g</sup>: y siendo  $QV$  paralela á  
 h 9. XI.  $SO$ , como tambien á  $KB$ , será  $OS$  paralela <sup>h</sup> á  $BK$ : luego  $BO$ ,  
 $KS$ , que las juntan, estarán en el mismo plano de las paralelas  
 $OS$ ,  $BK$ ; y el quadrilátero  $KBOS$  estará en un plano: pero si se  
 juntan  $PB$ ,  $TK$ , y de los puntos  $P$ ,  $T$  se tiran perpendiculares á



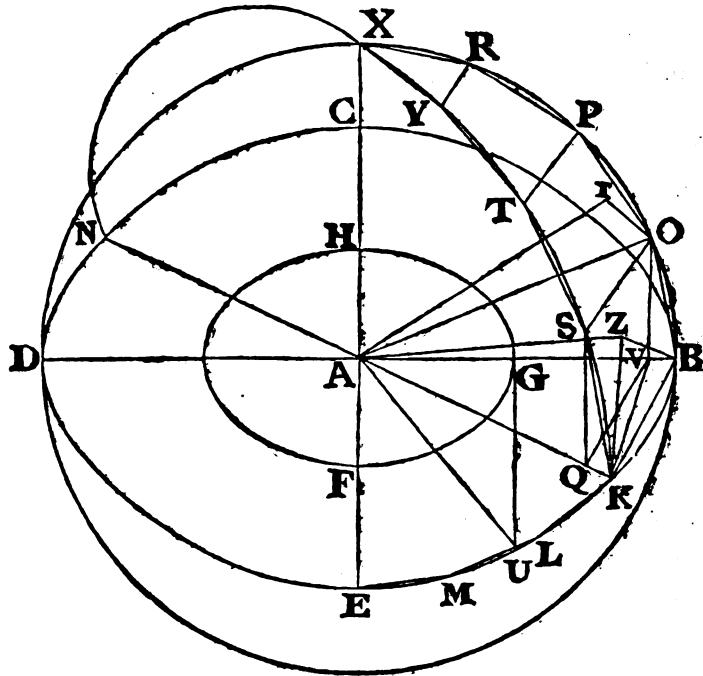
las rectas  $AB$ ,  $AK$ , se demostrará, que la recta  $TP$  será para-  
 lela á la  $KB$ , del mismo modo que se demostró  $SO$  paralela á  
 $KB$ : por consiguiente  $TP$  será paralela á  $SO$ : y por tanto el  
 quadrilátero  $SOPT$  estará en un plano: asimismo el quadrilátero  
 i 2. XI.  $TPRY$  estará en un plano: es así que la figura  $YRX$  está <sup>i</sup> en  
 un plano: luego si concebimos rectas tiradas de los puntos  $O$ ,  $S$ ,  
 $P$ ,  $T$ ,  $R$ ,  $Y$  á  $A$ , resultará una figura poliedra entre las circun-  
 ferencias  $BX$ ,  $KX$ , compuesta de las pirámides, cuyas bases son  
 los quadriláteros  $KBOS$ ,  $SOPT$ ,  $TPRY$ , y el triángulo  $YRX$ ,  
 y



y vértice el punto A; y si en cada uno de los lados KL, LM, ME se construyen pirámides, como en BK; y lo mismo en los otros tres cuadrantes, y en el otro hemisferio; resultará una figura poliedra inscrita en la esfera, y compuesta de pirámides, que tienen por bases cuadriláteros iguales á KBOS, SOPT, TPRY, y el triángulo YRX, en el mismo orden, y por vértice al punto A: y la superficie de dicha figura poliedra no tocará á la esfera menor generada por el círculo FGH. Tírese del punto A al plano del cuadrilátero KBOS la perpendicular AZ<sup>k</sup>, que lo en- k 11. XI.  
 contrará en el punto Z; y tírense las líneas BZ, ZK. Siendo, pues, AZ perpendicular al plano del cuadrilátero KBOS, lo será también á todas las rectas, que toca, y están en el mismo plano: luego AZ será perpendicular á las dos BZ, ZK; y por ser AB igual á AK, y también los cuadrados de AZ, ZB iguales al cuadrado de AB, como asimismo los cuadrados \* de AZ, ZK \* 47. I.  
 iguales al de AK, serán los cuadrados de AZ, ZB iguales á los de AZ, ZK. Quítese el cuadrado comun de AZ, y los otros dos de BZ, y KZ serán iguales entre sí: y por tanto la recta BZ igual á la recta ZK. Semejantemente demostraremos, que las líneas tiradas del punto Z á los O, S son iguales á las dos BZ, ZK: luego el círculo descrito con centro Z, é intervalo ZB pasará por los puntos K, O, y estará inscrito en el círculo el cuadrilátero KBOS: y siendo KB mayor que QV, y QV igual á SO, resultará KB mayor que SO: pero KB es igual á las dos BO, KS: luego cada uno de los arcos iguales, á que subtenden las rectas KB, BO, KS en el círculo KBOS, será mayor que el arco, á que subtende la recta OS: por consiguiente aquellos tres arcos juntos con el cuarto igual á uno de ellos serán mayores que los tres juntos con el arco, á que subtende la recta OS, esto es mayores que toda la circunferencia: luego el arco KB en el círculo KBOS será mayor que la quarta parte de toda la circunferencia del mismo círculo; y por tanto el ángulo BZK en el centro será mayor que un recto. Siendo, pues, el mismo ángulo obtuso, el cuadrado de BK será mayor que los de BZ, ZK <sup>l</sup> l 12. II.  
 esto es mayor que el duplo del cuadrado de BZ. Tírese KV, y por ser en los triángulos KBV, OBV, KB, BV iguales á OB, BV, y contener ángulos iguales; será el ángulo KVB igual <sup>m</sup> al m 4. I.  
 OVB:

286 ELEMENTOS DE EUCLIDES.

OVB: pero OVB es recto: luego tambien KVB lo será: y siendo BD menor que el duplo de DV, será el rectángulo contenido por DB, BV menor que el duplo del rectángulo de DV, VB, esto es el quadrado de KB será menor que el duplo del quadrado de KV: pero el quadrado de KB es mayor que el duplo del quadrado de BZ: luego el quadrado de KV será mayor que el de BZ: y por ser BA igual á AK, y los quadrados de BZ, ZA



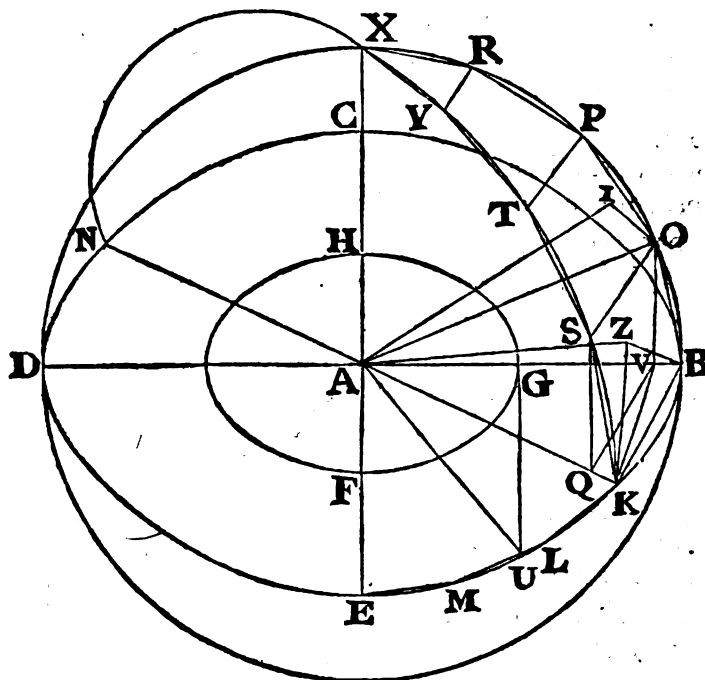
iguales al de BA, como asimismo los de KV, VA iguales al de AK, resultarán los quadrados de BZ, ZA iguales á los de KV, VA; de los cuales el quadrado de KV es mayor que el de BZ: luego el quadrado restante de VA será menor que el de ZA, y por tanto la recta AZ mayor que la recta AV: será, pues, AZ mucho mayor que AG; pues se demostró en la Proposicion antecedente, que la recta KV cae fuera del círculo FGH: es así que AZ es perpendicular al plano KBOS, y por tanto la mínima de quantas se pueden tirar del centro de la esfera á aquel pla-

plano : luego el plano KBOS caerá fuera de la esfera menor.

Del modo siguiente se demuestra, que caen fuera de la esfera menor los demás planos, que están entre los cuadrantes BX, KX. Tírese del punto A al plano del cuadrilátero SOPT la perpendicular AI, y tírese la línea IO; y en la misma forma que se demostró del plano KBOS, y del punto Z, se demostrará del punto I, que es centro del círculo circunscrito al cuadrilátero SOPT; y que la recta OS es mayor que la recta PT, la qual se demostró paralela á OS. Teniendo, pues, los trapecios KBOS, SOPT inscritos en círculos los lados BK, OS, y tambien los OS, PT paralelos; y los demás BO, KS, OP, ST iguales entre sí; el lado BK mayor que el OS, y OS que PT; la recta ZB será mayor que la recta IO: tírese AO que será igual á AB: y siendo rectos los ángulos AIO, AZB, los cuadrados de AI, IO serán iguales al de AO, ó AB; esto es á los de AZ, ZB: pero el de ZB es mayor que el de IO: luego el otro de AZ será menor que el de AI: será, pues, la recta AZ menor que la AI: es así que ya se demostró ser mayor que AG: luego AI será mucho mayor que la recta AG: luego el plano SEPT caerá fuera de la esfera menor. De la misma suerte se demostrará, que el plano TPRY caerá fuera de la misma esfera, como tambien el plano del triángulo YRX, es á saber por el Corolario del Lema II: y semejantemente se demostrará, que caerán fuera de la esfera menor todos los demás planos, que contienen el poliedro. Por consiguiente dadas dos esferas concéntricas se ha inscrito en la mayor un poliedro, cuya superficie no toca á la menor. L. Q. D. H.

De otro modo, y mas breve se demostrará, sin valerse de la Proposicion XVI, que la recta AZ es mayor que la AG. Tírese del punto G la GU perpendicular á AG, y tírese la línea AU: cortando en dos partes iguales la circunferencia BE, haciendo lo mismo con su mitad, y continuando la propia operacion, quedará al fin un arco menor que el arco del círculo BCDE subtendido por una recta igual á GU: sea KB el tal arco; será la recta KB menor que GU; y respecto de ser obtuso el ángulo BZK, como se demostró, será BK mayor que BZ: pero GU es mayor que BK: luego GU será mucho mayor que BZ; y el qua-

quadrado de  $GU$  mayor que el de  $BZ$ : es así que  $AU$  es igual á  $AB$ : luego el quadrado de  $AU$ , esto es los quadrados de  $AG$ ,  $GU$ , será igual al quadrado de  $AB$ ; esto es á los quadrados



de  $AZ$ ,  $ZB$ : pero el quadrado de  $BZ$  es menor que el de  $GU$ : luego el de  $AZ$  será mayor que el de  $AG$ : y consiguientemente la recta  $AZ$  mayor que la  $AG$ .

COR. Si en la esfera menor se inscribe un poliedro, juntando por rectas los puntos, en que los radios tirados del centro de las esferas á todos los ángulos del poliedro inscrito en la esfera mayor encuentran á la superficie de la menor, en el mismo orden en que se juntan por medio de rectas los puntos, en que los radios encuentran á la superficie de la esfera mayor; tendrá el poliedro, que está en la esfera  $BCDE$ , al que está en la otra esfera razon triplicada de la del diámetro de la esfera  $BCDE$  al diámetro de la otra esfera: porque divididos los sólidos en igual número de pirámides, y de un mismo orden; serán estas semejantes, por tener comunes los ángulos sólidos, que concurren

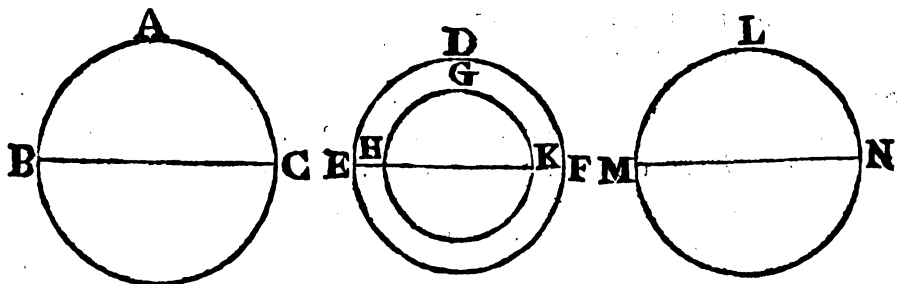
ren en el vértice , centro de la esfera , é iguales <sup>a</sup> entre sí los demás <sup>a</sup> B. XI. ángulos sólidos en las bases ; pues se hallan contenidos por tres ángulos planos respectivamente iguales entre sí , y las mismas pirámides están contenidas por igual número de planos semejantes ; y por consiguiente son semejantes <sup>b</sup> entre sí : es así que las pirámides semejantes tienen entre sí razon triplicada de sus lados homólogos <sup>c</sup> : luego la pirámide , cuya base es el quadrilátero KBOS , y vértice el punto A , tendrá á la pirámide del mismo orden , que está en la otra esfera , razon triplicada de la que un lado homólogo tiene á otro ; esto es de la que AB tirada del centro de la esfera mayor tiene á la tirada del centro de la otra . Semejantemente cada una de las pirámides , que están en la esfera mayor , tendrá á cada una de las pirámides del mismo orden , que están en la otra esfera , razon triplicada de la que tiene AB á la línea tirada del centro de la otra esfera : es así que la suma de los antecedentes es á la de los conseqüentes , como un antecedente á su conseqüente : luego todo el poliedro , que está en la esfera mayor , tendrá á todo el poliedro , que está en la esfera menor , razon triplicada de la que el radio AB tiene al radio de la otra esfera ; esto es de la que el diámetro BD tiene al diámetro de la otra esfera.

b II. Def. XI.  
c Cor. 8. XII.

PROP. XVIII. TEOR.

**L**AS esferas están entre sí en la razon triplicada de sus diámetros.

Concíbanse las esferas ABC , DEF , cuyos diámetros sean BC ,



EF. Digo , que la esfera ABC tendrá á la esfera DEF razon triplicada de la que BC tiene á EF.

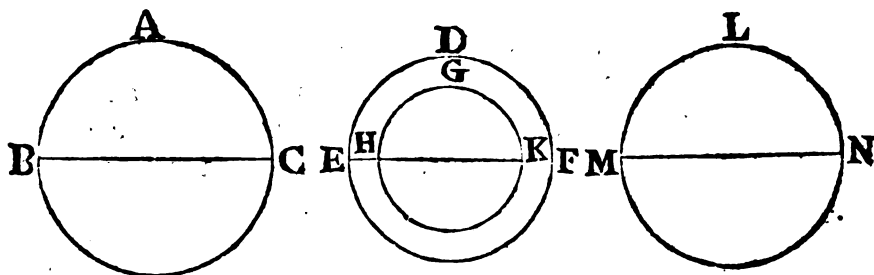
T

Por-

290 ELEMENTOS DE EUCLIDES.

Porque á no ser así, la esfera ABC tendría á alguna mayor, ó menor que la DEF razon triplicada de la que BC tiene á EF. \* Téngala primeramente á alguna menor, esto es á GHK; concíbase la esfera DEF concéntrica con la GHK, é inscribáse <sup>a</sup> en la esfera mayor DEF un poliedro, cuya superficie no toque á la esfera menor GHK; y en la esfera ABC un poliedro semejante al inscrito en la DEF: luego el poliedro inscrito en la esfera ABC tendrá al poliedro inscrito en la DEF razon triplicada de la que BC tiene á EF <sup>b</sup>: es así que la esfera ABC tiene á la GHK razon triplicada de la que BC tiene á EF: luego la esfera ABC será á la DEF, como el poliedro de la esfe-

417.XII.  
b Cor. 17.  
XI.



ra ABC al de la esfera GHK: es así que la esfera ABC es <sup>c</sup> mayor que su poliedro inscrito: luego la esfera GHK <sup>c</sup> será mayor que el poliedro inscrito en la esfera DEF; lo qual es imposible, pues es menor, por hallarse contenida por él: luego la esfera ABC no tendrá á alguna menor que DEF razon triplicada de la que BC tiene á EF. Semejantemente demostraremos, que tampoco la esfera DEF tiene á alguna menor que ABC razon triplicada de la que EF tiene á BC. Añado, que tampoco la esfera ABC tendrá á alguna mayor que DEF razon triplicada de la que BC tiene á EF: porque si fuera posible, téngala á la LMN mayor: y resultará, que invirtiendo, la esfera LMN tendrá á la ABC razon triplicada de la que el diámetro EF tiene al diámetro BC: es así que la esfera LMN es á la ABC, como la esfera DEF á otra qualquiera menor, que la ABC

\* Véase la Nota \* de la Proposicion II.

ABC <sup>d</sup>; por ser la esfera LMN mayor que la DEF: luego la <sup>d</sup> 14. V. esfera DEF tendrá á alguna menor que la ABC razon triplicada de la que EF tiene á BC; lo qual es imposible, segun se ha demostrado: la esfera, pues, ABC no tendrá á alguna mayor que DEF razon triplicada de la que BC tiene á EF: es así que se demostró, que ni tampoco á alguna menor. Por consiguiente la esfera ABC tendrá á la DEF razon triplicada de la que BC tiene á EF. L. Q. D. D.

F I N.

T 2





**NOTAS**  
**CRÍTICAS Y GEOMÉTRICAS**

**S O B R E**

**LA EDICION PRECEDENTE,**

Donde se dá razon de los pasages en que varía del Texto Griego de los **ELEMENTOS DE EUCLIDES** ; y se insertan algunas observaciones sobre ciertas Proposiciones.

**S U A U T O R**

**ROBERTO SIMSON PROFESOR DE MATEMATICA**  
**EN LA UNIVERSIDAD DE GLASGOW.**

**M A D R I D.**

---

**Por D. JOACHIN IBARRA Impresor de Cámara de S. M.**

---

**M. DCC. LXXIV.**

# CHINESE UNIVERSITY OF POLYTECHNIC

1952

CHINESE UNIVERSITY OF POLYTECHNIC

CHINESE UNIVERSITY OF POLYTECHNIC

CHINESE UNIVERSITY OF POLYTECHNIC

CHINESE UNIVERSITY OF POLYTECHNIC

1952

CHINESE UNIVERSITY OF POLYTECHNIC

CHINESE UNIVERSITY OF POLYTECHNIC

# NOTAS

## CRÍTICAS Y GEOMÉTRICAS.

---

### Sobre la DEFINICION VII. del LIBRO I.

**E**N lugar de la Definición, que traen los Códices Griegos, substituímos otra mas clara, y que contiene una propiedad de la superficie plana mencionada expresamente en los Elementos, es á saber que de un punto qualquiera de la superficie plana á otro qualquiera de la misma se puede tirar una recta, que esté toda en la misma superficie.

### Sobre la DEF. VIII. del LIB. I.

Parece, que el Autor de esta intentó definir el ángulo plano en general; esto es, no solo el contenido por dos rectas, sino tambien el que algunos conciben comprehendido por una linea recta, y una curva, ó por dos curvas, que están en un plano, y se encuentran mutuamente: pues aunque el sentido de aquellas palabras del original *ἐν ὁθείαις directamente* es claro aplicadas á dos rectas, que están directamente; no se alcanza qué inteligencia deban tener, quando se afirma, que una recta, y otra curva, ó dos curvas están directamente; y esto no se aclara en este pasage: así es muy verosímil, que tanto la mencionada Definición, como la del ángulo del segmento, y las del ángulo del semi-círculo, y de los ángulos de los segmentos, que se hallan en las Propositiones XVI, y XXXI del Libro III, sean adiciones de algun editor poco inteligente: por cuya razon, y especialmente por ser del todo inútiles, las notamos con comillas, á fin de distinguirlas de las demás.


## Sobre la DEF. XVII. del LIB. I.

A esta añaden todos los exemplares las siguientes palabras; *“que divide el círculo en dos partes iguales”*: nosotros las omitimos, por no ser parte de la Definición, sino Corolario suyo. Proclo lo demuestra concibiendo uno de los segmentos, en que el diámetro divide al círculo, aplicado al otro; pues en tal caso es manifiesto, que necesariamente se ajustarán; porque á no ser así, las rectas tiradas del centro á la circunferencia no fueran entre sí iguales. Lo mismo se demuestra facilmente por las Proposiciones XXXI, y XXIV del Libro III: de la primera de ellas se infiere, que los semicírculos son segmentos semejantes del círculo; y de la otra, que dichos segmentos son iguales.

## Sobre la DEF. XXXIII. del LIB. I.

Contiene una propiedad del definido superflua; pues toda figura cuadrilátera, que tiene los lados opuestos iguales entre sí, tiene tambien los ángulos opuestos iguales entre sí; y por el contrario.

Supóngase en el cuadrilátero ABCD el lado AB igual al CD, y el AD al BC: resultarán AD, DB iguales á CB, BD, y la base AB igual á la base CD: luego por la Proposición VIII del Libro I el ángulo ADB será igual al DBC; de donde se infiere por la Proposición IV del Libro I, que el ángulo BAD será igual al BCD, y el ABD al BDC; y por consiguiente el ángulo ADC igual al ABC.



Pero si fuese el ángulo BAD igual al BCD, y el ABC igual al ADC, tambien los lados opuestos serán iguales entre sí; porque constando de la Proposición XXXII del Libro I, que todos los ángulos del cuadrilátero ABCD juntos componen quatro rectos, de los quales siendo los BAD, ADC juntos iguales á los BCD, ABC, se infiere, que tambien los ángulos BAD, ADC juntos serán iguales á dos rectos: luego AB, CD serán paralelas, por la Proposición XXVIII del Libro I. Del mismo modo siendo los

án-

ángulos DAB, ABC iguales á dos rectos, serán AD, BC paralelas: así resulta ABCD un paralelogramo; y por consiguiente sus lados opuestos serán iguales entre sí, según la Proposición XXXIV del Libro I.

Por la expresada razon se omitió una de dichas propiedades en la Definición.

### Sobre la PROP. VII. del LIB. I.

Su demostracion tiene dos casos, y de ellos el omitido no es menos necesario, que el único que se halla en el Texto Griego: siendo claro, que primitivamente estuvo en él; pues la segunda parte de la Proposición V, del Libro I, necesaria para la demostracion del caso omitido, no tiene ningún otro uso, y manifiestamente se infiere de la primera parte, y de la Proposición XIII del mismo Libro: así es de creer, que se añadiría á causa de alguna de las Proposiciones intermedias entre la V, y XIII; y ninguna de ellas la necesita, sino la VII: á mas, la Version de la Lengua Arábica trae expresamente demostrado este caso; y Proclo reconoce, que la segunda parte de la Proposición V se añadió á causa de la VII, aunque alega la ridícula razon de que fue para dár salida á los reparos contra las Proposiciones VII, y XVI del Libro I: como si el caso omitido fuera, según él juzga, reparo contra la misma Proposición. Consulte quien quiera al mismo Proclo sobre las Proposiciones V, y VII; porque nos fastidiamos de referir sus delirios.

Ademas de esto variamos la enunciacion de la Proposición VII, conservando enteramente su sentido; porque traducida literalmente, sería su inteligencia difícil para los principiantes.

### Sobre la PROP. XI. del LIB. I.

Le añadimos un Corolario necesario para la Proposición I del Libro XI, y otras.

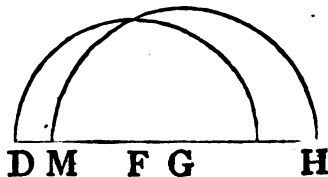
So-

## Sobre las PROP. XX, y XXI. del LIB. I.

Proclo en sus Comentarios sobre la primera nos refiere, que los Epicureos la impugnaron como notoria aun al mas negado, y por consiguiente como ociosa toda demostracion, y él mismo les responde diciendo, que aunque salta á los sentidos, que los dos lados de un triángulo son mayores que el otro; sin embargo pertenece á la Geometría hacer ver, cómo sucede esto: pero la verdadera respuesta á dicha objecion, que milita así contra esta, como contra la siguiente, y algunas otras Proposiciones, es que nunca se ha de multiplicar sin necesidad el número de Axiomas. El célebre Mr. Clairaut en el Prólogo, que precede á sus Elementos de Geometría publicados en París en 1741, dice, que Euclides se empeñó en demostrar, que juntos los dos lados de un triángulo incluso en otro son menores que los lados del *includente*; pero se olvida de añadir la condicion precisa, de que los triángulos estén sobre una misma base, sin cuya circunstancia pueden los lados de un triángulo incluso en otro ser mayores que él en qualquiera razon dada menor que la dupla, como demuestra Papo Alexandrino en la Proposicion III del Libro III de sus Colecciones Matemáticas.

## Sobre la PROP. XXII. del LIB. I.

Algunos culpan á Euclides de no demostrar, que los círculos descritos en la construccion de este Problema se encuentran mutuamente; pero esto se evidencia con claridad de haber determinado, que dos qualesquiera de las rectas DF, FG, GH juntas deben ser mayores que la otra. ¿Pues qué principiante habrá tan torpe, que con lo dicho no comprehenda, que el círculo descrito con centro F, é intervalo FD encuentra á la recta FH entre los puntos F, y H? pues la linea FD es menor que la FH; y que semejantemente el círculo descrito con centro G, é intervalo GH, ó GM encuentra á la recta DG entre los puntos G, D. ¿Y que los mismos círculos se en-



encuentran mutuamente , respecto de que las líneas FD , GH juntas son mayores que la otra FG? Esta resolucion es mas sencilla , que la que en su lugar , y deducida de ella pone Tomás Simpson en los Elementos de Geometría , pág. 49 , para suplir la omision , que imputa á Euclides , y es esta : que qualquiera de las tres rectas debe ser menor que la suma , y mayor que la diferencia de las otras ; de donde demuestra , que los círculos se encuentran mutuamente en un caso ; añadiendo , que en qualquier otro se puede demostrar de la misma forma ; pero la recta GM , que previene se quite de la recta GF , puede ser mayor que ella ; en cuyo caso habrá que mudar su demostracion.

PROP. XXIV. del LIB. I.


Muy al principio añadimos : " Supóngase , que de las rectas DE , DF no es DE la mayor " : esto es , tómesese de dichas rectas DE , DF la que no sea mayor que la otra , para formar con ella el ángulo EDG igual al BAC : sin esta precaucion serían tres diversos los casos de esta demostracion , como sucede en Campano , y otros.

PROP. XXIX. del LIB. I.

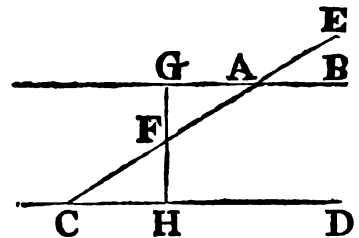
La Proposicion llamada vulgarmente Postulado V , ó Axioma XI , y por algunos XII , de la qual pende principalmente esta XXIX , ha dado no poco que hacer á los Geómetras , así antiguos , como modernos , y á la verdad no parece que debia colocarse entre las sentencias comunes , ó Axiomas , no siendo por sí manifiesta ; pero tampoco hablando en rigor admite demostracion , lo que necesita es alguna explicacion , que la aclare mas , y esta procuraremos darla á los principiantes con el método mas facil , que nos sea posible.

Primeramente qualquiera puede concebir con facilidad , que dos rectas AB , CD en un mismo plano , y perpendiculares á una misma recta AC , sean tambien equidistantes ; esto es , que en ninguna parte se acerquen , ni aparten mutuamente por mas que se prolonguen ; ó por mejor decir , es imposible formar otra idea de

de dichas rectas; porque no se puede concebir, que AB una de ellas se incline, por poco que sea, ácia la otra CD, sin concebir al mismo tiempo, que AB se inclina mas ácia las partes de la recta AC, en que está la recta CD, que ácia las contrarias; lo qual es imposible, por ser la recta



AB perpendicular á AC. Lo mismo deberá decirse de dos rectas, qualesquiera AB, CD, que contengan con alguna recta EAC ángulos iguales EAB, ECD ácia las mismas partes, por ser perpendiculares á alguna recta. Pues córtese AC en dos partes iguales en F, y tírese FG perpendicular á AB, la qual encontrará á la recta CD en H. Siendo, pues, en los triángulos AFG, CGH los ángulos GAF, AFG respectivamente iguales á los HCF, CFH, conforme á la hipótesis, y á la Proposicion XV del Libro I; y el lado AF igual al FC, tambien el ángulo AGF será igual al CHF, segun la Proposicion XXVI del Libro I: pero el ángulo AGF es recto: luego tambien será recto el ángulo CHF: consiguientemente las rectas BG, DH serán perpendiculares á una misma recta GH.



En segundo lugar se infiere claramente, que dos rectas, que salen de un mismo punto, son *divergentes*, esto es se ván apartando mútuamente una de otra mas y mas, de manera, que la distancia mínima de ellas entre el fin de una, y la otra llega á ser mayor que qualquiera recta dada. Pongo por exemplo, si en la longitud de diez pies, tomada sobre una de las rectas desde el punto de donde salen, la distancia de una á otra fuese de un pie, prolongada la recta otros diez pies, la distancia de dichas lineas se aumentará otro pie en la misma razon, que en la primera longitud; y así progresivamente mas y mas. Esto pende de la naturaleza, ó definicion de la recta, que siempre guarda una misma direccion; y no se puede demostrar rigurosamente por lo precedente.

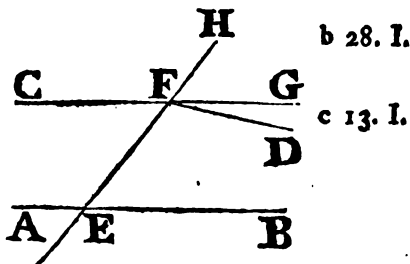
Esto supuesto, sean AB, FD las dos rectas, y córtelas otra rec-



recta EFH, formando los ángulos internos, y ácia una misma parte, es á saber BEF, EFD juntos menores que dos rectos: se encontrarán AB, FD ácia B, D, á cuya parte los ángulos son menores que dos rectos.

Constrúyase <sup>a</sup> en el punto F de la recta FH el ángulo externo <sup>a</sup> 23. I. GFH igual al interno BEF ácia la misma parte de la recta FH:

luego segun los supuestos las rectas paralelas EB, FG serán <sup>b</sup> equidistantes: y respecto de ser los ángulos HFG, GFÉ juntos iguales á dos rectos <sup>c</sup>, lo serán tambien los ángulos BEF, EFG juntos: es así que BEF, EFD juntos son menores que dos rectos: por consiguiente el ángulo EFG será mayor que el EFD; y la línea FD caerá entre las equidistantes, ó rectas paralelas EB, FG: pero prolongadas FG, FD, que salen del mismo punto F, distarán al fin entre sí mas que las rectas equidistantes FG, EB: y por lo tanto la recta FD estará ácia las partes de EB contrarias á aquellas, en que está el punto F; esto es encontrará á la EB.



PROP. XXXV. del LIB. I.

Mudamos su demostracion; pues para usar del argumento, que trae el Autor, habria que demostrar separadamente tres casos, que se encuentran en la traduccion hecha del Arabe; porque en unos Elementos no se puede omitir ningun caso de los que requieren diversas demostraciones. Así hemos seguido otro rumbo, que Mr. Clairaut fue el primero que mostró, á lo menos, que sepamos, en sus Elementos de Geometría, pág.21: y despues se ha valido de él en los suyos Tomás Simpson, pág.32, bien que este cita la Proposicion XXVI del Libro I de Euclides, de la qual sola no se deduce la igualdad de los triángulos, sino que es preciso recurrir tambien á la Proposicion IV del Libro I, como lo vemos practicado en un caso del todo semejante en la Proposicion XXXIV del Libro V de los Elementos: por lo qual es mejor usar de sola la IV.

PROP.

## PROP. XLV. del LIB. I.

Cerca del fin de la demostracion se demuestra ser la recta KM paralela á la recta FL, con el auxilio de la Proposicion XXXIII; es, pues, la KH por construccion paralela á la FG: y se demostró ser lineas rectas KHM, FGL. Añadimos un Corolario de Comandino de mucho uso.

## PROP. XIII. del LIB. II.

**H**ABLA únicamente de los triángulos acutángulos, aunque es verdadera en todo triángulo: por eso se añade la demostracion para los demas casos. Comandino, y Clavio dieron igualmente las suyas.

## PROP. XIV. del LIB. II.

Alguno por ignorancia interpoló en la demostracion estas voces: "pero si no, una de las BE, ED será mayor; séalo BE, y „prolónguese hasta el punto F"; como si hiciese al caso, que fuese la mayor, ó la menor la prolongada: así en vez de dichas cláusulas, solo se ha de leer: "prolónguese la recta BE hasta F."

## PROP. I. del LIB. III.

**A**LGUNOS Autores, en particular de los modernos, claman con excesivo rigor, y aun tal vez por efecto de ignorancia contra las demostraciones Apagógicas, ó indirectas; sin advertir, que hay cosas, que no se pueden demostrar por otro rumbo, de lo qual tenemos un exemplo evidente en esta Proposicion, que no tiene ninguna demostracion directa; pues fuera de la definicion del círculo ningun otro principio hay acerca de él, en que poder fundar demostracion directa, ni indirecta: así es necesario valerse de la expresada definicion, y de las Proposiciones demostradas antes, para demostrar, que el punto hallado por la construccion es el centro del círculo. Habiendo, pues, que usar en la demostracion de esta Proposicion: "las rectas tiradas del  
"cen-

„centro á la circunferencia son iguales entre sí”, y no pudiendo suponerse, que el punto hallado por la construccion sea el centro, por ser esto justamente lo que se vá á demostrar, es forzoso recurrir á suponer por centro algun otro punto; y si de semejante suposicion se siguiese algun absurdo, como manifiesta Euclides que se sigue, no será cierto, que el punto supuesto sea el centro; y como se ha tomado un punto qualquiera, se inferirá, que ninguno es el centro, sino el hallado por la construccion: de donde se evidencia la necesidad de la demostracion indirecta, ó por absurdo.

PROP. XIII. del LIB. III.

Siendo mucho mas facil de imaginar, que dos círculos pueden tocarse entre sí interiormente en muchos puntos que en uno, y ácia unas mismas partes, que ácia partes contrarias; pareció conveniente no omitir la figura de este caso; y no adaptándose á ella la construccion del Texto Griego, segun la qual habria que poner los centros de los círculos cerca de sus circunferencias, nos valemos de otra construccion, y demostracion, que es la parte posterior de la que trahe Campano, conforme á los Códices Arabes, aunque la divide sin fundamento en dos partes.

PROP. XV. del LIB. III.

Falta la inversa de la parte segunda, con todo de que en la anterior en semejante caso se enuncia, y demuestra la inversa; así la añadimos. Fuera de esto, en la demostracion de la primera parte se demuestra (en la figura de Comandino) ser el diámetro AD mayor que la recta BC, con el auxilio de la recta MN; quando sin ella podia demostrarse muy bien: por eso ponemos otra demostracion semejante á la que Euclides usa en la XIV precedente, y la misma que trahe Teodosio en la Proposicion VI del Libro I de los Esféricos en un caso enteramente semejante.

PROP.

## PROP. XVI. del LIB. III.

Dámosle su verdadero sentido , sin hacer mencion del ángulo del semicírculo , ni del que algunos conciben contenido por la circunferencia , y por la tangente ; sobre los quales han disputado mucho Clavio , Pelletier , y otros modernos , deduciendo paradoxas muy estrañas , á que no se dá asa alguna en la enunciacion que proponemos. Asimismo en la Proposicion XXXI de este Libro nada decimos del ángulo del segmento mayor , ó menor ; contentándonos con explicar su sentido sin ninguna de estas cosas , que sin temeridad se pueden sospechar adulteradas , dice Vieta en la pág. 386. de sus Obras Matemáticas.

## PROP. XVII. del LIB. III.

Añadimos el caso , en que el punto dado , de donde se ha de tirar la recta tangente al círculo , esté en la circunferencia del mismo.

## PROP. XX. del LIB. III.

Briggs , y Gregory traducen mal las palabras que se hallan al principio de la segunda parte de esta demostracion "κεκλάσθη ἢ πάλιν" por estas : "inclinése BDC," que debian vertir con Comandino así : *Dóblese , ó inflectase* ; pues se dice , que una recta se dobla , ó *inflecte* ácia otra linea recta , ó curva , quando desde un punto á aquella linea se ha tirado una recta , y desde el punto de concurso á otro se ha tirado otra recta , que con la antecedente forma un ángulo , como es manifesto por la Proposicion XC de los Datos : pues de esta manera toda la linea entre el punto primero , y último está doblada , *inflexa* , ó quebrada en el punto de concurso , encuentro , ó inflexion ; en semejante sentido se dice , que dos rectas se *inflecten* de dos puntos á otro tercero , quando forman un ángulo en este punto ; como puede verse en la descripcion de los Lugares planos de Apolonio en el Prefacio de Papo Alexandrino á su Libro VII. Esta locucion la aclaramos con la Proposicion XC de los Datos.

PROP.

PROP. XXI. del LIB. III.

Tiene dos casos; el segundo, que es quando los ángulos están en un segmento menor que el semicírculo, no se halla en el Texto Griego, y para él hemos añadido una demostracion mas sencilla, que la que dió Comandino; como derivada únicamente del primer caso, sin recurrir á los triángulos.

PROP. XXIII. y XXIV. del LIB. III.

En la XXIV se demuestra, que el segmento AEB (véase la figura de Comandino) no puede dexar de ajustarse al segmento CFD, y tener una situacion diversa de la de este, como el CGD, encontrándose mutuamente uno á otro los arcos en el punto G: pues á no ser así, un círculo cortaría á otro en mas de dos puntos; la imposibilidad de lo qual, y de que uno de los segmentos caiga dentro del otro, debió demostrarse en la Proposicion XXIII: así esto se ha quitado de la XXIV; y restituido á la XXIII, que es su propio lugar.

PROP. XXV. del LIB. III.

Se divide en tres casos; dos de ellos tienen la misma construccion, y demostracion, por lo qual solo la dividimos en dos partes.

PROP. XXXIII. del LIB. III.

Tambien se halla dividida en el Texto Griego en tres casos: de los quales dos; es á saber quando el ángulo dado es agudo, y quando es obtuso, tienen construccion, y demostracion enteramente las mismas: por lo qual hemos quitado de los Elementos la demostracion última como superflua, y añadida por algun ignorante: además de esto, la demostracion del caso, en que el ángulo dado es recto, está mal, y por rodeos: así le hemos substituido otra mas simple, siguiendo á Clavio.

## PROP. XXXV. del LIB. III.

Así como las Proposiciones XXV, y XXXIII se hallan divididas en mas casos de los precisos, la presente lo está en menos: ni se debe juzgar, que Euclides los omitiese, por su sencillez, quando dió el mas facil de todos, á saber aquel, en que ambas rectas pasan por el centro; y en la Proposicion XXXVI siguiente demuestra separadamente el caso, en que la recta pasa por el centro: así es de creer, que Theon lo suprimió por la brevedad, lo que de ningun modo debió hacer en una institucion Elemental, como dexamos advertido: por tanto añadimos los casos omitidos, que tambien se encuentran en las versiones del Arábigo.

## PROP. XXXVII. del LIB. III.

Aquellas palabras, que están al fin: "semejantemente se demostrará, si el centro estuviere en AC" las borramos, como añadidas ignorantemente por algun editor.

## Sobre algunas DEFINICIONES del LIBRO IV.

QUANDO en una recta, ó en otra qualquiera linea existe algun punto, dicen los Geómetras Griegos, que aquel punto *ἀπ'ιεται*, *tangit*, *toca* á la linea: y quando una recta, ó un círculo encuentra á otro de qualquiera manera, se dice tambien que lo toca: pero quando una recta, ó círculo encuentra á otro de tal suerte que no lo corta, entonces dicen, *ἐφ'ἀπ'ιεται*, *contingit*, *que se tocan mutuamente*; y nunca equivocan estas voces, usándolas promiscuamente: así en la Definicion V del Libro IV se debe leer *ἐφ'ἀπ'ιεται* en lugar de *ἀπ'ιεται*; en las Definiciones I, II, III, y VI de la version de Comandino debe leerse *toca*, en vez de *toca mutuamente*. La misma mutucion hay que hacer en la II, y III del Libro III: y por el contrario en el Texto Griego se debe poner el verbo compuesto en lu-

lugar del simple en las Proposiciones XVIII , y XIX del Libro III \*.

PROP. IV. del LIB. IV.

Así aquí , como en las Proposiciones VIII , y XIII de este Libro , se demuestra por absurdo , que el círculo toca á las rectas : siendo así que lo mismo se halla demostrado directamente en las Proposiciones XVII , XXXIII , y XXXVII del Libro III: cuyo método por mas breve , y expedito seguimos en estas Proposiciones del presente Libro.

PROP. V. del LIB. IV.

Alguno debió viciar esta demostracion , pues no demuestra , que concurren en un punto las rectas que cortan por medio , y perpendicularmente los lados del triángulo : y además divide neciamente la Proposicion en tres casos , quando para todos sirven una misma construccion , y demostracion , como notó Campano: por eso suprimimos estas repeticiones. Tambien está manifiestamente viciado el Texto Griego en el Corolario , en que se hace mencion del ángulo dado , siendo así que en la Proposicion nada hay , ni puede haber del ángulo dado.

PROP. XV. y XVI. del LIB. IV.

En el Corolario de la primera faltan en el Texto Griego las voces "equilátero , y equiángulo : " y en la segunda está la palabra *círculo* en lugar de *circunferencia* , quando se dice : "Si la »circunferencia ABCDF se concibe dividida."

\* N. T. En todo el contexto de la Obra , quando una recta encuentra á otra , ó á una circunferencia de círculo , terminándose en ellas , de qualquiera manera que sea , hemos dicho , que las *encuentra* , en vez de decir , como en el Texto , que las *toca* ; pero quando una recta , ó un círculo encuentra á otro círculo , sin cortarse , entonces diximos que lo *toca* , en lugar de decir , que lo *toca mutuamente*.

## DEFINICION III. del LIBRO V.

**M**UCHOS modernos la reprueban, como nada exácta. El sabio Isaác Barrow la explicó latamente al fin de la Lección III del año de 1666; deshaciendo, en quanto lo permite el asunto, las dificultades, que hay contra ella; y remata dicha Lección, exponiendo en el epílogo su sentencia en los términos siguientes.

“Añadiré, que quizás el Autor de los Elementos no se pondría otra cosa al formar esta Definición Metafísica, sino dár con ella á los principiantes una idea general, ó razon universal, que sirviese para complemento, y adorno de su método, y como preludio de las exáctas Definiciones, que despues trae de la razon mayor, y menor: llámola Metafísica, porque propiamente no es Matemática, pues en esta Facultad nada pende, ni se deduce de ella, ni en mi juicio se puede deducir. De la misma naturaleza se debe reputar la Definición de la Analogía, que sigue despues, diciendo, que es la semejanza de las razones; la qual no tiene uso alguno matemático, ni otro objeto en mi dictamen, que el de dár á los principiantes alguna nocion, aunque imperfecta, y confusa de la Analogía. De muy distinta naturaleza son las exquisitas Definiciones Matemáticas, que entran despues: pues en ellas estriba toda la doctrina de las razones, y todo el edificio de las Matemáticas: y así se deben llevar nuestra principal atención, como que aclaran perfectamente todo el punto de las razones: al mismo paso que las otras se podrían omitir sin notable perjuicio de la Facultad, como lo vemos practicado en el Libro VII de los Elementos, donde se define, y trata de la Analogía de los números, sin dár definición alguna de la razon, que convenga al número, aunque allí era no menos necesaria, y util semejante definición: lo cierto es, que ni en una, ni en otra parte harían gran falta: pero no obstante creo, que una cosa tan general, y abstracta, y por consiguiente de tan ardua explicación, con dificultad admitiría otra mas oportuna, que la que el Autor dá aquí: por cuya razon me ha parecido conveniente explicarla mas extensamente, y no dexarla indefensa contra los sofismas de sus impugnadores.” Nada se me ofrece añadir, sino que con-

ven-



vencido por las razones expuestas de la inutilidad de dicha Definicion, como tambien de la VIII siguiente, me persuado firmemente no ser de Euclides, sino de algun editor menos inteligente.

**DEF. XI. del LIB. V.**

Fue indispensable añadir la voz "deinceps", *continuo* antes de "proporcionales"; y así se cita en la Proposicion XXXIII del Libro XI.

Despues de esta Definicion tuvimos por conveniente colocar, como en su propio lugar, la de la razon compuesta, de la qual son especies la razon duplicada, triplicada, &c. que se definen en esta, y en la antecedente: pero Theon la puso V del Libro VI, donde dá una Definicion de la razon compuesta totalmente inutil, y absurda. Así substituímos entre las Definiciones XI, y XII de este Libro otra conforme sin duda á la que dió Euclides, pues la cita expresamente en la Proposicion XXIII del Libro VI, y á la que traen Clavio, Herigonio, y Barrow; bien que estos conservan la de Theon, que debieron excluir de sus Elementos.

**DEF. XIII. del LIB. V.**

Esta, y la siguiente se dirigen á explicar algunos términos, que ocurren en este Libro; y en los siguientes; cuyo sentido, á excepcion del de poquíssimos, es muy inteligible por las mismas Proposiciones de este Libro; que es donde primeramente se usan; así dichas Definiciones parecen añadidas por Theon, ó algun otro; sin embargo he tenido por conveniente conservarlas con separacion para comodidad de los principiantes.

**PROP. IV. del LIB. V.**

En la construccion, que precede á la demostracion, omiten dos veces el Texto Griego, y la version latina la voz "qualesquiera": nosotros la añadimos, como absolutamente necesaria.

En la misma demostracion, en el Texto Griego, en la version latina de Comandino, y en la de Henrique Briggs publicada en Londres en 1620, juntamente con el Texto Griego de los seis primeros Libros, y seguida en este pasage por David Gregory en su edicion de las Obras de Euclides, se hallan las siguientes palabras: "Se han tomado K, L equimúltiples de A, C; y M, N otras qualesquiera equimúltiples ( $\alpha \epsilon\tau\upsilon\chi\epsilon$ ) de B, D": que de ningun modo son verdaderas: por lo qual hubo que borrar la voz "qualesquiera": siendo de admirar, que ni Briggs, que con razon omitió la misma voz en un pasage de la Proposicion XIII; ni Gregory, que la mudó en la palabra "algunas" en quatro lugares de la misma Proposicion XIII, la omitiesen en el presente lugar de la Proposicion IV, ni en el segundo, en que se halla de la Proposicion XVII: quando en ambos no puede subsistir, salva la verdad: y en ninguno de dichos lugares borraron los editores del Texto Griego la voz  $\alpha \epsilon\tau\upsilon\chi\epsilon$ , como debian haber executado.

Las mismas palabras se hallan en quatro lugares de la Proposicion XI de este Libro; en el primero, y último son necesarias; pero en los otros dos superfluas, aunque verdaderas; como tambien lo son en el segundo lugar, en que se hallan de la XII de este Libro.

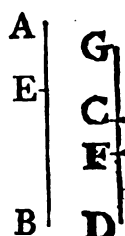
### COR. de la PROP. IV. del LIB. V.

Es adición de algun ignorante en lugar de la demostracion legítima, que Theon, ú otro editor quitó sin duda, no de este lugar, sino del suyo propio en este Libro: el Autor de este Corolario intentaba demostrar, que las cantidades proporcionales E, G, F, H, tambien lo son inversamente; esto es que G es á E, como H á F: lo qual, aunque cierto, de ningun modo se deduce de esta Proposicion, ni de su demostracion. Donde se dice: "Estando, pues, demostrado, que si K excede á M, excederá L á N, &c.": esto demostró en la demostracion de la Proposicion, pero no deduciéndolo, de que son proporcionales E, G, F, H; pues esto es la conclusion de la Proposicion: por consiguiente dichas palabras son fuera de propósito: pues de-

debió demostrar, que si K excede á M; L excederá á N, por la hipótesis de que E, G, F, H son proporciones, y por la Definicion V de este Libro; lo qual no hace: nosotros lo executamos en la Proposicion B, que pusimos en su propio lugar en vez de este Corolario: y substituimos otro á la Proposicion IV necesario para la demostracion de la XVIII, y utilísimo para otras muchas ocasiones, cuya demostracion se incluye en la de la Proposicion.

PROP. V. del LIB. V.

En la construccion precedente á la demostracion, que se halla en el Texto Griego, y en sus versiones latinas, se requiere, que EB se haga tántupla de CG, cuántupla es AE de CF; esto es que EB se divida en tantas partes iguales, quantas hay en AE iguales á CF: de donde se evidencia no ser esta construccion de Euclides, el qual hasta la Proposicion IX del Libro VI no enseña el modo de dividir las rectas, ni otras magnitudes en partes iguales; y segun su método nunca previene hacer en la construccion cosa alguna, que antes no haya enseñado á practicar: por eso mudamos la construccion; substituyendo la que sin duda dió Euclides, en la qual nada se pide, sino que se añada algunas veces una cantidad á sí misma: y es la que traen las traducciones hechas sobre el Arabe, sin embargo de estar en ellas torpemente viciadas la enunciacion, y demostracion de la Proposicion. El primero, que tengo noticia observase este error, fue Jacobo Pelletier, quien en su Euclides dá la legítima construccion, despues de puesta la erronea, diciendo que no quería omitirla por sutil, y capaz de aguzar el ingenio para hallar otras semejantes; siendo así, que entre las dos demostraciones no hay diferencia, sino en la construccion, la qual es muy verosimil fuese parto de algun Copista ignorante. Tambien Clavio pone ambas construcciones, la vulgar, y la genuina; pero ni él, ni Pelletier indican la razon, que hay para preferir una á otra.



## PROP. VI. del LIB. V.

Tiene dos casos: Los exemplares Griegos solo mencionan el primero, que es mas obvio: siendo verosimil, que Theon juzgaría bastaba uno, pues ni uno, ni otro sirve para demostracion alguna en su mutilada edicion del Libro V: bien que por la misma razon podia omitir el caso que pone, y la Proposicion V: nosotros hemos añadido la demostracion del segundo caso; pues así aquel, como este, y la Proposicion V son necesarias para la demostracion de la Proposicion XVIII de este Libro, y las traducciones de la Lengua Árábica expresan ambos brevemente,

## PROP. A. del LIB. V.

Los Geómetras usan freqüentísimamente de esta Proposicion, de que tambien se usa en la XXV del presente Libro, en la XXXI del VI, en la XXXIV del XI, y en la XV del XII, y parece que Theon la quitaría de los Elementos, por parecerle harto evidente á él, y á otros, que substituyen la confusa, y vaga idea de las proporcionales, recibida en el vulgo, en lugar de la exácta, que resulta de la Definicion V del Libro V: no siendo posible, que Eudoxò, ó Euclides, que corroboraron con demostracion las Proposiciones VII, y IX de este Libro, nada mas dificiles que la presente, omitiesen esta en sus Elementos.

De aquí tomó ocasion Alfonso Borelli para censurar grave, pero iniquamente la Definicion V de este Libro por estas palabras, que se hallan á la pág. 126 de su Euclides restablecido, Edicion de Pisa de 1658: "De dicha propiedad (la especificada en la Definicion V del Libro V) no se puede deducir ni el mas leve conocimiento, de que si quatro cantidades son proporcionales, y la primera excede á la segunda, la tercera deba necesariamente exceder á la quarta, como confiesa Clavio en la Proposicion XVI del Libro V de los Elementos." No está expresa tal confesion en Clavio; pero si dió fundamento á Borelli para afirmar así, quando reprehende á Comandino, y con razon por haber demostrado esta Proposicion por la XVI del Libro

bro V, bien que sin asignar ninguna demostracion, juzgándola clarísima por la naturaleza de las proporciones, como se explica al fin de las Propositiones XIV, y XVI del Libro V de su Edicion: y le sigue Pedro Herigonio en el Escolio I de la Proposition XIV del Libro V; como si las proporcionales tuviesen alguna naturaleza anterior á la que se concibe por su misma definicion: y aunque la demostracion de la Proposition es sumamente facil, no sé que ninguno la haya dado hasta ahora, sino el Doctísimo Barrow, que en su respuesta á las objeciones de Borrelli la demuestra, pág. 322 de sus Lecciones Matemáticas breve, y clara, aunque indirectamente por la Definicion V del presente Libro: pero con facilidad se demuestra directamente por la misma Definicion; por lo qual la colocamos despues de las Propositiones de las cantidades equimúltiples.

**PROP. B. del LIB. V.**

Tambien se deduce facilmente de la Definicion V, y así con razon se coloca despues de la antecedente, y muy fuera de propósito se halla, como Corolario de la Proposition IV de este Libro. Véase la Nota al Corolario de dicha Proposition.

**PROP. C. del LIB. V.**

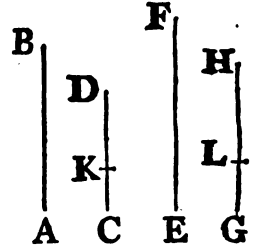
Es de frecuente uso entre los Geómetras, y necesaria para las Propositiones V, y VI del Libro X. Clavio en las Notas siguientes á la Definicion VIII del Libro V la demuestra solo por números con auxilio de algunas Propositiones del Libro VII, y de la Definicion V de este; en quanto conviene á los números, para demostrar con ella lo que de los números proporcionales, se halla en la Definicion XX del Libro VII. Muchos Comentadores creen difícil de demostrar, que quatro cantidades, que son proporcionales, segun la Definicion XX del Libro VII, lo sean tambien conforme á la Definicion V del Libro V; pero es facil como se sigue.

I.º Sean A, B, C, D quatro cantidades, de las cuales la primera A sea equimúltiple, ó la misma parte de la segunda B, que la

la tercera C de la quarta D. Serán A, B, C, D proporcionales: esto se demuestra en la Proposición C.

II.º Si la primera AB fuese la misma parte de la segunda CD, que la tercera EF de la quarta GH: tambien en este caso será AB á CD, como EF á GH.

Sea CK parte de CD, GL la misma parte de GH, y AB equimúltiple de CK, como es EF de GL: luego por la Proposición C de este Libro AB será á CK, como EF á GL: es así que CD, GH son equimúltiples de CK, GL: luego por el Corolario de la Proposición IV del Libro V. AB será á CD, como EF á GH.

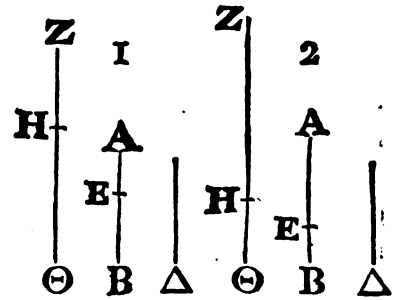


PROP. D. del LIB. V.

Se usa varias veces para demostrar otras, y es necesaria para la Proposición IX del Libro VI: siendo de creer, que Theon la omitiría por la razon mencionada en las Notas á la Proposición A.

PROP. VIII. del LIB. V.

En su demostracion, qual se halla hoy en el Texto Griego hay dos casos. ( Véase la demostracion en la Edicion de Hervagio, ó en la de Gregory.) El primero es, quando AE es menor que EB, y entonces se infiere necesariamente, que H⊙, múltiple de EB, es mayor, que ZH, equimúltiple de AE, la qual múltiple de AE es por construccion mayor que Δ: por consiguiente tambien H⊙ será mayor que Δ. Pero en el segundo caso, en que



EB es menor que AE, aunque ZH sea mayor que Δ, puede no obstante H⊙ ser mayor que Δ; por consiguiente no se puede tomar múltiple de Δ, que sea el primero mayor que K, ó H⊙; porque la misma Δ es mayor: por tanto le fue preciso al Autor de esta demostracion mudar una parte de la construccion, bien que no tenia

ne-

necesidad de mudar en este segundo caso, añadida otra parte de la construccion al primero, pues quando previene que se tome  $N$  múltiplice de  $\Delta$  el primero mayor que  $ZH$ ; podia tomar el múltiplice de  $\Delta$ , que es el primero mayor que  $H\Theta$ , ó  $K$ , como se hizo en el primer caso. Tambien  $K$  es impertinente en la demostracion de uno, y otro caso; pues de nada sirve, sino de hacerla mas prolixa. Otro tercer caso hay omitido en esta demostracion; es á saber quando  $AE$  en el primer caso, ó  $EB$  en el segundo es mayor que  $\Delta$ , en el qual se tomarán qualesquiera equimúltiplos de  $AE$ , y  $EB$ , v. g. sus duplos, como se practica en esta edicion, demostrando de una vez todos los casos. De aquí se evidencia, que Teon, ú otro poco versado en la Geometría vió esta demostracion.

PROP. IX. del LIB. V.

Damos una demostracion de ella mas clara de la que hasta ahora ha habido en los Elementos.

PROP. X. del LIB. V.

Fue indispensable dár otra demostracion, pues la de las ediciones Griegas, Latinas, y otras, no es legítima; porque las voces *mayor*, *la misma*, ó *igual*, y *menor*, hablando de cantidades, tienen un sentido totalmente diverso, que hablando de razones; como consta de las Definiciones V, y VII de este Libro: con cuyo auxilio exâminaremos la demostracion de la Proposicion X, que dice así: "Tenga A á C mayor razon, que B á C. Digo, que A será mayor que B; pues á no serlo, fuera igual, ó menor; igual no lo es, porque entonces ambas A, y B tendrían una misma razon á C; pero no la tienen: luego A no será igual á B." La fuerza de este racionio se reduce á lo siguiente. Si A es á C, como B á C, tomadas qualesquiera equimúltiplos de A, B, y qualquiera múltiplice de C, si la múltiplice de A fuese mayor que la de C, resultará en fuerza de la Definicion V de este Libro la múltiplice de B mayor que la de C: pero por la hipótesis A tiene mayor razon á C, que B

B á C, resultarán en fuerza de la Definición VII de este Libro, algunas equimúltiples de A , B , y alguna múltiple de C tales, que la múltiple de A será mayor que la de C, y la de B no será mayor. Es así que esta Proposición repugna directamente á la anterior: luego A no es igual á B. Continúa la demostración: "Tampoco A es menor que B, pues entonces A tendría á C menor razón que B; lo qual es falso: luego A no será menor que B, &c." Aquí se dice, que A tendría á C menor razón que B, ó lo que es lo mismo, B tendría á C mayor razón que A; esto es en virtud de la Definición VII de este Libro, que habrá algunas equimúltiples de B, A , y alguna múltiple de C tales, que la múltiple de B sea mayor que la de C, y la de A no sea mayor: pero se debía demostrar, que esto nunca podia suceder, si la razón de A á C fuera mayor que la razón de B á C; y así era forzoso demostrar, que en este caso la múltiple de A siempre excede á la de C, si la de B la excede; demostrado lo qual, sería manifiesto, que B no podia tener á C mayor razón que A; esto es, que A no podia tener á C menor razón que B: y esto de ninguna manera está demostrado en la demostración de la Proposición de que hablamos; siendo así, que si lo estuviera, se podría inferir inmediatamente de ella: sin su auxilio no es fácil lograrlo, como lo reconocerá cualquiera, que pruebe á demostrarla: luego la demostración de la X no es legítima, y parece que lo que equivocó al que la substituyó en lugar de la de Eudoxò, ó Euclides, fue trasladar á las razones lo que es manifiesto de las cantidades; es á saber, que una no puede ser al mismo tiempo mayor, y menor que otra. Aquel Axioma: "las cantidades iguales á una misma son iguales entre sí", tan evidente aplicado á cantidades, no es el que usa Euclides para demostrar que las razones, que son iguales á una misma, son iguales entre sí: sino que esto lo demuestra expresamente en la Proposición XI del Libro V. No es dudable, que la demostración, que ponemos en el texto de esta X, es la misma de Eudoxò, ó Euclides; respecto que la conclusión de ella se demuestra breve, y directamente por la Definición de la razón mayor, que es la VII del Libro V.


Dicha Proposición se demuestra con el auxilio de la X así.  
Ten-



Tenga A á C mayor razon que B á C; si se toman algunas cantidades equimúltiples de A, B, y otra múltiple de C, siendo la múltiple de B mayor que la de C; tambien será mayor que la misma múltiple de C la múltiple de A.

Sean, pues, D, E equimúltiples de A, B; y F múltiple de C, de manera que E múltiple de B sea mayor que F: será tambien D múltiple de A mayor que F.

Porque teniendo A á C mayor razon que B, será A por la X del Libro V mayor que B: luego D múltiple de A será mayor que E equimúltiple de B: es así que E es mayor que F: luego D será mucho mayor que F.



PROP. XIII. del LIB. V.

En las Versiones de Comandino, Briggs, y Gregory se dice al principio de la demostracion: "y la múltiple de C excede á la »múltiple de D; pero la múltiple de E no excede á la múltiple »de F." Estas palabras son traducidas á la letra del Texto Griego; pero el contexto del pasage pide manifestamente, que se lean de este otro modo: "de manera, que la múltiple de C exceda á la »múltiple de D, y la múltiple de E no exceda á la múltiple »de F;" y así se halla restablecido este pasage en las primeras ediciones de la Version de los Elementos por Comandino, impresas en Oxford; pero en las posteriores, á lo menos en la de 1747, se ha conservado el error del Texto Griego.

A la Proposicion B. se añade un Corolario necesario para las XX, y XXI de este Libro, y tan util como ella misma.

PROP. XIV. del LIB. V.

Aquí me pareció añadir dos casos, cuya demostracion no se halla en el Griego; pues no es en todo semejante á la del primero.

PROP.

## PROP. XVII. del LIB. V.

Alteramos el orden de su demostracion, dándole otro mas natural en pocas palabras; y lo mismo hacemos en la Proposicion XI.

## PROP. XVIII. del LIB. V.

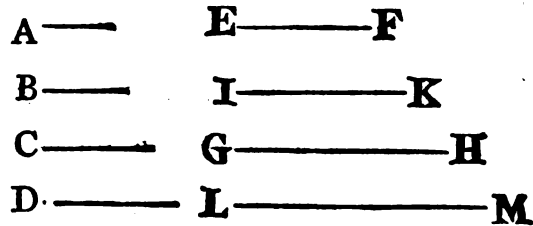
La demostracion no es de Euclides, ni legítima; pues supone, que dadas tres cantidades, dos á lo menos de un mismo género, existe una quarta proporcional á ellas, antes de haberse demostrado nada vale la demostracion, que ahora se lee; pero aquello se admite sin demostracion; ni alcanzo, cuál pueda darse sin mas socorro que el de las Proposiciones antecedentes: tan lexos está de reputarse por Axioma, como quiere Clavio despues de las Definiciones del Libro V, siguiendo á otros Intérpretes. Euclides ciertamente no demuestra, ni aun cómo se puede hallar la quarta proporcional, hasta la XII del Libro VI; y segun su método jamás supone en la demostracion de las Proposiciones cosa alguna, que antes no haya demostrado, ó á lo menos, cuya posibilidad no sea por sí misma evidente; pues de una Proposicion incierta no se puede deducir ilacion cierta. Así, pues, en lugar de la demostracion que corre, y ciertamente fue substituida por Theon, ó alguno otro, en lugar de la de Euclides, como mas prolixa; colocamos la legítima: y como quiera que la Proposicion XVII, de quien es inversa la XVIII, se demuestre por las Proposiciones I, y II de este Libro, por eso en la demostracion que dimos de la XVIII, fue necesario traer la Proposicion V, y ambos casos de la VI del Libro V, que son inversas de la I, y II. De las Proposiciones V, y VI no se usa en ninguna otra de este Libro, qual lo tenemos en el dia, ni puede servir en los Elementos para otra, que para la XVIII; siendo este indicio cierto de que Euclides se valdria de ellas en su demostracion de la XVIII, y que la nuestra, que es como debe, inversa de la demostracion de la XVII, no se diferencia de la de Eudoxô, ó Euclides; pues para nada servirían la V, y VI, si no se usasen en las demostraciones del Libro V, como sucede con todas las demas, que tratan de las cantidades equimúltiples.

Ge-

Gerónimo Saccherio en su Obra intitulada, *Euclides ab omni nœvo vindicatus*, impresa en Milan en 1733, reconoce esta imperfeccion en la demostracion de la XVIII; y para rectificarla, se esfuerza en la pág. 115 á demostrar la Proposicion siguiente.

“Sean quatro cantidades A, B, C, D, las dos primeras de un mismo género, y semejantemente las segundas tambien de un mismo género, bien sea el de las primeras, ú otro. Digo, que la razon de la tercera C á la quarta D será igual, mayor, ó menor que la razon de la primera A á la segunda B.” Y despues de anteponer dos Proposiciones, como Lemas, prosigue así.

“Entre las cantidades posibles equimúltiples de la primera A, y de la tercera C, y juntamente entre las posibles equimúltiples de la segunda B, y de la quarta D, ó se hallan una qualquiera EF múltiplice de la primera A, y otra IK múltiplice de la segunda B iguales entre sí; y juntamente (en el



mismo caso) alguna GH múltiplice de la tercera C igual á LM múltiplice de la quarta D: ó en ninguna parte se halla tal igualdad. En el primer caso consta por lo ya demostrado, que A será á B, como C á D: y en el segundo caso de no hallarse nunca semejante igualdad de una, y otra parte á un mismo tiempo, ó se hallará á lo menos á alguna parte, como por exemplo á la de la primera A (y de la segunda B), ó en ninguna parte; si es lo primero: luego segun la definicion anterior, que dá Euclides de las proporciones mayor, y menor, A tendrá á B mayor, ó menor proporcion que C á D; segun GH múltiplice de la tercera C fuere menor, ó mayor que LM múltiplice de la quarta D. Si es lo segundo: luego por una parte, v. g. de la A primera, y de la B segunda, podrá suceder, que aquella múltiplice de EF sea menor, que la otra múltiplice de IK, quando por la parte contraria aquella múltiplice GH es mayor que la otra múltiplice LM: y entonces conforme á la misma Definicion de Euclides la razon de la primera A á la se-

”gun-

„gunda B será menor que la razon de la tercera C á la quarta D, „ó al contrario.”

“Luego queda demostrado el Axioma substituído” (Esto es la Proposicion dicha), &c.

De ninguna manera queda demostrado, pues lo que se dice que podría suceder en innumerables casos, nunca sucederá; y consiguientemente la demostracion es nula: porque si, v. gr. A fuese lado, y B diagonal de un quadrado; y C lado, y D diagonal de otro; nunca la múltíplice de A podrá ser igual á la de B, ni alguna múltíplice de C igual á alguna de D, como es patente; y á mas nunca podrá acontecer, que dada una múltíplice de A mayor, ó menor que una de B, la múltíplice de C sea inversamente menor, ó mayor que la múltíplice de D: es á saber, tomando unas equimúltíplices de A, C, y otras equimúltíplices de B, D; porque A, B, C, D son proporcionales.

El mismo juicio, que de esta demostracion, se deberá formar de la que algunos dán de la Proposicion I del Libro VI; pues ambas estriban en un mismo fundamento no demostrado.

### PROP. XIX. del LIB. V.

Añádesele un Corolario tan util muchas veces, como ella misma; el qual no se halla en el Texto Griego: y esto muestra claramente, que el Libro V. ha sido adulterado por ignorantes; pues la conversion de razon de ningun modo pende de la XIX; y la demostracion de ella, que dán varios Intérpretes de Euclides, valiéndose de la XIX, no es legítima como observó justamente Clavio, quien dá la demostracion legítima, que ponemos en la Proposicion E: bien que la coloca, como Corolario de la XIX, que empieza así: “De aquí se infiere facilmente”; siendo así que de ningun modo se infiere.

### PROP. XX, XXI, XXII, XXIII, y XXIV del LIB. V.

Las demostraciones de la XX, y XXI son mas breves que las que usa Euclides en otras mas fáciles, así del presente Libro,  
co-

como de los siguientes: por lo qual ha parecido exponerlas mas expresamente. La XXII, y XXIII se extienden, como debian, á qualquiera cantidades; y asimismo se puede extender la XXIV, como se nota en el Corolario, añadiendo otro segundo tan util como la Proposicion: tambien se añade la voz "qualesquiera" al fin de la Proposicion XXIII; la qual faltaba en el Texto Griego, y en las versiones.

En una obra del Sr. Felipe Naudeé publicada despues de su muerte en la Historia de la Real Academia de Berlin del año de 1745, pág. 50 se censura la Proposicion XXIII del Libro V de Euclides, como obscuramente enunciada, y demostrada por un rumbo extraviado: pero la enunciacion allí puesta no es de Euclides, sino de Tacquet; la qual, aunque no tan oportuna, es la misma que ahora se halla en los Elementos: pero nada tjene de obscura, aunque el Autor de dicho escrito dispone las proporcionales con perverso orden: lo qual obscurece mas la enunciacion: no siendo dudable, que Euclides la generalizó á qualesquiera cantidades, que tomadas de dos en dos fuesen proporcionales, sin limitarla á solo seis: como executa Naudeé, cuya enunciacion no es adaptable al caso general.

La demostracion de la Proposicion XXIII del Libro V, que se halla en la citada Obra, es totalmente inepta: porque si las cantidades proporcionales fuesen figuras planas, ó sólidas, no se podría concebir, que de ellas se formase rectángulo alguno (que el Autor llama ignorantemente producto); y si se dice, que en tal caso se han de tomar rectas proporcionales á las figuras, la demostracion saldría mas larga que la de Euclides: á mas, que aun quando la demostracion de Naudeé fuese justa, es visible, que no puede colocarse en el Libro V.

### PROP. F, G, H, y K del LIB. V.

A el fin de este Libro añadimos dichas Proposiciones, por uearlas amenudo los Geómetras, así antiguos, como modernos: y sin ellas, á la verdad, no se podría en muchos casos usar de las razones compuestas para las demás.

El que deseáre vér sólidamente defendida la doctrina de las

SCHE

X

pro-

proporcionales contenida en este Libro, y plenísimamente satisfechas las dificultades, que contra ella acumulan Andres Tacquet, Alfonso Borrelli, y otros, puede consultar las Lecciones Matemáticas VII, y VIII del gran Barrow del año de 1666.

Concluída yá la enmienda del Libro V por fin de él asiento gustosísimo á la opinion del Cl. Barrow: es á saber "que nada hay »en toda la Obra de los Elementos inventado con mayor sutileza, establecido con mas solidez, ni tratado con mas exáctitud, »que la doctrina de las proporcionales": por cuyo juicio es de temer, que muchos Geómetras de hoy no quieran pasar, como ha sucedido á los demás desde el tiempo de Theon acá.

### DEFINICIONES II. y V. del LIBRO VI.

**L**A segunda no parece de Euclides, sino de algun ignorante, pues en Euclides no se hace mencion alguna de las figuras recíprocas, ni en ningun otro Geómetra, que yo sepa: además está enunciada en términos oscuros; por lo qual la aclaramos mas; y nos parece, que en su lugar debiera colocarse la siguiente.

#### DEF. II.

"Dos cantidades proporcionales se dicen recíprocamente proporcionales á otras dos, quando una de las primeras es á una »de las segundas, como la restante de las segundas á la restante »de las primeras".

La Definicion V introducida desde el tiempo de Theon en los Elementos, con grave perjuicio de los discípulos, la hemos suprimido con justo motivo por las razones, que se alegarán en las Notas á la Proposicion XXIII del Libro VI.

### PROP. I. y II. del LIB. VI.

El Corolario añadido á la primera tiene frequentísimo uso, y la enunciacion de la segunda la generalizamos mas.

PROP.

**PROP. III. del LIB. VI.**

Se ha añadido el caso segundo, que se halla en la Proposicion A, tan util como el primero ; es á saber quando el ángulo externo del triángulo se divide en dos partes iguales por una recta : su demostracion es semejantísima á la del primer caso , y esta sería tal vez la causa , que movería á algun editor ignorante para omitir , así la demostracion , como el caso ; y á la verdad Pappo usa de ella sin demostracion , como una Proposicion Elemental en la Proposicion XXXIX del Libro VII de las Colecciones Matemáticas.

**PROP. VII. del LIB. VI.**

Añadimos el caso omitido , el qual ocurre no pocas veces en las demostraciones.

**PROP. VIII. del LIB. VI.**

Está patente , que alguno mudó la demostracion , que dió Euclides de esta Proposicion ; pues su Autor despues de demostrar , que los triángulos son equiángulos entre sí , demuestra separadamente , que sus lados , que comprehenden ángulos iguales , son entre sí proporcionales , como si esto no quedase demostrado en la Proposicion IV de este Libro : redundancia que no se halla en la traduccion del Arabe , y ahora se ha omitido.

**PROP. IX. del LIB. VI.**

La demostracion de esta es para un caso particular , es á saber quando de la recta dada se ha de cortar la tercera parte ; por lo qual no parece de Euclides : además que de quatro cantidades proporcionales concluye el Autor , que la tercera es equimúltiple de la quarta , como la primera de la segunda : y esto no se demuestra en parte alguna del Libro V , qual lo tenemos al presente : pero así estas , como otras cosas las tomó el editor de la confusa nocion de las proporcionales admitida en

el vulgo : así nos fue necesario dar la demostracion general , y legítima.

### PROP. XVIII. del LIB. VI.

Su demostracion parece viciada , pues solo se demuestra la Proposicion en los cuadriláteros , sin decir de qué manera se puede extender á las figuras rectilíneas de cinco , ó mas lados. Además , en dos triángulos equiángulos entre sí se infiere , que el lado del uno es al lado homólogo del otro , como el otro lado del primero á su lado homólogo del otro triángulo ; sin permutar las proporcionales contra la costumbre de Euclides , como se vé en la Proposicion siguiente XIX. Del mismo vicio participa la conclusion ; pues no se demuestra , que los lados que comprehenden los ángulos de la una figura rectilínea , sean proporcionales á los lados que comprehenden los ángulos iguales de la otra : tambien se omitía permutar las proporcionales : por todo lo qual juzgué conveniente arreglar esta demostracion al método de Euclides ; es á saber , del que se usa en la Proposicion XX de este Libro , y en las figuras quinqueláteras , para que se véa claramente como se puede extender á las figuras de muchos lados.

### PROP. XXIII. del LIB. VI.

Nada es mas dificultoso en los Elementos de Geometría para la comprehension de los principiantes que la doctrina de la composicion de las razones , por haberla vuelto absurda , y nada geométrica Theon , substituyendo la Definicion V del Libro VI en lugar de la buena definicion de la razon compuesta , que dió Eudoxò , ó Euclides , despues de la Definicion de la razon triplicada en el Libro V , que es su propio lugar. La definicion de Theon es esta : una razon se dice componerse de razones , ὅταν ἀ τῶν λόγων πηλικότητες ἐφ' ἑαυτὰς πολλαπλασιασθεῖσαι ποιῶσι τινά ; lo qual traduce así Comandino : " quando las cantidades de » las razones multiplicadas entre sí forman alguna razon. " Wallis traduce la palabra , πηλικότητες , por esta " exponentes de » las razones " ; y Gregory interpreta las últimas voces de la De-  
fi-



finicion de esta manera: "forma la cantidad de aquella"; pero en qualquier sentido que se tomen las palabras "cantidades, ó exponentes de las razones", y su "multiplicacion", la definicion será inutil, y nada geométrica. Pues no podrá haber multiplicacion, sino por números; pero la cantidad, ó exponente de la razon, segun interpretan Eutocio en sus Comentarios á la Proposicion IV del Libro II de Arquímedes de la Esfera, y del Cilindro, y los modernos, es el número que multiplicando el conseqüente produce el antecedente; ó lo que significa lo mismo, el número resultante de la division del antecedente por el conseqüente: pero hay muchas razones de tal naturaleza, que de la division del antecedente por el conseqüente no puede resultar número alguno; v. gr. la razon, que la diagonal del quadrado tiene á su lado; la que la circunferencia del círculo tiene á su diámetro, y otras semejantes: además que no se halla ni el menor vestigio de esta definicion en Euclides, Arquímedes, Apolonio, ni en los otros antiguos, que usan freqüentísimamente de la razon compuesta. En la Prop. XXIII del Lib. VI de los Elementos, donde primeramente se habla de la razon compuesta, y hubiera sido del caso mas que en ninguna otra parte dicha definicion, no hay ni rastro de ella, pero sí de la legítima, citada en estos propios términos: "es así que la razon de K á M está compuesta de la razon de K á L, y de la de L á M." Todo lo qual convence de inutil, y absurda la definicion de Theon; no quedando duda, de que fue él quien la introduxo en los Elementos, pues se halla en sus Comentarios sobre la *Descripcion magna* de Ptolomeo, pag. 62: donde le dá una explicacion pueril, como que solo conviene á las razones, que se pueden representar por números; y de allí está tomada á la letra juntamente con dicha explicacion, y antepuesta á las Definiciones del Libro VI, como consta de la edicion de Hervagio. Zamberto, y Comandino la ponen en sus versiones latinas al pie de dichas Definiciones; pero Campano no la reconoce, ni tampoco al parecer los Códices Arabes, de que él se valió. Clavio sobre la Definicion V del Libro VI opina, y con fundamento, "que podía definirse la razon compuesta, siguiendo el mismo método, que se observa para definir la razon duplicada, y triplicada; es á saber que al

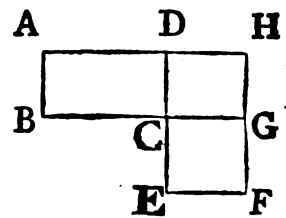
»modo que Euclides dice en la Definicion X del Libro V, que  
 »dadas muchas cantidades proporcionales; la primera tiene á la  
 »tercera duplicada proporcion de la que tiene á la segunda, y  
 »la primera á la quarta triplicada proporcion de la que tiene á la  
 »segunda; esto es compuesta de dos, ó tres proporciones iguales  
 »intermedias, y lo mismo en adelante: así tambien si se ponen en  
 »orden muchas cantidades de un mismo género no proporciona-  
 »les se dirá, que la primera tiene á la última proporcion com-  
 »puesta de todas las proporciones intermedias;—solo por estar  
 »aquellas proporciones intermedias colocadas entre dos cantida-  
 »des extremas, á la manera que en la Definicion X del Libro V se  
 »dice la proporcion de la primera á la tercera duplicada; solo  
 »por haber interpuestas entre dos cantidades extremas dos pro-  
 »porciones iguales, de suerte que no hay otra diferencia entre  
 »esta composicion de proporciones, y la duplicacion, triplica-  
 »cion, &c. explicada en el Libro V, sino que en la duplicacion,  
 »y triplicacion, &c. de proporciones todas las proporciones in-  
 »termedias son iguales, no siendo necesario en la composicion  
 »de proporciones, que las interpuestas sean iguales.” Edmundo  
 Scarburgh en su *Euclides Ingles*, págg. 238, y 266 afirma cla-  
 ramente ser supuesta la Definicion V del Libro VI, y que la ver-  
 dadera se halla contenida en la Definicion X del Libro V de la  
 razon duplicada, ó expresamente, ó subentendida, del modo que  
 lo acaba de explicar Clavio en el pasage citado: pero estos, y  
 otros modernos conservan al mismo tiempo dicha Definicion V  
 del Libro VI, y la ilustran con prolixos Comentarios, quando  
 debian mas bien excluirla de los Elementos.

A la verdad, cotejando la Definicion V del Libro VI con la  
 Proposicion V del VIII aparece claramente ser supuesta dicha  
 Definicion: pues en aquella Proposicion se demuestra, que el nú-  
 mero plano, cuyos lados son C, D tiene al número plano, cuyos  
 lados son E, Z (Véase la edicion de Hervagio, ó la de Gregory.)  
 razon compuesta de las razones de los lados, esto es de las ra-  
 zones de C á E, y de D á Z; la qual conforme á la Definicion V  
 del Libro VI, y á la explicacion de todos los Comentadores es  
 la razon del producto de los antecedentes C, D al producto de la  
 multiplicacion de los conseqüentes E, Z: luego la Proposicion,  
 que

que es la Definicion V del Libro VI, es absolutamente la misma que la Proposicion V del Libro VIII; por consiguiente en uno, ú otro de dichos pasages debe borrarse; pues es absurdo poner en los Elementos una Proposicion como Definicion, y despues demostrarla: es así que no admite duda, que la Proposicion V del Libro VIII debe tener lugar en los Elementos; pues en ella se demuestra de los números planos lo que en la Proposicion XXIII del Libro VI de los paralelogramos equiángulos: luego la Definicion V del Libro VI no puede tener lugar en los Elementos; de donde se infiere con evidencia, que no la puso Euclides; sino Theon, ó algun otro poco inteligente en la Geometría.

No sé que ninguno haya demostrado hasta ahora el uso de la razon compuesta, ó el motivo por que se introduxo en la Geometría: siendo así, que todas las cosas, para que se usa, se pueden enunciar, y demostrar sin su auxilio. El verdadero uso de la razon compuesta se cifra únicamente á evitar las perífrases, y poder enunciar, ó demostrar las Proposiciones mas brevemente, y tal vez uno, y otro: pongo por exemplo, si se hubiera de enunciar la Proposicion XXIII del Libro VI, sin mencionar la razon compuesta, se haría así: Si dos paralelogramos son equiángulos, y se toma una recta qualquiera á otra recta, como el lado del primero al lado del segundo; y la segunda á la tercera, como el otro lado del primero al otro del segundo, el paralelogramo primero será al segundo, como la primera recta á la tercera. La demostracion sería la misma que ahora: pero advirtiendo los antiguos, que la enunciacion se podia abreviar, imponiendo un nombre á la razon, que tiene la primera recta á la última, el qual al mismo tiempo significase las razones intermedias, esto es de la primera á la segunda, de la segunda á la tercera, &c. y así succesivamente si hubiese muchas rectas, llamaron esta razon de la primera á la última razon compuesta de las razones de la primera á la segunda, y de la segunda á la tercera; esto es en el presente caso de las razones, que son las mismas con las razones de los lados; y así enunciaron la Proposicion mas brevemente en estos términos: Si dos paralelogramos son equiángulos; tendrán entre sí la misma razon que la compuesta de las

razones, que son las mismas que las razones de los lados enuncian, que reducida á menos voces, conserva el propio sentido; y aun se podrá ceñir mas así: Los paralelogramos equiángulos tienen entre sí la misma razón, que la compuesta de las razones de los lados. Estas dos últimas enunciaciones, especialmente la primera, se acomodan á la demostración, que aún existe en el Texto Griego. Dicha Proposición puede demostrarse mas brevemente; como lo practicó Francisco Candalla en esta forma: Sean equiángulos los paralelogramos ABCD, CEFG, y complétese el paralelogramo CDHG: siendo, pues, tres los paralelogramos AC, CH, CF, el primero AC tendrá, según la Definición de la razón compuesta, al tercero CF razón compuesta de la razón de AC á CH, y de la de CH á CF: es así que el paralelogramo AC es al CH, como la recta BC á la CG, y el paralelogramo CH al CF, como la recta DC á la CE: luego el paralelogramo AC tendrá al CF una razón compuesta de razones, que son las mismas que las razones de los lados. A esta demostración conviene la enunciación, que hoy tenemos, es á saber: Los paralelogramos equiángulos están entre sí en razón compuesta de las razones de sus lados; pues la lección vulgar, "compuesta de los lados," es absurda. No obstante, conservamos en nuestra edición la demostración del original Griego, aunque mas prolixa que la de Candalla, porque en aquella, y no en esta se demuestra el modo de hallar por las razones dadas de los lados la razón compuesta de estas: esto es la razón de los paralelogramos; para que puedan los estudiantes en semejantes casos hallar la razón compuesta de dos, ó mas razones.



De lo dicho se colige una observación, y es, que en cualquiera cantidad de un mismo género A, B, C, D, &c. la razón compuesta de las razones de la primera á la segunda, de la segunda á la tercera, y así hasta la última, es solo un nombre, ó modo de hablar significativo de la razón, que la primera A tiene á la última D; y que al mismo tiempo explica la razón de todas las cantidades A á B, B á C, C á D, desde la primera hasta la última.

tima mutuamente entre sí , sean , ó no entre sí las mimas : al modo que en las cantidades continuo-proporcionales A , B , C , D , la razon duplicada de la primera á la segunda , no es mas que un nombre , ó modo de hablar significativo de la razon , que la primera A tiene á la tercera C , y que al mismo tiempo explica ser dos las razones de las cantidades desde la primera á la última ; es á saber de la primera A á la segunda B , y de esta á la tercera , ó última C , las cuales razones son entre sí las mismas : asimismo la razon triplicada de la primera á la segunda es meramente un nombre , ó modo de hablar significativo de la razon de la primera A á la quarta D ; y al mismo tiempo de todas las razones de las cantidades , desde la primera hasta la última , es á saber de la primera A á la segunda B , de esta á la tercera C , y de esta á la quarta , ó última D , las cuales razones son las mismas entre sí : y lo mismo se dirá semejantemente de otras razones multiplicadas. Evidénciase ser la verdadera explicacion de estas razones la dada por las definiciones de la razon duplicada , y triplicada , en que Euclides usa de la voz , λέγεται , se dice , llama , ó nombra : de la qual tambien sin duda usaría en la definicion de la razon compuesta , que Theon , ú otro quitó de los Elementos , pues la misma se conserva en la impropia definicion de la razon compuesta , que aún se halla en la Definicion V del Libro VI , y algunas veces en las citas de estas Definiciones ; como en la demostracion de la Proposicion XIX del Libro VI : “la primera á la tercera ἔχει λέγεται razon duplicada ;” palabras , que Comandino , y otros traducen mal , “tiene” en lugar de “se dice que tiene :” otras veces se omite , como en la demostracion de la Proposicion XXIII del Libro XI : “la primera á la quarta tiene razon triplicada ,” en donde la voz ἔχει significa lo mismo , que las ἔχειν λέγεται , “se dice que tiene” : tambien en la Proposicion XXIII del Libro VI , donde se lee : “es así que la razon K á M σύγκειται es compuesta de la razon de K á L , y de la de L á M ,” para mayor brevedad ; siendo así , que debia decir συγκείσθαι λέγεται “se dice compuesta ,” como en la Definicion VI.

Con lo expuesto , y las Proposiciones añadidas al fin del Libro V se podrá entender , y explicar todo quanto se halla acerca de la razon compuesta en los Geómetras , así antiguos , como modernos.

PROP.

## PROP. XXIV. del LIB. VI.

Parece que algun ignorante formó de dos demostraciones diversas de esta Proposicion, la que actualmente tenemos; es á saber de una que puede fundarse en la Proposicion II de este Libro, y de otra, que puede fundarse en la IV del mismo; pues despues de haber demostrado por la Proposicion II del presente, componiendo, y permutando, que son proporcionales los lados, que contienen un ángulo comun de los paralelogramos, pudo inmediatamente inferir, que son proporcionales los lados, que comprehenden ángulos iguales por medio de la Proposicion XXXIV del Libro I, y de la VII del V: pero descuidando esto, pasa á demostrar, que los triángulos, y paralelogramos son equiángulos entre sí, y por un largo rodeo infiere lo mismo, valiéndose de la Proposicion IV de este Libro, y de la XXII del V: es, pues, manifiesto no ser de Euclides esta demostracion tan mal hecha: por lo qual rechazado lo que tiene de superfluo, damos una mas sencilla con el auxilio de la Proposicion IV, la misma que dan los Códices Arabes, por medio de la II de este Libro, y componiendo; bien que en ellas se olvida el permutar, y no se demuestra, que los paralelogramos sean equiángulos entre sí, como debia hacerse en favor de los principiantes.

## PROP. XXV. del LIB. VI.

Es patente, que la demostracion, que de ella dió Euclides, ha sido viciada por algun editor mal Geómetra; pues despues de haber demostrado, "que la figura rectilínea ABC es á la KGH, »como el paralelograme BE al EF," bastaba añadir: "es así que »la figura rectilínea ABC es igual al paralelogramo BE: luego »la figura rectilínea KGH será igual al paralelogramo EF, con- »viene á saber por la Proposicion XIV del Libro V:" sin interponer entre estas dos sentencias, como hace, lo siguiente: "por »consiguiente permutando, la figura rectilínea ABC será al paralelogramo BE, como la figura rectilínea KGH al paralelogramo »EF:" juzgando, que no era tan facil de inferir en quatro proporcionales la igualdad de la segunda á la quarta por la igualdad de

de la primera, y tercera; lo qual se demostró en la Proposicion XIV del Libro V; como inferir la igualdad de la tercera á la quarta de la igualdad de la primera á la segunda; cosa que no se demuestra en parte alguna de los Elementos, que hoy tenemos. Pero aun quando Euclides hubiera insertado en sus Elementos esta Proposicion: de quatro proporcionales la tercera será igual á la quarta, si la primera lo es á la segunda, como es verosimil lo hizo, no usaría de ella en el presente caso; pues, como ya diximos, se puede inferir directamente la misma consecuencia, sin la redundante permutacion de proporcionales. Nos detenemos algo mas á demostrar esto, así porque subministra cierto indicio de haber sido viciado el texto de Euclides, pues el mismo error se halla en el original Griego, Proposicion XXIII, Libro XI, dos veces, otras dos en la II del XII; y en las Proposiciones V, XI, XII, y XVIII del mismo: en cuyos pasages del Libro XII, excepto el último, se omite con fundamento el permutar las proporcionales en la Version de Comandino de la edicion de Oxford; como para que los Geómetras eviten en semejante caso el uso de la permutacion; error en que caen repetidamente los modernos, y entre otros Comandino mismo en el Comentario á la Proposicion V del Libro III, pág. 6. b. de Papo Alexandrino; por estar algunos tan preocupados con la vulgar idea de las proporcionales, que apenas pueden llegar á formarse una exácta.

Ademas de esto, aunque la figura rectilinea ABC, semejante á la qual se ha de construir otra, pueda ser de qualquier género, sin embargo los Códices Griegos hablan en la demostracion de triángulo en lugar de figura rectilinea en general; yerro, que se halla corregido en la edicion de la Version de Comandino, impresa en Oxford.

PROP. XXVII. del LIB. VI.

Al segundo caso precede la palabra *ἄλλως*, "otro," como si fuera otra la demostracion, puesta al parecer por algun Copista ignorante, y con razon omitida por Gregory. La figura de este caso debia expresarse con las mismas letras del alfabeto, que la del primero.

PROP.

## PROP. XXVIII, y XXIX. del LIB. VI.

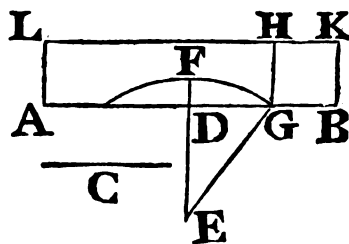
Estos Problemas, para el primero de los cuales es necesaria la Proposicion XXVII, son entre todos los de los Elementos generalísimos, y utilísimos; y los antiguos se valían de ellos con mucha frecuencia en la solución de otros Problemas; así hicieron muy mal Andrés Tacquet, y Claudio Dechales en omitirlos en sus ediciones de los Elementos: asegurando inconsideradamente, que no tenían uso alguno. Los casos de estos, quando sobre una recta dada se ha de aplicar un rectángulo igual á un quadrado dado, deficiente, ó excedente en un quadrado; y quando sobre una recta dada se ha de aplicar un rectángulo igual á otro dado, deficiente, ó excedente en un quadrado, los usan á cada paso los Geómetras; y así nos ha parecido enseñar en favor de los estudiantes sus construcciones, que son como se siguen.

I.º Sobre una recta dada aplicar un rectángulo igual á un quadrado dado, deficiente en un quadrado; con tal que el quadrado dado no sea mayor que el descrito sobre la mitad de la recta.

Sea la recta dada  $AB$ , y el quadrado, á que ha de ser igual el rectángulo que se ha de aplicar sobre  $AB$ , sea el descrito sobre la recta  $C$ , no mayor que el descrito sobre la mitad de  $AB$ .

Divídase  $AB$  en dos partes iguales en  $D$ ; y si el quadrado de  $AD$  fuese igual al de la recta  $C$ , se tendrá lo que se pedia; y si no,  $AD$  será mayor que  $C$ , de una cantidad determinada: tírese  $DE$  perpendicular á  $AB$ , tómese  $DE$  igual á  $C$ , prolónguese  $ED$  hasta  $F$ , de manera que  $EF$  sea igual á  $AD$ , ó á  $DB$ ; y con centro  $E$ , é intervalo  $EF$  describase un círculo, que encuentre á la recta  $AB$  en  $G$ : asimismo sobre  $GB$  describase el quadrado  $GBKH$ , complétese el rectángulo  $AGHL$ , y tírese  $EG$ . Hallándose, pues,  $AD$  dividida por medio en  $D$ , el rec-

- a 5. II. tángulo de  $AG$ ,  $GB$  junto con el quadrado de  $DG$ , será igual á (al quadrado de  $DB$ , esto es al de  $EF$ , ó de  $EG$ , esto es) á los quadrados de  $ED$ ,  $DG$ . Quítese el quadrado comun de  $DG$ , y resultará el rectángulo de  $AG$ ,  $GB$  igual al quadrado de  $ED$ , es-





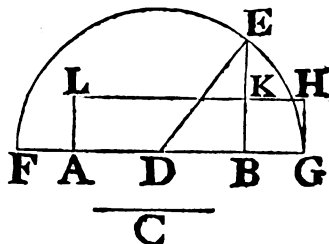
esto es de C: es así que el rectángulo de AG, y GB es el mismo rectángulo AH, por ser GH igual á GB: luego el rectángulo AH será igual al cuadrado dado de la recta C. Por consiguiente sobre la recta dada AB se ha aplicado el rectángulo AH igual al cuadrado dado de la recta C, deficiente en el cuadrado GK. L. Q. D. H.

II.º Sobre una recta dada aplicar un rectángulo igual á un cuadrado dado, excedente en un cuadrado.

Sea AB la recta dada, y el cuadrado dado el descrito sobre la recta C.

Divídase AB en dos partes iguales en D: tírese BE perpendicular á AB: tómese BE igual á la recta C, y tirada DE, con centro D, é intervalo DE describese un círculo que encuentre á AB prolongada en G: igualmente sobre BG describese el cuadrado BGHK, y complétese el rectángulo AGHL. Hallándose, pues, AB dividida por medio en D, añadiéndole BG, resultará el rectángulo del AG, GB junto con el cuadrado de DB igual (al cuadrado de DG, ó de DE, esto es) á los cuadrados de EB, BD: quítese el cuadrado comun de DB, y será el rectángulo de AG, GB igual al cuadrado de BE, esto es al cuadrado de la recta C: es así que el rectángulo de AG, GB es el mismo rectángulo AH, por ser GH igual á GB: luego el rectángulo AH será igual al cuadrado de la recta C. Por consiguiente sobre la recta dada AB se ha aplicado el rectángulo AH igual al cuadrado dado de C excedente en un cuadrado GK. L. Q. D. H.

a 6. II.



III.º Sobre una recta dada aplicar un rectángulo igual á otro dado, deficiente en un cuadrado; con tal que el rectángulo dado no sea mayor que el cuadrado descrito sobre la mitad de la recta.

Sea AB la recta dada; y el rectángulo dado el contenido por las rectas C, D no mayor que el cuadrado descrito sobre la mitad de la recta AB: y háyase de aplicar sobre la recta AB un rectángulo igual al rectángulo dado de C, D, deficiente en un cuadrado.

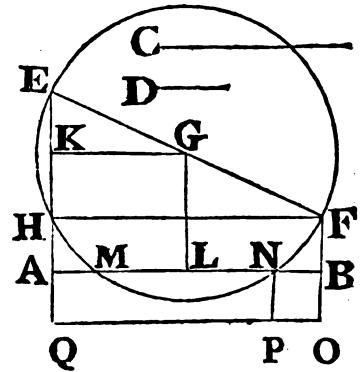
Tí-

Tírense  $AE$ ,  $BF$  perpendiculares á  $AB$ , y ácia una misma parte; de las cuales  $AE$  sea igual á  $C$ , y  $BF$  á la recta  $D$ . Divídase en dos partes iguales en  $G$  la recta  $EF$ , que junta los dos puntos  $E$ ,  $F$ ; y con centro  $G$ , é intervalo  $GE$  describase un círculo, que encontrará á la recta  $AE$  tambien en  $H$ ; júntense  $H$ ,  $F$ , tírese  $GK$  paralela á  $HF$ , y á  $AB$  tírese  $GL$  paralela á la recta  $AE$ .

Siendo, pues, el ángulo  $EHF$  en el semicírculo igual al ángulo recto  $EAB$ , serán paralelas  $AB$ ,  $HF$ : y tambien lo son  $AH$ ,  $BF$ : consiguientemente  $AH$  será igual á  $BF$ , y el rectángulo de  $EA$ ,  $AH$  será igual al rectángulo de  $EA$ ,  $BF$ , esto es al de  $C$ ,  $D$ : y siendo  $EG$ ,  $GF$  iguales, y  $AE$ ,  $LG$ ,  $BF$  paralelas entre sí;  $AL$ ,  $LB$  serán iguales <sup>a</sup>: tambien lo son  $EK$ ,  $KH$ : pero el rectángulo de  $C$ ,  $D$  no es mayor en una cantidad determinada que el cuadrado de  $AL$ , mitad de  $AB$ : luego el rectángulo de  $EA$ ,  $AH$  no será mayor que el cuadrado de  $AL$ , esto es de  $KG$ : añádaseles el cuadrado de  $KE$ , y no será ma-

b 6. II. yor el cuadrado <sup>b</sup> de  $AK$  que los de  $EK$ ,  $KG$ , esto es que el de  $EG$ : consiguientemente la recta  $AK$ , ó  $GL$  no será mayor que  $GE$ ; y si  $GE$  fuere igual á  $GL$ , el círculo  $EHF$  tocará en  $L$  á la recta

\* 36. III.  $AB$ , y el cuadrado de  $AL$  será igual <sup>\*</sup> al rectángulo de  $EA$ ,  $AH$ , ó al rectángulo dado de  $C$ ,  $D$ : y se tendrá lo que se pedía. Pero si  $EG$ ,  $GL$  fuesen desiguales,  $EG$  será mayor; y por tanto el círculo  $EHF$  cortará á la recta  $AB$ : córtela en los puntos  $M$ ,  $N$ ; y sobre  $NB$  describase el cuadrado  $NBOP$ , y complétese el rectángulo  $ANPQ$ . Siendo, pues, iguales <sup>a</sup>  $ML$ ,  $LN$ , y ha-



biéndose demostrado lo mismo de  $AL$ ,  $LB$ , serán  $AM$ ,  $NB$  iguales: luego el rectángulo de  $AN$ ,  $NB$  será igual al de  $NA$ ,  $AM$ , esto es al rectángulo <sup>c</sup> de  $EA$ ,  $AH$ ; ó al de  $C$ ,  $D$ : es así que el rectángulo de  $AN$ ,  $NB$  es el mismo  $AP$ , por ser  $PN$  igual á  $NB$ : luego el rectángulo  $AP$  será igual al de  $C$ ,  $D$ . Por consiguiente sobre la recta dada  $AB$  se ha apli-

<sup>c</sup> Cor. 36. III.

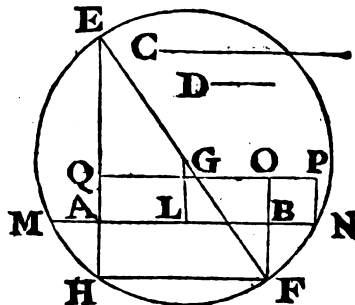
ca-

cado el rectángulo AP igual al dado de C, D, deficiente en un cuadrado BP. L. Q. D. H.

IV.º Sobre una recta dada aplicar un rectángulo igual á otro dado, excedente en un cuadrado.

Sea AB la recta dada, y el rectángulo dado el contenido por las rectas C, D; y háyase de aplicar sobre dicha recta un rectángulo igual al rectángulo dado de C, D, excedente en un cuadrado.

Tírense AE, BF perpendiculares á AB, y ácia partes contrarias; de las cuales AE sea igual á C, y BF igual á la recta D: tírese EF, divídase por medio en G; y con centro G, é intervalo GE describáse un círculo, que encontrará tambien á la recta AE en H; júntense H, y F; sobre la recta AB tírese GL paralela á AE, y encuentre el círculo en M, N á la recta AB prolongada: asimismo sobre BN describáse el cuadrado NBOP, y complétese el rectángulo ANPQ. Siendo, pues, el ángulo EHF en el semicírculo igual al ángulo recto EAB, serán AB, FH paralelas: luego AH, BF serán iguales; y el rectángulo de EH, AH igual al de EA, BF, esto es al rectángulo de C, D: y por ser iguales ML, LN, como tambien AL, LB, lo serán MA, BN: y por tanto el rectángulo de AN, NB, igual al de MA, AN, esto es al <sup>2</sup> de EA, AH, ó al de



a 35. III.

C, D: luego el rectángulo de AN, NB, esto es el rectángulo de AP, será igual al de C, D. Por consiguiente sobre la recta dada AB se ha aplicado el rectángulo AP igual al dado de C, D, excedente en un cuadrado BP. L. Q. D. H.

El primero, que ha llegado á mi noticia haber dado estas construcciones de los Problemas III, y IV fue Villebrordo Sne-llio en su Obra intitulada Apollonius Batavus, y despues el ilustre Halley en el Escolio á la Proposicion XVIII del Libro VIII de las Cónicas de Apolonio restituidas por él.

El Problema III se enuncia de este otro modo: cortar la recta AB en un punto N, de manera que el rectángulo de los seg-  
men-

mentos  $AN$ ,  $NB$  sea igual á un espacio dado: ó lo que es lo mismo: dada la suma  $AB$  de los lados del rectángulo, y la magnitud de este, encontrar los lados.

El Problema IV viene á ser lo mismo que este: hallar en la recta dada  $AB$ , prolongada un punto  $N$ , tal que el rectángulo de  $AN$ ,  $NB$  sea igual á un espacio dado: ó lo que es lo propio: dada la diferencia  $AB$  de los lados del rectángulo, y la magnitud de este, encontrar los lados.

### PROP. XXXI. del LIB. VI.

En su demostracion está omitida dos veces la inversion de las proporcionales: ahora se suple, para que salga bien la conclusion, con el auxilio de la Proposicion XXIV del Libro V, lo qual hizo antes Clavio.

### PROP. XXXII. del LIB. VI.

La enunciacion de la Proposicion XXVI del Libro VI no es bastante general; porque no solamente dos paralelogramos semejantes, y semejantemente colocados, que tienen un ángulo comun, están baxo la misma diagonal; sino que tambien dos paralelogramos semejantes, y semejantemente colocados, de los quales uno tenga un ángulo verticalmente opuesto á un ángulo del otro, tendrán las diagonales en linea recta: parece, que fue otra, y directa la demostracion, á la qual servía la Proposicion XXXII, que tambien se puede demostrar de otra manera mas brevemente así.

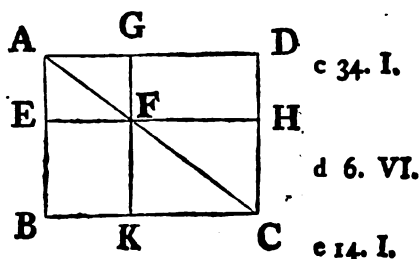
### PROP. XXXII. del LIB. VI.

Si dos triángulos, &c.

Sean dos triángulos  $GAF$ ,  $HFC$ , que tengan los dos lados  $AG$ ,  $GF$  proporcionales á los dos  $FH$ ,  $HC$ , esto es  $AG$  á  $GF$ , como  $FH$  á  $HC$ ; sea  $GA$  paralela á  $HF$ , y  $GF$  á  $HC$ : estará  $AF$  directamente á  $FC$ .

a 31. I. Tírese  $CK$  paralela á  $FH$ , y encuentre en  $K$  á la recta  $GF$   
pro-

prolongada. Siendo, pues, las dos AG, KC paralelas á FH, serán AG, KC paralelas <sup>b</sup> entre sí: consiguientemente los ángulos AGF, FKC serán iguales entre sí; por ser alternos: es así que AG es á GF como (FH á HC, esto es <sup>c</sup>) CK á KF; y comprehenden ángulos iguales: luego los triángulos AGF, CKF serán equiángulos <sup>d</sup> entre sí; y por tanto el ángulo AFG será igual al ángulo CFK: es así que GFK es una línea recta: luego AF <sup>e</sup> estará directamente á FC.



Las Proposiciones XXVI, y XXXII se demuestran así.

Si dos paralelogramos semejantes, y semejantemente colocados tuviesen un ángulo común, ó ángulos verticalmente opuestos; sus diagonales estarán en línea recta.

I.º Tengan los paralelogramos ABCD, AEFG el ángulo común BAD, y sean semejantes, y semejantemente colocados: estarán baxo la misma diagonal.

Prolónguense EF, GF hasta H, K; y tírense FA, FC. Siendo, pues, semejantes los paralelogramos ABCD, AEFG, será DA á AB, como GA á AE: consiguientemente la restante DG será á la restante EB, como GA á AE <sup>a</sup>: es así que DG es <sup>a Cor. 19. V.</sup> igual á FH, EB á HC, y AE á GF: luego FH será á HC, como AG á GF: pero FH, HC son paralelas á AG, GF; y los triángulos AGF, FHC están compuestos segun un ángulo, esto es tienen los vértices en un mismo punto F: luego AF, FC estarán directamente <sup>b</sup>.

II.º Sean los paralelogramos KFHC, GFEA semejantes, y semejantemente colocados; y tengan los ángulos KFH, EFG verticalmente opuestos: las diagonales AF, FC estarán directamente.

Porque siendo AG, GF paralelas á FH, HC, y AG á GF, como FH á HC, estarán AF, FC directamente <sup>b</sup>.

Y

PROP.

## PROP. XXXIII. del LIB. VI.

Se omiten estas palabras, "que están en el centro", *hablando de los Sectores*, como adición de algun ignorante.

En los Códices Griegos, y en la version latina falta en la demostracion de una, y otra parte la voz  $\alpha\iota\tau\upsilon\chi\epsilon$  "qualesquiera"; ahora se añade como indispensable: y en la demostracion de la segunda parte, donde se demuestra la igualdad del triángulo BGC al triángulo CGK, se debe omitir en el Texto Griego la voz  $\alpha\epsilon\alpha$ .

## PROPP. B, y C del LIB. VI.

Las añadimos á este Libro, por usarlas frecuentemente los Geómetras.

## DEFF. IX, y XI del LIB. XI.

**L**A semejanza de las figuras planas se define por la igualdad de los ángulos, y proporcionalidad de los lados, que contienen ángulos iguales; pues de cada una de estas cosas de por sí no se infiere, que las figuras sean semejantes, sino en caso de ser triángulos, en los cuales pende una cosa de otra, esto es la proporcionalidad de los lados, que contienen ángulos iguales, de la igualdad de los mismos ángulos; y la igualdad de los ángulos, de la proporcionalidad de los lados, que los contienen. Por la misma razon son semejantes aquellas figuras sólidas, que tienen los ángulos sólidos respectivamente iguales, y se hallan contenidas por igual número de figuras planas semejantes: pues hay algunas figuras sólidas contenidas por figuras planas semejantes iguales, no solo en número, sino tambien en magnitud, que no son semejantes, ni iguales; como se evidencia en la demostración, que sigue á las Notas de la Definicion X: así fue necesario enmendar la definicion de las figuras semejantes, y anteponerle la del ángulo sólido. En lo qual, y en la Definicion X se reconoce claramente, quán depravados han sido estos Libros.

DEF.

DEF. X. del LIB. XI.

Constando antes de ella el sentido de la palabra "igual", resulta ser la Proposicion, que es Definicion X de este Libro, un Teorema, cuya verdad, ó falsedad se ha de demostrar, y no suponer; por consiguiente Theon, ú otro editor hizo fuera de propósito de una Proposicion, que debía demostrarse, esta Definicion de las figuras sólidas semejantes, é iguales. La semejanza de las figuras se ha de demostrar por la definicion de las figuras sólidas semejantes; y su igualdad por aquel Axioma: "las cantidades, que mútuamente se ajustan, son iguales entre sí:" ó por la Proposicion A, ó por la IX, ó por la XIV del Libro V: con cuyo Axioma, ó algunas de dichas Proposiciones llega á demostrarse últimamente la igualdad de todas las figuras. En los anteriores Libros no dió Euclides definicion alguna de las figuras iguales; y ciertamente no es suya la que exáminamos aquí: pues lo que se llama Definicion I del Libro III es en realidad un Teorema, en que se afirma, que son iguales aquellos círculos, cuyos radios lo son: lo qual aparece claramente por la definicion del círculo, y por tanto alguno la colocó impropriamente entre las Definiciones; sin advertir, que la igualdad de las figuras no se ha de definir, sino demostrar. Así aun quando se verificára, que las figuras sólidas contenidas por planos semejantes, é iguales en número, y magnitud, fuesen entre sí iguales, no por eso sería menos reprehensible el que de dicha Proposicion, que debía demostrarse, hizo una Definicion: ¿pues qué dirémos, si es falsa? ¿Habrémos acaso de confesar, que los Geómetras han vivido por espacio de 1300 años equivocados en una cosa elemental? sin duda que sí; y de aquí debemos aprender á humillarnos; y reconocer, quán sujetos estamos á equivocaciones por la limitacion de nuestra capacidad. Este será el modo de no caer en errores, aun en los principios de aquellas ciencias, que justamente se reputan por mas ciertas. Ahora, volviendo al asunto, es demostrable con varios exemplos la falsedad de dicha Proposicion en algunos casos: baste el siguiente.

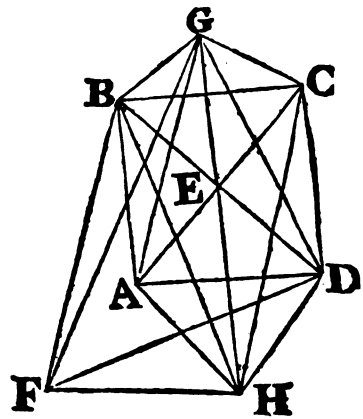
Sea el quadrado ABCD, tírense las diagonales AC, BD, que se encuentren mútuamente en E; y sobre una de ellas BD cons-

Y 2

trú-

- trúyase en el plano del cuadrado el triángulo isósceles BFD; del punto E tírese la recta EG perpendicular al plano ABCD, y tomado en ella qualquier punto G, tírense GA, GB, GC, GD, GF; siendo, pues, en los triángulos AEG, CEG respectivamente iguales AE, EG á CE, EG, y conteniendo ángulos rectos,
- a 4. I. la base AG será igual <sup>a</sup> á la base GC: consiguientemente en los triángulos AGB, CGB, serán AG, GB iguales á CG, GB,
- b 8. I. y la base AB á la base BC: luego el ángulo AGB <sup>b</sup> será igual al ángulo CGB, y el triángulo AGB igual <sup>a</sup> al triángulo CGB. Semejantemente se demostrará la igualdad del triángulo AGD al triángulo CGD. Prolónguese

GE ácia las partes opuestas del plano ABCD, tómesese qualquier punto de ella H, y tírense HA, HB, HC, HD, HF: se demostrará del mismo modo la igualdad del triángulo AHB al triángulo CHB, y del triángulo AHD al triángulo CHD: luego son dos sólidos, contenidos ambos por ocho triángulos, es á saber uno por quatro triángulos, cuyo vértice comun es G, y bases las rectas BA, AD, BF, FD, y por otros



quatro triángulos, cuyo vértice comun es H, y bases las mismas rectas; y el otro sólido contenido por quatro triángulos, cuyo vértice comun es G, y bases las rectas BC, CD, BF, FD, y otros quatro, cuyo vértice comun es H, y bases las mismas rectas: es así que se ha demostrado la igualdad respectiva de los quatro triángulos AGB, AGD, AHB, AHD á los quatro triángulos CGB, CGD, CHB, CHD: y los otros quatro triángulos BFG, DGF, BHF, DHF son comunes á ambos sólidos: luego estos dos sólidos estarán contenidos por planos semejantes, é iguales en número, y magnitud: pero son manifestamente desiguales; por estar el primero de ellos contenido en el otro: luego no siempre se verifica ser iguales los sólidos contenidos por planos semejantes, é iguales en número, y magnitud.

COR. De aquí es, que dos ángulos sólidos desiguales pueden estar contenidos por un mismo número de ángulos planos iguales.

Por-



Porque el ángulo sólido  $G$ , contenido por los quatro ángulos planos  $AGB, AGD, FGB, FGD$  es totalmente desigual al ángulo sólido concurrente en el mismo punto, y contenido por los quatro ángulos planos  $CGB, CGD, FGB, FGD$ ; porque el último ángulo sólido contiene al otro, y ambos se hallan contenidos por quatro ángulos planos respectivamente iguales entre sí, ó los mismos, como se demostró: y puede haber innumerables ángulos sólidos desiguales contenidos por ángulos planos respectivamente iguales. También es claro, que de ningun modo son semejantes las figuras sólidas antes mencionadas, por no ser todos sus ángulos sólidos iguales entre sí.

Con el auxilio de las tres siguientes Proposiciones se evidenciará, que puede haber infinidad de ángulos sólidos desiguales entre sí contenidos por los mismos ángulos planos puestos en un mismo orden.

PROP. I. PROBLEMA.

Dadas tres cantidades  $A, B, C$  hallar la quarta; de suerte, que la suma de dos cualesquiera sea mayor que la otra.

Sea  $D$  la quarta cantidad: luego será menor que la suma de  $A, B, C$ . No sea  $A$  menor que una, y otra de las  $B, C$ ; y primeramente sea la suma de  $B, C$  no menor que  $A$ ; y resultará la suma de  $B, C, y D$  mayor que  $A$ : y no siendo  $A$  menor que  $B$ , la suma de  $A, C, D$  será mayor que  $B$ . Semejantemente se demostrará ser la suma de  $A, B, D$  mayor que  $C$ : luego en caso que la suma de  $B, y C$  no sea menor que  $A$ , qualquiera cantidad  $D$  menor que la suma de  $A, B, C$  será la que se pedia.

Pero si la suma de  $B, y C$  fuese menor que  $A$ ; requiriéndose, que la suma de  $B, C, D$  sea mayor que  $A$ , y quitándo de ellas la suma de  $B, C$ , será  $D$  mayor que el exceso de  $A$  sobre la suma de  $B, C$ . Tómese qualquiera cantidad  $D$  menor que la suma de  $A, B, C$ , y mayor que el exceso de  $A$  sobre la suma de  $B, C$ : luego la suma de  $B, C, D$  será mayor que  $A$ : y siendo esta mayor que una, y otra de las  $B, C$ , mucho mayor será la suma de  $A, y D$ : pero una, y otra de las  $B, C$  es mayor que la otra; y por construccion la suma de  $A, B, C$  es mayor que  $D$ . L. Q. D. H.

Y 3

COR.

**COR.** Si además de esto se requiriese, que la suma de  $A$ , y  $B$  no sea menor que la de  $C$ , y  $D$ , deberá el exceso de la suma de  $A$ , y  $B$  sobre  $C$  no ser menor que  $D$ ; esto es deberá  $D$  no ser mayor que este exceso.

### PROP. II. PROBL.

Dadas quatro cantidades  $A$ ,  $B$ ,  $C$ ,  $D$ , de las quales la suma de  $A$ , y  $B$  no sea menor que la de  $C$ , y  $D$ , y la suma de tres qualesquiera sea mayor que la quarta; hallar la quinta  $E$ , de suerte, que la suma de dos qualesquiera de las tres  $A$ ,  $B$ ,  $E$  sea mayor que la tercera, y tambien la suma de dos qualesquiera de las tres  $C$ ,  $D$ ,  $E$  sea mayor que la otra; no siendo  $A$  menor que  $B$ , ni  $C$  menor que  $D$ .

Primeramente no sea el exceso de  $C$ ,  $D$  menor que el exceso de  $A$ ,  $B$ : se podrá tomar  $E$  menor que la suma de  $C$ ,  $D$ , y mayor que el exceso de las mismas; tómese, pues, y resultará  $E$  mayor que el exceso de  $A$ ,  $B$ ; consiguientemente la suma de  $B$ , y  $E$  será mayor que  $A$ : es así que  $A$  no es menor que  $B$ : luego la suma de  $A$ , y  $E$  será mayor que  $B$ : y por la hipótesis la suma de  $A$ , y  $B$  no es menor que la de  $C$ , y  $D$ ; y la de  $C$ , y  $D$  es mayor que  $E$ : luego tambien la suma de  $A$ , y  $B$  será mayor que  $E$ .

Pero demos, que sea el exceso de  $A$ ,  $B$  mayor que el exceso de  $C$ ,  $D$ ; y siendo por la hipótesis la suma de las tres  $B$ ,  $C$ ,  $D$  mayor que la quarta  $A$ , será la suma de  $C$ , y  $D$  mayor que el exceso de  $A$ ,  $B$ : luego se podrá tomar  $E$  menor que la suma de  $C$ , y  $D$ , y mayor que el exceso de  $A$ ,  $B$ : tómese, pues, y siendo  $E$  mayor que el exceso de  $A$ ,  $B$ , será la suma de  $B$ , y  $E$  mayor que  $A$ : pero se demostrará, como en el caso anterior, que la suma de  $A$ , y  $E$  es mayor que  $B$ ; y la de  $A$ , y  $B$  mayor que  $E$ : luego en ambos casos se ha demostrado, que la suma de dos qualesquiera de las  $A$ ,  $B$ ,  $E$ , será mayor que la otra.

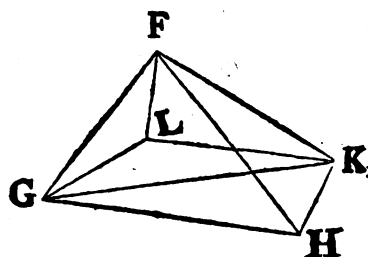
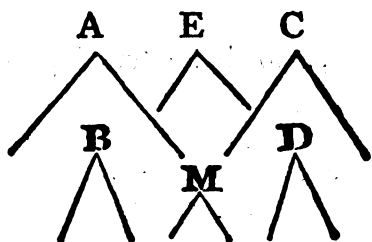
Y por ser  $E$  en ambos casos mayor que el exceso de la suma de  $C$ , y  $D$ , será la suma de  $E$ , y  $D$  mayor que  $C$ : es así que por la hipótesis  $C$  no es menor que  $D$ : luego la suma de  $E$ , y  $C$  será mayor que  $D$ : pero la suma de  $C$ , y  $D$  es por construcción ma-

mayor que E: luego la suma de dos cualesquiera de las C, D, E será mayor que la otra. L. Q. D. H.

PROP. III. TEOREMA.

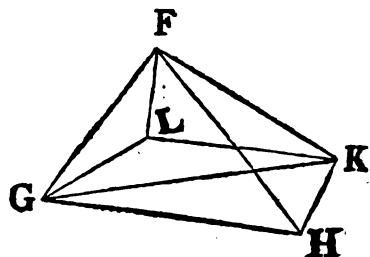
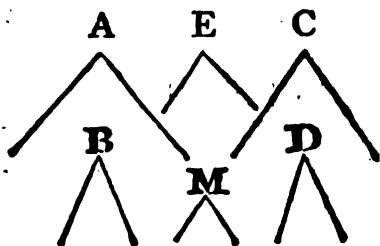
Con unos mismos quatro ángulos planos se pueden construir innumerables ángulos sólidos desiguales entre sí.

Tómense tres ángulos planos A, B, C, de los cuales A no sea menor que uno, y otro de los B, C, y sea la suma de A, y B menor que dos rectos: por medio del Problema I, y de su Corolario hállese el quarto ángulo D; de suerte, que la suma de tres cualesquiera de los A, B, C, D sea mayor que el otro; y la suma de A, y B no menor que la de C, y D: valiéndose del Problema II hállese el quinto ángulo E, de suerte, que la suma de dos cualesquiera de los ángulos A, B, E sea mayor que el otro: co-



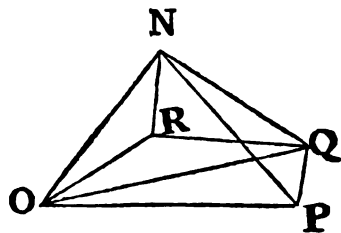
mo asimismo la suma de dos cualesquiera de los C, D, E mayor que el otro. Siendo, pues, la suma de A, y B menor que dos rectos, el duplo de dicha suma será menor que quatro rectos; pero la suma de A, y B es mayor que el ángulo E: consiguientemente el duplo de la suma de A, y B será mayor que la suma de los ángulos A, B, E; por tanto la suma de estos menor que quatro rectos: es así que la suma de dos cualesquiera de ellos es mayor que el otro: luego con el socorro de la Proposicion XXIII del Libro XI se podrá construir un ángulo sólido con tres ángulos planos iguales á A, B, E. Constrúyase, y sea el ángulo sólido F contenido por los ángulos planos, GFH, HFK, GFK respectivamente iguales á los ángulos A, B, E. No siendo, pues, la suma de los ángulos C, D mayor que la de los A, B; tampoco la

suma de  $C, D, E$  será mayor que la de  $A, B, E$ : pero se ha demostrado, que la suma de  $A, B, E$  es menor que quatro rectos: consiguientemente la suma de  $C, D, E$  será menor que quatro rectos: es así que la suma de dos qualesquiera de ellos es mayor que el otro: luego de tres ángulos planos iguales á  $C, D, E$ , se podrá construir un ángulo sólido (XXIII del XI): pero en el punto



F de la recta  $FG$  se puede construir un ángulo sólido igual á dicho ángulo sólido, mediante la Proposicion XXVI del Libro XI; sea, pues, el ángulo  $GFK$  igual al  $E$ , uno de los tres ángulos planos, que contienen este ángulo sólido; y sean los otros dos  $KFL, GFL$  respectivamente iguales á los  $C, D$ : luego en el punto  $F$  se ha construido un ángulo sólido contenido por los quatro ángulos planos  $GFH, HFK, KFL, GFL$  respectivamente iguales á los  $A, B, C, D$ .

A mas, hállese otro ángulo  $M$  tal, que la suma de dos qualesquiera de los tres ángulos  $A, B, M$  sea mayor que el otro, como ásimismo la suma de dos qualesquiera de los tres  $C, D, M$  mayor que el otro: y se demostrará (como en los precedentes) que la suma de los ángulos  $A, B, M$  será menor que quatro rectos, é igualmente la suma de los  $C, D, M$  menor que quatro rectos. Constrúyase, pues, (XXIII del XI) un ángulo sólido  $N$ , contenido por los ángulos planos  $ONP, PNQ, ONQ$  respectivamente iguales á los  $A, B, M$ : y valiéndose de la Proposicion XXVI del Libro XI, constrúyase en el mismo punto  $N$  de la recta  $ON$  un ángulo sólido contenido por tres ángulos planos, uno de los cuales sea el



el ONQ igual al M: y los otros dos QNR, ONR respectivamente iguales á los C, D: luego en el punto N habrá un ángulo sólido contenido por los quatro ángulos planos ONP, PNQ, QNR, ONR respectivamente iguales á los A, B, C, D: pero es evidente, que los ángulos sólidos en F, N, contenidos por dichos quatro ángulos planos, no son entre sí iguales, ó no pueden ajustarse mutuamente, respecto de ser desiguales por construcción los ángulos GFK, ONQ, ó los ángulos E, M: por tanto las rectas GF, FK no podrán ajustarse á las rectas ON, NQ: luego tampoco se ajustarán mutuamente los ángulos sólidos: por consiguiente serán desiguales.

Y por quanto dados los tres ángulos A, B, C, se pueden hallar otros innumerables de las mismas circunstancias que el ángulo D; y á mas, dados los ángulos A, B, C, y D, ó uno de los innumerables ángulos dichos, se pueden hallar otros de las mismas circunstancias que los ángulos E, M; se podrá construir infinidad de otros ángulos sólidos contenidos por los mismos quatro ángulos planos, todos desiguales entre sí. L. Q. D. H.

Se engañaron, pues, Clavio, y otros Autores en afirmar, que son iguales entre sí los ángulos sólidos contenidos por un mismo número de ángulos planos entre sí iguales. Tambien es patente, que la Proposición XXVI del Libro XI no está legítimamente demostrada; pues en ella se supone, y no se demuestra la igualdad de los ángulos sólidos contenidos por tres ángulos planos respectivamente iguales.

PROP. I. del LIB. XI.

Se omiten al fin, como adición importuna, estas palabras: "Una línea recta no concurre con otra en mas de un punto, pues de otra manera las dos rectas coincidirían una con otra:" lo qual debia demostrarse, y no suponerse.

PROP. II. del LIB. XI.

Parece mudada, y viciada; porque la segunda parte de la enunciación, es á saber, "todo triángulo está en un plano," no  
ne-

necesita de demostracion, pues todas las figuras definidas en el Libro I de los Elementos, y entre ellas el triángulo, son figuras planas por hipótesis, esto es descritas en un plano; y puede muy bien una superficie convexa terminarse por tres rectas: ni vale la demostracion para evidenciar, que pueden estar en un plano dos rectas, que mutuamente se cortan: se debe, pues, demostrar, que dos, ó mas rectas, que se encuentran mutuamente, están en un plano; y para esto mudamos la enunciacion, y demostracion, poniendo las que se hallan en el Texto.

### PROP. III. del LIB. XI.

Cerca del fin se dice: "Luego DEB, DFB no son rectas: semejantemente demostraremos, que ninguna otra linea tirada del punto D al B es recta;" lo qual omitimos; pues de que dos lineas encierren espacio, solo se infiere, que una de ellas no es recta: y la fuerza del argumento pende de esto: si no se supone ser una recta la comun seccion de los planos, dos rectas comprehenderian espacio; lo qual es absurdo: luego la comun seccion será una recta.

### PROP. IV. del LIB. XI.

Omitimos las palabras: "y el triángulo AED igual al BEC;" por hallarse toda esta conclusion repetida frecuentemente en los Libros anteriores, y así no ser del caso repetirla aquí.

### PROP. V. del LIB. XI.

Al fin se debe borrar en el Texto Griego, como adición de algun ignorante, la voz *ἐπιπέδῳ*; y con razon se omite la palabra "plano" en la edicion de la Version de Comandino, hecha en Oxford.

### PROP. VII. del LIB. XI.

Ha sido manifestamente añadida por algun editor poco inteligente; pues en los Libros anteriores se supone, que las rectas ti-

tiradas de un punto á otro en qualquier plano están en él; y si no, serían nulas las demostraciones, en que se supone, que una recta encuentra á otra, lo que no sucedería; pongo por exemplo en la Proposicion XXX del Libro I, la recta GK no encontraría á la EF, si no estuviera GK en el mismo plano que las paralelas AB, CD, en el qual está también por hipótesis la recta EF. A mas, se demuestra esta VII con el auxilio de la III precedente; en la qual se supone dos veces lo que en la VII se propone para demostrar; es á saber, que la recta tirada de un punto á otro en qualquier plano, está en él. Lo mismo se supone en la Proposicion VI precedente, pues la recta BD, que junta los puntos B, D en el plano inferior, se supone estar en él: no obstante damos lugar á la VII, mudando su demostracion por conservar el número de las Proposiciones; pues aunque no estuviera en los Elementos, es manifesta por las Definiciones VII, y XXXV del Libro I.

PROP. VIII. del LIB. XI.

Cerca del fin se halla en los exemplares Griegos, y en las versiones de Comandino, y Gregory esta cláusula: "pero en el plano, que pasa por BA, AD, está DC"; en cuyo lugar trahe muy bien la edicion de la version de Comandino en Oxford esta otra: "pero en el plano, que pasa por BD, DA, está DC"; y las palabras siguientes, que se leen en todas las ediciones: "porque en el plano, que pasa por BD, DA, están AB, BD; pero en el plano de AB, BD está DC", están corrompidas, ó insertas en el Texto: no habiendo necesidad de demostrar por estos rodeos, que la recta DC está en el mismo plano de las BD, DA; pues se infiere inmediatamente de la Proposicion VII precedente, que las rectas BD, DA están en el mismo plano de las paralelas AB, CD; de manera que omitiéndolas, únicamente se debe leer: "por hallarse todas tres en el plano en que están las rectas paralelas AB, CD."

PROP. XV. del LIB. XI.

Despues de las palabras; "y siendo BA paralela á GH", se  
añ-

añaden , como manifiestamente omitidas , las siguientes : “ por ser las dos paralelas á DE, y no estar en el mismo plano que ella.”

PROP. XVI. del LIB. XI.

Al fin en lugar de estas palabras , “ las que ni por una , ni por otra parte concurren ” , se ha de leer , “ las líneas rectas que estando en un mismo plano &c.” pero citando esta Definición en la Proposición XXVII del Libro I, no fue necesario añadir las voces “ en un mismo plano ” , porque todas las rectas de que se trata en los Libros anteriores están en el mismo plano ; pero aquí es absolutamente necesario.

PROP. XX. del LIB. XI.

Al principio se halla ; “ si no , sea mayor BAC ” : siendo así que puede el ángulo BAC ser igual al otro de los restantes : se debe , pues , leer : “ si no , sea el ángulo BAC no menor que uno , y otro de los restantes , y mayor que el DAB.”

Al fin se lee : “ semejantemente demostraremos ” ; quando no hay necesidad de tal cosa ; porque no siendo el ángulo BAC menor que uno , y otro de los restantes , es claro , que la suma del BAC , y del otro será mayor que el restante.

PROP. XXII. del LIB. XI.

Está manifiestamente viciado lo que al principio se lee : “ si no , sean desiguales los ángulos B , E , H , y B mayor que qualquiera de los otros dos E , H ” ; pues puede el ángulo B ser igual á uno de los otros ; por lo qual debe leerse : “ si no , sean desiguales los ángulos B , E , H , y no sea el ángulo B menor que uno , y otro de los E , H : luego la recta AC no será menor que una , y otra de las DF , GK.”

PROP. XXIII. del LIB. XI.

Abreviamos algo la demostracion, omitiendo en el tercer caso



so todo lo demostrado antes en el primero, y usando la construcción de Campano, quien sin embargo no demuestra el caso segundo, y tercero: pero la construcción, y demostración de este último la simplificamos mas que en el Texto Griego.

PROP. XXIV. del LIB. XI.

La voz "semejantes" es añadida á la enunciación; pues los planos, que contienen los sólidos, cuya igualdad se ha de mostrar en la Proposición XXV, deben ser semejantes, é iguales; para que se infiera de la Proposición C del Libro XI la igualdad de los sólidos. En la edición de Oxford se añade un Corolario á esta Proposición, demostrando, que los paralelogramos de que en ella se trata, son semejantes; para que quede demostrada la igualdad de los sólidos en la Proposición XXV, por la Definición X del Libro XI.

PROP. XXV. y XXVI. del LIB. XI.

En la primera se suponen iguales entre sí las figuras sólidas contenidas por planos semejantes, é iguales en número, y magnitud: parece que Theon, ó algun otro, por evitar el fastidio de demostrar la igualdad de las figuras de que aquí se trata, puso la Definición X de este Libro en vez de la demostración: en lo qual obró con mucha ignorancia. Del mismo modo en la segunda se suponen iguales dos ángulos sólidos, si ambos están contenidos por tres ángulos planos respectivamente iguales entre sí: siendo muy de admirar, que ninguno de los intérpretes de Euclides, á lo menos de los que yo conozco, advirtiese, que faltaba algo en estas dos Proposiciones. Clavio en la Definición XI del presente Libro afirma, "que es claro ser mutuamente iguales los ángulos sólidos contenidos por ángulos planos iguales en número, y magnitud; porque si se conciben penetrarse uno á otro, se ajustarían"; pero su asercion es infundada; y no siempre se verifica, fuera del caso en que los ángulos sólidos están contenidos por solos tres ángulos planos respectivamente iguales entre sí: y en este caso es lo mismo que afirmar, que dos trián-

triángulos esféricos equiláteros entre sí, son tambien equiángulos, y se ajustan recíprocamente: lo qual de ninguna manera debe concederse sin demostracion. A la verdad Euclides no lo supuso de los triángulos rectilíneos, pues en la Proposicion VIII del Libro I demostró, que los triángulos equiláteros entre sí son tambien equiángulos entre sí; de donde es manifiesta su igualdad por la Proposicion IV del mismo Libro: y Menelao en la Proposicion IV del Libro I de los Esféricos demuestra expresamente, que los triángulos esféricos equiláteros entre sí, son tambien equiláteros entre sí; y de ahí con facilidad se puede demostrar, que mutuamente se ajustan, con tal que sus lados estén dispuestos en el mismo orden, y posicion.

Para suplir estos defectos fue necesario insertar en este Libro las tres Proposiciones A, B, C, porque las XXV, XXVI, y XXVIII, y por consiguiente las otras ocho de este Libro, que penden de ellas, es á saber las XXVII, XXXI, XXXII, XXXIII, XXXIV, XXXVI, XXXVII, y XL estrivaban hasta entonces en un fundamento debil; como asimismo la Proposicion VIII, el Corolario de la XVII, y la Proposicion XVIII del Libro XII, que penden de la Definicion IX; pues se ha demostrado en las Notas á la Definicion X del presente Libro, que no siempre son entre sí iguales las figuras sólidas contenidas por planos semejantes, é iguales en número, y magnitud; ni tampoco los ángulos sólidos contenidos por el mismo número de ángulos planos iguales.

Obsérvese, que Andres Tacquet en su Euclides define los ángulos sólidos así: "son aquellos que puestos uno dentro de otro mutuamente se ajustan." Esta Proposicion no es Definicion, sino Axioma; pues se verifica de qualesquiera cantidades: pero el Autor puso esta definicion inutil para demostrar con ella la Proposicion XXXVI de este Libro, sin recurrir á la XXXV del mismo: sobre la qual demostracion véase la Nota á la Proposicion XXXVI.

### PROP. XXVIII. del LIB. XI.

Debió demostrarse, y no suponerse, que las diagonales están en un plano. Clavio suplió este defecto.

PROP.

PROP. XXIX. del LIB. XI.

Tiene tres casos : el primero, quando los dos paralelogramos opuestos á la base AB tienen un lado comun : el segundo, quando están mutuamente separados uno de otro : el tercero, quando tienen una parte comun ; y solo para este sirve la demostracion, que hasta aquí tenemos. El primero se demuestra inmediatamente por la Proposicion XXVIII precedente , antepuesta sin duda á esta con este fin , pues á ninguna es util , sino á ella , y á la XL de este Libro , á que seguramente antecedería , á no haber usado de ella Euclides en la XXIX : pero algun ignorante borró de los Elementos este caso , y mutiló la demostracion de los demás , que trae Euclides : nosotros la restituimos , y servirá para demostrarlos todos de una vez.

PROP. XXX. del LIB. XI.

No se demuestra , que los planos opuestos al sólido CP en nuestra figura , esto es al CO en la de Comandino , sean entre sí paralelos ; lo que pareció añadir en favor de los principiantes.

PROP. XXXI. del LIB. XI.

Tiene dos casos : el uno quando las rectas insistentes son perpendiculares á las bases ; y el otro quando no. El primero se subdivide en dos mas , es á saber quando las bases son paralelogramos equiángulos entre sí ; y quando no son equiángulos. El editor del Texto Griego no menciona aquel , y mezcla su demostracion con la del otro caso ; de manera que hubiera sido forzoso añadir un Corolario , que lo demostrase : por lo qual me pareció mas oportuno exponer separadamente dichos casos. Tambien abreviamos la demostracion , siguiendo el rumbo de Euclides en la Proposicion XIV del Libro VI : además de esto en la demostracion del caso , en que las rectas insistentes no son perpendiculares á las bases , no demuestra el editor , que los sólidos descritos en la construccion son paralelepípedos , no siendo de creer lo omitiese Euclides. Aquellas palabras , que están  
al

al fin de la Proposicion: "cuyas insistentes no están en las mismas rectas", son añadidas por algun ignorante, pues pueden estarlo.

### PROP. XXXII. del LIB. XI.

Omitió el editor la prevencion necesaria de que se aplicase el paralelogramo FH por el ángulo FGH igual al LCG; y así con razon la suplió Clavio.

A mas de esto, en la construccion se requiere, que se complete el paralelepípedo GK con la base FH, y la misma altura que el CD: pero como puede haber innumerables sólidos, que tengan una misma base, y altura, debe leerse: "complétese el paralelepípedo GK, cuya base sea FH; y FD una de las rectas insistentes." La misma correccion se deberá hacer en la Proposicion XXXIII.

### PROP. D. del LIB. XI.

Es muy verosimil, que Euclides diese lugar á esta Proposicion en sus Elementos, quando trahe otra semejante de los paralelogramos equiángulos en la XXIII del VI.

### PROP. XXXIV. del LIB. XI.

Se han de omitir enteramente, como hace Clavio, estas palabras, que se hallan tres veces en esta Proposicion:  $\alpha\iota\ \epsilon\pi\iota\ \tau\omega\ \epsilon\upsilon\theta\upsilon\sigma\tau\epsilon\iota\ \alpha\iota\ \epsilon\iota\sigma\iota\upsilon\ \epsilon\pi\iota\ \tau\omega\ \alpha\upsilon\tau\omega\ \epsilon\upsilon\theta\upsilon\sigma\tau\epsilon\iota$ , "cuyas insistentes no están en las mismas rectas"; ó bien se ha de leer en su lugar: "estén, ó no estén las rectas insistentes en las mismas rectas"; pues no hay razon para excluir ninguno de los dos casos.

Dos veces se hallan por error manifiesto estos vocablos,  $\alpha\iota\ \tau\alpha\ \epsilon\upsilon\theta\upsilon\sigma\tau\epsilon\iota$ , "cuyas alturas" en vez de  $\alpha\iota\ \epsilon\pi\iota\ \tau\omega\ \epsilon\upsilon\theta\upsilon\sigma\tau\epsilon\iota$ , "cuyas insistentes": pues la altura es siempre perpendicular á la base.

### PROP. XXXV. del LIB. XI.

Se demuestra por un camino mas breve que el del Texto Griego, que son rectos los ángulos ABH, DEM: y del mismo modo

do se demostrará serlo los ACH, DFM : pero omitimos la repetición de la demostración, que se halla en el original, siendo verosímil la añadiese algún editor, como se puede conjeturar de las palabras, "semejantemente demostraremos"; de que nunca se suele usar, sino quando no se dá la demostración, ó si se ha dado, se diferencia en algo de la precedente, como sucede en la XXVI de este Libro. Campano tampoco trae esta repetición.

Damos otra demostración del Corolario, mediante la qual se demuestra la Proposición XXXVI siguiente, sin necesidad de recurrir á la XXXV.

PROP. XXXVI. del LIB. XI.

Andres Tacquet demuestra en sus Elementos esta Proposición, sin valerse de la XXXV : y es patente, que los sólidos, llamados equiángulos en la enunciación de la Proposición XXXVI, que hoy se halla en el Texto Griego, son aquellos, cuyos ángulos sólidos están contenidos por tres ángulos planos respectivamente iguales entre sí, y semejantemente colocados, como es manifiesto por la construcción; pero Tacquet supone, y no demuestra, que estos ángulos sólidos se ajusten mutuamente entre sí; pues supone dichos sólidos yá construidos, sin enseñar el modo de construirlos, como se practica en el Texto Griego: pero con el auxilio de la segunda demostración del Corolario precedente se legitima la demostración, aun en la hipótesis, que trae el Texto.

PROP. XXXVII. del LIB. XI.

Se supone, que las razones triplicadas de las razones que son unas mismas entre sí, son entre sí las mismas; como tambien que son las mismas las razones, cuyas razones triplicadas son entre sí las mismas; lo qual de ningún modo se ha de conceder sin demostración; pues Euclides no supuso, sino que demostró la primera, y mas facil de estas Proposiciones en el caso de la razón duplicada en la Proposición XXII del Libro VI. Así damos otra demostración semejante á la que se halla en aquella Proposición, como executó antes Clavio.

Z

PROP.

## PROP. XXXVIII. del LIB. XI.

Si de un punto de algun plano perpendicular á otro se hubiere de tirar una recta perpendicular á este plano , se hará tirando á la comun seccion de los planos una perpendicular desde el mismo punto , la qual será perpendicular al plano , en virtud de la Definicion IV de este Libro : pero en este caso sería fuera de propósito usar de la Proposicion XI de este Libro : pues Euclides \* , Apolonio , y otros Geómetras previenen se tire la perpendicular del punto al plano , é infieren , que caerá sobre la seccion comun de los planos : siendo esto lo mismo que si usasen de dicha construccion ; é infiriesen , que la recta tirada era perpendicular al plano , pero alguno sin notar esto juzgó necesario añadir al presente Libro dicha Proposicion , que no tiene uso alguno.

## PROP. XXXIX. del LIB. XI.

Las rectas , que dividen en dos partes iguales los planos opuestos del paralelepípedo , se suponen en un plano : lo qual debió demostrarse , como ahora se práctica.

## LIBRO XII.

**P**OR la Epístola de Arquímedes á Dositeo precedente á los Libros de la Esfera, y del Cilindro, que publicó restituida á su integridad conforme á la fé de los Manuscritos mi doctísimo Cóllega Jacobo Moor Profesor de Lengua Griega, parece , segun dictamen que el mismo me ha comunicado , ser Eudoxò el Autor de las principales Proposiciones contenidas en este Libro.

## PROP. II. del LIB. XII.

Al principio se encuentran estas cláusulas: “ si no fuese así, »el cuadrado de BD será al de FH , como el círculo ABCD á »algun espacio menor , ó mayor que el círculo EFGH ” ; y lo mismo se repite al fin , y en las Proposiciones V , XI , XII , XVIII de este Libro , de las cuales se ha de observar , que para la dem-  
mos-

mostracion del Teorema basta en estos, y semejantes casos, que una cosa sea posible, como sea clara, aun quando no se pueda hallar, ó manifestar geoméricamente: así aquí se supone, que puede haber una quarta proporcional á tres cantidades, esto es á los dos quadrados de BD, FH, y al círculo ABCD: por ser claro, que hay algun quadrado igual al círculo ABCD, aunque no se pueda hallar geoméricamente; pues existe un quadrado quarto proporcional á las tres figuras rectilíneas, esto es á los quadrados de BD, FH, y al quadrado igual al círculo ABCD; porque existe una recta <sup>a</sup> quarta proporcional á las tres rectas, <sup>a 12. VL</sup> que son sus lados: y el espacio igual á este quadrado quarto proporcional es el que se expresa en esta Proposicion con la letra S. Lo mismo se entenderá en las demás Proposiciones citadas; siendo verosimil, que Euclides lo demostrase, y que algun editor lo haya borrado: pues el Lema añadido á esta Proposicion por algun ignorante nada conduce á explicar esto.

PROP. III. del LIB. XII.

En el Texto Griego, y en las Versiones hay las siguientes voces: "y dos líneas rectas que se tocan mutuamente BA, AC, &c." aquí se demuestra la igualdad de los ángulos BAC, KHL, por la Proposicion X del Libro XI: lo qual se hizo antes, demostrando ser el triángulo EAG semejante al triángulo KHL: así omitimos la repetición, y demostramos, por la XXI del VI, ser semejantes los triángulos ABC, HKL.

PROP. IV. del LIB. XII.

Enseñamos algunas pocas cosas con mayor claridad, que en el Texto Griego.

PROP. V. del LIB. XII.

Cerca del fin está la expresión siguiente: *ὡς ἔμπερασθαι ἐδείχθη*, "como antes se demostró"; y despues al fin de la Proposicion XVIII de este Libro se vuelve á hallar: siendo así que en nin-

guna parte de estos Elementos se ha demostrado tal cosa, á no ser que para ella citen el Lema inutil anexo á la Proposicion II; y tal vez algun editor ignorante las omitió en un pasage, olvidándose de borrarlas en otro.

### PROP. VI. del LIB. XII.

Damos una demostracion mas corta, y aun se puede reducir mas la que actualmente se halla en el Texto Griego, pues su Autor usa dos veces neciamente al fin de ella de la Proposicion XXII del Libro V, como si no se hubiera de entender de qualesquiera cantidades, sino solamente de tres, que tomadas dos á dos sean proporcionales á otras tantas.

### COR. de la PROP. VIII. del LIB. XII.

Su demostracion está imperfecta; pues no se demuestran semejantes entre sí las pirámides, en que se dividen las que tienen bases polígonas: lo qual era indispensable, y se halla practicado en semejante caso en la Proposicion XII de este Libro. La demostracion entera es como se sigue.

Sean semejantes, y semejantemente colocadas las pirámides, cuyas bases son los polígonos ABCDE, FGHKL, y vértices los puntos M, N: tendrá la pirámide ABCDEM á la FGHKLN razon triplicada de la que el lado AB tiene al lado homólogo FG.

Divídanse los polígonos en los triángulos ABE, EBC, ECD, FGL, LGH, LHK, que serán respectivamente semejantes <sup>a</sup> entre sí. Siendo, pues, semejantes las pirámides, el triángulo EAM será semejante <sup>b</sup> al LFN, y el ABM al FGN: luego ME <sup>c</sup> será á EA, como NL á LF, y AE á EB, como FL á LG, por ser semejantes los triángulos EAB, LFG: luego por igualdad ME será á EB, como NL á LG: semejantemente se demostrará, que EB es á BM, como LG á GN: luego tambien por igualdad EM será á MB, como LN á NG: luego son proporcionales los lados de los triángulos EMB, LNG, y consiguientemente dichos triángulos son equiángulos <sup>d</sup>, y semejantes entre sí: luego las pirámides, cuyas bases son los triángulos EAB, LFG, y vértices

M,

<sup>a</sup> 20. VI.

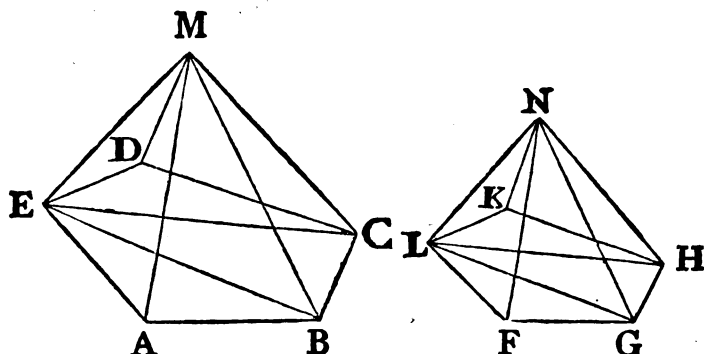
<sup>b</sup> 11. Def. XI.

<sup>c</sup> 4. VI.

<sup>d</sup> 5. VI.



M, N, serán semejantes entre sí, por ser sus ángulos sólidos iguales  $\epsilon$ , y estar contenidos por igual número de planos semejantes:  $\epsilon$  B. XI. por la misma razon la pirámide EBCM se demostrará semejante á la LGHN, y la ECDM á la LHKN; y siendo la pirámide EABM semejante á la LFGN, y teniendo las bases triangulares, la pirámide EABM, tendrá á la LFGN razon triplicada de la que EB tiene al lado homólogo LG: por la misma razon



la pirámide EBCM tendrá á la LGHN razon triplicada de la que EB tiene á LG: luego la pirámide EABM será á la LFGN, como la EBCM á la LGHN: por la misma razon la pirámide EBCM será á la LGHN, como la pirámide ECDM á la LHKN; pero la suma de todos los antecedentes es á la de todos los conseqüentes, como uno de los antecedentes á su conseqüente: luego la pirámide EABM será á la LFGN, como toda la pirámide ABCDEM á toda la pirámide FGHLKN: es así que la EABM tiene á la LFGN razon triplicada de la que AB tiene á FG: luego la pirámide total tendrá á la pirámide total razon triplicada de la que AB tiene al lado homólogo FG. L. Q. D. D.

PROPP. XI. y XII. del LIB. XII.

En las figuras no se guarda el orden alfabético de las letras, segun el método de Euclides, que restablecemos; de donde es, que la primera parte de la Proposicion XII puede demostrarse con las mismas palabras que la primera parte de la XI. Omitimos,

mos, pues, la demostracion de aquella parte, y la tomamos de la Proposicion XI.

Las demostraciones de las Proposiciones X, y XI parecen de diferentes Autores: pues en la primera se demuestra, que la pirámide construida sobre un quadrado inscrito en un círculo es la mitad de la construida sobre el quadrado circunscrito, valiéndose de los prismas sobre una misma base; y en la otra se demuestra lo mismo mas brevemente, recurriendo á la Proposicion VI de este Libro.

### PROP. XIII. del LIB. XII.

En esta se supone ser círculo la comun seccion del cilindro, y de un plano, que lo corta paralelamente á sus bases: y así nos pareció demostrarlo brevemente: de ahí se deduce con evidencia, que el plano divide al cilindro en otros dos. Lo mismo se subentenderá suplido en la Proposicion XIV. Añádese tambien la voz "qualesquiera," omitida al fin de la Proposicion XIII.

### PROP. XV. del LIB. XII.

"Y complétense los cilindros AX, EO:" así la enunciacion, como la exposicion de esta suponen ya construidos los cilindros igualmente que los conos: así será mejor leer: "y sean los conos ALC, ENG; y los cilindros AX, EO.

Falta el primer caso en la segunda parte de la demostracion; y tambien algo en el segundo de la misma, antes de las palabras "supuesta la misma construccion," que ahora se ha añadido.

### PROP. XVII. del LIB. XII.

Aquellas palabras del Texto Griego en la enunciacion de esta, *εἰς τὴν μείζονα σφαῖραν τερὸν πολύεδρον ἐγγράψαι, μὴ φαῖον τῆς ἐλάσσονος σφαίρας κατὰ τὴν ἐπιπέδου*, las vierten así Comandino, y otros Intérpretes: "describir en la mayor un poliedro, que no toque la superficie de la esfera menor," refiriendo las voces *κατὰ τὴν ἐπιπέδου*, á las inmediatas *τῆς ἐλάσσονος σφαίρας*. ; pero no debian traducir de este modo; pues el poliedro, no solamente toca

á

á la superficie de la esfera menor , sino que toca , y penetra toda la esfera menor ; por tanto se han de referir á aquellas palabras, τὸ περιὸν πολύεδρον, y traducir así : "describir en la esfera mayor un poliedro , cuya superficie no toque á la esfera menor ;" conforme lo pide necesariamente el sentido de la Proposicion.

La demostracion está viciada , y mutilada ; pues explica las cosas fáciles demasiado latamente , y dexa las menos obvias faltas de explicacion , como quando en la primera demostracion se afirma , que el cuadrado de KB es mayor que el duplo del cuadrado de BZ , y en la segunda , que el ángulo BZK es obtuso: cosas , que debian demostrarse : fuera de esto en aquella se dice, "tírese del punto K á la BD la perpendicular KΩ," debiéndose decir "tírese KV," la qual se debia demostrar perpendicular á BD: siendo manifesto por las figuras de las ediciones de Hervagio , y Gregory , y por el mismo original , que el editor del Texto Griego hoy existente no advirtió , que la perpendicular tirada del punto K á la BD necesariamente caerá en el punto V, pues cae en el Ω, diverso de V en sus figuras ; y dichos puntos se ponen en la demostracion como diferentes , pues se expresa con diversas letras V, Ω. Comandino parece que notó algo de esto, pues en su figura expresa un mismo , y solo punto con las letras V, Ω. Pero antes el sábio Juan Dee en los Comentarios, que puso baxo de esta Proposicion en la version Inglesa de los Elementos, hecha por Henrique Billingsley , é impresa en Londres en 1750, nota expresamente este error , y dá una demostracion proporcionada á la construccion , que se halla en el Texto Griego , con la qual evidencia , que la perpendicular tirada del punto K á la BD necesariamente cae en V.

Ademas de esto , de ninguna manera se demuestra , que los cuadriláteros SOPT , TPRY , y el triángulo YRX no tocan á la esfera menor , lo qual era necesario ; solo Clavio , que yo sepa, observó esto , y lo demostró en un Lema , que hemos antepuesto á dicha Proposicion algo mudado , y demostrado mas sucintamente.

En el Corolario se supuso descrito en otra esfera un poliedro semejante al descrito en la BCDE : pero no habiéndose dado la construccion para describir en otra esfera un poliedro,

juz-

juzgamos mas conveniente representar , y demostrar la semejanza de las pirámides de este poliedro á otras del mismo orden en el poliedro , que está dentro de la esfera BCDE.

De todo lo dicho hasta aquí se evidencia claramente , quán viciados , y mutilados han sido por editores ignorantes los Elementos del diligentísimo Geómetra Euclides. La opinion que algunos sabios tuvieron , de que la actual edicion Griega variaba poco de la verdadera Obra de Euclides , sin duda los preocupó , é hizo menos cuidadosos en su exámen; de donde provino, que desde el tiempo de Theon acá no se hayan advertido ciertos errores , aun de los mas crasos. Así podemos esperar , que será acepto á los justos apreciadores de las cosas , y que saben discernir las legítimas demostraciones de las que no lo son , el trabajo , que hemos empleado en corregir , y limpiar estos Libros de todo error.

F I N.

---

*E R R A T A S.*

Pág. 23. lin. 30. *es D la mayor* ; léase : *no es DE la mayor.*

Pág. 66. Adviértase , que para la exáctitud de la figura debe la linea BM terminarse en el centro M del círculo , donde concurren las KM , LM , &c.











BIBLIOTECA CENTRAL  
A.51.4°  
142

100  
INSTITUT  
D'ESTUDIS CATALAN  
BIBLIOTECA DE CATALUNYA

Núm. 45231  
Armari 573/0  
Prestatge 57

BIBLIOTECA DE CATALUNYA  
1001925965

Digitized by Google



